


제 4 교시

한국사 영역

1. (가) 시대의 사회 모습으로 가장 적절한 것은?

**한국사 신문**

**‘대곡동 고인돌군’ 복원 추진**



○○시 △구는 대곡동 일대에 무너져 있는 고인돌군 중 일부를 복원할 계획이라고 밝혔다. 고인돌은 사유 재산과 계급이 발생한 (가) 시대의 대표적인 무덤이다. ‘대곡동 고인돌군’은 한강 유역의 고인돌을 연구하는 데 중요한 자료로 평가되고 있어 이번 복원에 많은 사람들의 이목이 집중되고 있다.

- ① 율령이 반포되었다.
- ② 과거제가 시행되었다.
- ③ 상평통보가 발행되었다.
- ④ 비파형 동검이 제작되었다.
- ⑤ 지방에 서원이 건립되었다.

2. (가) 국가에 대한 설명으로 옳은 것은?

**성왕은 왜 사비로 천도하였을까?**



**성왕의 승부수, 사비 천도**


역사지기 구독자 3만명 2.1만

성왕은 (가)의 수도를 웅진에서 사비로 옮기는 등 국가 통치 체제를 재정비하기 위해 노력하였습니다. (가)의 중흥을 위해 사비 천도라는 승부수를 던진 성왕의 선택이 어떠한 결과를 가져왔는지 이번 영상을 통해 확인해 보시기 바랍니다.

- ① 마한을 복속하였다.
- ② 골품제를 운영하였다.
- ③ 해동성국으로 불렸다.
- ④ 갑오개혁을 추진하였다.
- ⑤ 8조법으로 사회 질서를 유지하였다.

3. (가) 왕에 대한 설명으로 옳은 것은?

문화유산 > 안동태사묘



지정종목 경상북도 기념물  
지정일 1974.12.10.  
소재지 경상북도 안동시  
분류 유적건조물/사우

안동태사묘는 고려를 건국한 (가)을/를 도와 고창 전투에서 후백제의 군권을 물리치는 데 공을 세운 김선평, 권행, 장정필의 삼태사 위패를 봉안하고 있는 곳이다. 이들 중 권행은 본래 김씨였으나, (가) (으)로부터 공을 인정받아 권씨 성을 내려받고 안동 권씨의 시조가 되었다.


- ① 혼요 10조를 남겼다.
- ② 경국대전을 반포하였다.
- ③ 금관가야를 병합하였다.
- ④ 수원 화성을 건설하였다.
- ⑤ 독거삼품과를 실시하였다.

4. 다음 상황이 나타난 당시에 볼 수 있는 모습으로 가장 적절한 것은? [3점]

이서 악탈연 등 사신이 오자, 충렬왕이 선의문 밖으로 나가서 맞이하였다. 원이 보낸 조서에 이르기를 “너희 고려에서는 여러 왕씨들이 같은 성씨와 결혼하는데 이것은 무슨 이치인가? 이미 우리와 강화를 맺고 더불어 한 집안이 되었으니 마땅히 서로 혼인해야 할 것이다. ... (중략) ... 또한 우리 선대 황제께서 여러 나라를 정복하자 그 나라 왕들이 앞다투어 공녀와 좋은 말, 진귀한 보화들을 바쳤다는 것은 그대도 들은 바이다.”라고 하였다.

- ① 주자감에서 공부하는 학생
- ② 화백 회의에 참가하는 귀족
- ③ 홍범 14조를 반포하는 국왕
- ④ 안시성에서 당군에 맞서는 군인
- ⑤ 쌍성총관부에서 일하고 있는 관리

5. 밑줄 친 ‘이 사건’의 배경으로 가장 적절한 것은? [3점]



지도는 프랑스군이 강화도를 침입한 이 사건 당시 측량한 정보를 바탕으로 제작된 것이다. 지도에는 강화산성의 각 성문과 강화행궁 등이 그려져 있고, 특히 이 사건 당시 프랑스군이 도서 등 문화유산을 약탈한 곳인 외규장각도 나타나 있다.

- ① 무신 정변이 일어났다.
- ② 병인박해가 발생하였다.
- ③ 조선책략이 유포되었다.
- ④ 아관 파천이 단행되었다.
- ⑤ 애치슨 선언이 발표되었다.

6. 밑줄 친 '이 전쟁' 중에 있었던 사실로 옳은 것은?

진주 대첩에서 활약한 김시민의 공적과 그에 따른 포상 내역이 기록된 「김시민 선무공신교서」가 국민들의 노력으로 일본에서 돌아왔습니다. 현존하는 선무공신교서 가운데 보존 상태가 가장 좋아 도요토미 히데요시의 조선 침략으로 시작된 이 전쟁의 연구에 중요한 자료로 평가됩니다.

- ① 인조가 남한산성에서 항전하였다.
- ② 조명 연합군이 평양성을 탈환하였다.
- ③ 강감찬이 귀주에서 승리를 거두었다.
- ④ 신돌석이 평민 의병장으로 활약하였다.
- ⑤ 삼별초가 근거지를 옮겨 가며 저항하였다.

7. (가) 제도에 대한 설명으로 옳은 것은? [3점]

이것은 익산에 있는 김육불망비입니다. 이 비는 방납의 폐단을 시정하기 위해 공물을 토산물 대신 토지 결수에 따라 쌀이나 동전 등으로 납부하도록 한 (가) 이/가 전라도 지역에서 도입되는 데 공을 세운 김육을 기리기 위해 건립되었습니다.

- ① 녹읍이 폐지되는 결과를 가져왔다.
- ② 당백전이 발행되는 배경이 되었다.
- ③ 삼백 산업이 발달하는 계기가 되었다.
- ④ 원산 총과업이 일어나는 원인이 되었다.
- ⑤ 상품 화폐 경제의 발달에 영향을 주었다.

8. 단체에 대한 설명으로 옳은 것은? [3점]

이 문서는 「조선 총독부 소속 각관 공리에게」라는 제목의 경고문으로, 조선 총독부 소속 관리에게 (가) 의 활동을 방해하지 말 것을 경고하는 내용이 담겨 있다. 이 경고문을 작성한 (가) 은/는 단장 김원봉의 주도로 김상옥이 종로 경찰서에, 나석주가 동양척식주식회사에 폭탄을 던지는 등 의거 활동을 전개하였다.

- ① 만민 공동회를 개최하였다.
- ② 105인 사건으로 와해되었다.
- ③ 조선 혁명 선언을 활동 지침으로 삼았다.
- ④ 고종 강제 퇴위 반대 운동을 전개하였다.
- ⑤ 비밀 행정 조직으로 연통제를 운영하였다.

9. 밑줄 친 '변란'에 대한 설명으로 옳은 것은?

**S#3. 고종과 신하들의 대화**

구식 군인들이 궁궐을 침범하여 민검호를 죽이는 등 변란을 일으키자 고종이 대신들과 대책을 의논하고 있다.

**고 종:** 변란을 일으킨 군사들을 무마시키려면 어떻게 하는 것이 좋겠는가?

**신하 1:** 그들에게 밀린 급료를 지급하는 것이 우선이라 생각합니다.

**고 종:** 그리하면 그들이 물러가겠는가? 그들에게 지급하지 못한 급료는 얼마나 되는가?

**신하 2:** 현재 그들에게 지급하지 못한 급료가 13개월분이나 됩니다.

- ① 서경 천도를 목표로 하였다.
- ② 장용영이 설치되는 배경이 되었다.
- ③ 북벌론이 대두되는 계기가 되었다.
- ④ 동북 9성이 축조되는 결과를 가져왔다.
- ⑤ 일본과의 제물포 조약 체결에 영향을 주었다.

10. (가) 운동에 대한 설명으로 옳은 것은? [3점]

○○○ 우체국

**발행 우표 정보**

2024 (가) 130주년 기념 우표

디자이너: 농민군을 이끄는 전봉준

가 격: 430원

발행일: 2024. △. △.

**발행 의도**

농민층이 중심이 되어 '보국안민'과 '제폭구민'을 외치며 사회를 개혁하고 외세로부터 나라를 지키고자 했던 (가) 의 발생 130주년을 기념하고자 발행되었습니다. 중앙의 인물은 전봉준으로, (가) 의 전개 과정에서 일어난 황룡촌 전투, 전주성 점령, 우금치 전투 등에서 농민군을 이끌었습니다.


- ① 민립 대학 설립을 주장하였다.
- ② 집강소를 통해 개혁을 추진하였다.
- ③ 조선 형평사를 중심으로 전개되었다.
- ④ 산미 증식 계획의 추진 배경이 되었다.
- ⑤ 신간회가 조사단을 파견하여 지원하였다.



11. 밑줄 친 '이 운동'에 대한 설명으로 옳은 것은? [3점]

우리가 기억해야 할 외국인 유공자

헐버트	베델	스코필드
-----	----	------



스코필드는 일제의 무단 통치 실상을 해외에 알리기 위해 노력하였다. 특히 우리 민족이 고종의 장례일에 즈음하여 거국적으로 만세 시위를 전개한 이 운동 당시 일제가 제암리 학살 사건을 일으키는 등 탄압을 가하자, 그 모습을 사진과 기록으로 남겨 해외 언론에 전하였다. 이러한 공로로 1968년 건국 훈장 독립장을 수여 받았다.

- ① 치안 유지법에 의해 탄압받았다.
- ② 조선 건국 동맹의 주도로 전개되었다.
- ③ 조사 시찰단이 파견되는 계기가 되었다.
- ④ 일제의 황무지 개간권 요구를 저지하였다.
- ⑤ 대한민국 임시 정부 수립에 영향을 주었다.

12. (가) 운동에 대한 설명으로 옳은 것은?

자료로 읽는 한국사

이천만 우리 동포가 석 달 단연한 돈을 대신 내자 하니 맹세도 엄중하고 방법도 신비롭고 오묘하다. ... (중략) ...



대구성 안의 부녀자들은 목도리와 가체도 벗어놓고 가락지와 패물을 있는 대로 열심히 보조한다.

**해설** 자료는 「단연상채광고가」의 가사 중 일부이다. 1907년 대구에서 서상돈 등을 중심으로 시작된 (가) 당시 만들어진 것으로 단연(담배 끊기)과 금주 등을 통해 나랏빚 1,300만 원을 갚아 국권 회복에 동참할 것을 독려하고 있다.

- ① 과전법이 시행되는 배경이 되었다.
- ② 대한매일신보 등 언론의 지원을 받았다.
- ③ 러시아의 절영도 조차 요구를 저지하였다.
- ④ 황국 중앙 총상회가 조직되는 계기가 되었다.
- ⑤ 미소 공동 위원회가 개최되는 결과를 가져왔다.

13. (가) 군사 조직에 대한 설명으로 옳은 것은?

자료로 보는 한국사

자료는 (가) 제2지대, 제3지대의 부대별 휘장이다. 대한민국 임시 정부의 정규군으로 충청에서 창설된 (가) 은/는 영국군의 요청으로 인도·미얀마 전선에 투입되어 일본군을 상대로 포로 심문, 정보 수집 등을 수행하였다.

- ① 4군 6진 지역을 개척하였다.
- ② 상성보 전투에서 승리하였다.
- ③ 국내 진공 작전을 계획하였다.
- ④ 청산리에서 일본군을 격퇴하였다.
- ⑤ 자유시 참변으로 큰 타격을 입었다.

14. 다음 상황이 나타난 시기에 볼 수 있는 모습으로 가장 적절한 것은?

우리는 남산에 있는 신사에 올라가야 했어요. 우리 동네 애국반 반장은 일본 사람이었어요. 그래서 그 사람이 시키는 대로 할 수밖에 없었지요. 가지 않으면 식량 배급을 받을 수 없었어요. ... (중략) ... 나는 아기가 있음에도 불구하고 언덕 위까지 걸어 올라가야 했어요. 무척 힘들었지요. 자주 올라가야 했어요. 때로는 일주일에 한 번, 한 달에 두어 번은 틀림없이 가야 했지요. 참배는 가만 보자, 30분쯤 걸렸어요. 무슨 물을 붓고 손바닥을 마주치고, 그러고는 다시 내려와서 식량 배급표를 받는 거예요.


- ① 육영 공원에서 수업하는 교사
- ② 홍경래의 난에 가담하는 농민
- ③ 경인선 개통식을 구경하는 상인
- ④ 황국 신민 서사를 암송하는 학생
- ⑤ 별무반에 편성되어 훈련받는 군인

15. 밑줄 친 '이 국회'에 대한 설명으로 옳은 것은? [3점]

이 국회는 자료의 헌법에 근거하여 반민족 행위 처벌법을 제정하였습니다. 이후 이를 토대로 반민족 행위 특별 조사 위원회가 조직되었습니다.

제101조 이 헌법을 제정한 국회는 단기 4278년 8월 15일 이전의 악질적인 반민족 행위를 처벌하는 특별법을 제정할 수 있다.

제102조 이 헌법을 제정한 국회는 이 헌법에 의한 국회로서의 권한을 행하며 그 의원의 임기는 개회일로부터 2년으로 한다.



- ① 교정청을 설치하였다.
- ② 헌의 6조를 채택하였다.
- ③ 대한국 국체를 반포하였다.
- ④ 중지 개혁법을 제정하였다.
- ⑤ 좌우 합작 7원칙을 발표하였다.

16. (가) 조약의 결과로 옳은 것은? [3점]



- ① 통감부가 설치되었다.
- ② 척화비가 건립되었다.
- ③ 삼국 간섭이 일어났다.
- ④ 통신사가 일본에 파견되었다.
- ⑤ 부산 외 2개 항구가 개항되었다.

17. 다음 자료를 활용한 탐구 활동으로 가장 적절한 것은? [3점]

**우리의 형제 박종철은 죽어서도 살아 외치고 있다!**

1. 박종철 열사에 대한 치안 본부의 만행을 폭로한다.

지난 1월 14일 새벽 2시경, 하숙집 앞에서 경찰에 의해 불법 연행된 박종철 열사가 폭행과 고문으로 치안 본부 대공분실의 차디찬 밀실 바닥에서 숨졌다. 당초 경찰은 이 사건을 은폐시키려 하였으나 검진을 했던 의사의 용감한 증언과 양심적인 몇몇 기자들의 조사에 의해 그 만행의 일부가 세상에 드러나게 되었다. 그러나 그 동안 이 사건의 전모를 공개하지 않고 그들의 만행을 숨기려는 현 정권의 의도적 방해로 말미암아 진상이 날날이 공개되지 않은 채 국민을 기만하고 있음에, 우리는 이 사건의 책임을 분명히 규명하고자 한다.

- ① 갑신정변의 영향을 살펴본다.
- ② 안도 참변의 원인을 찾아본다.
- ③ 6월 민주 항쟁의 배경을 조사한다.
- ④ 제주 4·3 사건의 전개 과정을 파악한다.
- ⑤ 모스크바 3국 외상 회의의 결과를 분석한다.

18. 밑줄 친 '이 전쟁' 중에 있었던 사실로 옳은 것은?

우리가 해산진에 도착하니까 압록강은 팡팡 얼어있었고 북한 주민들이 우리가 왔다고 환영해 주었습니다. 저는 얼음을 깨 먹으면서 이제 남북통일이 되는 게 싫어 했고, 미군들도 이 전쟁이 끝나면 고국에 돌아갈 수 있다고 서로 감격해서 얼싸안고 좋아했습니다. 그러나 그 꿈은 곧 산산이 사라졌습니다. 왜냐하면 중국군이 참전했다는 이야기를 들었기 때문입니다.

- ① 위화도 회군이 일어났다.
- ② 봉오동 전투가 벌어졌다.
- ③ 13도 창의군이 결성되었다.
- ④ 인천 상륙 작전이 전개되었다.
- ⑤ 조선 건국 준비 위원회가 조직되었다.

23/03

19. 밑줄 친 '정부' 시기의 경제 상황으로 옳은 것은? [3점]

오늘은 이 땅에서 처음으로 여야 간 평화적 정권 교체가 실현되는 자랑스러운 날이자 민주주의와 경제를 동시에 발전시키려는 정부가 마침내 탄생하는 역사적인 날이기도 합니다. ... (중략) ... 국민 여러분은 나라의 위기를 극복하기 위해 '금 모으기'에 나섰고 이미 20억 달러가 넘는 금을 모아 주셨습니다. 저는 황금보다 더 귀중한 국민 여러분의 애국심을 한없이 자랑스럽게 생각합니다. 여러분 감사합니다.

- ① 금강산 관광 사업이 시작되었다.
- ② 3저 호황으로 수출이 증대되었다.
- ③ 경부 고속 국도(도로)가 개통되었다.
- ④ 제1차 경제 개발 5개년 계획이 추진되었다.
- ⑤ 경제 협력 개발 기구[OECD] 가입이 이루어졌다.

20. 밑줄 친 '서명'이 이루어진 시기를 연표에서 옳게 고른 것은?

대통령은 청와대에서 국회의장, 대법원장, 국무총리 등 3부 요인과 관련 각료, 남북 고위급 회담 대표, 통일 관계 단체장 등이 배석한 가운데 남북 기본 합의서와 비핵화 공동 선언에 서명했다. ... (중략) ... 대통령은 또 "반세기 동안 헤어진 남북의 이산가족들이 세상을 떠나기 전에 고향 땅을 밟아 보고 부모 형제들을 만나볼 수 있게 하는 것이 무엇보다 먼저 실천되어야 할 과제"라며 이후 방북하는 국무총리에게 제6차 고위급 회담에서 이산가족 문제 해결에 노력할 것을 당부했다.

	(가)	(나)	(다)	(라)	(마)
4·19 혁명	6·3 시위	3·1 민주 구국 선언	5·18 민주화 운동	6·29 민주화 선언	6·15 남북 공동 선언

- ① (가)    ② (나)    ③ (다)    ④ (라)    ⑤ (마)

\* 확인 사항

○ 답안지의 해당란에 필요한 내용을 정확히 기입(표기)했는지 확인 하시오.