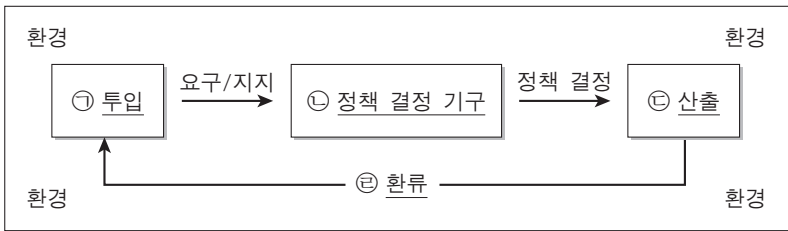


제 4 교시

# 사회탐구 영역(법과 정치)

성명  수험 번호

1. 그림은 정치 체계론 모형이다. 밑줄 친 ㉠~㉣에 대한 설명으로 옳지 않은 것은?



- ① 정치 효능감이 높은 국가에서는 ㉠이 활성화된다.
- ② 입법부와 행정부는 ㉡에 해당한다.
- ③ 권위주의 국가에서는 ㉠이 ㉡보다 영향력이 강하다.
- ④ 민주주의 국가에서는 ㉢에 ㉠이 잘 반영된다.
- ⑤ ㉣은 ㉡이 환경에 영향을 미치고, 이것이 다시 ㉠에 영향을 미치는 과정이다.

2. 갑~병은 대표적인 근대 사회 계약론자이다. 이들에 대한 설명으로 옳은 것은? [3점]

갑: 자연 상태에서 인간은 서로가 서로를 위협하는 투쟁 상태에 있다. 이러한 투쟁 상태에서 안전과 질서를 확보하기 위하여 사회 구성원은 서로 계약을 통해 국가를 만든다.  
 을: 자연 상태는 자유롭고 평화롭지만, 옳고 그름을 구별하는 법이 없고, 다툼을 해결해 주는 재판관도 없으며, 법을 집행할 수 있는 합리적 권력도 없다. 이러한 불안정한 상태를 예방하고 자유와 평등을 보장하기 위하여 사회 구성원은 계약을 통해 국가를 만든다.  
 병: 자연 상태는 평등한 상태이지만, 사적 소유로 인해 불평등이 조성되었다. 이에 사람들은 자신들의 자유와 평등을 보장하기 위하여 국가를 만든 것이며, 국가는 국민들의 직접적인 의사에 따라 운영되어야 한다.

- ① 갑은 자연 상태에서 죽음에 대한 공포를 강조하고, 사회 계약의 동기는 개인의 자기 보존 욕구라고 주장하였다.
- ② 을은 국가가 일반 의지에 따라 형성되었음을 강조하고, 국민 주권론을 피력하였다.
- ③ 병은 국가 권력의 이권 분립과 저항권을 주장하고, 개인 간의 평등을 위해 사유 재산권의 제한을 인정하였다.
- ④ 갑은 절대 군주제를, 을은 직접 민주제를, 병은 대의제를 주장하였다.
- ⑤ 갑, 을, 병 모두 국가는 수단이 아니라 목적이라는 입장을 취하고 있다.

3. 다음에 나타난 정치권력에 대한 옳은 설명만을 <보기>에서 있는 대로 고른 것은?

정치권력은 일방적인 힘의 행사만을 의미하지는 않는다. 정치권력이 행사되기 위해서는 통치자의 강제력뿐 아니라 피치자의 자발적인 복종 의사 또한 필요하다. 정당성은 피치자가 정치권력을 정당한 것으로 인정하여 자발적으로 따르는 것과 깊은 연관이 있다. 정당성을 상실한 정치권력은 국민들의 저항에 직면할 수 있다. 결국 정치권력은 정당성을 확보하는 것이 중요하다. 그 정당성은 정치권력이 민주주의 이념과 원리에 충실하고 합법성을 지녔을 때 확보된다. 이때 합법성은 정치권력이 법적 절차에 의해 형성되고 법에 근거하여 행사 되는 것을 의미한다.

- <보기>—
- ㄱ. 정치권력이 합법적으로 행사되면 정당성이 확보된다.
  - ㄴ. 정치권력의 정당성은 국민의 자발적인 동의와 합의에 의해 형성된다.
  - ㄷ. 정치권력이 제대로 기능하기 위해서는 정당성과 강제력이 함께 확보되어야 한다.
  - ㄹ. 정치권력이 민주주의의 이념과 원리에 어긋날 경우 국민들의 저항에 직면할 수 있다.

- ① ㄱ, ㄴ                      ② ㄱ, ㄷ                      ③ ㄷ, ㄹ
- ④ ㄱ, ㄴ, ㄹ                ⑤ ㄴ, ㄷ, ㄹ

4. 다음은 전형적인 정부 형태 A, B의 구성 방식을 비교한 것이다. 질문에 대한 답변이 모두 옳은 것은? [3점]

A	B
국민에 의해 선출된 행정부 수반이 정치권력의 정당성을 부여받아 실권을 쥐고 행정부를 구성한다.	의회 내 다수당이 내각을 구성하고 의회에서 선출된 행정부 수반이 정치적 실권을 장악한다.

	질문	답변	
		A	B
①	사법부의 독립이 보장되는가?	예	아니요
②	의원은 각료를 겸직할 수 있는가?	예	아니요
③	행정부 수반의 임기가 보장되는가?	아니요	예
④	행정부가 입법부에 연대 책임이 있는가?	아니요	예
⑤	행정부 수반에게 법률안 거부권이 있는가?	아니요	예

# 2 사회탐구 영역 (법과 정치)

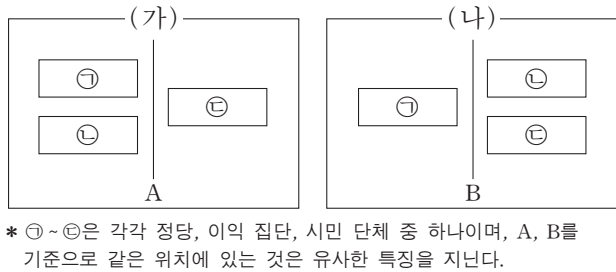
5. 자료에 대한 분석 및 추론으로 가장 적절한 것은? [3점]

전형적인 정부 형태를 지닌 A국은 소선거구제를 통해 의회 의원을 선출한다. 단, A국의 모든 선거에서 후보자는 정당을 통해서만 공천되고, 선거 제도가 변경되어도 지지하는 정당과 투표율은 변함이 없다.

〈A국의 선거 결과〉 (단위: %)

구분	갑당		을당		병당	
	득표율	의석률	득표율	의석률	득표율	의석률
2006년	37	38	41	57	22	5
2010년	38	46	38	48	24	6

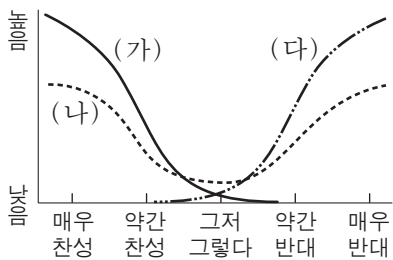
- ① 갑당, 을당과 달리 병당은 과대 대표되었다.
  - ② 비례 대표제를 적용하면 병당보다 을당이 유리하다.
  - ③ 의원 내각제 국가라면 2006년에는 연립 정부가 구성된다.
  - ④ 대통령제 국가라면 2010년에는 여소야대의 정국이 형성된다.
  - ⑤ 투표율이 높아지면 세 정당 모두 득표율과 의석률의 차이는 줄어든다.
6. 그림은 전형적인 정치 참여 집단 ㉠~㉣을 A, B로 구분한 것이다. 이에 대한 옳은 설명만을 <보기>에서 있는 대로 고른 것은? [3점]



〈보기〉

- ㉠. (가)에서 A가 '선거에서의 후보자 공천'이면, ㉣은 정당이다.
- ㉡. (나)에서 ㉠이 이익 집단이면, B는 '특수 이익 추구'가 될 수 있다.
- ㉢. A가 '정권 획득 추구'이고 B가 '공익 추구'이면, ㉡은 시민 단체이다.
- ㉣. ㉣이 정당이면, A는 '정치적 책임'이고 B는 '의회와 정부의 매개 역할'이 될 수 있다.

- ① ㉠, ㉡                      ② ㉠, ㉢                      ③ ㉢, ㉣
  - ④ ㉠, ㉡, ㉢                ⑤ ㉡, ㉢, ㉣
7. 그림의 (가)~(다)는 여론 분포의 다양한 유형을 나타낸 것이다. 각 유형에 대한 설명으로 적절한 것은?



- ① (가)는 지배적인 여론이 형성되어 국민적 합의가 용이할 것이다.
- ② (나)는 정부의 정책 결정과 추진이 용이하게 이루어질 것이다.
- ③ (다)는 여론이 분산되어 사회가 불안정할 가능성이 높을 것이다.
- ④ (가)는 (다)보다 정부 정책에 대한 여론이 유동적일 것이다.
- ⑤ (나)는 합의형 여론 분포, (가)와 (다)는 분산형 여론 분포이다.

8. 그림에서 갑과 을이 말하고 있는 기본권에 대한 옳은 설명을 <보기>에서 고른 것은?



〈보기〉

- ㉠. 갑이 주장하는 기본권은 소극적이고 방어적인 성격을 갖는다.
- ㉡. 갑이 주장하는 기본권은 추상적이고 열거적인 성격을 갖는다.
- ㉢. 을이 주장하는 기본권은 실질적 평등 이념에 기초한다.
- ㉣. 을이 주장하는 기본권은 '기본권 보장을 위한 기본권'으로 불린다.

- ① ㉠, ㉡    ② ㉠, ㉢    ③ ㉡, ㉣    ④ ㉡, ㉣    ⑤ ㉢, ㉣

9. 밑줄 친 ㉠~㉣에 대한 옳은 설명만을 <보기>에서 있는 대로 고른 것은?

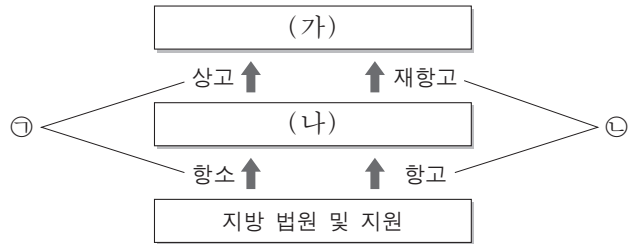
행정부가 비대해지고 전문 관료의 역할이 증대되면서 행정에 대한 통제 요구가 높아지고 있다. 우리나라에서 행정에 대한 통제 방법에는 크게 행정부 내부 통제, ㉠국회에 의한 통제, ㉡국민에 의한 통제, 사법부에 의한 통제 등이 있다. 특히 행정부의 수반인 대통령은 국가 원수로서 실질적인 권한을 가지고 있기 때문에 이러한 강력한 권한에 대한 통제가 필요하다. 그러나 현실적으로 ㉢탄핵을 제외하고는 대통령에 대한 직접적인 통제 수단이 없고, 다만 대통령의 권한 행사 방식에 대한 ㉣간접적인 통제 수단이 헌법에 규정되어 있을 뿐이다.

〈보기〉

- ㉠. 국정 감사는 ㉠의 예가 된다.
- ㉡. 헌법 소원은 ㉡의 예가 된다.
- ㉢. 대통령에 대한 ㉢은 국회의 탄핵 소추 의결과 대법원의 판결로 결정된다.
- ㉣. 대통령의 정책 결정에 대해 국무 회의의 심의를 거치게 하는 것은 ㉣의 예가 된다.

- ① ㉠, ㉡                      ② ㉡, ㉣                      ③ ㉢, ㉣
- ④ ㉠, ㉡, ㉢                ⑤ ㉠, ㉢, ㉣

10. 그림은 우리나라의 사법 제도를 나타낸 것이다. 이와 관련된 설명으로 옳지 않은 것은? [3점]



- ① (가)는 공권력에 의한 기본권 침해에 대해 다른 구제 수단이 없을 때의 최종적인 구제 기관이다.
- ② (가)는 명령·규칙 또는 처분이 헌법이나 법률에 위반되는지 여부에 대한 최종 심사권을 가진다.
- ③ (나)는 고등 법원 또는 지방 법원 본원 합의부이다.
- ④ 국회의원 선거의 유·무효에 관한 재판은 (나)를 거치지 않고 (가)에서 단심으로 한다.
- ⑤ ㉠은 판결에 대한, ㉡은 명령이나 결정에 대한 이의 제기를 말한다.

11. 다음 사례에 대한 법적 판단으로 가장 적절한 것은?

고등학교 1학년 갑(만 16세)은 학습지를 판매하는 을과 상담을 하였다. 을은 갑이 미성년자이기에 학습지 구독에 대한 부모의 동의를 얻어 오라고 하였다. 갑은 부모가 없는 틈을 타서 부모의 인감 도장으로 동의서를 위조한 후 을에게 동의서를 보여 주었다. 이에 갑과 을은 학습지의 구독 기간과 구독료를 을이 마음대로 정할 수 있도록 구두 합의하였고, 을은 갑에게 일방적으로 불리하게 구독 기간과 구독료를 정하였다.

- ① 갑과 을은 계약서를 쓰기 전이므로 계약이 성립된 것은 아니다.
- ② 갑은 갑의 부모가 계약 취소를 반대해도 구독 계약을 취소할 수 있다.
- ③ 갑의 부모는 갑이 계약 취소를 반대해도 구독 계약을 취소할 수 있다.
- ④ 을은 갑과 갑의 부모에게 계약을 취소할 것인지에 대한 확인을 요구해야 한다.
- ⑤ 갑은 구독 계약에 대해 사회 질서에 반하는 법률 행위임을 이유로 무효를 주장할 수 있다.

12. 다음 사례에 대한 옳은 법적 판단을 <보기>에서 고른 것은?

○○시가 횡단보도에 설치한 보행자 신호등이 고장 나서 작동되지 않았다. 마침 A 버스 운송 회사 소속 운전자 갑이 회사 버스를 운행하여 고장 난 보행자 신호등 앞을 지나던 중 횡단보도를 건너던 보행자 을을 미처 발견하지 못하여 다치게 하였다.

—<보기>—  
 가. 을은 A 버스 운송 회사를 상대로 손해 배상을 청구할 수 없다.  
 나. 을은 갑을 상대로 손해 배상을 청구할 수 있다.  
 다. 을은 ○○시를 상대로 손해 배상을 청구할 수 있다.  
 르. 을은 ○○시의 과실을 입증해야 손해 배상을 받을 수 있다.

- ① 가, 나    ② 가, 다    ③ 나, 다    ④ 나, 르    ⑤ 다, 르

13. 그림의 밑줄 친 '이 제도'에 해당하는 것을 <보기>에서 고른 것은? [3점]



—<보기>—  
 가. 형사 보상 제도                      나. 배상 명령 제도  
 다. 명예 회복 제도                      르. 범죄 피해자 구조 제도

- ① 가, 나    ② 가, 다    ③ 나, 다    ④ 나, 르    ⑤ 다, 르

14. 그림은 ○○ 건물에 대한 등기부 등본의 일부이다. 이에 대한 분석으로 옳지 않은 것은? [3점]

(가)

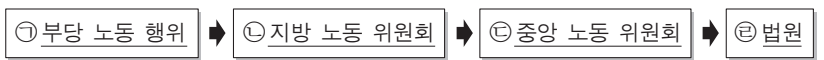
순위 번호	등기 목적	접수	등기 원인	권리자 및 기타 사항
1	소유권 보존	1998년 7월 20일		소유자 A (이하 생략)
2	소유권 이전	2011년 5월 12일	2011년 5월 10일 매매	소유자 B (이하 생략)

(나)

순위 번호	등기 목적	접수	등기 원인	권리자 및 기타 사항
1	저당권 설정	2011년 5월 1일	2011년 5월 1일 설정 계약	저당권자 C (이하 생략)
2	전세권 설정	2012년 6월 1일	2012년 5월 7일 설정 계약	전세권자 D (이하 생략)

- ① (가)는 갑구이고, (나)는 을구이다.
- ② 위 문서는 ○○ 건물의 소유자 및 이해관계자만 열람할 수 있다.
- ③ 2011년 6월에 A에게 돈을 빌려 준 사람은 ○○ 건물을 가압류할 수 없다.
- ④ A가 C에게 ○○ 건물을 담보로 제공한 사실을 알 수 있다.
- ⑤ C는 ○○ 건물이 경매로 넘어갈 경우 D보다 우선 변제를 받을 수 있다.

15. 밑줄 친 ㉠~㉣에 대한 설명으로 옳지 않은 것은? [3점]



- ① ㉠에 대한 피해 구제 제도는 근로 3권의 보호를 목적으로 한다.
- ② ㉠의 예로 정당한 노동조합 활동을 이유로 근로자를 해고한 것을 들 수 있다.
- ③ ㉢을 통한 구제 신청은 근로자 개인뿐 아니라 노동조합도 가능하다.
- ④ ㉣의 재심 판정에 불복할 경우에는 ㉢에 행정 소송을 제기할 수 있다.
- ⑤ ㉢을 통한 분쟁의 해결은 ㉣에서 재심 과정이 있었으므로 단심제로 한다.








제 4 교시

# 사회탐구 영역(법과 정치)

성명

수험 번호

1. 그림에 제시된 교사의 질문에 대한 학생의 답변 중 옳지 않은 것은?



- ① 권력 기관 상호 간의 견제를 통한 균형을 보여 줌.
- ② 궁극적인 목적은 권력 남용의 억제와 국민의 기본권 보장에 있음.
- ③ 몽테스키외의 삼권 분립론에 기초하고, 수평적 권력 분립에 해당함.
- ④ 국정 감사권과 탄핵 소추권을 통해 입법부가 행정부를 견제할 수 있음.
- ⑤ 사법부가 입법부를 견제하기 위해 위헌·위법 명령과 규칙 및 처분에 대한 최종 심사권을 행사할 수 있음.

2. 국제 정치를 보는 (가), (나) 관점에 대한 옳은 설명을 <보기>에서 고른 것은? [3점]

정보 혁명이 세계 정치에 미치는 영향에 대한 인식은 국제 정치를 보는 관점에 따라 다르게 나타난다. (가) 관점에서 본 정보 기술은 국가 이익을 극대화시키는 데 도구로 사용되는 권력 자원 중 하나이다. 따라서 정보 기술은 첨단 하드웨어의 보급이나 국가 전략 산업의 발달 정도로 이해되며, 국제 체제의 본질적인 변화를 야기하는 변수가 될 수 없다. 반면 (나) 관점에서 본 정보 기술은 세계 정치의 환경적 요소 중 하나이다. 따라서 정보 기술의 발달에 따라 가능하게 된 소통의 향상은 국제 협력을 달성할 수 있는 상호 의존의 환경을 제공한다.

<보기>

- ㄱ. (가) 관점은 국제 사회가 보편적인 선이나 국제 규범에 의해 지배된다고 본다.
- ㄴ. (나) 관점은 외교 정책 수단으로 위협보다 설득과 타협을 중시한다.
- ㄷ. (가) 관점에 비해 (나) 관점은 국제기구의 역할에 대해 긍정적이다.
- ㄹ. (가) 관점과 (나) 관점 모두 국제 사회를 무정부 상태로 규정한다.

- ① ㄱ, ㄴ    ② ㄱ, ㄷ    ③ ㄴ, ㄷ    ④ ㄴ, ㄹ    ⑤ ㄷ, ㄹ

3. 표는 시대별 민주 정치의 특징을 나타낸 것이다. A~C에 대한 옳은 설명을 <보기>에서 고른 것은? (단, A~C는 고대 아테네, 근대, 현대의 전형적인 민주 정치 중 하나임.)

질문	답변		
	A	B	C
대의 민주제를 시행하는가?	아니요	예	예
보통 선거 제도를 채택하는가?	아니요	아니요	예

<보기>

- ㄱ. A에서는 모든 성인 남자에게 참정권이 부여되었다.
- ㄴ. B에서는 입헌주의 원리를 통해 민주주의를 추구하였다.
- ㄷ. C에서는 전쟁, 외교 등 공적 사안을 민회가 결정하였다.
- ㄹ. B에 비해 C에서는 참여 민주주의가 더욱 활성화되었다.

- ① ㄱ, ㄴ    ② ㄱ, ㄷ    ③ ㄴ, ㄷ    ④ ㄴ, ㄹ    ⑤ ㄷ, ㄹ

4. (가), (나)에 들어갈 민주 선거 원칙으로 가장 적절한 것은? [3점]

과거 우리나라 국회의원 선거는 1인 1표제를 채택하여 지지 정당에 대한 별도의 투표 과정 없이 지역구 후보에 대한 투표만으로 정당 득표율을 계산한 후, 정당별로 비례 대표 의석을 배분하였다. 그러나 이는 유권자가 비례 대표 의원의 선출에 있어서 별도의 의사 표시를 할 수 없기 때문에 <가>의 원칙에 위배되고, 지역구 선거에서 무소속 후보자를 지지하는 경우, 이는 정당 추천 비례 대표 의원 선출에 반영되지 않기 때문에 <나>의 원칙에 위배된다는 이유로 위헌 결정이 내려졌다. 이에 따라 2004년부터 한 표는 지역 대표를 뽑고, 다른 한 표는 정당에 투표하여 비례 대표를 결정하는 1인 2표제가 채택되었다.

- |   |       |       |       |       |
|---|-------|-------|-------|-------|
|   | (가)   | (나)   | (가)   | (나)   |
| ① | 직접 선거 | 평등 선거 | 직접 선거 | 보통 선거 |
| ② | 평등 선거 | 직접 선거 | 평등 선거 | 보통 선거 |
| ③ | 보통 선거 | 평등 선거 |       |       |

5. 다음의 헌법 조항에 대한 설명으로 가장 적절한 것은?

제37조 ② 국민의 모든 자유와 권리는 국가 안전 보장·질서 유지 또는 공공복리를 위하여 필요한 경우에 한하여 법률로써 제한할 수 있으며, 제한하는 경우에도 자유와 권리의 본질적인 내용을 침해할 수 없다.

- ① 사회적 기본권은 다른 기본권보다 우월하다는 점을 보여 준다.
- ② 개인의 기본권 보장과 공동체의 이익은 조화될 수 없음을 보여 준다.
- ③ 국가 권력이 국민의 기본권을 효과적으로 제한하기 위한 규정이다.
- ④ 기본권은 천부적 권리가 아니라 실정법상 권리라는 점을 보여 준다.
- ⑤ 기본권 제한은 정당한 목적을 위해 필요한 범위 안에서만 행해져야 한다는 점을 보여 준다.

6. (가)~(다)는 동서고금(東西古今)의 통치에 관한 생각이다. 이에 대한 추론으로 가장 적절한 것은?

(가) 백성은 나라의 근본이다. 근본이 안정되어야 나라가 평안해진다. - 공자 -

(나) 목민관\*은 백성을 위해 있는 것이다. ...**(중략)**... 예(禮)로 바로잡고 은혜로 대한 뒤에야 법으로 단속할 수 있다. ...**(중략)**... 형벌은 백성을 다스리는 최후의 수단이다. - 정약용 -

(다) 민주 국가에서 시민은 중대한 불의가 발생하고 이를 해결하려는 협상이 결렬되었으며 시민 스스로 도덕적 정당성을 지니고 있을 때 정치적 저항권을 행사할 수 있다. - 마틴 루터 킹 -

\* '목민관(牧民官)'은 백성을 다스리고 보살피는 관리임.

- ① (가)는 자연법사상을 주장한다.
- ② (나)는 형벌의 필요성을 부정한다.
- ③ (다)는 저항권을 우선적 수단으로 본다.
- ④ (가)와 (나)는 민본주의적 관점에 토대를 둔다.
- ⑤ (가)~(다)는 모두 부당한 권력에 대해 저항권을 행사할 수 있다고 본다.

7. 다음은 헌법재판소 결정의 일부이다. (가)에 들어갈 권리에 대한 설명으로 가장 적절한 것은? [3점]

[판시 사항]

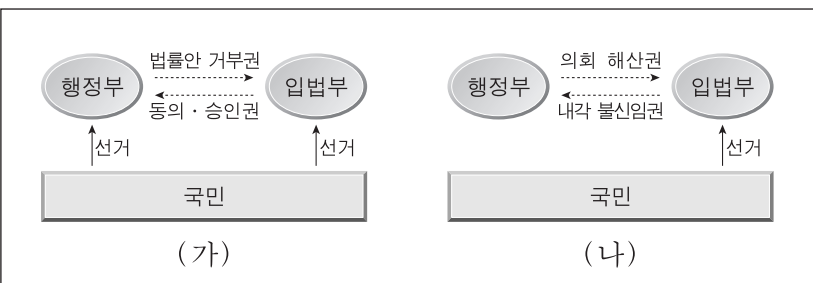
대통령 선거 후보자 등록 요건으로 5억 원의 기탁금 납부를 규정한 공직선거법 제56조 제1항 제1호가 후보 예정자의 **(가)**을/를 침해하는지 여부

[결정 요지]

후보자 난립 방지를 위하여 기탁금 제도를 두더라도 그 금액이 현저하게 과다하거나 불합리하게 책정된 것이라면 허용될 수 없다. 5억 원의 기탁금은 대통령 선거 입후보 예정자가 조달하기에 매우 큰 액수임이 명백하다. ...**(중략)**... 결국, 이 사건 조항은 개인에게 현저하게 과다한 부담을 초래하며, 이는 재산의 많고 적음에 의하여 **(가)** 행사 기회를 비합리적으로 차별하므로 청구인의 **(가)**을/를 침해한다.

- ① 최소한의 인간다운 생활을 보장받기 위한 권리이다.
- ② 모든 개별적인 기본권의 내용을 담은 포괄적인 권리이다.
- ③ 국가의 정치 과정에 적극적으로 참여할 수 있는 권리이다.
- ④ 다른 기본권이 침해당하였을 때 이를 구제받을 수 있도록 하는 권리이다.
- ⑤ 우리나라 국민과 국내에 거주하는 외국인은 차별 없이 이 권리를 행사할 수 있다.

8. 그림의 (가), (나)는 전형적인 민주 정부 형태 구성 방식을 나타낸 것이다. 이에 대한 옳은 설명을 <보기>에서 고른 것은?



— < 보기 > —

ㄱ. (가)는 행정부가 의회에 대해 정치적 책임을 진다.  
 ㄴ. (나)는 권력의 융합보다 분립에 중점을 두고 있다.  
 ㄷ. (가)는 (나)와 달리 행정부 수반의 임기가 보장되어 정책의 계속성 확보가 용이하다.  
 ㄹ. (나)는 (가)에 비해 의회와 행정부 간의 정치적 대립을 해결하기가 용이하다.

- ① ㄱ, ㄴ    ② ㄱ, ㄷ    ③ ㄴ, ㄷ    ④ ㄴ, ㄹ    ⑤ ㄷ, ㄹ
9. 다음의 갑국 정치 과정에 대한 추론 중 옳지 않은 것은?

갑국의 정부나 의회는 사회 전체에 큰 영향을 끼칠 수 있는 중요한 정책을 결정하기 전에 해당 분야의 전문가나 이해 당사자들이 참여하는 공청회를 열어 그들의 의견을 듣는다. 물론 정책을 결정하는 권한은 정부나 의회가 갖고 있다. 그러나 시민들도 자신들의 견해를 진술하고 이를 정책에 반영할 기회를 가질 수 있기 때문에 공청회에서 제기된 의견은 법적 구속력을 갖지 못하더라도 정치적 구속력은 가질 수 있다.

- ① 상향식 여론 수렴을 중시한다.
- ② 행정에 대한 시민 참여가 존중된다.
- ③ 공청회 개최는 정책 결정 과정의 정당성을 높인다.
- ④ 정책 결정의 신속성을 높이기 위해 공청회를 개최한다.
- ⑤ 공청회에서 제기된 의견을 정부나 의회가 반드시 따라야 할 필요는 없다.

10. 다음 인터넷 사이트에 올라온 질문에 대해 옳은 내용의 댓글을 단 사람을 고른 것은?

질문 : 얼마 전 남편은 좀 더 큰 집으로 이사하기 위해 아파트를 3억 원에 매수하기로 하고 매매 대금 3억 원을 모두 지급했어요. 그런데 남편이 소유권 등기를 하기 전에 교통사고로 갑자기 사망했어요. 저와 남편과의 사이에 아이가 없어 1년 전에 여자 아이 1명을 입양하였고, 남편과 전처와의 사이에는 아들이 1명 있는데 전처가 키우고 있어요. 남편에게 빚이 조금 있고 생전에 유언은 없었어요. 이 경우 부동산과 상속 문제는 어떻게 되나요?

↳ 갑: 남편이 매매 대금을 모두 지급하였으므로 남편이 아파트의 소유권자예요.  
 ↳ 을: 남편의 재산만 상속될 뿐 남편의 빚은 상속되지 않아요.  
 ↳ 병: 질문자뿐 아니라 입양한 딸, 남편과 전처 사이의 아들 모두 상속인이 돼요.  
 ↳ 정: 질문자의 법정 상속분은 7분의 3이에요.

- ① 갑, 을    ② 갑, 병    ③ 을, 병    ④ 을, 정    ⑤ 병, 정

11. 그림에 나타난 상황에 대한 옳은 법적 판단을 <보기>에서 고른 것은? [3점]

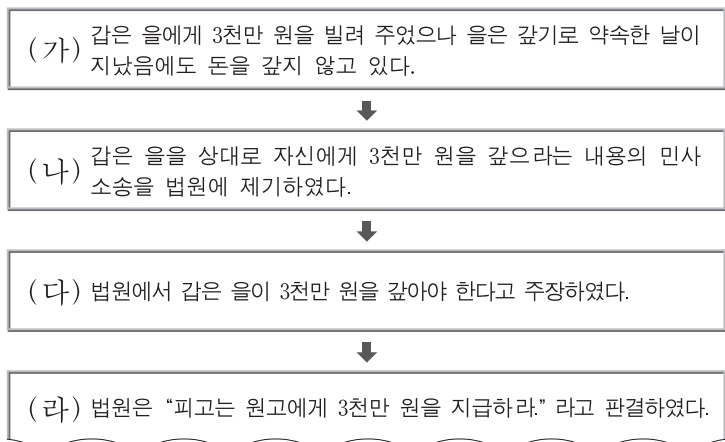


— <보기> —

- ㄱ. 갑과 을 사이의 근로 계약에서 을은 임금, 근로 시간 등의 근로 조건을 서면으로 작성해야 할 의무가 있다.
- ㄴ. 병의 이삿짐 운반에 대한 청약과 을의 승낙으로 이삿짐 운반에 관한 계약이 성립한다.
- ㄷ. 갑이 고의로 도자기를 깨뜨린 것이 아니라면 병에게 민사상 불법 행위 책임을 지지 않는다.
- ㄹ. 을은 원칙적으로 병에게 갑의 도자기 파손에 따른 사용자 배상 책임을 지지 않는다.

- ① ㄱ, ㄴ    ② ㄱ, ㄷ    ③ ㄴ, ㄷ    ④ ㄴ, ㄹ    ⑤ ㄷ, ㄹ

12. (가)~(라) 단계에 대한 옳은 설명을 <보기>에서 고른 것은? [3점]



— <보기> —

- ㄱ. (가)에서 갑은 을의 재산에 대해 가압류 신청을 할 수 있다.
- ㄴ. (나)에서 갑이 제기한 민사소송에 의하여 을에 대한 형사 소송도 함께 진행된다.
- ㄷ. (다)에서 갑은 을에게 금전을 빌려 준 사실 및 액수, 돌려받기로 한 시기를 입증해야 한다.
- ㄹ. (라) 이후에 을은 1심 법원의 판결에 불복하여 일정 기간 내에 2심 법원에 상고할 수 있다.

- ① ㄱ, ㄴ    ② ㄱ, ㄷ    ③ ㄴ, ㄷ    ④ ㄴ, ㄹ    ⑤ ㄷ, ㄹ

13. (가), (나)는 제한 능력자 제도와 관련하여 2013년 7월 1일부터 시행된 개정 민법 내용의 일부이다. 이에 대한 설명으로 옳은 것은? [3점]

- (가) 성년후견제도는 질병, 장애, 노령, 그 밖의 사유로 인한 정신적 제약으로 사무 처리 능력이 지속적으로 결여된 사람에 대하여, 일정한 자의 청구로 가정 법원에 의해 성년후견의 개시를 심판받은 사람을 후견하는 제도이다.
- (나) 한정후견제도는 질병, 장애, 노령, 그 밖의 사유로 인한 정신적 제약으로 사무 처리 능력이 부족한 사람에 대하여, 일정한 자의 청구로 가정 법원에 의해 한정후견의 개시를 심판 받은 사람을 후견하는 제도이다.

- ① (가)에서 피후견인이 대가가 과도하지 않은 일용품을 구입하는 계약을 단독으로 체결한 경우, 후견인은 이를 취소할 수 있다.
- ② (나)에서의 피후견인이 (가)에서의 피후견인보다 단독으로 유효하게 할 수 있는 재산법상 법률 행위의 범위가 더 넓다.
- ③ 기존의 한정치산제도가 (가)로, 금치산제도가 (나)로 대체된 것이다.
- ④ (가)와 (나)는 피후견인의 권리능력을 보완하는 제도이다.
- ⑤ (가)와 (나)의 시행으로 기존의 한정치산·금치산제도보다 피후견인이 단독으로 유효하게 할 수 있는 재산법상 법률 행위의 범위가 좁아졌다.

[14~15] 다음 글을 읽고 물음에 답하십시오.

회사원 A(40세)는 길을 가던 중, 갑이 중학생인 을(15세)을 마구 폭행하는 것을 보고 이를 제지하였다. 그러나 갑이 계속 을을 폭행하자 ㉠A는 갑의 폭행을 그만두게 하기 위하여 갑을 밀쳤다. 이에 화가 난 갑이 갑자기 몽둥이로 A를 폭행하여 생명에 위협을 느낀 A는 도망갈 곳이 없게 되자 부득이 옆에 있는 타인의 가게로 들어가려고 하였다. 그러나 가게 문이 잠겨 있고 다른 방법이 없어서 ㉡A는 가게 출입문의 유리창을 부수고 가게로 들어가 숨었다. A는 갑의 폭행으로 전치 4주의 상해를 입었다.

\* 단, 갑은 정상적인 사리 분별 능력이 있으며 민법상, 부모의 동의가 있어야 혼인을 할 수 있는 연령임.

14. 갑의 행위에 대한 법적 판단으로 옳은 것은? [3점]

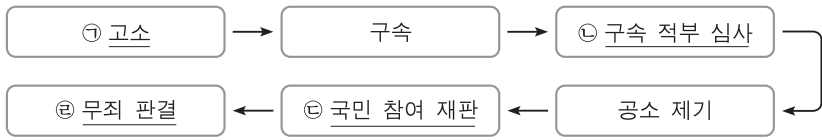
- ① A에 대한 폭행은 정당 방위로서 위법성을 조각한다.
- ② 갑의 혼인 여부가 갑의 범죄 성립 여부에 영향을 미친다.
- ③ 을에 대한 폭행으로 가정 법원 소년부에 송치될 수도 있다.
- ④ 형사 미성년자로서 선도 조건부 기소 유예 처분을 받을 수도 있다.
- ⑤ A가 입은 상해에 대하여 민사상 불법 행위의 책임을 지지 않는다.

15. A의 밀줄 친 ㉠, ㉡ 행위가 위법성이 조각되는 사유로 옳은 것은?

- |         |       |         |       |
|---------|-------|---------|-------|
| ㉠       | ㉡     | ㉠       | ㉡     |
| ① 정당 방위 | 긴급 피난 | ② 정당 방위 | 자구 행위 |
| ③ 정당 행위 | 자구 행위 | ④ 긴급 피난 | 정당 방위 |
| ⑤ 자구 행위 | 긴급 피난 |         |       |



16. 그림은 어떤 사건의 형사 절차를 나타낸 것이다. 밑줄 친 ㉠~㉣에 대한 설명으로 옳은 것은? [3점]



- ① ㉠은 사건을 목격한 피해자의 친구가 할 수 있다.
- ② ㉡은 구속된 피의자 또는 검사가 청구할 수 있다.
- ③ ㉢은 형사 재판의 신속성과 효율성을 높이기 위하여 도입되었다.
- ④ ㉣에서 배심원이 유죄 평결을 하더라도 재판부는 무죄 판결을 할 수 있다.
- ⑤ ㉣이 확정된 경우 그 사건의 피고인은 일정 기간 내에 법원에 배상 명령을 신청할 수 있다.

17. 다음 글의 (가)에 대한 설명으로 옳은 것은? [3점]

술집을 운영하는 갑은 청소년에게 주류를 제공하였다는 이유로 1개월 영업 정지 처분을 받았다. 갑은 영업 정지 처분의 취소를 구하고자 하는데, 행정상 분쟁을 법원이 아닌 행정기관에서 처리하는 행정 재송 절차인 (가)을/를 청구할 계획이다.

- ① 국민 신문고 제도는 (가)의 한 종류이다.
- ② (가)를 청구하기에 앞서 청문 절차를 거쳐야 한다.
- ③ (가)의 청구를 수리하여 심리하는 기관은 국민 권익 위원회이다.
- ④ (가)에서는 처분이 위법하지 않다 하더라도 그것이 부당한 조치가 아니었는지를 심리·판단할 수 있다.
- ⑤ 국가나 지방 자치 단체가 공공의 필요를 위하여 적법하게 개인의 재산을 특별히 희생시킨 경우에 그 손실을 보상해 주는 제도이다.

18. (가)~(다)에 대한 옳은 설명만을 <보기>에서 있는 대로 고른 것은?

(가) 유럽 연합(EU) 회원국, 캐나다, 일본 등이 '교토 의정서'를 채택하였다.  
 (나) 공산 진영이 다원화되고 비동맹 중립 노선을 추구하는 제3세계가 등장했다.  
 (다) 한국은 1973년 6월 23일 평화·통일·외교 정책에 관한 특별 선언을 발표했다.

— <보기> —  
 가. (가)는 환경 문제를 해결하기 위한 국제 공조의 예이다.  
 나. (나)를 계기로 국제 연맹이 해체되고 국제 연합이 창설되었다.  
 다. (다)를 통해서 한국은 비적대적 공산권 국가에 문호를 개방하겠다고 선언했다.  
 르. (가)~(다)는 모두 냉전 체제 종식 이후의 일이다.

- ① 가, 다                      ② 가, 르                      ③ 나, 다
- ④ 가, 나, 르                ⑤ 나, 다, 르

19. 다음 사례에 관한 옳은 설명을 <보기>에서 고른 것은? [3점]

갑은 변호사가 아니면서 돈을 받고 소송 사건에 관하여 법률 상담을 한 혐의로 기소되어 형사 재판을 받고 있다. 갑은 변호사가 아닌 사람의 법률 사무 취급을 제한하는 변호사법의 관련 조항이 헌법에 어긋난다며 법원에 위헌 법률 심판 제청을 신청하였다.

— <보기> —  
 가. 법원이 위 신청을 기각하는 경우, 갑은 헌법재판소에 헌법 소원 심판을 청구할 수 있다.  
 나. 갑은 위 신청 사건에서 공권력에 의하여 기본권을 침해당하였다는 사실을 입증하여야 한다.  
 다. 법원이 위헌 법률 심판을 제청하기 위해서는 해당 법률 조항의 위헌 여부가 위 형사 재판의 전제가 된 경우라야 한다.  
 르. 검사가 공소를 제기하기 전이라면, 갑은 법원을 거치지 않고 곧바로 헌법재판소에 위헌 법률 심판을 제청할 수 있다.

- ① 가, 나    ② 가, 다    ③ 나, 다    ④ 나, 르    ⑤ 다, 르

20. 다음 사례 및 구제 절차에 대한 설명으로 옳지 않은 것은?

[사례]  
 갑은 ○○ 회사에서 능력을 인정받는 직원이었다. 그러나 갑이 자녀를 출산한 지 6개월 후 ㉠ 육아 휴직을 신청하자 ○○ 회사는 이를 이유로 갑을 해고하였다.

[구제 절차]  
 부당 해고 발생 → ㉡ 지방 노동 위원회 → ㉢ 중앙 노동 위원회 → ㉣ 행정 법원 → 고등 법원 → 대법원

- ① 사업주가 ㉠을 이유로 근로자를 해고할 수 없도록 법률로 규정하고 있다.
- ② 갑은 해고를 당한 날로부터 3개월 이내에 ㉡에 구제 신청을 할 수 있다.
- ③ 갑은 ㉡으로부터 기각 결정서를 통지받은 경우 일정 기간 내에 ㉢에 재심을 청구할 수 있다.
- ④ ㉢이 갑의 해고에 대해 구제 명령을 한 경우 ○○ 회사는 일정 기간 내에 ㉣에 행정 소송을 제기할 수 있다.
- ⑤ 갑은 ㉡, ㉢에서 구제 절차를 거쳐야 법원에 별도의 해고 무효 확인의 소를 제기할 수 있다.

\* 확인 사항  
 ○ 답안지의 해당란에 필요한 내용을 정확히 기입(표기)했는지 확인하십시오.

제 4 교시

# 사회탐구 영역(법과 정치)

성명	수험 번호
----	-------

1. 다음은 두 가지 기준에 따라 민주주의의 유형을 분류한 것이다. ㉠~㉣에 대한 설명으로 적절하지 않은 것은?

분류 기준	유형	내용
참여 방식	직접 민주주의	공동체의 정치적 의사를 시민이 직접 결정
	( ㉠ )	시민이 선출한 대표자들이 국가의 정책을 결정
	( ㉡ )	시민이 자발적으로 정치 과정에 참여하여 정치적 의사 결정에 영향력 행사
이념	( ㉢ )	평등보다 자유를 우선시
	( ㉣ )	자유보다 평등을 우선시

- ① ㉠이 등장한 배경은 국가의 영토 확대와 인구 증가, 사회의 복잡화와 전문화 등이다.
- ② ㉠의 문제점을 개선하기 위해 우리나라에서는 국민 투표와 주민 소환 제도를 채택하고 있다.
- ③ ㉡은 ㉠에 나타난 대표성 부족, 정치적 무관심의 확대와 같은 문제를 개선하기 위해 등장했다.
- ④ ㉢은 개인의 자유를 강조하고 시장 경제와 사유 재산권을 중시한다.
- ⑤ ㉣은 자본주의 경제를 수용하고, 사회 정의를 추구함에 있어 경쟁 원리를 중시한다.

2. 그림에 나타난 법치주의를 보는 갑, 을의 관점에 대한 적절한 추론만을 <보기>에서 있는 대로 고른 것은?



<보기>

- ㄱ. 갑은 정치권력의 합법성뿐 아니라 정당성도 강조할 것이다.
- ㄴ. 갑은 정당성을 상실한 정치권력에 대한 국민들의 저항권을 옹호할 것이다.
- ㄷ. 을은 정치권력이 인간의 존엄과 평등, 정의에 구속되어야 한다고 볼 것이다.
- ㄹ. 을은 법의 절차와 형식을 중요시하지만, 갑은 법의 목적이나 내용까지도 중요시할 것이다.

- ① ㄱ, ㄷ                      ② ㄱ, ㄹ                      ③ ㄴ, ㄷ
- ④ ㄱ, ㄴ, ㄹ                ⑤ ㄴ, ㄷ, ㄹ

3. (가)~(다)는 근대 정치 사상가의 주장이다. 이에 대한 설명으로 옳지 않은 것은? [3점]

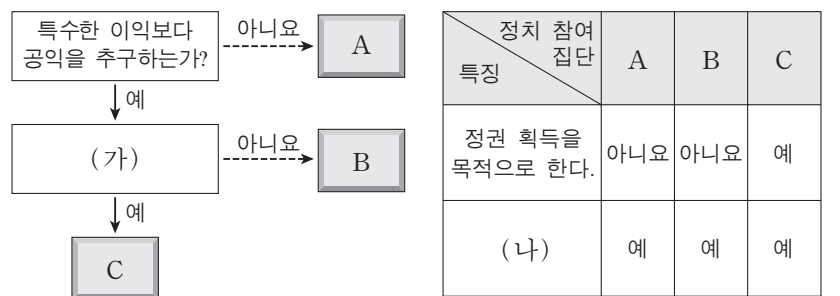
(가) 자연 상태의 인간은 모두가 평등한 상태이기 때문에 오히려 경쟁을 통해 서로를 위협에 빠뜨린다. 따라서 인간은 계약을 통해 정치 사회를 만들어 주권자에게 모든 자연권을 양도하고 그 보호하에 들어감으로써 자신의 안전을 지키고자 한다.

(나) 인간은 태어날 때부터 자유롭지만 스스로 만든 사회 제도나 문화에 의하여 억압당하는 삶을 살고 있다. 이를 벗어나기 위해서는 개인들 간의 자유로운 사회 계약을 통해 일반 의지에 의해 움직이는 국가를 만들어야 한다.

(다) 군주의 권력은 자유롭고 평등한 사람들의 자발적 동의에 의해 형성된 결과물로서 계약에 참가한 사람들의 생명, 인권, 재산을 보호하기 위해 필요하다. 따라서 군주가 자신에게 부여된 것 이상의 권리를 주장하여 애초의 계약을 위반할 경우 인민들은 군주에 반기를 들 권한이 있다.

- ① (가)에서 자연 상태는 인간들이 서로 위협하는 투쟁 상태이다.
- ② (나)에서 일반 의지는 공동체가 공공의 선을 추구하는 의지이다.
- ③ (다)에서 통치자의 권력 행사는 의회의 입법권에 의해 제한 받는다.
- ④ (가), (나), (다) 모두 국가는 목적이 아니라 수단이라는 입장을 취하고 있다.
- ⑤ (가), (다)를 주장한 사상가는 군주 주권론을, (나)를 주장한 사상가는 국민 주권론을 옹호하고 있다.

4. 다음 자료는 정치 참여 집단의 일반적인 특징을 알아보기 위한 것이다. 이에 대한 설명으로 옳은 것은? (단, A~C는 각각 정당, 이익 집단, 시민 단체 중 하나이다.)



- ① A는 의회와 정부를 매개하는 기능을 수행한다.
- ② B는 선거에 후보자를 공천하여 대표자를 배출한다.
- ③ C는 정치 과정에서 여론을 정책화하는 기능을 수행한다.
- ④ (가)에는 '간접 민주 정치의 한계를 보완하는가?'가 적절하다.
- ⑤ (나)에는 '자신들의 행위에 정치적 책임을 진다.'가 적절하다.

5. 다음은 여론에 대한 갑~병의 주장이다. 이에 대한 진술로 가장 적절한 것은?

갑: 대중은 자신의 의견이 우세한 여론에 속하면 강하게 주장하지만, 열세에 속하면 침묵하려 합니다.  
 을: 대중 매체는 스스로 중요하다고 생각하는 특정 주제를 자주 보도함으로써 여론을 형성하는 경우가 많습니다.  
 병: 현대 사회에서는 정보 통신 기술의 발달로 개인들의 다양한 의견이 여론 형성에 중요한 역할을 합니다.

- ① 갑은 언론의 자유가 보장되어야 함을 강조하고 있다.
- ② 을은 대중 매체의 의제 설정 기능을 언급하고 있다.
- ③ 병은 사회 구성원들의 수동적 태도를 지적하고 있다.
- ④ 병보다 갑은 여론 조사의 신뢰성이 더 높다고 본다.
- ⑤ 병과 달리 을은 여론이 상향식으로 형성된다고 본다.

6. 다음 자료에 대한 분석 및 추론으로 가장 적절한 것은? [3점]

갑국은 의회 선거에서 그래프와 같은 문제점이 지속적으로 발생하자, 이를 보완하기로 정치적 합의를 도출하여 선거 제도의 개혁을 추진하려고 있다. 현재 갑국은 지역 대표만을 선출하고 있으며, 정당은 각 선거구별 한 명의 후보만 공천할 수 있다.

<갑국 의회 선거 결과>

- ① B당, C당에 비해 A당에서 사표가 더 많이 발생했을 것이다.
- ② 현행 선거구 제도에서는 선거구 내 표의 등가성 문제가 발생할 수 있다.
- ③ 유권자들의 투표 참여율을 높이려 할 것이다.
- ④ 대표 선출 방식을 다수 대표제로 변경하려 할 것이다.
- ⑤ 정당 득표율에 따라 의석을 배분하는 제도를 도입하려 할 것이다.

7. 밑줄 친 ㉠~㉣에 대한 진술로 적절하지 않은 것은? [3점]

법률의 제정 및 개정은 입법부의 대표적인 권한이다. 하지만 우리나라의 경우 ㉠ 정부 제출에 의한 입법이 늘어나고, ㉡ 국회가 제출한 법률 중 ㉢ 의결·통과된 법률의 비율은 상대적으로 줄어들고 있다. ㉣ 이러한 현상이 나타나게 된 것은 현대 사회에 접어들어 국가 기능이 확대되고 ㉤ 입법에 있어 고도의 전문성과 기술성이 요구되면서 행정부에 비해 입법부의 기능이 상대적으로 약화되었기 때문이다.

- ① ㉠에서 우리나라 정부 형태에 의원 내각제 요소가 있음을 알 수 있다.
- ② ㉡은 국회의원 10인 이상 또는 국회 상임 위원회가 할 수 있다.
- ③ ㉢을 위해서는 국회 재적 의원 과반수의 찬성이 있어야 한다.
- ④ ㉣에 대해 국회의 입법 기능이 약화되어 대의제 원리가 제대로 실현되지 못한다는 비판이 제기될 수 있다.
- ⑤ ㉤을 확보하기 위한 예로 국회 입법 조사처의 활동 강화를 들 수 있다.

[8~9] 그림을 보고 물음에 답하시오.



8. 위 상황과 관련된 적절한 설명을 <보기>에서 고른 것은? [3점]

— <보기> —

- ㄱ. 도로교통법이 갑의 기본권을 제한한 것은 질서 유지를 위한 것으로 목적의 정당성을 충족한다.
- ㄴ. 헌법재판소는 국가가 갑의 권리와 자유를 제한하였지만 그 본질적인 내용을 침해한 것은 아니라고 보았다.
- ㄷ. (나)에서 갑이 침해당했다고 생각하는 기본권은 '기본권 보장을 위한 기본권'으로 수단적 권리의 성격을 갖는다.
- ㄹ. (다)에서 갑은 인간다운 생활을 위해 국가에 일정한 배려를 요구할 수 있는 적극적 권리의 행사를 제안받았다.

- ① ㄱ, ㄴ    ② ㄱ, ㄷ    ③ ㄴ, ㄷ    ④ ㄴ, ㄹ    ⑤ ㄷ, ㄹ

9. 위 헌법 재판에 대한 분석 및 추론으로 옳지 않은 것은?

- ① 갑은 형사 재판 중 권리 구제형 헌법 소원을 청구할 수 있다.
- ② 갑이 위헌 법률 심판 제청 신청을 하지 않더라도 법원은 직권으로 제청할 수 있다.
- ③ 법원이 갑의 위헌 법률 심판 제청 신청을 받아들였다면, 헌법 재판은 위헌 법률 심판에 해당한다.
- ④ 법원이 갑의 위헌 법률 심판 제청 신청을 기각했다면, 갑은 위헌 심사형 헌법 소원 심판을 청구했을 것이다.
- ⑤ 헌법재판소는 이륜차 통행을 금지함으로써 얻는 공익이 그로 인해 제한되는 갑의 이익보다 더 크다고 판단했을 것이다.

10. ㉠, ㉡에 대한 옳은 설명을 <보기>에서 고른 것은? [3점]

살인 사건이 났다며 112에 허위 신고를 한 갑에 대하여 경범죄처벌법 위반 혐의로 법원에 ㉠ 즉결 심판이 청구되었다. 판사는 심리 결과 갑에 대하여 ( ㉡ )을/를 선고하였다.

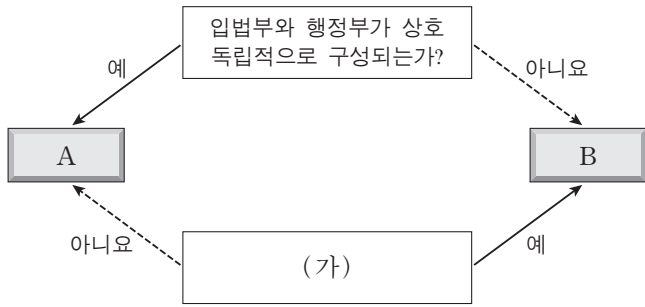
— <보기> —

- ㄱ. ㉠은 검사의 공소 제기 에 의한 것이다.
- ㄴ. ㉠에서 갑의 변호인 선임권은 보장된다.
- ㄷ. ㉡에 구류는 해당되지 않는다.
- ㄹ. ㉡이 벌금인 경우 피고인의 출석 없이 심판이 가능하다.

- ① ㄱ, ㄴ    ② ㄱ, ㄷ    ③ ㄴ, ㄷ    ④ ㄴ, ㄹ    ⑤ ㄷ, ㄹ



11. 그림은 전형적인 정부 형태 A와 B를 분류한 것이다. 이에 대한 옳은 설명을 <보기>에서 고른 것은?




— <보기> —

ㄱ. A에서 행정부 수반은 국민에 대해 책임을 질 뿐 의회에 대해서는 책임을 지지 않는다.  
 ㄴ. B에서 입법부는 내각 불신임권, 행정부는 의회 해산권을 통해 권력의 균형을 유지한다.  
 ㄷ. A와 달리 B에서는 행정부 수반의 임기가 보장되기 때문에 정책의 일관성이 유지된다.  
 ㄹ. (가)에는 '의원과 각료 간의 겸직이 금지되어 있는가?'가 들어갈 수 있다.

- ① ㄱ, ㄴ    ② ㄱ, ㄷ    ③ ㄴ, ㄷ    ④ ㄴ, ㄹ    ⑤ ㄷ, ㄹ

12. 다음 사례와 관련한 옳은 법적 판단을 <보기>에서 고른 것은? [3점]



— <보기> —

ㄱ. 갑은 자신이 먼저 계약의 의사를 밝혔으므로 계약을 취소할 수 없다.  
 ㄴ. 갑의 법정 대리인의 동의 없이도 계약은 일단 유효하나 법정 대리인이 취소하면 계약을 처음부터 없었던 것으로 할 수 있다.  
 ㄷ. 을은 갑의 법정 대리인이 계약에 대한 확답을 하기 전에 계약의 효력을 상실시킬 수 있다.  
 ㄹ. 을은 갑의 법정 대리인에게 일정 기간을 정해 계약을 취소할 것인지에 대한 확답을 요구할 수 있다.

- ① ㄱ, ㄴ    ② ㄱ, ㄷ    ③ ㄴ, ㄷ    ④ ㄴ, ㄹ    ⑤ ㄷ, ㄹ

13. 그림에 나타난 형사 절차 (가)~(라) 단계에 대한 설명으로 옳은 것은? [3점]



- ① (가) 단계에서 진술 거부권을 고지하지 않더라도 갑에 대한 신문 조서의 증거 능력은 부정되지 않는다.  
 ② (나) 단계에서 송치로 인해 갑은 피의자에서 피고인이 되어 형사 재판의 당사자가 된다.  
 ③ 법원의 판결이 배심원 평결과 다른 경우 (다) 단계의 판결서에는 그 이유가 기재되어야 한다.  
 ④ (라) 단계에서의 항소 법원은 지방 법원 본원 합의부 또는 고등 법원이다.  
 ⑤ 갑이 구속된 경우 (라) 단계에서 판결이 확정되면 갑은 무죄 판결을 한 항소 법원에 배상 명령을 신청할 수 있다.

14. 다음 사례에 대한 옳은 법적 판단만을 <보기>에서 있는 대로 고른 것은?

갑(35세)이 주방에서 점심을 준비하고 있었다. 그사이 갑의 아들 을(7세)이 아파트 15층 베란다에서 놀다가 지나가던 병을 향해 장난감을 던져 병의 머리를 크게 다치게 하였다. 병은 갑을 상대로 손해 배상을 요구하였으나 거절당했다. 이에 병은 소송을 제기하려고 한다.

— <보기> —

ㄱ. 병은 갑에게 책임 능력이 없는 자에 대한 감독 책임을 물을 수 있다.  
 ㄴ. 병은 소송 제기 전에 갑의 부동산에 대한 가압류를 신청할 수 있다.  
 ㄷ. 병은 소송 제기 전에 민사 조정 제도를 이용하여 손해 배상을 받을 수 있다.  
 ㄹ. 병이 갑에게 민사 책임을 묻기 위해서는 갑 또는 을에게 범죄가 성립되어야 한다.

- ① ㄱ, ㄷ    ② ㄱ, ㄹ    ③ ㄴ, ㄹ  
 ④ ㄱ, ㄴ, ㄷ    ⑤ ㄴ, ㄷ, ㄹ



제 4 교시

# 사회탐구 영역(법과 정치)

성명

수험 번호

1. 다음 수업 상황에서 교사의 질문에 옳은 대답을 한 학생만을 있는 대로 고른 것은?



- ① 갑, 을                      ② 갑, 병                      ③ 을, 정
- ④ 갑, 병, 정                ⑤ 을, 병, 정

2. 다음 헌법 전문과 조문에 공통적으로 나타난 우리 헌법의 기본 원리를 실현하기 위한 방안으로 적절한 것은? [3점]

헌법 전문 ... (중략) ... 국민 생활의 균등한 향상을 기하고 ... (중략) ...  
 제34조 ① 모든 국민은 인간다운 생활을 할 권리를 가진다.  
 제119조 ② 국가는 균형 있는 국민 경제의 성장 및 안정과 적정한 소득의 분배를 유지하고 ... (중략) ... 경제 주체 간의 조화를 통한 경제의 민주화를 위하여 경제에 관한 규제와 조정을 할 수 있다.

- ① 시민들의 평화적인 집회와 시위를 보장한다.
- ② 통일 정책 수립을 위한 자문 기구를 설치한다.
- ③ 우리 군대를 국제 연합의 평화 유지 활동에 파견한다.
- ④ 법률이 정하는 바에 의하여 최저 임금 제도를 시행한다.
- ⑤ 지방 자치제를 통해 주민 스스로 지역의 문제를 해결하도록 한다.

3. 민주주의의 원리 중 하나인 A에 대한 옳은 설명을 <보기>에서 고른 것은?

학습 목표: 민주주의의 원리를 이해할 수 있다.

1.

1) A를 제도적으로 실현하기 위한 헌법 조문

- 입법권은 국회에 속한다.
- 사법권은 법관으로 구성된 법원에 속한다.
- 행정권은 대통령을 수반으로 하는 정부에 속한다.

— < 보 기 > —

- ㄱ. 견제와 균형을 통하여 권력의 집중을 방지한다.
- ㄴ. 국민의 동의와 합의에 의해 국가 권력을 창설한다.
- ㄷ. 권력 남용을 방지하여 국민의 기본권을 보장하고자 한다.
- ㄹ. 민주적 선거 제도, 언론·출판·집회·결사의 자유, 국민 투표를 통해 실현된다.

- ① ㄱ, ㄴ                      ② ㄱ, ㄷ                      ③ ㄴ, ㄷ                      ④ ㄴ, ㄹ                      ⑤ ㄷ, ㄹ

4. 다음 자료에 대한 설명으로 옳은 것은?

정부 형태는 전형적으로 A와 B로 구분할 수 있다. A는 행정부가 의회와 독립적으로 구성되고 존속하는 형태이다. 이에 비해 B는 의회에 의해 행정부가 구성되어 의회와 행정부가 상호 의존하며 존속하는 형태이다. ㉠ A에서 의회와 행정부 간의 견제와 균형의 원리를 실현하는 장치가 있는 것처럼 ㉡ B에서도 의회와 행정부 간의 적절한 균형을 이루기 위한 장치가 존재한다.

- ① 행정부가 의회 해산권을 행사하는 것은 ㉠ 중의 하나이다.
- ② 의회가 의결한 법률안에 대하여 행정부가 거부권을 행사하는 것은 ㉡ 중의 하나이다.
- ③ 의회가 행정부를 불신임한 경우 행정부 수반과 각료가 연대책임을 지는 것은 A에서 나타난다.
- ④ 행정부 수반의 임기가 보장되어 국가 정책의 일관성을 유지할 수 있는 것은 A에서 나타나는 장점이다.
- ⑤ 행정부 수반과 국가 원수의 역할이 1인에게 모두 집중되어 있는 것은 B에서 나타난다.

5. 그림에 나타난 우리나라 헌법 기관 A에 대한 설명으로 옳은 것은? [3점]

2014년  주요 일정

- 월 ○일: 국무 회의 참석
- 월 ○일: 신임 대법관 임명장 수여
- 월 ○일: 호주 총리와의 회담
- 월 ○일: 공군 참모총장 보직 신고

- ① A의 모든 정책 결정은 국무 회의를 거쳐야 한다.
- ② A는 국회의 동의를 얻어 헌법 개정안을 발의할 수 있다.
- ③ A는 행정부의 수반으로서 국가 예산안을 심의·확정한다.
- ④ A는 법률 집행에 필요한 사항에 대하여 국회의 동의를 얻어 명령을 발할 수 있다.
- ⑤ A는 국가나 국민에게 중대한 재정적 부담을 지우는 조약을 체결·비준할 때 국회의 동의를 얻어야 한다.



6. 그림에 나타난 활동을 통해 보호하고자 하는 소비자 권리로 가장 적절한 것은?



- ① 안전할 권리
- ② 선택할 권리
- ③ 교육을 받을 권리
- ④ 피해를 보상받을 권리
- ⑤ 단체를 조직하고 활동할 권리

7. A, B에 대한 옳은 설명을 <보기>에서 고른 것은? [3점]

- 비례 대표 선출 방식: A  
유권자는 지역구 의회 의원 후보자에게만 투표한다. 지역구 선거에서는 최다 득표자 1인을 당선인으로 결정한다. 비례 대표 의석수는 각 정당이 얻은 지역구 의석수에 비례하여 정당별로 배분한다.
- 비례 대표 선출 방식: B  
유권자는 지역구 의회 의원 후보자와 정당에 각각 1표를 행사한다. 지역구 선거에서는 최다 득표자 1인을 당선인으로 결정한다. 비례 대표 의석수는 각 정당이 얻은 정당 득표율에 비례하여 정당별로 배분한다.

- <보기> —
- ㄱ. A는 B에 비해 직접 선거 원칙에 충실하다.
  - ㄴ. A는 B에 비해 유권자의 의사를 제대로 반영하지 못한다.
  - ㄷ. B는 A에 비해 평등 선거 원칙에 충실하다.
  - ㄹ. B는 A에 비해 군소 정당의 의회 진출 가능성이 낮다.

- ① ㄱ, ㄴ    ② ㄱ, ㄷ    ③ ㄴ, ㄷ    ④ ㄴ, ㄹ    ⑤ ㄷ, ㄹ

8. 기본권 A에 대한 설명으로 옳은 것은?

기본권은 일반적으로 자유권, 평등권, 참정권, 사회권, 청구권으로 분류된다. 이 중 **A**는 절대 왕정 시기에는 일부 특권 계층만 누릴 수 있었으나, 근대 시민 혁명 이후에는 재산이나 성별에 따라 차별적으로 부여되었다. 오늘날 대다수의 민주주의 국가에서 모든 국민에게 보장하고 있는 **A**는 원칙상 국민에게만 보장되는 권리이지만, 일정한 조건을 충족하는 외국인에게 허용되는 경우도 있다.

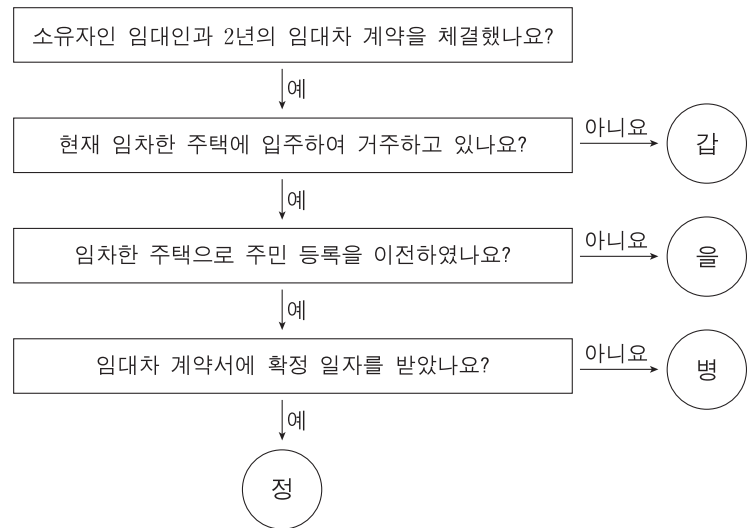
- ① 소극적이고 방어적인 권리이다.
- ② 국가의 급부를 요구하는 적극적 권리이다.
- ③ 실정법이 없더라도 자연법적으로 인정된다.
- ④ 우리나라에서는 법적 의무로 강제하지 않는다.
- ⑤ 다른 기본권을 보장하기 위한 수단적 기본권이다.

9. 갑~병은 대표적인 근대 정치 사상가이다. 이들의 주장에 대한 설명으로 옳은 것은? [3점]

갑: 자연 상태의 인간은 서로 위협하는 투쟁 상태에 있다. 이러한 상태로부터 인간은 질서와 평화를 세우고 보존하기 위해 계약을 통해 절대 권력을 지닌 국가를 만든다.  
 을: 인간이 자연 상태에서처럼 자유로우려면 계약을 통해 국가를 만들어야 한다. 일반 의지에 의해 형성된 국가는 특수한 개인이나 집단의 의지를 초월하는 보편적 가치를 지닌다.  
 병: 자연 상태는 자유롭고 평화롭지만 옳고 그름을 구분하는 법이 없고 다툼을 해결해 주는 재판관도 없으며 법을 집행할 수 있는 합법적인 권력도 없다.


- ① 갑은 사회 계약의 필요성을 인간의 자기 보존 욕구보다 타인에 대한 배려에서 찾았다.
- ② 을은 개인 단위가 아니라 집단 단위로 사회 계약을 체결한다고 주장했다.
- ③ 병은 재산권의 안정적 보호를 위해서 국가가 필요하다고 주장했다.
- ④ 갑과 을은 병과 달리 국가를 인위적 질서가 아니라 자연 발생적 질서로 간주했다.
- ⑤ 을과 병은 갑과 달리 자연권의 보호를 위한 삼권 분립을 주장했다.

10. 그림의 임차인 갑~정에 대한 법적 판단으로 옳은 것은? (단, 현재 이 주택에는 다른 권리 관계가 없다.) [3점]



- ① 갑과 을이 임대차 기간을 정하지 않았다면 그 임대차 계약은 무효이다.
- ② 갑과 정이 소액 임차인일 경우, 정은 소액 보증금의 일정액을 보호받지만 갑은 그렇지 않다.
- ③ 매매 등으로 임대인이 바뀌더라도 을과 병은 남은 임대차 기간에 계속 거주할 권리가 있다.
- ④ 계약 만료일 3개월 전까지 계약 갱신에 대하여 아무런 말이 없으면 병과 정은 같은 조건으로 다시 임대차한 것으로 본다.
- ⑤ 갑, 병, 정이 모두 주택의 등기부를 확인해 보지 않았다 하더라도 주택 임대차 보호법의 보호를 받는다.

11. 그림은 동일 사건에 대한 1심 재판 절차의 일부이다. (가), (나)의 재판에 대한 설명으로 옳지 않은 것은?



- ① (가) 재판에서 을은 갑에게 내용 증명 우편을 보내야 한다.
- ② (나) 재판에 대해서 갑은 항소할 수 있다.
- ③ (나) 재판의 판결은 공증 없이 강제 집행할 수 있다.
- ④ (가), (나) 재판 모두 변호사의 선임이 강제되지 않는다.
- ⑤ (가), (나) 재판 모두 갑은 국민 참여 재판을 신청할 수 없다.

12. (가), (나)에서 도출되는 민법의 원칙에 대한 설명으로 옳은 것은? [3점]

(가) 계약을 체결할 것인가, 누구와 체결할 것인가, 계약의 내용을 어떻게 할 것인가는 당사자가 자유롭게 정할 수 있다.

(나) 개인 간에 체결한 계약이라도 그 계약의 내용이 사회 질서에 부합하여야 하고, 어느 한쪽의 무경험 등으로 인하여 현저하게 균형을 잃어서는 안 된다.


- ① (가)는 소유권을 행사함에 있어서 공공 복리에 적합해야 함을 강조한다.
- ② (가)는 원칙적으로 국가를 포함한 타인의 간섭을 받지 않고 자기의 법률 관계를 스스로 정할 수 있다는 의미이다.
- ③ (나)는 제한 능력자에게는 적용되지 않는다.
- ④ (나)는 어떤 사람이 다른 사람에게 손해를 입혔을 때 고의나 과실이 인정되는 경우에만 책임을 진다는 의미이다.
- ⑤ 근대 자본주의의 문제점을 겪은 이후 (나)는 (가)로 수정되었다.

13. 다음 사례에 대한 법적 판단으로 옳지 않은 것은?

○○고등학교 2학년에 재학 중인 갑(만 17세)은 같은 학교 1학년 학생인 을(만 16세)을 폭행하였다. 이로 인하여 을은 한 달간의 통원 치료를 받았다. 경찰 조사 결과 갑은 '을이 나이가 어린데도 꼬박꼬박 반말을 하였다.'는 이유로 을을 폭행한 것으로 밝혀졌다.

- ① 갑은 형법에 따라 처벌될 수 있다.
- ② 갑은 가정 법원 소년부에서 재판을 받을 수 있다.
- ③ 판사는 교육상 필요하면 갑에 대한 기소를 유예할 수 있다.
- ④ 을은 갑에게 불법 행위로 인한 손해 배상을 청구할 수 있다.
- ⑤ 학교의 장은 갑이 을에 대해 접촉, 협박 및 보복 행위를 하지 못하도록 조치를 취할 수 있다.

14. 그림은 대중 매체에 대한 발표자 A~C의 주장이다. 이에 대한 학생의 분석 및 추론으로 가장 적절한 것은?



- ① 갑: A는 대중 매체가 다양한 사회 집단의 가치를 대변하는 것으로 생각하고 있어.
- ② 을: B는 대중 매체의 의제 설정 기능을 말하고 있어.
- ③ 병: C는 대중 매체가 가치관과 사고 방식을 획일화하는 것을 설명하고 있어.
- ④ 정: A와 B는 대중과 대중 매체 간의 양방향적 소통을 강조하고 있어.
- ⑤ 무: A와 C는 공익성을 상실하고 왜곡된 사실을 전달하는 대중 매체의 부작용을 말하고 있어.

15. 국제 사회를 바라보는 관점 (가), (나)에 대한 옳은 설명만을 <보기>에서 있는 대로 고른 것은? [3점]

(가) 국제 사회는 보편적인 가치나 질서에 의해서 지배되는 것이 아니고 오로지 힘에 의해 주도될 뿐이다. 각국은 자국의 이익을 최우선적으로 추구하고, 국가 간 관계에서는 동맹이나 갈등이 반복될 뿐이다.

(나) 국제 사회에는 보편적인 선이나 국제 규범이 존재한다. 따라서 국제 사회는 다양한 문제들을 국가 간 연합이나 협력을 통해서 해결할 수 있고, 이로써 국가 간 평화와 번영을 이룩하는 것이 가능하다.

— <보기> —

ㄱ. (가)는 현실주의적 관점이며, (나)는 자유주의적 관점이다.

ㄴ. (가)는 인간과 국가를 이성적인 존재라고 보지만, (나)는 이기적인 존재라고 본다.

ㄷ. (가)는 (나)와 달리 국제 사회를 무정부적 상태로 간주한다.

ㄹ. (가)는 힘에 의한 평화를 중시하지만, (나)는 국제법이나 국제기구, 세계 여론을 통한 평화를 강조한다.

- ① ㄱ, ㄴ      ② ㄴ, ㄷ      ③ ㄷ, ㄹ
- ④ ㄱ, ㄴ, ㄹ      ⑤ ㄱ, ㄷ, ㄹ

16. 다음 자료에 대한 법적 판단으로 옳은 것은? [3점]

시민 갑은 길을 가던 중 을이 행인의 가방을 소매치기하는 것을 목격하고 도망가던 을을 체포하여 경찰서에 즉시 인도하였다. 을은 회사의 부도로 경제적인 어려움을 겪게 되자 순간적인 충동으로 이 같은 일을 저질렀다고 경찰에게 진술하였고, 다음과 같은 형사 절차를 거치게 되었다.

(가)  
수사

→

(나)  
기소

→

(다)  
판결

- ① 갑이 현행범 을을 체포하여 인도한 행위는 정당 행위로 위법성이 조각된다.
- ② 경제적 어려움으로 인한 을의 행위는 책임이 조각될 수 있다.
- ③ (가)에서 을은 현행범이므로 진술 거부권이 인정되지 않는다.
- ④ (다)에서 을은 집행 유예와 사회 봉사 명령을 동시에 받을 수 없다.
- ⑤ (가)와 (나) 사이에 검사가 을의 구속 적부 심사 신청을 받아 들이면 을은 석방된다.

17. 다음 사례에 대한 법적 판단으로 옳은 것은?

A 회사 직원인 갑, 을 그리고 병은 업무를 마치고 퇴근한 후 회사 근처 식당에서 우연히 만나 함께 밥을 먹다가 정과 시비가 붙었다. 갑은 병이 망을 보도록 하고 을과 함께 정을 때려서 3천만 원의 치료비를 발생시켰다.

- ① 정은 병에게 3천만 원의 치료비를 청구할 수 있다.
- ② 정은 A 회사에게 3천만 원의 치료비를 청구할 수 있다.
- ③ 정은 병에게 갑과 을보다 적은 치료비를 청구해야 한다.
- ④ 정은 갑, 을 그리고 병에게 각각 1천만 원의 치료비를 청구해야 한다.
- ⑤ 정은 A 회사, 갑 그리고 을에게 각각 1천만 원의 치료비를 청구할 수 있다.

18. 국제기구 A에 대한 설명으로 옳은 것은? [3점]

A 은/는 국제 연합의 주요 기관 중 하나로 1946년에 창설되었으며 총회와 안전 보장 이사회가 선출한 국적이 다른 15인의 재판관으로 구성된다.

- ① A는 판결에 불복하는 당사국을 직접 제재할 수 있다.
- ② A는 원칙적으로 국제 연합 회원국 간의 모든 법적 분쟁에 있어 강제 관할권을 가진다.
- ③ 저명한 국제법 학자라도 특정국 국민이므로 그가 주장하는 학설은 A의 법원(法源)이 될 수 없다.
- ④ 문명국에 의해 인정된 법의 일반 원칙은 A에 회부된 법적 분쟁을 해결하는 법원(法源)이 될 수 있다.
- ⑤ 총회 또는 안전 보장 이사회는 법적 문제에 대해 A에 의견을 요청할 수 있으며 A가 제시한 의견에 반드시 따라야 한다.

19. 그림은 갑, 을 간의 근로 계약서의 일부이다. 밑줄 친 ㉠~㉣에 대한 옳은 설명만을 <보기>에서 있는 대로 고른 것은? [3점]

<근로 계약서>

사용자 갑과 근로자 을은 다음과 같이 근로 계약을 체결한다.

1. 이 계약의 기간은 2013년 1월 1일부터 2013년 12월 31일까지이다.
2. 을은 갑의 ○○시 □□동 △△ 소재 공장에서 오전 9시부터
  - ㉠ 하루 8시간 근로를 제공한다.
3. ㉡ 갑은 을에게 매월 15일 현금으로 300만 원을 지급한다.
4. ㉢ 을이 혼인하면 그 즉시 퇴직한다.
5. ㉣ 을은 노동 조합에 가입할 수 없다.

<보기>

- ㄱ. ㉠의 근로 시간은 휴게 시간을 포함한다.
- ㄴ. ㉡은 근로 계약의 중요 부분이므로 반드시 명시해야 한다.
- ㄷ. ㉢에 근거하여 을이 해고된다면 을은 노동 위원회에 구제 신청을 하거나 법원에 소송을 제기할 수 있다.
- ㄹ. 을이 노동 조합에 가입하여 활동한 경우 ㉣을 이유로 갑이 을에게 불이익을 주는 것은 부당 노동 행위에 해당한다.

- ① ㄱ, ㄴ                      ② ㄱ, ㄹ                      ③ ㄴ, ㄷ
- ④ ㄱ, ㄷ, ㄹ                ⑤ ㄴ, ㄷ, ㄹ

20. (가)~(다)는 서로 다른 정치 참여 주체를 전형적으로 구분한 것이다. 이에 대한 설명으로 옳은 것은? (단, (가)~(다)는 각각 정당, 시민 단체, 이익 집단 중의 하나이다.)

- (가) 특정 분야에서 특정 쟁점에 대한 자신들의 이익을 표출하고 공공 정책에 반영하기 위해 자신의 이익을 대변해 줄 후보를 지지하거나 후원하는 활동을 한다.
- (나) 공공 문제를 해결하기 위해 자발적으로 만들어진 집단으로 정치 권력의 집중과 남용을 감시하고 견제하며 풀뿌리 민주주의의 실현에도 기여한다.
- (다) 정치 권력의 획득을 목적으로 하며 이익을 표출하고 집약하는 동시에 정부를 조직하고 통제하는 집단으로 정치 사회화 기능도 수행한다.

- ① (가)는 사익을 추구하기도 하지만, 기본적으로 공익의 실현을 목적으로 한다.
- ② (나)는 정보 및 정치 후원금 제공, 로비 활동, 소송 제기 등의 방법으로 자신들의 특수 이익을 추구한다.
- ③ (다)는 자발적으로 결성된 조직으로 선거를 통해 유권자와 대표자를 연결하며 정책과 공약을 개발한다.
- ④ (가)는 (나)와 달리 대의 민주 정치의 한계를 보완하는 기능을 한다.
- ⑤ (나)는 비영리성을 가지지만, 정치 권력의 획득을 목적으로 한다는 점에서 (다)와 유사하다.

\* 확인 사항

- 답안지의 해당란에 필요한 내용을 정확히 기입(표기)했는지 확인 하시오.



제 4 교시

사회탐구 영역(법과 정치)

성명

수험 번호

1. 다음 자료에 대한 설명으로 옳지 않은 것은? [3점]

민주 정치는 아테네의 민주 정치 이후 17~18세기 시민 혁명을 거쳐 오늘날과 같은 형태로 발전해 왔다. 아테네에서는 **A** 을/를 설치하여 전쟁, 외교, 과세, 선출 등 대부분의 공적 업무를 결정하였다. 근대 ㉠ 시민 혁명 과정에서 사회의 주도권을 새롭게 장악한 시민 계급은 전제와 억압으로부터의 해방, 즉 자유 이념을 주창하였다. 특히 1789년 프랑스 혁명은 인간은 태어나면서부터 자유롭고 평등한 권리를 가진다는 천부 인권 사상을 내세웠다. 오늘날의 민주 정치는 대의 민주제를 기본으로 한다. 하지만 ㉡ 의회주의의 위기 등으로 인하여 대의 민주제에 대한 우려가 커지면서, 이를 보완하기 위해 직접 민주제의 요소인 **B** 이/가 가미되었다.

- ① A에는 여자, 노예, 외국인이 참여할 수 없었다.
- ② B에는 국민 투표, 국민 발안, 국민 소환이 포함된다.
- ③ ㉠ 직후 자유주의의 확산과 보통 선거 제도의 도입이 이루어 졌다.
- ④ ㉠의 사상적 배경에는 계몽사상과 사회 계약설이 있다.
- ⑤ ㉡은 행정 국가화 현상으로 인해 더욱 심화되고 있다.

2. 갑~정의 주장에 대한 추론으로 가장 적절한 것은?

갑: 베스트팔렌 조약 이후 주권 국가들은 국제 질서를 주도해 왔어. 앞으로도 군사력 독점과 국가 간 동맹 등을 통해 국제 사회에서 강력한 주도권을 행사할 거야.  
 을: 오늘날에는 지방 자치 단체, 소수 민족, 각종 사회 세력 같이 국가의 일부이지만 독자적인 영역에서 국제적으로 활동하는 행위체들의 영향력이 증대되고 있어.  
 병: 빈곤이나 기아와 같이 보편적 인류애를 통해 접근해야 하는 문제들은 지구 공동체 구성원이라는 연대감에 기초한 국제적인 시민운동 단체의 활동을 통해 해결할 수 있어.  
 정: 환경 파괴 문제는 국가들이 독자적으로 해결하기가 현실 적으로 불가능해. 따라서 지구 온난화에 책임이 있는 초국적 기업의 자발적인 환경 보호 노력이 필요해.

- ① 갑과 을은 국제 사회에서 '국가 내부적 행위체'의 수와 영향력의 확대를 강조할 것이다.
- ② 갑과 병은 '비정부 국제기구'의 역할을 중시하지 않을 것이다.
- ③ 갑과 달리 정은 주권 국가가 국제 사회의 주도적인 행위 주체 라고 볼 것이다.
- ④ 을과 병은 국제 사회를 바라보는 두 관점 중에서 현실주의적 관점을 추구할 것이다.
- ⑤ 병과 정은 국제 사회 문제를 해결하기 위해 '초국가적 행위체'의 역할과 책임을 강조할 것이다.

3. 다음은 민주주의의 유형을 구분한 것이다. 이에 대한 설명으로 옳은 것은?

1. 민주주의의 유형

- **A** 에 따른 유형  
㉠ 자유 민주주의, ㉡ 사회 민주주의
- **B** 에 따른 유형  
㉢ 직접 민주주의, ㉣ 대의 민주주의, 참여 민주주의

- ① A는 '참여 방식', B는 '이념'이다.
- ② ㉠은 ㉡보다 분배와 복지를 중시한다.
- ③ ㉡은 ㉠보다 생산 수단의 사회적 소유와 관리를 중시한다.
- ④ ㉢은 ㉣에 비해 시민들의 의사가 왜곡되고 정치적 무관심이 발생할 가능성이 높다.
- ⑤ ㉣은 ㉢에 비해 정책 결정 과정에서 비용이 적게 들고 대표성 문제가 발생할 가능성도 낮다.

4. 다음 자료는 어느 정당의 개정 전·후 당헌을 비교한 것이다. 밑줄 친 ㉠~㉣에 대한 추론으로 가장 적절한 것은?

개정 전 당헌	개정 후 당헌
제○○조(국회의원 지역구 선거 후보 선정) ㉠ 중앙당 최고 위원회에서 후보를 선정한다. 다만, 중앙당 최고 위원회가 결정하지 못한 경우 당대표가 후보를 선정한다.	제○○조(국회의원 지역구 선거 후보 선정) ㉡ 대의원 투표와 일반 당원 투표 결과를 50%씩 반영해 후보를 선정한다. 다만, 필요한 경우 지역구의 일반 유권자들을 대상으로 한 ㉢ 무작위 여론 조사 결과를 100% 반영해 후보를 선정할 수 있다.

- ① ㉠보다 ㉡에서 후보 선출 과정이 더 폐쇄적일 것이다.
- ② ㉠보다 ㉢에서 당 지도부가 영향력을 행사하기 용이할 것이다.
- ③ ㉠보다 ㉢에서 유권자 지지가 낮은 후보를 선정하게 될 것이다.
- ④ ㉡보다 ㉠이 당원 전체의 의사를 반영하기 용이할 것이다.
- ⑤ ㉣보다 ㉡이 정당의 이념적 정체성을 유지하기 용이할 것이다.

5. 그림에 나타난 갑, 을의 관점에 대한 설명으로 옳은 것은? [3점]



- ① 갑은 통치의 합법성보다는 정당성을 더 강조할 것이다.
- ② 을은 '법에 의한 지배'보다 '법의 지배'를 더 강조할 것이다.
- ③ 갑과 달리 을은 법의 목적과 내용을 중시하지 않을 것이다.
- ④ 갑과 달리 을은 "악법도 법이다."라는 주장에 동의할 것이다.
- ⑤ 을과 달리 갑은 입헌주의의 실현을 주장할 것이다.

# 2 사회탐구 영역 (법과 정치)

6. 우리나라 헌법의 기본 원리 (가), (나)에 대한 옳은 설명을 <보기>에서 고른 것은? [3점]

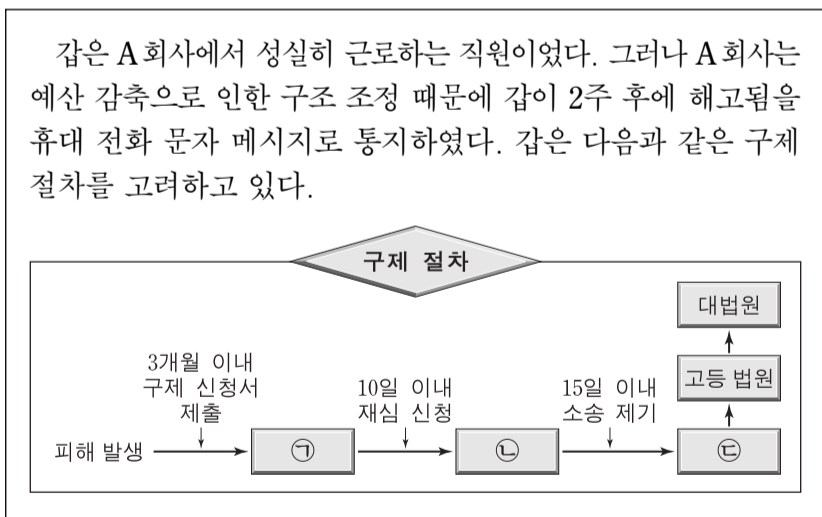
헌법의 기본 원리	관련 헌법 내용
(가)	전문 ... (전략) ... 자유와 조화를 바탕으로 자유 민주적 기본 질서를 더욱 확고히 하여 ... (후략) ...
(나)	제32조 ① 모든 국민은 근로의 권리를 가진다. ... (후략) ... 제34조 ① 모든 국민은 인간다운 생활을 할 권리를 가진다. ② 국가는 사회 보장·사회 복지의 증진에 노력할 의무를 진다.

— <보기> —

ㄱ. (가)는 경제적 측면에서 효율성보다 형평성이 강조되는 원리이다.  
 ㄴ. (가)는 복수 정당제를 기반으로 하는 자유로운 정당 활동을 보장한다.  
 ㄷ. (나)는 사회·경제적으로 상대적 평등보다 절대적 평등을 추구한다.  
 ㄹ. (나)는 자본주의의 문제를 해결하기 위해 국가의 적극적인 역할을 강조한다.

- ① ㄱ, ㄴ    ② ㄱ, ㄷ    ③ ㄴ, ㄷ    ④ ㄴ, ㄹ    ⑤ ㄷ, ㄹ

7. 다음 자료에 대한 법적 판단으로 옳은 것은? [3점]



- ① A 회사의 해고 사유가 정당하므로 갑의 해고는 부당 해고에 해당하지 않는다.  
 ② 갑은 부당 노동 행위를 이유로 ㉠에 구제 신청을 할 수 있다.  
 ③ 갑이 ㉡의 심판 결과에 대해 불복할 경우 ㉢에 민사 소송을 제기할 수 있다.  
 ④ 갑은 ㉡의 결정 전에는 ㉢에 소송을 제기할 수 없다.  
 ⑤ 갑은 ㉠과 ㉡을 통한 구제와 별도로 해고 무효 확인 소송을 제기할 수는 없다.

8. 밑줄 친 ㉠~㉢에 대한 옳은 법적 판단만을 <보기>에서 있는 대로 고른 것은?

갑은 음주 운전 신고를 받고 출동한 경찰관 을의 음주 측정을 거부하고 을을 폭행한 혐의로 ㉠기소되었다. ○○ 법원은 갑에게 ㉡징역 6월에 집행 유예 2년을 선고하였고, 이 ㉢판결은 확정되었다. 재판부는 음주 측정 과정에서 욕설과 폭행을 한 갑에게 ㉣완력을 행사하여 체포한 을의 행위는 적법하다고 보았다.

— <보기> —

ㄱ. ㉠ 단계에서 갑은 무죄로 추정된다.  
 ㄴ. ㉡의 경우 징역 6월을 복역한 후 2년이 지나면 형 선고의 효력이 상실된다.  
 ㄷ. ㉢ 이후 갑은 일정한 요건을 갖추면 가석방될 수 있다.  
 ㄹ. ㉣은 범죄의 구성 요건을 충족하지만 정당 행위이므로 위법성이 조각되었다.

- ① ㄱ, ㄴ    ② ㄱ, ㄹ    ③ ㄴ, ㄷ  
 ④ ㄱ, ㄷ, ㄹ    ⑤ ㄴ, ㄷ, ㄹ

9. 그림의 (가)에 들어갈 법적 조언으로 옳은 것은? [3점]

공지 사항    게시 판    Q & A

Q: 저는 16세인 고등학생으로 부모님 몰래 너무 후회되는 일을 하여 법적 조언을 구하기 위해 글을 올립니다. 제가 3일 전 전자 상가에서 게임기를 대폭 할인한다는 상인의 이야기를 들었습니다. 저는 평소에 그 게임기를 갖고 싶었고 정가보다 20만 원 싸게 판다기에 50만 원이나 주고 게임기를 사고 말았습니다. 제 용돈으로는 감당하기 어려워 친구에게 까지 돈을 빌려서 샀는데..... 환불 받고 싶은데 어떻게 하죠? 저는 게임기를 몇 번 사용하였습니다.

A: \_\_\_\_\_ (가)

- ① 당신은 부모 동의 없이 직접 계약을 취소할 수 있습니다.  
 ② 당신은 법적으로 미성년자이기 때문에 계약은 무효입니다.  
 ③ 상인에게 불법 행위 책임이 인정되므로 계약은 무효입니다.  
 ④ 당신은 게임기를 사용했기 때문에 계약을 취소할 수 없습니다.  
 ⑤ 상인이 당신 부모님께 계약을 어떻게 할지 물어보지 않았기 때문에 계약은 무효입니다.

10. 다음은 국제 사법 재판소 규정의 일부이다. (가)~(라)에 대한 설명으로 옳지 않은 것은?

제38조 1. 재판소는 재판소에 회부된 분쟁을 국제법에 따라 재판하는 것을 임무로 하며, 다음을 적용한다.

(가) 분쟁국에 의하여 명백히 인정된 규칙을 확립하고 있는 일반적인 또는 특별한 국제 협약  
 (나) 법으로 수락된 일반 관행의 증거로서의 국제 관습  
 (다) 문명국에 의하여 인정된 법의 일반 원칙  
 (라) 법칙 결정의 보조 수단으로서의 사법 판결 및 제국(諸國)의 가장 우수한 국제법 학자의 학설  
 ... (후략) ...

- ① 국가와 국제기구 간에 (가)를 체결할 수 있다.  
 ② (나)는 별도의 체결 절차가 필요 없다.  
 ③ 외교관의 면책 특권은 (다)에 해당한다.  
 ④ 국제 사법 재판소는 (라)를 반드시 따라야 하는 것은 아니다.  
 ⑤ (가)~(라)는 강제적으로 집행할 기구가 없다는 특징이 있다.

11. 다음 자료에 대한 옳은 분석을 <보기>에서 고른 것은? [3점]

아동 대상 성범죄 혐의로 ○○ 법원에서 재판을 받고 있는 갑은 “아동·청소년 대상 성폭력 범죄를 저지른 사람에 대하여 신상 정보를 공개하도록 한 해당 법률 조항이 이중 처벌로 자신의 인격권을 과도하게 침해한다.”라고 하며 위헌 법률 심판 제청을 신청하였다가 기각 당하자 헌법 소원 심판을 청구하였다. 이에 대해 헌법 재판소는 “아동 대상 성폭력 범죄자에 대한 신상 정보 공개는 헌법에 위반되지 않는다.”라는 결정을 내렸다. 헌법 재판소는 “...(전략)... 해당 법률은 공개 대상자의 기본권 침해를 최소화하기 위한 규정을 두고 있고, 인격권을 제한하는 데 따른 피해를 최소화하는 장치도 마련하였기 때문에 침해의 최소성 요건도 갖추었다. ...(후략)...”라고 중요 이유를 밝혔다.

<보기>

- ㄱ. 갑이 청구한 헌법 소원은 위헌 심사형 헌법 소원이다.
- ㄴ. ○○ 법원은 해당 법률 조항이 이중 처벌로 갑의 기본권을 침해하였다고 보았다.
- ㄷ. 헌법 재판소는 해당 법률 조항이 과잉 금지 원칙에 위배되지 않는다고 보았다.
- ㄹ. 갑이 침해받았다고 생각하는 기본권은 국가에 급부를 적극적으로 요구할 수 있는 사회적 기본권이다.

- ① ㄱ, ㄴ    ② ㄱ, ㄷ    ③ ㄴ, ㄷ    ④ ㄴ, ㄹ    ⑤ ㄷ, ㄹ

12. 밑줄 친 ㉠~㉣에 대한 옳은 설명 및 추론만을 <보기>에서 있는 대로 고른 것은?

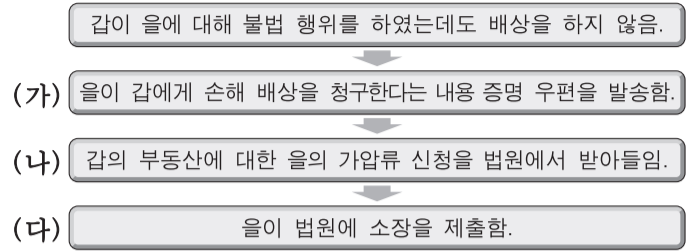
- 1948년 7월 17일 제정된 우리나라 헌법은 이후 9차례의 개정 과정을 거쳐 왔다. ㉠ 현행 헌법은 1987년 9차 헌법 개정의 결과물로 ㉡ 5년 단임의 대통령 직선제를 규정하고 있다.
- 2009년 4월 6일, 경제 위기 극복 및 경쟁력 회복을 위하여 노사 간 협력과 상생을 추구할 수 있도록 ㉢ ‘노사 관계 발전 지원에 관한 법률안’이 국회에 ㉣ 제출되었다.

<보기>

- ㄱ. ㉠의 개정은 국회 의원 선거권자 과반수의 투표와 투표자 과반수의 찬성을 얻어야 하는 국민 투표로 확정된다.
- ㄴ. ㉡을 변경하기 위해서는 국회 재적 의원 3분의 2 또는 대통령의 발의가 필요하다.
- ㄷ. ㉢이 의결되려면 국회 재적 의원 과반수의 출석과 출석 의원 과반수의 찬성이 필요하다.
- ㄹ. ㉣은 정부나 국회 의원 10인 이상 또는 국회 상임 위원회가 하였을 것이다.

- ① ㄱ, ㄴ    ② ㄱ, ㄹ    ③ ㄴ, ㄷ
- ④ ㄱ, ㄷ, ㄹ    ⑤ ㄴ, ㄷ, ㄹ

13. (가)~(다)에 대한 법적 판단으로 옳은 것은?



- ① (가)의 시점에서 갑의 손해 배상 책임이 발생한다.
- ② (가)에 의하여 우체국은 갑의 손해 배상 책임을 증명한다.
- ③ (나)의 결정이 있으면 갑의 부동산 처분이 제한된다.
- ④ (나)의 결정에 의하여 등기부 을구에 저장권이 기재된다.
- ⑤ (다)를 위해서는 반드시 민사 조정 절차를 거쳐야 한다.

14. 다음 사례에 대한 옳은 법적 판단을 <보기>에서 고른 것은?

갑은 A 학원에서 3개월간 강좌를 듣기로 하고 90만 원을 지급하였다. 개강 후 14일 정도 지났고 갑은 개인 사정으로 더 이상 수강을 할 수 없게 되어 80만 원의 수강료 환급을 요구했더니 A 학원에서는 2개월분인 60만 원만 돌려줄 수 있다고 하였다. 몇 개월이 지나도 해결이 되지 않자 갑은 소비자 피해에 대한 구제 절차를 고려하고 있다.

<보기>

- ㄱ. 갑은 한국 소비자원의 피해 구제 절차 중이라도 민사 소송을 제기할 수 있다.
- ㄴ. 갑은 소비자 분쟁 조정 위원회의 조정 결정이 있더라도 그 결정을 수락하지 않아도 된다.
- ㄷ. 환급 요구를 받은 A 학원은 한국 소비자원에 그 해결을 의뢰할 수 없다.
- ㄹ. 한국 소비자원이 일정액을 지급하라고 A 학원에게 권고한다면, A 학원은 갑에게 그 일정액을 지급해야만 한다.

- ① ㄱ, ㄴ    ② ㄱ, ㄷ    ③ ㄴ, ㄷ    ④ ㄴ, ㄹ    ⑤ ㄷ, ㄹ

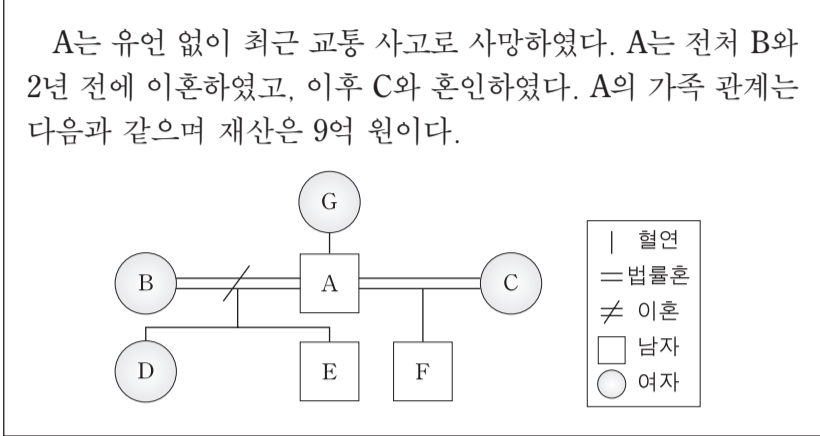
15. 그림의 두 가지 상황에 대한 법적 판단으로 옳은 것은? [3점]



- ① 갑에게는 책임 능력이 없으므로 을은 불법 행위 책임을 지지 않는다.
- ② 을에게는 위법성이 없으므로 을은 불법 행위 책임을 지지 않는다.
- ③ 병의 행위가 업무와 관련이 없어도 정은 불법 행위 책임을 진다.
- ④ 정의 불법 행위 책임이 인정되더라도 병은 불법 행위 책임을 진다.
- ⑤ 갑과 병의 불법 행위에 대하여 을과 정은 무과실 책임을 진다.



16. 다음 사례에서 발생 가능한 A의 재산 상속 문제에 대한 법적 판단으로 옳은 것은? [3점]



- ① D와 F의 상속분은 서로 다르다.
- ② D가 상속을 포기할 경우 B가 상속받는다.
- ③ C가 상속을 포기할 경우 G가 D, E, F와 동순위로 상속받는다.
- ④ C가 A의 교통사고 시 동시에 사망하였으면 E가 2억 원을 상속받는다.
- ⑤ C와 F가 A의 교통사고 시 동시에 사망하였으면 D가 4억 5천만 원을 상속받는다.

17. 표는 우리나라 국가 기관 간의 견제 관계를 나타낸 것이다. 이에 대한 설명으로 옳은 것은? (단, (가)~(다)는 각각 입법부, 행정부, 사법부 중 하나이다.)

구분	견제 대상			
	(가)	(나)	(다)	
견제 주체	(가)		A	B
	(나)	C		D
	(다)	E	F	

- ① A가 '대법원장 임명권'이면, (다)는 사법부이다.
- ② A가 '조약 체결·비준 동의권'이면, B에는 '법률안 거부권'이 포함된다.
- ③ C나 D가 '명령·규칙·처분 심사권'이면, (나)는 행정부이다.
- ④ E가 '위헌 법률 심판 제청권'이면, (나)는 입법부이다.
- ⑤ F가 '법률안 거부권'이면, (가)는 사법부이다.

18. 다음 사례에 대한 법적 판단으로 옳은 것은? [3점]

고등학생 갑(만 17세)은 을의 아들(만 15세)을 지속적으로 괴롭혀 왔다. 이 사실을 알게 된 을은 갑을 불러내 ㉠ 대화로 훈계하였다. 그러나 갑은 또다시 을의 아들을 ㉡ 심하게 폭행하였다. 이에 을은 말로 헤서는 안 되겠다는 생각에 다음 날 갑을 ㉢ 찾아가 폭행하였고 갑은 중상해를 입었다.

- ① 갑은 가정 법원 소년부에서 형벌과 동시에 보호 처분도 받을 수 있다.
- ② 갑에 대해 검사는 범죄 예방 위원회의 선도를 조건으로 기소를 유예할 수 있다.
- ③ 갑이 형사 처벌을 받을 경우 학교의 장은 갑에 대하여 징계를 부과할 수 없다.
- ④ 을의 ㉠ 행위는 사회 상규에 어긋나지 않기 때문에 위법성 조각 사유인 정당 행위가 성립한다.
- ⑤ 을의 ㉢ 행위는 갑의 ㉡ 행위에 대한 방어 행위이므로 정당 방위가 성립한다.

[19~20] 다음 글을 읽고 물음에 답하시오.

- 갑국 의회는 지역 대표와 비례 대표로 구성되고 총 의석수는 200석이다. 지역 대표는 100개의 소선거구에서 단순 다수제로 선출하고, 나머지 의석은 비례 대표로 정당 득표율에 따라 배분한다. 유권자는 지역 대표 선출을 위해 지역구 후보에 1표, 비례 대표 선출을 위해 정당에 1표를 행사한다.
- 비례 대표 의석 배분은 다음과 같은 순서로 한다.
  - 1) 정당 득표율 12% 이상을 획득한 정당(이하 의석 할당 정당)에게 각 정당의 '의석 할당 득표율\*'에 따라 배분함.
 
$$*X \text{ 정당 '의석 할당 득표율'}(\%) = \frac{X \text{ 정당 득표율}}{\text{모든 의석 할당 정당의 득표율 합}} \times 100$$
  - 2) 각 의석 할당 정당의 '의석 할당 득표율'에 비례 대표 총 의석수를 곱하여 산출된 수의 정수(整數)만큼 의석을 각 정당에 먼저 배분하고, 잔여 의석은 소수점 이하 수가 큰 순서대로 각 정당에 1석씩 배분함.
- 갑국 의회는 향후 지역 대표 선출 방식을 ㉠ 단순 다수제에서 절대 다수제로, 비례 대표 의석 배분 시 최소 조건인 ㉡ '12% 이상'을 '5% 이상'으로 개정하고자 한다.

19. 표는 최근 실시된 갑국 의회 의원 선거 결과이다. 각 정당의 의석수로 옳은 것은?

(단위: %)

정당	지역 대표 당선자 비율	비례 대표 정당 득표율
A	40	30
B	30	40
C	20	20
D	10	10
합계	100	100

	A 정당	B 정당	C 정당	D 정당
①	73	74	40	13
②	73	74	42	11
③	73	75	42	10
④	75	73	42	10
⑤	75	75	40	10

20. 갑국 의회가 선거 제도를 ㉠, ㉡과 같이 개정할 경우 일반적으로 나타날 수 있는 결과에 대한 추론으로 가장 적절한 것은? [3점]

- ① ㉠으로 인해 선거 관리 절차가 간소화될 것이다.
- ② ㉠으로 인해 지역 대표의 대표성이 낮아질 것이다.
- ③ ㉠으로 인해 게리맨더링의 가능성이 없어질 것이다.
- ④ ㉡으로 인해 사표가 줄어들 것이다.
- ⑤ ㉡으로 인해 투표 절차가 복잡해질 것이다.

\* 확인 사항  
○ 답안지의 해당란에 필요한 내용을 정확히 기입(표기)했는지 확인하시오.



6. (가), (나)는 각각 전형적인 정부 형태인 대통령제와 의원 내각제 중 하나를 나타낸 것이다. 이에 대한 설명으로 옳은 것은? [3점]



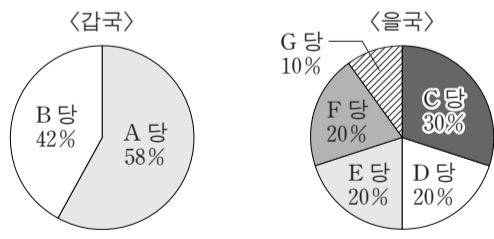
- ① (가)에서는 국가 원수와 행정 수반의 역할이 1인에게 집중되어 있다.
- ② (가)에서 행정부는 입법부의 신임을 받고 입법부에 대해 책임을 져야 하지만 행정 수반의 임기는 엄격하게 보장된다.
- ③ (나)에서 행정 수반은 입법부에 대한 견제 장치로 법률안 거부권을 갖는다.
- ④ (나)에서 입법부와 행정부가 대립할 때 행정 수반은 최후 수단으로 입법부를 해산할 수 있다.
- ⑤ (가), (나) 모두 국정 운영의 능률성을 위해 의회 의원의 각료 겸직을 허용한다.

7. 우리나라 헌법의 기본 원리 A에 대한 옳은 설명을 <보기>에서 고른 것은? [3점]

국가와 지방 자치 단체가 생활 유지 능력이 없는 사람의 질병·부상·출산에 대해 의료 급여를 제공하는 것은 **A**에 의하여 정당화된다. 국가와 지방 자치 단체는 이 원리에 따라 경제적 약자에 대해 의료 급여를 제공할 수 있을 뿐만 아니라 제공할 의무가 있다.

- <보기>—
- ㄱ. 실질적 평등보다 형식적 평등을 실현하기 위한 것이다.
  - ㄴ. 국민의 생존권 보장을 위한 국가의 적극적 역할을 강조한 것이다.
  - ㄷ. 개인의 운택한 삶에 필요한 문화적 환경을 조성하기 위한 것이다.
  - ㄹ. 자본주의 발달로 인하여 발생한 빈부 격차와 같은 현대 사회의 문제를 해결하기 위한 것이다.

- ① ㄱ, ㄴ    ② ㄱ, ㄷ    ③ ㄴ, ㄷ    ④ ㄴ, ㄹ    ⑤ ㄷ, ㄹ
8. 그림은 의원 내각제 국가인 갑국과 을국의 의회 선거 결과에 따른 각 정당의 의석률을 나타낸 것이다. 이에 대한 옳은 추론을 <보기>에서 고른 것은?



- <보기>—
- ㄱ. 갑국보다 을국에서 정치적 책임 소재가 명확할 것이다.
  - ㄴ. 갑국과 달리 을국에서는 연립 정부 구성이 필요할 것이다.
  - ㄷ. 을국보다 갑국에서 정국이 안정될 가능성이 클 것이다.
  - ㄹ. 을국보다 갑국에서 소수 집단의 의사가 더 잘 반영될 것이다.

- ① ㄱ, ㄴ    ② ㄱ, ㄷ    ③ ㄴ, ㄷ    ④ ㄴ, ㄹ    ⑤ ㄷ, ㄹ

9. 갑국~병국의 행위에 공통적으로 나타난 국제 사회의 특징에 대한 진술로 가장 적절한 것은?

- 갑국은 온실 가스 감축을 골자로 하는 기후 변화 협약에 가입했으나, 국가별로 감축 목표가 설정되자 자국의 산업을 보호하기 위해 이 협약에서 탈퇴했다.
- 을국은 ○○국 내전 중 발생한 대량 학살에 대응하기 위한 국제 공조 체제에 참여하지 않기로 했다. ○○국이 경제적으로 중요한 위치에 있지 않다고 판단한 것이다.
- 병국은 다자간 상호 방위 조약 기구에 회원국으로 가입했다. 그 목적은 주변국들의 군사 위협에 대비하고 자국의 안보를 보장하기 위한 것이었다.

- ① 국가는 도덕적 규범에 따라 외교 정책을 수립한다.
- ② 자국의 이익 추구보다 국가 간 상호 협력이 우선한다.
- ③ 개별 국가의 이익과 국제 사회 전체의 이익은 일치한다.
- ④ 국내의 정치 상황에 따라 국가 간 상호 협력이 무시된다.
- ⑤ 개별 국가의 행위에는 자유주의보다 현실주의가 강하게 나타난다.

10. 다음 자료의 (가)에 들어갈 옳은 진술을 <보기>에서 고른 것은? [3점]

교사: 의회는 사회의 다양한 집단들을 대표하는 의원들로 구성되어야 합니다. 그러기 위해서는 '비례성'이 높은 선거 제도를 채택해야 합니다. 선거 결과 각 정당의 득표율과 의석률 간 차이가 작으면 비례성이 높고, 차이가 크면 비례성이 낮습니다. 그런데 정치학자 A는 한 선거구에서 선출하는 대표의 수가 많을수록 비례성이 높다고 주장하는 반면, 정치학자 B는 대표 결정 방식만이 비례성과 관련이 있고 대표 결정 방식 중 비례 대표제하에서만 비례성이 높다고 주장합니다. A, B의 주장과 다음 표의 갑국~정국 선거 제도에 근거할 때, 선거 제도 변경에 따른 비례성 변화를 어떻게 평가할 수 있을까요?

국가	현행 의회 선거 제도	
	선거구제	대표 결정 방식
갑국	소선거구	단순 다수제
을국	소선거구	절대 다수제
병국	중선거구	소수 대표제
정국	대선거구	비례 대표제

학생: \_\_\_\_\_ (가) \_\_\_\_\_

- <보기>—
- ㄱ. A에 의하면, 을국이 갑국과 같은 대표 결정 방식으로 변경할 경우 비례성이 높아져요.
  - ㄴ. A에 의하면, 병국이 을국과 같은 선거 제도로 변경할 경우 비례성이 낮아져요.
  - ㄷ. B에 의하면, 병국이 정국과 같은 선거구제로 변경할 경우 비례성이 높아져요.
  - ㄹ. B에 의하면, 정국이 갑국과 같은 선거 제도로 변경할 경우 비례성이 낮아져요.

- ① ㄱ, ㄴ    ② ㄱ, ㄷ    ③ ㄴ, ㄷ    ④ ㄴ, ㄹ    ⑤ ㄷ, ㄹ



11. 다음 사례를 범죄의 성립 과정에 적용할 때, 밑줄 친 갑의 행위에 대하여 법원이 판단한 내용으로 옳은 것만을 <보기>에서 있는 대로 고른 것은? [3점]

평범한 회사원 갑은 옆에 사는 을의 집에 화재가 난 것을 발견하였다. 을에게 연락을 취하고 소방서에 신고도 하였으나 불은 순식간에 번져 갑의 집에도 옮겨 붙을 상황이었다. 갑은 부득이하게 을의 집 대문을 부수고 소화기로 불을 껐다. 을은 갑의 대문 파손 행위에 대해서 형사 책임을 물었으나 법원은 갑의 행위는 범죄가 되지 않는다고 판단하였다.

— <보기> —

- ㄱ. 갑의 행위는 범죄의 구성 요건에 해당한다고 판단하였다.
- ㄴ. 갑의 행위는 위급한 상황을 피하려는 것으로 판단하였다.
- ㄷ. 갑의 행위는 부당한 침해에 대한 방어 행위라고 판단하였다.
- ㄹ. 갑의 행위는 사회 상규에 부합하는 자구 행위라고 판단하였다.

- ① ㄱ, ㄴ                      ② ㄱ, ㄷ                      ③ ㄷ, ㄹ
- ④ ㄱ, ㄴ, ㄹ                ⑤ ㄴ, ㄷ, ㄹ

[12~13] 다음 자료를 읽고 물음에 답하시오.

2013년 5월 10일	갑이 을로부터 2013년 9월 10일까지 값기로 하고 1억 원을 빌리면서 차용증을 써 줌.
2013년 8월 30일	병이 갑 소유의 A 주택에 대하여 보증금 2억 원에 임대차 계약을 체결함.
2013년 9월 30일	병이 A 주택에 입주하고 전입 신고를 하며 확정 일자를 받음.
2013년 11월 7일	갑이 정으로부터 2014년 5월 7일까지 값기로 하고 1억 원을 빌리면서 A 주택에 저당권을 설정해 줌.
2014년 2월 11일	① 을이 갑을 상대로 1억 원에 대한 채무의 이행을 요구하고 소송을 준비함.

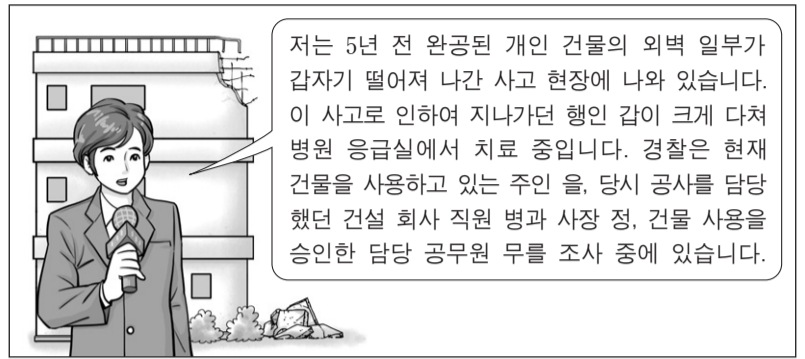
12. 위 자료에 대한 법적 판단으로 옳은 것은? [3점]

- ① 정은 2013년 11월 7일부터 A 주택을 점유할 수 있다.
- ② 을과 정의 채권액은 A 주택의 등기부 을구에 기재된다.
- ③ 병은 A 주택이 경매되더라도 보증금에 대하여 을, 정보다 우선하여 받을 권리가 있다.
- ④ 을이 1억 원을 빌려 주면서 공증을 받지 않았다면 을은 갑으로부터 돈을 돌려받을 수 없다.
- ⑤ 2013년 11월 7일에 A 주택 등기부 을구에는 정이 A 주택에 대하여 가압류를 한 것이 기재된다.

13. 위 자료의 밑줄 친 ①에 대한 법적 판단으로 옳은 것은?

- ① 을이 A 주택을 가압류한 경우 갑의 A 주택 처분이 제한된다.
- ② 을은 소송을 제기하기 전에 민사 조정 절차를 거쳐야만 한다.
- ③ 을은 가압류 신청을 하지 않으면 민사 소송을 제기할 수 없다.
- ④ 을은 정식 재판이 아닌 소액 사건 심판을 통해 분쟁을 해결할 수 있다.
- ⑤ 을이 갑에게 내용 증명 우편을 보내지 않으면 강제 집행 절차에 들어갈 수 없다.

14. 다음 자료에 대한 법적 판단으로 옳은 것은? [3점]



- ① 을에게 형사 책임이 인정되지 않은 경우 을은 갑에 대하여 손해 배상 책임을 지지 않는다.
- ② 병에게 형사 책임이 인정된 경우 병은 갑에 대한 손해 배상 책임을 면한다.
- ③ 병에게 고의·과실이 없으면 정은 병의 행위에 대하여 특수 불법 행위에 의한 배상 책임을 지지 않는다.
- ④ 무의 과실이 증명되면 국가는 영조물의 하자로 인한 배상 책임을 지게 된다.
- ⑤ 정확히 누구에게 과실이 있는지 분명하지 않은 경우 갑은 누구에게도 불법 행위 책임을 물을 수 없다.

15. 다음 자료에 대한 옳은 설명 및 추론을 <보기>에서 고른 것은?

취업 동의서

1. 법정 대리인: A (인적 사항)  
 2. 연소 근로자: B (인적 사항)  
 3. 사업장: ○○ 대형 마트 (주소)  
 4. 사용자: C (인적 사항)

본인은 B의 법정 대리인으로서 B가 ○○ 대형 마트에서 아르바이트를 하는 것에 동의합니다.

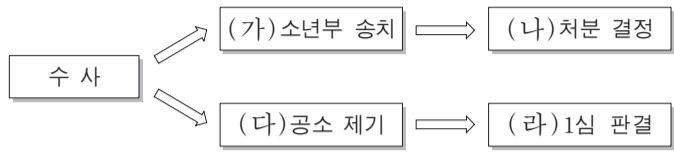
2014년 7월 4일  
법정 대리인 A (서명)

— <보기> —

- ㄱ. B는 원칙적으로 15세 이상인 자일 것이다.
- ㄴ. A는 B의 보호를 위하여 B의 근로 계약을 대리하여 체결할 수 있다.
- ㄷ. B와 C가 근로 계약을 체결하면 B는 최저 임금법에 따라 최저 임금을 보장받는다.
- ㄹ. B가 C와 근로 계약을 체결하고 근로를 제공한 후 임금을 청구하기 위해서는 취업 동의와는 별도로 A의 동의를 얻어야 한다.

- ① ㄱ, ㄴ                      ② ㄱ, ㄷ                      ③ ㄴ, ㄷ                      ④ ㄴ, ㄹ                      ⑤ ㄷ, ㄹ

16. 그림은 형사 피의자 갑(17세)에 대한 처리 절차를 나타낸 것이다. 이에 대한 설명으로 옳은 것은?



- ① 검사는 (가)와 달리 (다)를 결정하기 전에는 갑의 품행, 경력, 생활환경 등을 조사하여야 한다.
- ② (가)에서 갑은 국민 참여 재판을 신청할 수 있다.
- ③ (나)에서 갑이 소년원 송치 처분을 받으면 전과가 기록된다.
- ④ (다) 이후에도 갑은 진술 거부권, 변호인의 조력을 받을 권리, 구속 적부 심사를 청구할 권리를 가진다.
- ⑤ (라)에서 집행 유예를 선고받고 석방되어도 갑은 항소할 수 있다.

17. 우리나라 헌법 기관 A~C에 대한 설명으로 옳은 것은? [3점]

- **A** 은/는 법률이 정한 공무원이 그 직무 집행에 있어서 헌법이나 법률을 위배한 때에는 탄핵의 소추를 의결할 수 있다.
- **B** 은/는 대통령이 의장이 되고 국무총리가 부의장이 되어 정부의 권한에 속하는 중요 정책을 심의한다.
- **C** 은/는 상고심 관할권과 대통령, 국회의원, 시·도지사 선거 소송에 대한 재판권을 가진다.

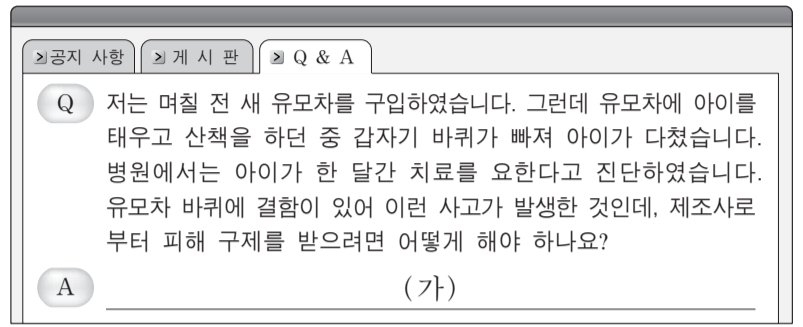
- ① A는 국가 예산의 수입·세출에 대한 결산과 회계 감사의 권한을 가진다.
- ② A는 민주적 기본 질서에 위배되는 정당의 해산을 헌법 재판소에 제소할 수 있다.
- ③ 대통령은 중대한 대외 정책에 대한 B의 의결을 따라야 한다.
- ④ 의원 발의 법률 개정안은 B의 심의 후 국회의 의결을 거쳐야 한다.
- ⑤ C는 명령·규칙이 헌법이나 법률에 위반되는지 여부가 재판의 전제가 된 경우 이에 대한 최종 심사권을 가진다.

18. 밑줄 친 ㉠에 대한 설명으로 옳은 것은?

㉠이 제도는 정신적 제약으로 사무 처리 능력이 부족하거나 지속적으로 결여된 성년자를 지원하기 위해 기존의 한정 치산·금치산 제도를 대체하여 2013년 7월 1일부터 시행되었다. 이를 통해 의사를 결정하는 능력에 장애가 있는 사람의 의사 결정을 지원하는 데 중점을 둘 수 있게 되었다. 또한 본인, 친족, 검사뿐만 아니라 지방 자치 단체장도 법원에 후견 개시 심판을 청구할 수 있게 되어 청구권자의 범위가 확대되었다.

- ① ㉠은 자연인과 법인의 법률 행위에 적용된다.
- ② ㉠은 권리 능력이 없는 자를 보호하는 역할을 한다.
- ③ ㉠은 후견을 한정 치산과 금치산으로 유형화하지 않고 일원화 하였다.
- ④ ㉠에 의해 후견이 개시되면 법률 행위를 할 때마다 행위 능력 유무를 판단하게 된다.
- ⑤ ㉠에 의해 후견이 개시된 자라도 일용품 구입 등 일상적 거래는 독자적으로 할 수 있다.

19. 그림의 (가)에 들어갈 옳은 법적 조언만을 <보기>에서 있는 대로 고른 것은? [3점]



— <보기> —

- ㄱ. 유모차 제조사에 직접 보상을 요구할 수 있습니다.
- ㄴ. 한국 소비자원에 피해의 구제를 신청하면 합의 권고를 받을 수 있습니다.
- ㄷ. 한국 소비자원의 피해 구제 절차를 거치지 않고 바로 민사 소송을 제기할 수 있습니다.
- ㄹ. 제조물 책임법에 따라 손해 배상을 청구하려면 유모차 바퀴의 결함에 대한 제조사의 과실을 증명해야 합니다.

- ① ㄱ, ㄴ                      ② ㄴ, ㄹ                      ③ ㄷ, ㄹ
- ④ ㄱ, ㄴ, ㄷ                ⑤ ㄱ, ㄷ, ㄹ

20. 밑줄 친 ㉠에 대한 설명으로 옳은 것은?

2014년 5월 정부는 주요 핵 안보 규범인 ㉠ '핵 테러 행위의 억제'를 위한 국제 협약'의 비준서를 국제 연합(UN)에 기탁\* 했다고 밝혔다. 이에 따라 우리나라는 이 협약의 94번째 비준서 기탁국이 되었다. 정부는 2005년에 이 협약에 서명하고 2011년에 국회의 동의를 받았으나 여러 가지 국내 사정에 의해 2014년 5월에 기탁하게 된 것이다.

\* 기탁: 조약 체결 당사국이 비준서를 제출하여 그 효력의 발생을 인정하는 행위

- ① ㉠은 국제법의 법원(法源)이 된다.
- ② ㉠의 체결권은 대통령, 비준권은 국회에 있다.
- ③ ㉠은 비정부 국제기구와 체결한 양자 조약이다.
- ④ ㉠은 2005년부터 국내법과 같은 효력을 가지게 되었다.
- ⑤ ㉠은 '국내 문제 불간섭 원칙'과 같이 국제 사회 일반에 적용 된다.

\* 확인 사항  
○ 답안지의 해당란에 필요한 내용을 정확히 기입(표기)했는지 확인 하시오.

제 4 교시

사회탐구 영역(법과 정치)

성명  수험 번호

1. 정치를 바라보는 관점 A, B에 대한 설명으로 옳은 것은?

국가를 전형적인 정치 주체로 보는 A는 사회적 갈등을 해결하고 질서를 유지하는 것이 국가의 기능이자 곧 정치의 기능이라고 본다. 그렇지만 오늘날에는 국가 이외에도 다양한 집단이 이해관계의 조정, 정부 정책에 대한 감시와 비판, 정치적 의사 형성 과정 등에 참여하고 있다. 이에 주목하여 B는 국가뿐만 아니라 다양한 집단을 정치의 주체로 간주하고 있다.

- ① A에 따르면 학생 회장 선거는 정치로 볼 수 있다.
- ② B에 따르면 위에서 아래로의 지배와 통제만이 정치의 기능이다.
- ③ A는 B에 비해 정치의 주체를 포괄적으로 보고 있다.
- ④ B는 A에 비해 다원화된 현대 사회의 정치적 특징을 설명하기에 적합하다.
- ⑤ A와 달리 B는 사회적 갈등의 해결을 정치로 보지 않는다.

2. 다음 글에 대한 설명 및 추론으로 가장 적절한 것은?

갑국에는 정치 참여의 방식이 서로 다른 두 개의 시가 있다. A시는 18세 이상의 시민이 직접 참여하는 시 집회에서 정치적 의사를 결정한다. 그리고 B시는 18세 이상의 시민이 참여하는 선거를 통하여 선출된 의원으로 구성된 시 의회에서 정치적 의사를 결정한다.

- ① A시보다 B시에서 중우 정치의 가능성이 높다.
- ② B시보다 A시에서 정치적 무관심이 나타날 가능성이 높다.
- ③ B시보다 A시에서 보통 선거의 원칙이 충실히 실현되고 있다.
- ④ B시와 달리 A시에서는 대의 민주제를 시행하고 있다.
- ⑤ A시와 B시 모두에서 주민 자치의 원리가 실현되고 있다.

3. 표는 법치주의의 유형 A, B의 특징을 나타낸 것이다. 이에 대한 옳은 설명만을 <보기>에서 있는 대로 고른 것은? [3점]

질문	유형	A	B
법의 목적과 내용이 정의에 합치되어야 하는가?		예	아니요
(가)		예	예

<보기>

ㄱ. A는 통치의 합법성뿐 아니라 정당성도 중시한다.  
 ㄴ. B는 '법에 의한 지배'보다 '법의 지배'를 강조한다.  
 ㄷ. A는 B와 달리 자의적 통치를 강화하는 수단으로 이용된다.  
 ㄹ. (가)에는 '적법한 절차에 따라 법을 제정해야 하는가?'가 적절하다.

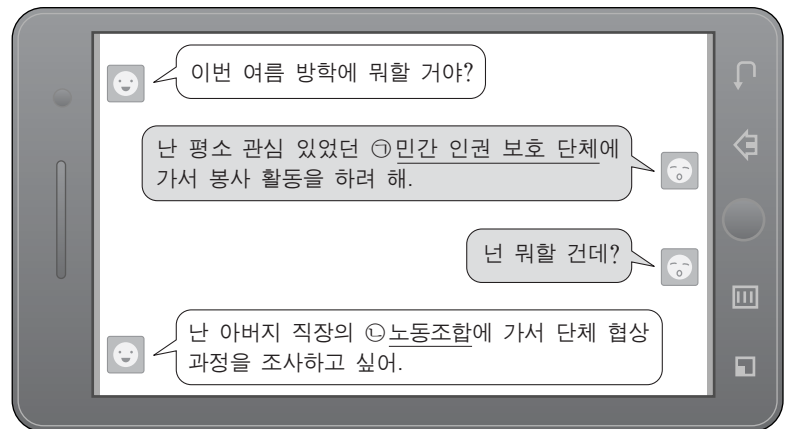
- ① ㄱ, ㄷ                      ② ㄱ, ㄹ                      ③ ㄴ, ㄷ
- ④ ㄱ, ㄴ, ㄹ                ⑤ ㄴ, ㄷ, ㄹ

4. (가)~(라)는 우리나라 헌법의 일부이다. 이에 대한 설명으로 옳은 것은? [3점]

(가) 입법권은 국회에 속한다.  
 (나) 국회의원과 정부는 법률안을 제출할 수 있다.  
 (다) 법률안에 이의가 있을 때에는 대통령은 ... (중략) ... 기간 내에 이의서를 붙여 국회로 환부하고, 그 재의를 요구할 수 있다.  
 (라) 국무총리는 대통령을 보좌하며, 행정에 관하여 대통령의 명을 받아 행정 각 부를 통할한다.

- ① (가)에 근거하여 국회는 헌법의 개정을 최종 확정한다.
- ② (나)는 전형적인 대통령제의 요소이다.
- ③ (다)에 근거하여 행정부는 입법부를 견제할 수 있다.
- ④ (가)와 (라)를 통해 권력이 융합된 정부 형태임을 알 수 있다.
- ⑤ (다)와 (라)를 통해 다수당의 횡포를 견제할 수 있다.

5. 밑줄 친 정치 참여 집단 ㉠, ㉡의 공통점을 <보기>에서 고른 것은?



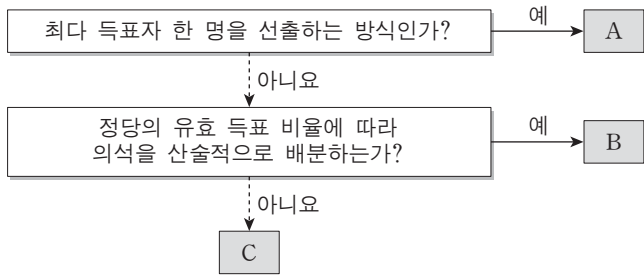
<보기>

ㄱ. 대의 정치의 한계를 보완한다.  
 ㄴ. 사회 전체의 공공선을 추구한다.  
 ㄷ. 구성원에 대한 정치 사회화 기능을 한다.  
 ㄹ. 공직 선거에서 당선자를 배출할 목적으로 활동한다.

- ① ㄱ, ㄴ    ② ㄱ, ㄷ    ③ ㄴ, ㄷ    ④ ㄴ, ㄹ    ⑤ ㄷ, ㄹ

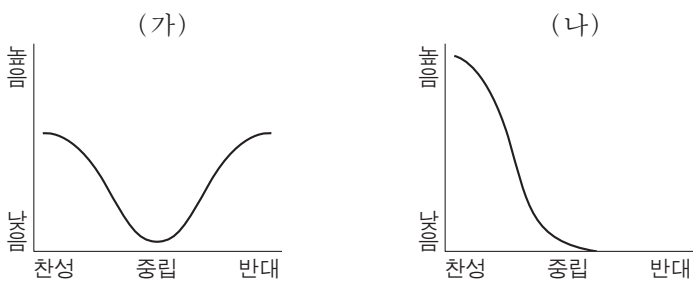


6. 그림은 선거 제도상의 대표 결정 방식을 분류한 것이다. A~C의 일반적인 특징으로 옳은 것은? (단, A~C는 각각 다수 대표제, 소수 대표제, 비례 대표제 중 하나이다.) [3점]



- ① A는 중·대선거구제에서 사용되는 방식이다.
- ② A는 B보다 선거 절차와 방법이 복잡하다.
- ③ A는 C보다 군소 정당의 의회 진출이 어렵다.
- ④ B는 A보다 사표가 많이 발생한다.
- ⑤ C와 달리 B는 양당제를 촉진한다.

7. (가), (나)는 정부 정책안에 대한 여론 분포를 나타낸 것이다. 이에 대한 설명으로 가장 적절한 것은?



- ① (가)에서는 정책을 둘러싼 문제가 사회 쟁점화될 가능성이 낮다.
- ② (나)에서는 정책 문제에 대한 국민 일체감 형성이 어렵다.
- ③ (가)에서 (나)로 변화하면 여론을 반영한 정책 결정이 용이해진다.
- ④ (나)에서 (가)로 변화하면 정책 문제를 둘러싼 여론의 조직화 경향이 약화된다.
- ⑤ 대중이 개인의 이익보다 공공의 이익을 추구할 때 (가)에서 (나)로 변화한다.

8. 다음 사례에 대한 설명으로 옳은 것은?

지폐를 위조하여 사용하였다는 범죄 사실로 기소된 갑은 지방 법원 합의부에서 징역 2년 6월을 선고받았다. 갑은 항소심에서 '특정범죄 가중처벌 등에 관한 법률' 제10조에 대해 위헌 법률 심판 제청 신청을 하였고 A 법원에서 이를 받아들여 B에 제청하였다. 이에 B는 해당 조항은 위헌이라는 결정을 내렸다.

- ① 갑은 위헌 심사형 헌법 소원을 제기하였다.
- ② A 법원은 국회의원의 선거 소송을 담당할 수 있다.
- ③ B의 결정은 행정부가 입법부를 견제하는 수단이다.
- ④ B는 재판의 전제가 된 위헌·위법한 명령과 규칙에 대한 최종 심사권을 갖는다.
- ⑤ A 법원은 갑의 신청이 없더라도 B에 위 심판을 제청할 수 있다.

9. 기본권 A~C에 해당하는 헌법 조항을 <보기>에서 고른 것은? [3점]

(○: 예, ×: 아니요)

질문	기본권	A	B	C
적극적 권리에 해당하는가?		×	○	○
기본권 보장을 위한 수단적 권리인가?		×	×	○
방어적 권리로서 천부 인권적 성격을 가지는가?		○	×	×
국가에 대해 일정한 급부를 요구할 수 있는 권리인가?		×	○	×

— < 보기 > —

ㄱ. 모든 국민은 신체의 자유를 가진다.  
 ㄴ. 모든 국민은 법률이 정하는 바에 의하여 선거권을 가진다.  
 ㄷ. 모든 국민은 법률이 정하는 바에 의하여 국가 기관에 문서로 청원할 권리를 가진다.  
 ㄹ. 모든 국민은 능력에 따라 균등하게 교육을 받을 권리를 가진다.

- |   | A | B | C |   | A | B | C |
|---|---|---|---|---|---|---|---|
| ① | ㄱ | ㄷ | ㄹ | ② | ㄱ | ㄷ | ㄴ |
| ③ | ㄱ | ㄷ | ㄴ | ④ | ㄷ | ㄴ | ㄷ |
| ⑤ | ㄷ | ㄴ | ㄴ |   |   |   |   |

10. 다음 자료에 대한 옳은 법적 판단을 <보기>에서 고른 것은? [3점]

갑은 A 주택을 사기 위해 A 주택의 등기 사항 전부 증명서(등기부 등본)에서 아래의 내용을 확인하였다. (단, 갑구와 을구에 추가 등기 사항은 없다.)

【갑 구】 (소유권에 관한 사항)				
순위 번호	등기 목적	접 수	등기 원인	권리자 및 기타 사항
1	소유권 보존	2005년 4월 1일		소유자 을 (이하 생략)
2	소유권 이전	2008년 8월 25일	2008년 7월 25일 매매	소유자 병 (이하 생략)

【을 구】 (소유권 이외의 권리에 관한 사항)				
순위 번호	등기 목적	접 수	등기 원인	권리자 및 기타 사항
1	저당권 설정	2013년 7월 3일	2013년 7월 1일 설정 계약	채권액 금 100,000,000원 채무자 병 (이하 생략) 저당권자 정 (이하 생략)

— < 보기 > —

ㄱ. 갑이 매매 계약을 하고 잔금을 지급하면 A 주택의 소유권을 취득한다.  
 ㄴ. 갑이 A 주택을 매수하여 소유권 이전 등기를 하더라도 정의 저당권은 보호받는다.  
 ㄷ. 갑은 을이나 병의 동의가 없어도 A 주택의 등기 사항 전부 증명서(등기부 등본)를 발급받을 수 있다.  
 ㄹ. 갑은 매매 계약 체결 후 전입신고를 하고 A 주택에 입주하면 주택 임대차 보호법상의 대항력을 취득한다.

- ① ㄱ, ㄴ    ② ㄱ, ㄷ    ③ ㄴ, ㄷ    ④ ㄴ, ㄹ    ⑤ ㄷ, ㄹ

11. 다음 글은 판결 내용의 일부를 요약한 것이다. 이에 대한 법적 판단으로 옳은 것은? [3점]

1. 사실 관계  
을은 심한 지적 장애를 가진 갑을 꺾어낸 후 갑이 은행에서 5천만 원을 대출받도록 하면서, 갑으로 하여금 갑 소유의 토지에 저당권을 설정하도록 하였다. 대출금을 을이 탕진하여 갑이 돈을 갚지 못하자 은행은 갑의 토지를 경매에 부쳤다.

2. 법원의 판단  
심한 지적 장애를 가지고 있는 갑이 대출금을 갚지 못할 때에는 저당권의 실행(경매)으로 인해 소유권을 상실할 수 있다는 법률적 의미와 효과를 이해할 수 있는 A 을/를 갖추고 있었다고 볼 수 없고, 따라서 위 저당권 설정 계약은 A 이/가 흠결된 상태에서 체결된 것이다.

- ① A는 성년자 모두가 보유하고 있는 능력이다.
- ② A가 없으면 일반적으로 권리와 의무의 주체가 될 수 없다.
- ③ 갑에게 A가 없기 때문에 은행은 대출 계약을 취소하여야 한다.
- ④ A가 없더라도 갑은 법원이 정한 법률 행위를 독자적으로 할 수 있다.
- ⑤ 저당권 설정 계약은 갑의 A가 없는 상태에서 이루어졌으므로 무효이다.

12. 그림의 (가)에 들어갈 법적 조언으로 옳은 것은?

법률 상담      묻고 답하기

Q: 저는 어제 학교 가는 길에 갑(6세)으로부터 피해를 입었습니다. 갑은 놀이터에서 부모와 함께 놀다가 부모의 관리가 소홀한 틈을 타서 지나가던 제 얼굴을 향해 일부러 돌을 던져 치료비가 드는 큰 상처를 입었습니다. 민사상 책임을 물을 수 있을까요?

A: \_\_\_\_\_ (가)

- ① 갑은 미성년자이지만 권리 능력이 있기 때문에 갑에게 책임을 물을 수 있습니다.
- ② 고의에 의한 행위이기 때문에 갑에게 책임을 물을 수 있습니다.
- ③ 위법성이 없기 때문에 갑의 부모에게는 책임을 물을 수 없습니다.
- ④ 갑에게 책임을 물을 수 없지만 갑의 부모에게는 책임을 물을 수 있습니다.
- ⑤ 갑과 갑의 부모 모두에게 공동 불법 행위의 책임을 물을 수 있습니다.

13. 표는 형사 사건으로 수사를 받은 갑~정의 응답이다. 이에 대한 법적 판단으로 옳은 것은? [3점]

(○: 예, ×: 아니요)

질문	응답			
	갑	을	병	정
구속되어 수사를 받았는가?	○	○	×	○
검사에 의해 기소되었는가?	×	○	○	○
1심 법원에서 유죄 판결을 받았는가?	해당 없음	×	○	○

- ① 갑과 을은 법원에 형사 보상을 청구할 수 있다.
- ② 을과 정의 판결에 대해서 검사는 항소할 수 있다.
- ③ 병의 유죄 판결이 확정되면 판사 지휘에 따라 형이 집행된다.
- ④ 정은 자유형을 선고받아 형이 확정되면 석방될 수 없다.
- ⑤ 갑, 을, 정과 달리 병에게는 무죄 추정의 원칙이 적용되었다.

14. 우리나라 헌법 기관 A~C에 대한 설명으로 옳은 것은? [3점]

- A 은/는 행정부 최고 심의 기관의 의장이다.
- B 은/는 제안된 헌법 개정안을 공고된 날로부터 60일 이내에 의결하여야 한다.
- C 은/는 헌법 재판소와 마찬가지로 대통령이 임명하는 3인, 국회에서 선출하는 3인, 대법원장이 지명하는 3인으로 구성된다.

- ① A는 대법원장과 법관을 임명한다.
- ② B는 정부의 제소에 따라 정당의 해산을 결정한다.
- ③ C는 선거구 획정 위원회를 두어 선거구를 법률로 확정한다.
- ④ B는 조약의 체결·비준에 대한 동의권을 통해 A를 견제한다.
- ⑤ C는 선거 소송 재판 권한을 통해 B를 견제한다.

15. 다음 자료에 대한 옳은 법적 판단을 <보기>에서 고른 것은?

법정 방청 보고서

- ○○○○년 ○월 ○○일
  - ▷ □□ 지방 법원 203호 법정에서 재판이 시작되었고, 판사석에는 판사 3명이 앉아 있었다.
  - ▷ 원고는 피고로부터 사기 피해를 입었다며 3억 원을 청구하였다. 이에 대해 피고는 원고의 주장을 부인하였다.
  - ▷ 재판장은 증인을 신문하고 변론을 종결하였다.
- ○○○○년 ○월 △△일
  - ▷ 위 사건에서 재판장은 원고 전부 승소 판결을 선고한 후, 당사자에게 판결에 불복이 있으면 항소하도록 절차를 알려 주었다.

— < 보기 > —

- ㄱ. 원고는 위 재판 전에 조정 절차를 거쳐야 한다.
- ㄴ. 피고가 항소할 경우 지방 법원 합의부에서 재판이 진행된다.
- ㄷ. 피고가 일정 기간 내에 항소를 하지 않으면 판결이 확정된다.
- ㄹ. 판결이 확정되었는데도 피고가 돈을 갚지 않으면 원고는 피고의 재산에 대한 강제 집행을 신청할 수 있다.

- ① ㄱ, ㄴ    ② ㄱ, ㄷ    ③ ㄴ, ㄷ    ④ ㄴ, ㄹ    ⑤ ㄷ, ㄹ

16. 다음 사례에 대한 법적 판단으로 옳은 것은? [3점]

18세의 고등학생 갑은 공원에 갔다가 매점 뒤에 세워 둔 을 소유의 오토바이를 훔쳐서 타고 다니다가 호수에 버렸다. 이에 을은 갑을 절도죄로 고소하였을 뿐만 아니라 오토바이에 대한 민사상 손해도 배상받고 싶어 한다.

- ① 갑은 전과로 기록되지 않는 보호 처분을 받을 수 있다.
- ② 갑은 특수 불법 행위로 인한 민사상 손해 배상 책임을 진다.
- ③ 갑은 청소년 참여 법정에서 선도 조건부 기소 유예를 받을 수 있다.
- ④ 을은 형사 재판에서 민사상 손해 배상을 신청할 수 없다.
- ⑤ 을은 범죄 피해자 구조 제도를 통해 배상받을 수 있다.

17. 밑줄 친 ㉠~㉣에 대한 옳은 설명을 <보기>에서 고른 것은?

갑은 침대를 직접 만들어 판매하는 가구점에서 ㉠ 전시된 침대를 살피던 중 적당한 침대가 없어서 주인 을에게 ㉡ 원하는 침대의 소재를 알려 주었고, 구비해 놓겠다고 을의 말을 들었다. 한 달 뒤 갑이 다시 찾아갔으나 을은 ㉢ “원하시던 침대는 만들지 못했고 다른 소재로 만든 침대만 사실 수 있습니다.”라고 하였다. 갑은 을이 만든 침대를 구매하여 사용한 첫날 ㉣ 침대 다리 접합부의 결함으로 침대가 무너지면서 심하게 다쳤다.

㉠ ㉠은 소비자의 교육을 받을 권리에 해당한다.  
 ㉡ ㉡은 소비자의 의견을 반영할 권리에 해당한다.  
 ㉢ ㉢은 소비자의 안전할 권리에 해당한다.  
 ㉣ ㉣에 대해 을은 제조물 책임을 질 수 있다.

- ① ㉠, ㉡    ② ㉠, ㉢    ③ ㉡, ㉣    ④ ㉢, ㉣    ⑤ ㉣, ㉣

18. 갑국의 행위를 통해 파악할 수 있는 국제 사회를 바라보는 관점에 대한 진술로 가장 적절한 것은?

‘핵무기 없는 세상’이라는 희망을 제시한 갑국의 노력이 국가 간 협정의 형태로 결실을 맺었다. 상대국의 협정 탈퇴 가능성과 자국의 군사력 약화라는 우려에도 불구하고, 갑국은 핵무기의 지속적 감축을 통한 국제적 평화 환경의 조성이 무엇보다도 중요한 가치라고 판단했기 때문이다.

- ① 국제 사회는 권력관계보다 상호 협력 관계를 중시한다.
- ② 국제 규범의 준수보다 자국의 이익을 지키는 것이 중요하다.
- ③ 국제 사회의 평화는 국가 간 군사적 우열이 있을 때만 가능하다.
- ④ 개별 국가의 이익과 국제 사회 전체의 이익은 조화될 수 없다.
- ⑤ 국제 사회에서 다른 나라의 배려나 양보를 기대하는 것은 불합리하다.

19. 다음은 근로 계약서의 일부이다. 이에 대한 옳은 법적 판단을 <보기>에서 고른 것은? [3점]

**근로 계약서**

사용자 '갑'과 근로자 '을'(17세)은 다음과 같이 근로 계약을 체결한다.

1. 근로 계약 기간: 2015년 6월 1일 ~ 10월 30일  
... (중략) ...
4. 근로 시간: 8시부터 20시까지(휴게 시간: 12시 ~ 13시)
5. 근무일: 매주 월요일 ~ 금요일
6. 임금: 4,500원(시급)

\*2015년 최저 임금은 시간당 5,580원임.

㉠ ㉠ 갑은 을의 근로 3권을 침해하였다.  
 ㉡ ㉡ 갑은 근로 시간과 관련하여 근로 기준법을 위반하였다.  
 ㉢ ㉢ 을의 법정 대리인이 대리하여 위 계약을 체결할 수 있다.  
 ㉣ ㉣ 을은 임금에 대해 갑과 합의했다더라도 최저 임금을 요구할 수 있다.

- ① ㉠, ㉡    ② ㉠, ㉢    ③ ㉡, ㉣    ④ ㉢, ㉣    ⑤ ㉣, ㉣

20. 다음 자료에 대한 설명으로 옳은 것은?

**○○ 신문**

2014년 12월에 페루 리마에서 196개의 당사국이 참여하는 유엔 기후 변화 협약 당사국 총회가 개최되었다. 총회에서는 온실 가스 감축 의무를 부과한 1997년 ㉠ 교토 의정서의 한계를 극복하기 위한 방안들이 논의되었다. A국은 교토 의정서를 의회의 동의를 거쳐 비준하였지만 온실 가스 감축 의무를 부과받지 않았다. 그러나 국제 사회의 흐름에 부응하여 A국에서는 ㉡ ‘온실 가스 감축에 관한 법률’을 제정하여 탄소 배출권 거래 제도를 시행하고 있다.

- ① ㉠은 포괄적 구속력이 있는 국제 관습법이다.
- ② ㉡은 강제적으로 집행할 기구가 없다.
- ③ A국이 우리나라라면 우리나라 법원의 재판에서 ㉠을 직접 적용할 수 있다.
- ④ A국이 우리나라라면 ㉠과 ㉡ 간 적용의 우선 순위 문제가 발생하지 않는다.
- ⑤ ㉠과 관련된 A국의 국제 분쟁이 국제 사법 재판소에 제소되었을 때 ㉡을 직접 적용할 수 있다.

\* 확인 사항  
 ○ 답안지의 해당란에 필요한 내용을 정확히 기입(표기)했는지 확인하십시오.



제 4 교시

# 사회탐구 영역(법과 정치)

성명	수험 번호
----	-------

1. 갑과 을의 주장에 대한 적절한 추론을 <보기>에서 고른 것은?

갑: 현대 민주주의는 대의제를 통해 실현됩니다. 대의제에서 선출된 대표는 대리인 역할에 충실해야 합니다. 즉 그를 뽑아 준 유권자들의 선호나 의견을 정책 결정에 그대로 반영해야 합니다. 이 같은 역할을 하지 못하는 대표에 대해서는 임기 중이라도 유권자들이 견제할 수 있는 제도가 필요합니다.


을: 현대 사회의 문제는 매우 다양하고 복잡해서 유권자 대부분은 명확하거나 합리적인 의견을 가지기 어렵습니다. 따라서 선출된 대표는 주어진 임기 동안 정책 전문성을 바탕으로 정책에 대해 독립적 판단을 해야 합니다.

— <보기> —

ㄱ. 갑은 국민 소환제의 도입에 찬성할 것이다.  
 ㄴ. 갑은 정책 결정에서 대표의 자율성 강화에 찬성할 것이다.  
 ㄷ. 을은 국민 발안제의 도입에 소극적일 것이다.  
 ㄹ. 을은 국민 투표의 대상이 되는 정책 사안의 확대에 찬성할 것이다.

- ① ㄱ, ㄴ    ② ㄱ, ㄷ    ③ ㄴ, ㄷ    ④ ㄴ, ㄹ    ⑤ ㄷ, ㄹ

2. 다음 대화에서 갑~병의 의견에 대한 추론으로 적절하지 않은 것은? [3점]



- ① 갑은 언론이 정치적 부정과 부패가 일어날 가능성을 줄여야 한다고 볼 것이다.  
 ② 을은 언론이 공익을 추구하는 보도를 통해 올바른 여론 형성을 유도해야 한다고 볼 것이다.  
 ③ 병은 언론이 사회적 소외 계층의 권익 증진에 기여해야 한다고 볼 것이다.  
 ④ 갑과 을은 언론이 정부 정책을 대중에게 홍보하여 정책에 대한 정당성을 강화해야 한다고 볼 것이다.  
 ⑤ 을과 병은 언론이 정보 제공을 통해 특정 쟁점과 주제에 대해 대중의 주의를 환기해야 한다고 볼 것이다.

3. (가)와 (나)는 법치주의를 보는 관점이다. 이에 대한 설명 및 추론으로 옳은 것은?

(가) 법은 그 내용의 옳고 그름 또는 선악과 상관없이 법에 정해진 입법 절차에 따라 제정되면 법으로서의 효력을 갖게 된다.  
 (나) 법에 정해진 입법 절차에 따라 법이 제정되고 그 법의 목적과 내용이 기본권을 보장하는 헌법 이념에 부합되면 법으로서의 효력을 갖게 된다.

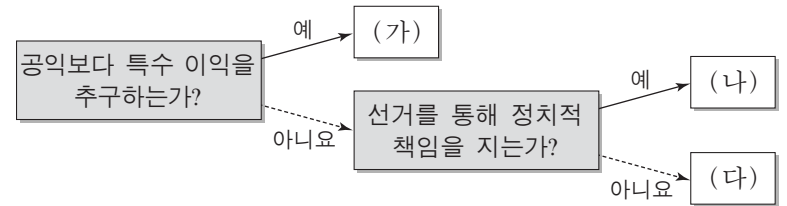
- ① (가)는 (나)에 비해 법 만능주의로 흐를 가능성이 높다.  
 ② (가)는 (나)와 달리 의회 다수당의 횡포나 독재를 견제하는 수단으로 사용될 수 있다.  
 ③ (나)는 (가)보다 통치의 형식적 합법성을 강조한다.  
 ④ 현대 사회로 오면서 법치주의는 (나)에서 (가)로 확장되고 있다.  
 ⑤ (가)와 (나) 모두 법 내용의 실질적 정당성을 필수적 요소로 본다.

4. 밑줄 친 ㉠~㉣에 대한 설명으로 옳지 않은 것은?

어떤 정치학자에 의하면 정치 체계는 국민의 요구와 지지가 ㉠ 정책 결정 기구로 전달되는 ㉡ 투입, 요구와 지지가 정책 결정 기구에 들어가 공공 정책으로 전환되어 나오는 ㉢ 산출, 산출이 투입에 다시 영향을 미치는 ㉣ 환류의 과정으로 이루어진다. 그리고 이러한 과정은 정치 체계를 둘러싼 제반 환경과 영향을 주고받는다.

- ① 입법부와 행정부는 ㉠의 대표적인 예이다.  
 ② 시민의 입법 청원 활동은 ㉡의 예이다.  
 ③ 언론이 일정한 방향으로 여론을 형성하는 것은 ㉢의 예이다.  
 ④ 민주주의 국가에서는 전체주의 국가에서보다 ㉣이 활발하게 나타난다.  
 ⑤ 정책 집행 결과에 대한 평가가 이루어지고 그에 따른 정책 수정의 필요성 여부가 제기되는 과정은 ㉣에 해당한다.

5. 정치 참여 집단 (가)~(다)에 대한 옳은 설명만을 <보기>에서 있는 대로 고른 것은? (단, (가)~(다)는 각각 정당, 이익 집단, 시민 단체 중 하나이다.) [3점]



— <보기> —

ㄱ. (가)은/는 의회와 행정부를 매개하는 기능을 수행한다.  
 ㄴ. (나)은/는 정치적 결사 조직으로서 정치적 정체성을 제공한다.  
 ㄷ. (나)은/는 다양한 이해 관계와 정책 선호를 집약하고 이를 공약으로 개발한다.  
 ㄹ. (다)은/는 정부의 한계를 보완하고 참여를 통해 공공 문제를 해결하기 위해 등장했다.

- ① ㄱ, ㄴ    ② ㄱ, ㄷ    ③ ㄷ, ㄹ  
 ④ ㄱ, ㄴ, ㄹ    ⑤ ㄴ, ㄷ, ㄹ

6. 다음 자료에 근거한 추론으로 적절한 것은? [3점]

선거 제도는 유권자의 투표 선택과 정당제 유형에 영향을 미친다. 예를 들어 대표 1인을 선출하는 단순 다수제하에서 군소 정당을 지지하는 유권자는 그 정당 후보의 당선 가능성이 낮다는 사실을 안다. 이에 유권자 중 일부는 당선 가능성이 높고 이념적으로 유사한 다른 정당 후보에게 투표한다. 따라서 군소 정당 후보는 당선되기 어려워져 정당제는 (가) (으)로 유도된다. 반면 비례 대표제하에서 군소 정당을 지지하는 유권자는 자신의 표가 의석 배분에 반영된다는 점을 알기 때문에 대부분 지지 정당에 투표하며, 그 결과 (나) (으)로의 정당제 형성이 촉진된다. 다음은 이와 같은 주장을 뒷받침하는 갑국과 을국의 의회 선거 결과이다.

〈갑국과 을국의 정당과 이념 및 최근 의회 선거 결과〉

국가	구분	정당 이념				
		진보 ←	중도			→ 보수
갑국	정당	A	B	C	D	E
	득표율(%)	15	33	5	37	10
	의석률(%)	0	43	0	57	0
을국	정당	F	G	H	I	J
	득표율(%)	12	30	23	18	17
	의석률(%)	11	31	24	18	16

\* 갑국과 을국의 대표 결정 방식은 각각 단순 다수제와 비례 대표제 중 하나임.

- ① (가)에서는 (나)보다 정치적 책임 소재가 불분명할 것이다.
- ② (나)에서는 (가)와 달리 연립 정부 구성 가능성이 낮을 것이다.
- ③ 갑국 선거구제는 중선거구제, 을국은 소선거구제일 것이다.
- ④ 갑국 대표 결정 방식은 비례 대표제, 을국은 단순 다수제일 것이다.
- ⑤ A당 지지자의 일부는 B당 후보에, J당 지지자의 다수는 J당에 투표했을 것이다.

7. 밑줄 친 ㉠~㉣에 대한 옳은 사례만을 <보기>에서 있는 대로 고른 것은? [3점]

국제 사회는 평등한 주권 국가를 기본 단위로 구성되지만, ㉠ 현실적으로는 강대국의 힘의 논리가 적용된다. 또한 ㉡ 국제 사회에는 강제력을 가진 중앙 정부가 존재하지 않아 분쟁의 해결이 어렵다. 그렇지만 ㉢ 오늘날의 국제 사회가 완전한 무질서 상태는 아니다. 국제 사회의 구성원인 각국은 대부분 국제법, 세계 여론, 도덕적 규범 등을 존중한다. 아울러 다양한 ㉣ 국제 비정부 기구들 역시 국제 질서를 유지하고, 국제 사회를 발전시키기 위해 활발하게 활동하고 있다.

- <보기> —
- ㉠. ㉠ - 유엔 안전 보장 이사회 상임 이사국의 거부권 행사
  - ㉡. ㉡ - 국제 사법 재판소 판결이 갖는 구속력의 한계
  - ㉢. ㉢ - 세계 무역 기구(WTO)의 활동
  - ㉣. ㉣ - 국제 통화 기금(IMF)

- ① ㉠, ㉡                      ② ㉠, ㉢                      ③ ㉢, ㉣
- ④ ㉠, ㉡, ㉢                ⑤ ㉡, ㉢, ㉣

8. 갑국과 을국 정부 형태의 특징에 대한 설명으로 옳은 것은?

갑국과 을국은 전형적인 정부 형태를 채택하고 있다. 갑국에서 국민은 의회 의원을 선출하며, 의회는 총리를 선출한다. 총리는 내각을 구성해 행정부 수반의 역할을 수행한다. 국가 원수는 별도로 존재하며 상징적 지위만을 갖는다. 을국에서 국민은 선거를 통해 대통령과 의회 의원을 선출한다. 대통령은 국가 원수이자 행정부 수반이며, 총리는 존재하지 않는다. 대통령과 의회는 엄격한 권력 분립의 원칙에 입각해 상호 견제할 수 있는 제도적 수단을 갖는다.

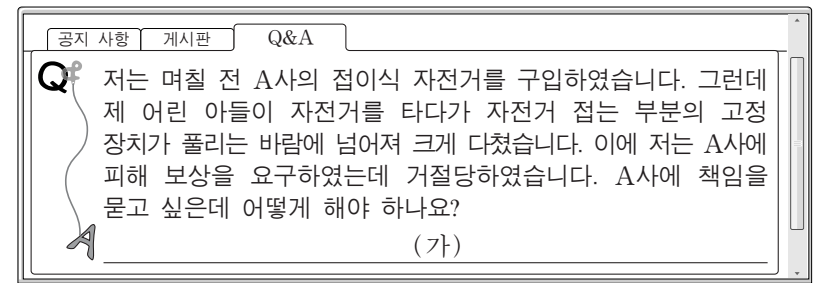
- ① 갑국 행정부 수반은 을국과 달리 의회를 해산할 수 있다.
- ② 갑국 국가 원수는 을국과 달리 의회의 신임에 구속된다.
- ③ 을국 행정부 수반은 갑국과 달리 법률안 제출권을 가진다.
- ④ 을국 내각 각료는 갑국과 달리 의회 의원을 겸직할 수 있다.
- ⑤ 갑국과 을국 모두 행정부 수반의 임기가 보장된다.

9. 우리나라 헌법 기관 A~C에 대한 설명으로 옳은 것은? [3점]

A 은/는 국정 감사나 각종 국정 통제 권한을 통하여 행정부의 결정과 집행을 감시하고 비판하며, 헌법 개정안의 제출·의결권과 중요한 조약의 체결·비준에 대한 동의권을 갖는 기관이다.  
 B 은/는 국가의 세입·세출의 결산 검사, 국가 및 법률이 정한 단체의 회계 검사와 행정 기관 및 공무원의 직무에 관한 감찰을 하는 기관이다.  
 C 은/는 행정부의 수반을 의장으로 하여 국정의 기본 계획, 중요한 대외 정책, 정부 제출 법률안, 예산안·결산 등 정부의 중요 정책을 심의하는 행정부의 최고 심의 기관이다.

- ① A는 국무총리와 국무 위원을 해임할 수 있다.
- ② A는 국가의 예산안을 심의·확정하는 기능을 수행한다.
- ③ B는 대통령의 각종 권한 행사에 대한 동의·승인권력을 가진다.
- ④ 대통령은 국가의 중대 사안에 관해서 C의 의결에 따라야 한다.
- ⑤ A와 B의 장(長)은 대통령이 임명하며, A와 C의 구성원은 국민이 직접 선출한다.

10. 그림의 (가)에 들어갈 옳은 법적 조언만을 <보기>에서 있는 대로 고른 것은?



- <보기> —
- ㉠. 민사 조정 제도를 활용하여 A사와의 분쟁을 신속하게 해결할 수 있습니다.
  - ㉡. 소비자 분쟁 조정 위원회의 조정을 거친 후에 한국 소비자원에 피해 구제를 신청해야 합니다.
  - ㉢. 한국 소비자원에 피해 구제를 신청하는 것과는 별도로 민사 소송을 제기할 수 있습니다.
  - ㉣. A사의 과실과 자전거 결함 사이의 인과관계를 증명해야 제조물책임법에 따른 손해 배상을 받을 수 있습니다.

- ① ㉠, ㉡                      ② ㉠, ㉢                      ③ ㉡, ㉣
- ④ ㉠, ㉢, ㉣                ⑤ ㉡, ㉢, ㉣







제 4 교시

사회탐구 영역(법과 정치)

성명 [ ] 수험 번호 [ ]

1. 민주주의의 원리 (가), (나)에 대한 옳은 설명을 <보기>에서 고른 것은?

(가) 국가 권력의 근거를 제공하는 것은 헌법이므로 국가 권력이 행사되는 것을 헌법에 근거하도록 함으로써 국민의 기본권을 보장하여야 한다.
(나) 모든 국가 권력의 창설과 행사는 국민의 동의와 합의에 의해서만 가능하며, 국가의 의사를 최종적으로 결정하는 궁극적 권력은 국민에게 있어야 한다.

<보기>
ㄱ. (가)는 간접 민주제가 아닌 직접 민주제에 부합한다.
ㄴ. (나)는 근대 이후 발달했으며, 국민 자치의 이념을 지향한다.
ㄷ. (가)는 '법에 의한 지배'를, (나)는 '법의 지배'를 지향한다.
ㄹ. (가), (나)는 모두 국가의 자의적인 권력 행사를 방지하고자 한다.

- ① ㄱ, ㄴ ② ㄱ, ㄷ ③ ㄴ, ㄷ ④ ㄴ, ㄹ ⑤ ㄷ, ㄹ

2. 갑~병은 대표적인 근대 정치 사상가이다. 이들의 주장에 대한 옳은 설명을 <보기>에서 고른 것은? [3점]

갑: 인간은 자유롭게 태어나지만, 도처에서 사슬에 매여 있다. 이런 문제점을 해결하기 위해 사람들은 국가를 만들고 일반 의지에 따라 국가를 운영한다.
을: 자연 상태는 평화롭지만 분쟁이 발생하는 경우 자연권이 침해될 수 있다. 개인들은 생명과 재산 등을 보장받기 위해 국가를 만들어 자연권의 일부를 위임하게 된다.
병: 인간은 자연 상태에서 서로에게 늑대가 되며, 삶은 고독하고 야만스럽기까지 하다. 이런 상태에서 죽음을 두려워하는 인간은 국가를 만들어 안전의 문제를 해결한다.

<보기>
ㄱ. 갑과 을은 사회 계약을 통해 자연 상태로 회귀할 것을 주장하였다.
ㄴ. 갑과 병은 자연권의 일부 양도를 통해 군주 주권을 확립해야 한다고 보았다.
ㄷ. 을은 병과 달리 국가 권력의 분립과 대의 민주주의를 강조하였다.
ㄹ. 갑, 을, 병은 모두 국가 성립이 구성원들의 자발적 동의에 기초한다고 보았다.

- ① ㄱ, ㄴ ② ㄱ, ㄷ ③ ㄴ, ㄷ ④ ㄴ, ㄹ ⑤ ㄷ, ㄹ

3. 법치주의의 유형 (가), (나)에 대한 설명으로 옳은 것은?

(가)에서는 적절한 권한을 가진 기관이나 담당자에 의한 법 제정, 법의 명확성, 제정된 법의 소급 적용 금지와 같은 요건들을 주된 요소로 다룬다. 고로 적법한 절차만 따르면 법의 목적이나 내용은 문제 삼지 않는 것이다. 그러나 (나)에서는 절차성의 요건들이 고려되면서도 일정한 권리의 실질적 보장, 정의, 도덕적 원리 등이 법치의 기반을 이룬다.

- ① (가)는 근대보다는 현대 사회에서 중요성이 커지고 있다.
② (나)는 권력자의 자의적인 통치 행위를 옹호한다.
③ (가)와 달리 (나)는 위헌 법률 심사제가 필요 없다고 본다.
④ (나)와 달리 (가)는 독재자의 합법적 정치를 옹호할 수 있다.
⑤ (가), (나)는 모두 권력 행사의 합법성과 정당성을 강조한다.

4. 다음은 전형적인 정부 형태를 지닌 갑국과 을국의 헌법 조항의 일부이다. 이에 대한 설명으로 옳은 것은?

갑국: 제○조 의회는 탄핵 심판의 권한을 가진다. 제○조 의회를 통과한 모든 법률안은 법률로 확정되기 전에 대통령에게 이송되어야 한다. 대통령이 법률안을 승인하지 않는 경우에는 이의서를 붙여 의회에 환부해야 한다. 제○조 행정권은 대통령에 속한다. 대통령의 임기는 4년으로 국민이 선출한 대통령 선거인단에서 선출한다.
을국: 제○조 의회는 행정부에 대한 불신임을 결의할 수 있다. 제○조 행정부는 의원 임기 만료 전에 새 의회 구성을 위한 총선거를 요구할 수 있다. 제○조 행정권은 총리와 내각에 속한다. 총리는 의회 내 과반수 의석을 획득한 단독 정당 또는 복수의 정당 연합의 대표가 맡는다.

- ① 갑국의 행정부는 입법부에 대해 책임을 진다.
② 을국의 행정부는 연립 내각으로 구성될 수 없다.
③ 갑국은 을국과 달리 권력이 융합된 정부 형태를 갖고 있다.
④ 을국은 갑국과 달리 행정부 수반의 임기가 엄격하게 보장된다.
⑤ 갑국과 을국은 모두 행정부의 입법부 견제 권한이 있다.

5. A, B에 해당하는 기본권에 대한 설명으로 옳은 것은? [3점]

국가는 개인이 가지는 기본적 인권을 확인하고 이를 보장할 의무를 진다. 헌법이 보장하는 이러한 기본적 권리 중에는 A와 B가 있다. A는 모든 사람이 최소한의 기본적 수요를 충족하고, 건강하고 문화적인 생활을 영위할 수 있을 정도의 '급부 요구'를 내용으로 한다. B는 서구 국가들에서 근대 시민혁명을 통해 확보한 권리로서 소극적이고 방어적인 성격을 가지며, '간섭 배제'를 내용으로 한다.

- ① A는 국가 성립 이전에도 인정된 권리이다.
② B는 헌법에 열거되지 않아도 보장될 수 있는 권리이다.
③ A의 예로 형사상 묵비권을 들 수 있다.
④ B의 예로 최저 생계를 보장받을 권리를 들 수 있다.
⑤ A, B는 모두 자본주의의 문제점을 해결하는 과정에서 등장하였다.



6. 다음 글의 필자 입장에 부합하는 진술로 가장 적절한 것은?

오늘날 사람들은 TV, 신문, 인터넷 등을 통해 새로운 정보들을 습득하게 된다. 이러한 과정에서 사람들은 자신이 선호하는 매체를 선택한 후, 적극적으로 정보를 취사선택하여 합리적으로 판단한다고 생각할 수 있다. 그러나 대중 매체를 통해 접하게 되는 정보는 해당 매체가 취사선택하고 해석한 것에 불과할 수 있다. 매체에서 중요하다고 판단하여 보도한 사건은 사회적 논의 대상이 되지만 보도하지 않은 사건은 그렇게 되지 않을 수 있다. 오히려 사회적으로 중요한 사건이 대중 매체에 보도되지 않거나 아주 작게 보도될 수 있다.

- ① 시민들은 선호 매체의 선택을 통해 대중 매체의 보도 방향을 결정한다.
- ② 대중 매체의 선택적 보도는 시민이 정보의 중요성을 판단하는데 영향을 미친다.
- ③ 대중 매체는 정보 제공에 있어서 객관성이 아니라 사회적 책임성을 중시한다.
- ④ 다양한 대중 매체들이 제공하는 정보는 시민들의 능동적 정보 해석에 도움이 된다.
- ⑤ 대중 매체는 사회적으로 중요한 사건일수록 보도 비중을 높여 여론 형성에 영향을 미친다.

7. 갑국~병국 의회의 비례 대표 의석 배분 방식에 대한 분석으로 옳은 것은? [3점]

국가	비례 대표 의석 배분 방식
갑국	지역구 선거에서 전국적으로 5석 이상 얻은 정당에 대해 지역구 의석수에 따라 비례 대표 의석 배분 - 지역구 선거에서 전국적으로 5석 미만 얻은 정당 중 3% 이상 득표한 정당에는 최소 1석 보장
을국	정당의 지역구 후보들이 전국적으로 얻은 득표 비율에 따라 비례 대표 의석 배분 - 지역구 선거에서 전국적으로 5석 이상 얻거나 5% 이상 득표한 정당에 그 득표율에 따라 배분
병국	독립적인 정당 명부식 비례 대표 선거에서 얻은 정당 득표 비율에 따라 비례 대표 의석 배분 - 비례 대표 선거에서 3% 이상 얻거나 지역구 선거에서 전국적으로 5석 이상을 얻은 정당에 비례 대표 선거 득표율에 따라 배분

- ① 갑국의 경우 지역구 선거에서 의석을 얻은 모든 정당은 최소 1석의 비례 대표 의석을 확보한다.
- ② 을국의 경우 지역구 선거에서 5석 미만을 얻은 정당은 비례 대표 의석을 배분받을 수 없다.
- ③ 갑국의 비례 대표 의석 배분 방식은 병국에 비해 평등 선거의 원칙에 충실하다.
- ④ 병국은 을국과 달리 지역구 선거 결과가 비례 대표 의석 배분에 영향을 미치지 않는다.
- ⑤ 병국의 비례 대표 의석 배분 방식은 갑국과 을국에 비해 직접 선거의 원칙에 충실하다.

8. 다음 글에 나타난 정치 참여 집단의 공통적인 특징으로 옳은 것을 <보기>에서 고른 것은?

- 아동의 건강과 복지 향상을 추구하는 ○○단체는 학교 앞에서 판매하는 불량 식품에 대한 규제를 강화해야 한다고 주장하면서 식품 유통 관련법의 개정을 위한 서명 운동을 전개하고 있다.
- △△단체는 식품 관련 규제와 단속이 지나쳐 자유 시장 경제 질서를 위협할 뿐만 아니라 소속 회원들의 영업 이익을 침해하고 있다며 규제 조치의 완화가 필요하다는 성명을 발표하였다.

— <보기> —

- ㄱ. 특정한 분야에서 특수한 이익을 추구한다.
- ㄴ. 시민의 자발적인 참여로 공공선을 추구한다.
- ㄷ. 대의 민주주의의 한계를 보완하는 역할을 한다.
- ㄹ. 자율적인 결사체이며 정치 사회화 기능을 수행한다.

- ① ㄱ, ㄴ    ② ㄱ, ㄷ    ③ ㄴ, ㄷ    ④ ㄴ, ㄹ    ⑤ ㄷ, ㄹ

9. 헌법 기관 ㉠~㉣에 대한 설명으로 옳은 것은? [3점]

체험 학습 참가자를 모집합니다				
1. 기간 및 장소: 2015년 4월 ○일~○일, 서울				
2. 체험 목적: 헌법 기관의 주요 기능 이해				
날짜	4월 ○일	4월 ○일	4월 ○일	4월 ○일
방문 기관	㉠	㉡	㉢	㉣
체험 학습 내용	◇의정 체험 ◇분회의와 교섭 단체의 기능 이해	◇기관 견학 ◇국가의 세입·세출의 결산 ◇검사 보고 및 공무원의 직무 감찰에 대한 이해	◇상고심 재판 방청 ◇재판 절차의 이해	◇헌법 재판 방청 ◇헌법 소원 심판의 이해

- ① ㉠은 국무총리와 국무 위원을 해임할 수 있다.
- ② ㉡은 국정 감사 및 조사권을 통해 행정부를 견제한다.
- ③ ㉢은 시·도지사의 선거 소송을 담당한다.
- ④ ㉣은 명령·규칙이 헌법이나 법률에 위반되는지 여부가 재판의 전제가 된 경우 이에 대한 최종 심사권을 가진다.
- ⑤ ㉠의 장(長)은 ㉢의 법관 중 3인을 임명한다.

10. 국제 사회를 바라보는 A 관점에 대한 옳은 설명을 <보기>에서 고른 것은?

A 관점에서는 세력 균형을 국제 사회의 안정을 유지하는 중요한 체제로 인식하고 있다. 세력 균형이란 어떤 한 국가나 국가들의 집합이 지배적인 힘을 갖게 되면 다른 나라들에 폭력의 위협이나 행사로 그들의 의지를 강요하게 될 위험이 있기 때문에 대응 세력을 통해 이를 억지하는 체제이다.

— <보기> —

- ㄱ. 국제 사회에서 상대국에 대한 힘의 우위를 중시한다.
- ㄴ. 국제 사회에서 자국 이익의 배타적 추구를 강조한다.
- ㄷ. 국제 사회에서 국제법과 국제기구의 역할을 중시한다.
- ㄹ. 국제 사회에서 권력관계보다 상호 협력 관계를 강조한다.

- ① ㄱ, ㄴ    ② ㄱ, ㄷ    ③ ㄴ, ㄷ    ④ ㄴ, ㄹ    ⑤ ㄷ, ㄹ



11. (가), (나)에 대한 설명으로 옳은 것은? [3점]

(가) 신청서	(나) 청구서
<p>사건: 96가합1234 원고: △△안전공단 피고: 갑</p> <p style="text-align: center;"><b>신청 취지</b></p> <p>①△△안전공단법 제○○조가 헌법에 위반된다.</p> <p style="text-align: center;"><b>신청 이유</b></p> <p>...(전략)...위헌이라고 판단되므로 ...(중략)...제청해 주실 것을 신청 하기에 이르렀습니다.</p>	<p>청구인 갑 대리인 변호사 ◇◇◇</p> <p style="text-align: center;"><b>청구 취지</b></p> <p>"△△안전공단법 제○○조가 헌법에 위반된다."라는 결정을 구합니다.</p> <p style="text-align: center;"><b>당해 사건</b></p> <p>96가합1234</p> <p style="text-align: center;"><b>위헌이라고 해석되는 법률 조항</b></p> <p>△△안전공단법 제○○조</p>

- ① (가)은/는 국가 기관 상호간의 권한 다툼을 해결하고자 하는 것이다.
- ② (가)은/는 ①으로 인해 침해된 기본권을 구제받기 위하여 원고가 신청한 것이다.
- ③ 갑이 청구한 (나)은/는 권리 구제형 헌법 소원에 해당한다.
- ④ (가)의 신청은 법원에, (나)의 청구는 헌법 재판소에 해야 한다.
- ⑤ (가)의 신청이 기각되지 않아도 갑은 ①에 대해 (나)을/를 청구할 수 있다.

12. 다음 사례에 대한 옳은 법적 판단을 <보기>에서 고른 것은? [3점]

- 대학생 갑(21세)은 방학 동안 커피 전문점에서 법정 최저 임금을 받기로 하고 3개월간 아르바이트를 했다. 사용자가 첫 달 월급은 주었는데 나머지 월급을 차일피일 미루면서 현재까지 주지 않고 있다.
- 근로자 을(21세)은 근로 조건의 개선을 위해 동료들과 함께 노동조합을 결성하고 단체 교섭을 요구했으나 사용자가 이에 응하지 않아 적법하게 파업을 이끌었다. 이에 사용자는 을이 파업을 주도했다는 이유로 을을 해고했다.

— < 보 기 —

ㄱ. 갑은 미지급된 임금을 받기 위해 법원에 소액 사건 심판을 제기할 수 있다.

ㄴ. 갑은 사용자의 부당 노동 행위를 이유로 노동 위원회에 구제 신청을 할 수 없다.

ㄷ. 사용자는 을의 해고에 대한 노동 위원회의 구제 명령에 이의가 있어도 소송을 제기할 수 없다.

ㄹ. 을은 노동 위원회에 구제 신청하는 것과 별도로 행정 법원에 해고 무효 확인 소송을 제기할 수 있다.

- ① ㄱ, ㄴ    ② ㄱ, ㄷ    ③ ㄴ, ㄷ    ④ ㄴ, ㄹ    ⑤ ㄷ, ㄹ

13. 갑의 조언에 나타난 민법의 원칙에 대한 설명으로 가장 적절한 것은?

제가 작년에 급하게 돈이 필요하여 높은 이자율로 돈을 빌렸는데, 이자를 원금보다 많이 갚았고 이제는 도저히 돈을 갚을 수 없는 지경입니다. 채권자는 약정에 따라 이자 및 원금을 요구하는데 어떻게 하면 좋을까요?

법으로 정한 최고 이자율을 초과하는 부분은 무효입니다. 원금과 최고 이자율을 초과하여 지급하였다면, 초과한 부분은 돌려받을 수 있습니다.

- ① 소유권은 공공복리를 위하여 제한될 수 있다.
- ② 형식적인 계약의 자유에서 나아가 계약의 공정을 실현한다.
- ③ 과실이 없을 때에도 일정한 경우 손해 배상 책임을 질 수 있다.
- ④ 계약 당사자의 자유 의사에 의한 자기 책임의 원칙을 반영한다.
- ⑤ 법률관계의 형성은 개인의 자유로운 의사에 맡겨야 하고 국가가 개입해서는 안 된다.

14. 다음 사례에 대한 법적 판단으로 옳은 것은?

갑은 을(16세)의 법정 대리인인 아버지이다. 갑은 오토바이 판매업자인 병으로부터 연락을 받았는데, 지난 주에 을이 300만 원짜리 오토바이를 구입하고 100만 원만 지급한 채 나머지 대금을 지급하지 않으니 을의 잔금을 대신 내라는 것이었다. 이에 갑은 을이 용돈의 범위를 벗어나 자신의 동의 없이 오토바이를 구매하였으므로 계약을 취소하겠다고 주장하고 100만 원을 돌려달라고 하였으나 병은 이를 거절하였다.

- ① 갑은 민사 조정 절차를 거쳐야 소송을 제기할 수 있다.
- ② 갑은 계약의 당사자가 아니라도 계약을 취소할 수 있다.
- ③ 갑은 소송을 제기함과 동시에 강제 집행 절차에 들어갈 수 있다.
- ④ 을은 갑의 동의가 없으면 계약을 취소할 수 없다.
- ⑤ 병은 내용 증명 우편을 보내야 갑에게 200만 원을 청구할 수 있다.

15. 그림 (가), (나)의 상황에 대한 법적 판단으로 옳은 것은? [3점]

(가) 갑의 어머니 '을' 이시죠? 댁의 아이가 저희 집 유리창을 깬 것 같은데 어떻게 하실 거예요!

(나) 사장님 '정' 이시죠? 저와 계약한 담배품을 당시 회사 직원 병이 결혼식 하객들이 다 떠난 뒤에 가져와 결혼식을 망쳐 버렸는데 어떻게 하실 거예요!

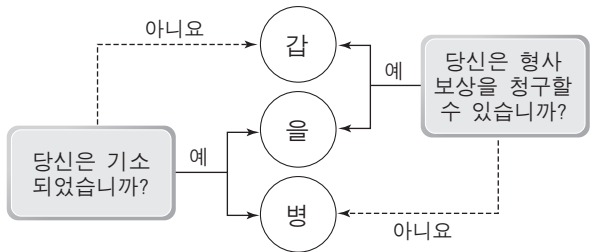
- ① 갑에게 고의와 과실이 모두 없어도 을은 손해 배상 책임을 진다.
- ② 갑이 유리창을 깬더라도 책임 능력이 없으면 을은 손해 배상 책임을 지지 않는다.
- ③ 정은 병의 불법 행위 여부와 상관없이 채무 불이행으로 인한 손해 배상 책임을 진다.
- ④ 정은 병에 대한 모든 주의 의무를 다했어도 병의 불법 행위로 인한 손해에 대해 사용자 배상 책임을 진다.
- ⑤ 정은 을과 달리 손해에 대하여 원상으로 회복시켜 주는 것을 원칙으로 한다.

16. 밑줄 친 ㉠~㉢에 대한 법적 판단으로 옳은 것은? [3점]

고등학생 갑(18세)은 멋을 내고 싶은 생각에 백화점 가판대에서 ㉠의류 3벌을 훔쳤다. 담당 검사는 관할 보호 관찰소의 장에게 갑의 품행과 생활 환경에 대한 조사를 요구하였고, ㉡그 결과를 고려하여 갑을 ㉢가정 법원 소년부에 송치하였다. 가정 법원 소년부에서 열린 청소년 참여 법정에서 또래 학생들로 구성된 청소년 참여인단이 '자기 관찰 보고서와 인생 설계도 작성'이라는 부과 과제를 가정 법원 판사에게 건의하였다. 가정 법원 판사는 갑에게 제시된 ㉣부과 과제를 이행하라는 명령을 내렸다.

- ① 갑은 ㉠ 이전에 성년 의제가 되었다라도 ㉢에 송치될 수 있다.
- ② ㉠ 이후에 갑이 의류를 돌려 준 경우 위법성 조각 사유가 인정된다.
- ③ ㉡에 따라 검사는 ㉢에 즉결 심판을 청구할 수 있다.
- ④ 검사는 갑을 기소 유예함과 동시에 ㉢에 송치할 수 있다.
- ⑤ 갑이 ㉣을 이행하지 않으면 ㉢에서 과료가 선고될 수 있다.

17. 그림은 형사 절차를 거친 갑~병을 구분한 것이다. 이에 대한 분석 및 추론으로 옳은 것은?



- ① 갑은 구금되지 않거나 불구속 상태에서 수사를 받고 무혐의 처분을 받았을 것이다.
- ② 을은 불구속된 상태에서 기소된 후 선고 유예의 판결이 확정되었을 것이다.
- ③ 을은 형사 보상을 법원에 청구할 수 있고, 명예 회복 청구는 검찰청에 할 수 있다.
- ④ 병이 무죄 판결을 받았다면 병은 배상 명령 제도를 통해 피해에 대한 배상을 받을 수 있다.
- ⑤ 병은 형사 재판 중 청구한 구속 적부 심사를 통해 석방된 상태에서 무죄 판결이 확정되었을 것이다.

18. 다음 사례에 대한 옳은 법적 판단을 <보기>에서 고른 것은? [3점]

갑은 출퇴근 용도로 A 회사의 신형 자동차를 구매하여 운행하였는데 배기구의 결함으로 배기 가스가 자동차 실내로 유입되었다. 이로 인해 신체의 손상을 입은 갑은 A 회사에 적절한 보상을 요구하였으나 A 회사는 이를 거절하였다. 이에 갑은 한국 소비자에게 피해 구제를 의뢰하였다.

— <보기> —

ㄱ. 갑은 A 회사에 제조물 책임을 물을 수 없다.  
 ㄴ. 갑은 한국 소비자의 피해 구제 절차가 진행 중인 경우 민사 소송을 제기할 수 없다.  
 ㄷ. A 회사는 리콜(Recall)을 실시한 경우라도 갑에 대한 손해 배상 책임을 질 수 있다.  
 ㄹ. 갑이 한국 소비자에게 피해 구제를 의뢰한 것은 대안적 분쟁 해결 방식을 선택한 것이다.

- ① ㄱ, ㄴ    ② ㄱ, ㄷ    ③ ㄴ, ㄷ    ④ ㄴ, ㄹ    ⑤ ㄷ, ㄹ

19. 그림의 (가)에 들어갈 법적 조언으로 옳은 것은? [3점]

저는 2015년 7월 1일 보증금 1억 원에 주택 임대차 계약을 체결하고 A주택에 살고 있습니다. A주택 등기 사항 전부 증명서(등기부 등본)가 이런데 괜찮을까요?

(가)

순위 번호	등기 목적	접수	등기 원인	권리자 및 기타 사항
1	저당권 설정	2015년 7월 10일 제 000호	2015년 7월 9일 설정 계약	채권액 금 1억 원 채무자 갑(이하 생략) 저당권자 을(이하 생략)

- ① 갑구를 보니 A주택에 저당권이 설정되어 있으므로 경매에 넘어갈 수 있습니다.
- ② 주택 임대차 보호법상 대항력만 갖추면 등기부에 공시되어 을에게 대항할 수 있습니다.
- ③ 저당권 설정 전에 전입 신고만 했다면 경매 시 을보다 우선하여 보증금을 돌려받을 수 없습니다.
- ④ A주택은 을이 가압류하고 있으므로 임차인도 신속하게 가압류하여 대항력을 확보해야 합니다.
- ⑤ 주택 임대차 보호법상 대항력만 갖추면 A주택이 경매되어 1억 원에 매각되어도 을과 5천만 원씩 나누어 받습니다.

20. 다음 사례에 대한 법적 판단으로 옳은 것은?

갑국과 을국을 관통하는 국제 하천이 존재하는 상황에서 상류에 있는 갑국의 댐 건설로 수질이 악화되어 하류에 있는 을국의 농업에 큰 손해를 입혔다. 이에 대한 소송이 제기된 국제 사법 재판소에서 을국은 다른 국가들과 체결한 다자 조약을 이유로 조약 당사국이 아닌 갑국에 대해 손해를 배상할 것을 주장하였으나, 갑국은 댐 건설이 내정에 관한 것이기에 을국은 간섭할 권한이 없다고 주장하였다. 이 사건에서 갑국은 댐 건설과 관련하여 국제기구 및 피해를 입을 가능성이 있는 인접국들과 법적 구속력을 가지는 약속을 하기 위해 협의했으나 실패했다. 또한 이에 대해 국제 사회의 묵시적인 합의에 따라 법으로 승인되고 준수되는 국제 사회의 반복적인 관행도 존재하지 않았다.

- ① 국제 사법 재판소는 갑국의 행위가 법의 일반 원칙을 위반하였는지를 판단할 수 있다.
- ② 국제 사법 재판소는 을국이 체결한 다자 조약에 의해 갑국의 손해 배상 책임을 인정할 수 있다.
- ③ 국제 사법 재판소는 국제 하천에 대한 국제 관습법에 의해 갑국의 손해 배상 책임을 인정할 수 있다.
- ④ 국제 사법 재판소는 을국이 승소한 경우 강제 집행할 수 있다.
- ⑤ 국제 사법 재판소는 이와 유사한 사건에 대한 판례가 있는 경우 반드시 따라야 한다.

\* 확인 사항  
 ○ 답안지의 해당란에 필요한 내용을 정확히 기입(표기)했는지 확인하십시오.




제 4 교시

# 사회탐구 영역(법과 정치)

성명  수험 번호

1. 그림은 정치의 의미에 대한 수업 장면이다. 갑, 을의 관점에 대한 설명으로 옳은 것은?



- ① 갑의 관점은 국가 형성 이전의 정치 현상을 설명하기에 적합하다.
- ② 을의 관점은 복잡하고 다원화된 현대 사회의 정치 현상을 설명하기에 적합하지 않다.
- ③ 갑과 달리 을의 관점은 공적인 문제에 대한 의견 조율 활동을 정치가 아니라고 본다.
- ④ 을과 달리 갑의 관점은 학급 회의나 반장 선거를 정치라고 본다.
- ⑤ 갑과 을의 관점은 모두 국회의원의 입법 활동을 정치라고 본다.

2. (가), (나)는 국가 성립에 관한 근대 정치 사상이다. 이에 대한 옳은 설명을 <보기>에서 고른 것은?

(가) 자연 상태는 자유롭고 평화롭지만, 실정법, 재판관, 집행 권력이 없기 때문에 불안정하다. 개인들은 이러한 상태를 극복하고 생명, 자유, 재산 등의 권리를 안정적으로 보호받고자 스스로 계약을 통해 국가를 형성한다.

(나) 자연 상태에서 개인은 누구나 자연권을 마음대로 누릴 수 있기 때문에 항상 불신과 전쟁의 위협에 처해 있다. 개인들은 이러한 상태를 벗어나 생명과 안전을 보호 받고자 스스로 계약을 통해 자연권을 포기하고 절대 군주의 통치를 받는 국가를 형성한다.

— <보기> —

- ㄱ. (가)는 자연 상태에서의 자연법에 의해서도 개인의 권리가 안정적으로 보호된다고 본다.
- ㄴ. (나)는 개인이 자기 보존을 위해서는 자연 상태에서 행하던 자연권을 양도해야 한다고 본다.
- ㄷ. (가)는 (나)와 달리 직접 민주제를 옹호하기 위해 저항권을 인정한다.
- ㄹ. (가), (나) 모두 사회 계약에서 개인을 자유롭고 평등한 존재로 설정한다.

- ① ㄱ, ㄴ    ② ㄱ, ㄷ    ③ ㄴ, ㄷ    ④ ㄴ, ㄹ    ⑤ ㄷ, ㄹ

3. 법치주의의 유형 (가), (나)에 대한 설명으로 옳은 것은? [3점]

근대 법치주의 전개 과정에서 먼저 등장한 (가)는 적법한 절차에 따라 법을 제정하고, 그 법에 의한 지배가 이루어져야 한다고 본다. 이후 등장한 (나)는 법 제정 과정의 절차적 적법성뿐만 아니라, 내용의 정당성을 갖춘 법의 지배가 이루어져야 한다고 본다.

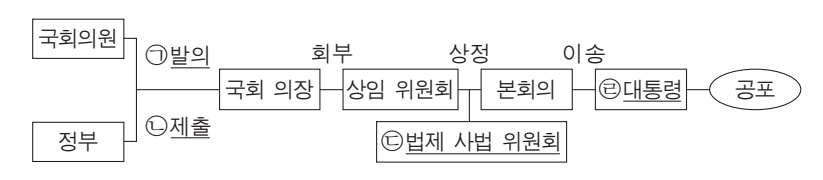
- ① 우리나라의 위헌 법률 심사제는 (나)의 실현을 저해한다.
- ② (가)와 달리 (나)는 인치(人治)를 부정한다.
- ③ (가)와 달리 (나)는 국가의 모든 행정 작용이 법에 의해 이루어져야 함을 강조한다.
- ④ (나)와 달리 (가)는 독재 정치를 정당화하는 논리로 악용되기도 한다.
- ⑤ (가), (나) 모두 법의 목적과 내용이 정의에 부합해야 함을 강조한다.

4. 다음 글에 나타난 전형적인 정부 형태에 대한 설명으로 옳은 것은? [3점]

입법부는 국민의 선거를 통해 선출된 대표들로 구성되고, 행정부는 입법부에 의해서 구성된다. 입법부는 행정부에 책임을 물을 수 있는 권한을 가지고, 행정부는 입법부가 재구성되도록 할 수 있는 권한을 가진다.

- ① 수상과 각료는 의회 의원직을 겸할 수 없다.
- ② 국가 원수와 행정부 수반이 일원화되어 있다.
- ③ 입법부와 행정부의 권력이 융합된 형태이며, 양자 간 상호 견제 하는 장치도 있다.
- ④ 내각의 법률안 제출권 및 거부권으로 국정 운영의 신속성과 능률성이 보장된다.
- ⑤ 의회가 내각 불신임안을 의결하면 수상은 책임을 지고 사퇴 해야 하지만 각료는 유임된다.

5. 그림은 우리나라 입법 절차를 간략히 나타낸 것이다. 밑줄 친 ㉠~㉣에 대한 옳은 설명을 <보기>에서 고른 것은?



— <보기> —

- ㄱ. ㉠의 경우 국회의원 10인 이상의 찬성으로 할 수 있다.
- ㄴ. ㉡의 이전 단계에서 국회 의장은 국무 위원으로 법률안 심의에 참여한다.
- ㄷ. ㉢에서 법률안의 체계와 자구를 심사한다.
- ㄹ. ㉣은 법률안이 정부에 이송된 지 20일 경과 후 공포한다.

- ① ㄱ, ㄴ    ② ㄱ, ㄷ    ③ ㄴ, ㄷ    ④ ㄴ, ㄹ    ⑤ ㄷ, ㄹ





11. 밑줄 친 ㉠~㉣에 대한 설명으로 옳은 것은?

근대 민법의 세 가지 기본 원칙에는 사유 재산권 존중의 원칙, ㉠ 계약 자유의 원칙, ㉡ 과실 책임의 원칙이 있다. 이러한 근대 민법의 원칙들은 독과점, 빈부 격차 등 자본주의의 문제점을 경험하면서 각각 ㉢ 소유권 공공복리의 원칙, ㉣ 계약 공정의 원칙, ㉤ 무과실 책임의 원칙으로 수정되었다.

- ① ㉠은 개인의 자율적 의사에 기초하여 체결된 계약의 부작용을 강조한다.
- ② ㉡은 새로운 원칙으로 대체되면서 현재 우리나라 민법에서는 폐기되었다.
- ③ ㉢에 따르면 소유권은 공공복리의 차원에서 제한될 수 없는 절대적 권리이다.
- ④ ㉣에 따르면 노예 계약도 적법한 것으로 인정된다.
- ⑤ ㉤을 적용한 예로 우리나라의 제조물 책임법을 들 수 있다.

12. 다음 사례에 대한 법적 판단으로 옳은 것은? [3점]

갑은 을이 두고 간 휴대폰을 가져다주고 그 대가를 받는 내용의 계약을 을과 체결하였다. 갑은 자전거를 타고 휴대폰을 가져가던 중 전방을 제대로 주시하지 않은 과실로 병과 충돌하였다. 이 사고로 을의 휴대폰은 파손되었고 병은 크게 다쳤다.

- ① 갑과 을의 계약이 유효하기 위해서는 계약 내용을 문서로 작성했어야 한다.
- ② 갑이 계약에 따른 의무를 제대로 이행하지 못하였으므로 을에 대하여 손해 배상 책임을 진다.
- ③ 갑은 병이 사고로 인해 입은 정신적 손해에 대해서는 배상할 책임이 없다.
- ④ 갑이 고의로 사고를 낸 것이 아니므로 병에 대하여 손해 배상 책임을 지지 않는다.
- ⑤ 갑의 가해 행위와 병의 손해 사이의 인과 관계 여부와 무관하게 갑은 병에 대하여 손해 배상 책임을 진다.

13. 다음 사례에 대한 법적 판단으로 옳은 것은? [3점]

갑은 지병으로 최근 사망하였다. 사망 당시 갑에게는 아내 을(55세), 딸 병(28세), 아들 정(25세)이 있었다. 당시 갑에게는 부동산 1억 원, 은행 대출로 인한 채무 1억 5천만 원이 있었다. 별도의 유언은 없었다. 정은 법이 정한 기간 내 한정 승인하였으나, 을과 병은 재산보다 채무가 더 많다는 사실을 알고 있으면서도 법이 정한 기간 내 아무런 의사 표시를 하지 않았다.

- ① 병에게 채무는 상속되지 않는다.
- ② 을, 병의 법정 상속분은 동일하다.
- ③ 병은 혼인 여부에 따라 법정 상속분에 차이가 있다.
- ④ 정은 상속에 의해 얻은 재산의 한도에서만 빚을 갚는 책임을 지게 된다.
- ⑤ 갑 사망 당시 병이 임신 중이었다면 그 태아에게도 유류분 반환 청구권이 인정된다.

14. 다음 사례에 대한 법적 판단으로 옳은 것은?

갑은 을에게 주택을 임대하였다. 계약 갱신 문제로 갑과 을 사이에 분쟁이 발생하자, 갑은 다음과 같은 내용 증명 우편을 보내고자 한다.

**임대차 계약 갱신 거절 통지**

발신인: 갑  
 ◇◇시 ○○구 □□로 100

수신인: 을  
 ◇◇시 △△구 ☆☆로 200

1. 귀하는 본인으로부터 2014년 7월 1일부터 2년 기간으로 주택을 임차하였습니다.

2. 2016년 6월 30일 임대차 기간이 만료될 예정입니다.

3. 본인은 임대차 계약의 갱신을 원하지 않습니다.

4. 위 만료일까지 인도가 이루어지지 않는 경우 주택의 인도를 구하는 민사 소송을 제기하는 등의 법적 조치를 취할 예정입니다.

2016년 5월 2일  
 갑 (인)

- ① 갑은 주민 센터에서 위 문서를 내용 증명 우편으로 발송할 수 있다.
- ② 갑이 내용 증명 우편을 보내지 않은 경우 민사 소송을 제기할 수 없다.
- ③ 갑이 내용 증명 우편을 보낸 경우 을의 재산에 대하여 재판 없이 강제 집행할 수 있다.
- ④ 을이 내용 증명 우편을 받은 경우 갑은 민사 소송에서 계약 갱신 의사가 없음을 통지했다는 증거로 활용할 수 있다.
- ⑤ 갑과 을이 임대차 기간을 1년으로 계약하였다면 을은 본인의 의사와 무관하게 2015년 6월 30일까지 주택을 인도해야 한다.

15. 그림은 맞춤형 생활 법률 안내 사이트이다. (가)에 들어갈 수 있는 옳은 내용을 <보기>에서 고른 것은? [3점]

- <보기> —
- ㄱ. 부모의 동의가 없더라도 본인의 재산을 처분할 수 있습니다.
  - ㄴ. 범죄를 저질렀을 경우 소년법상 보호 처분을 받을 수 있습니다.
  - ㄷ. 성년으로 간주되어 국민 참여 재판의 배심원이 될 수 있습니다.
  - ㄹ. 제한 능력자로 본인이 체결한 계약을 법정 대리인이 취소할 수 있습니다.

- ① ㄱ, ㄴ    ② ㄱ, ㄷ    ③ ㄴ, ㄷ    ④ ㄴ, ㄹ    ⑤ ㄷ, ㄹ

16. 다음 자료에 대한 분석으로 옳은 것은? [3점]

범죄가 성립되려면 먼저 어떤 행위가 구성 요건에 해당하고, A, B가 충족되어야 한다. 구성 요건 해당성이 충족되더라도 ㉠A가 조각되는 경우나 ㉡B가 조각되는 경우에는 범죄가 성립되지 않는다.

- ① A가 '위법성' 이라면, ㉠의 사례로 '심신 상실자가 남의 물건을 훔치는 행위' 를 들 수 있다.
- ② B가 '책임' 이라면, ㉡의 사례로 '자신에게 돌진하는 자동차를 피하기 위해 가게 물건을 파손한 행위' 를 들 수 있다.
- ③ '8세 어린이가 남의 집에 방화를 한 행위' 가 ㉠의 사례라면, A는 '책임' 이다.
- ④ '자신의 생명에 대한 위해를 방어할 방법이 없는 협박을 받아 법정에서 위증한 행위' 가 ㉡의 사례라면, B는 '위법성' 이다.
- ⑤ '격투기 선수가 시합 과정에서 상대 선수에게 중상을 입힌 행위' 가 ㉠의 사례라면, 정당방위는 ㉡에 해당한다.

17. 밑줄 친 ㉠~㉣에 대한 설명으로 옳은 것은?

**<사건 일지 개요>**  
 2016년 ○월 ○○일 : ㉠수사 착수  
 2016년 ○월 ○○일 : ㉡피의자 갑 체포 후 경찰 수사  
 2016년 ○월 ○○일 : ㉢피고인 갑이 ㉣국민 참여 재판을 신청  
 2016년 ○월 ○○일 : 1심 재판 결과, 피고인 갑에게 징역 6월에 ㉤집행 유예 1년 선고

- ① ㉠은 검사의 기소를 통해서 개시된다.
- ② ㉡이 구속된 경우 구속 적부 심사를 법원에 청구할 수 있다.
- ③ ㉢은 재판 과정에서는 진술 거부권을 행사할 수 없다.
- ④ ㉣에서 법원의 판결은 배심원의 평결과 같아야 한다.
- ⑤ ㉤은 유예 기간 동안 죄를 짓지 않으면 면소된 것으로 간주하는 제도이다.

18. (가)에 들어갈 진술로 옳지 않은 것은?



- ① A는 실질적 평등의 구현을 목적으로 합니다.
- ② A는 국가의 적극적 개입의 근거를 제공합니다.
- ③ A는 사적 자치의 원칙을 보장하기 위한 법입니다.
- ④ A에는 근로자의 생존권 확보를 위한 노동법이 있습니다.
- ⑤ A에는 국민 경제의 균형적 발전을 위한 경제법이 있습니다.

19. 다음 자료에 대한 옳은 설명만을 <보기>에서 있는 대로 고른 것은? [3점]

1차 세계 대전 이후 만들어진 (가)이/가 국제 평화 유지에 실패하자 이를 대신하여 1945년 국제 연합이 창설되었다. 국제 연합의 주요 기관 중 (나)은/는 모든 회원국이 참여하는 형식상 최고 의결 기관이다. 안전 보장 이사회는 국제 평화와 안전 유지의 책임을 맡은 기관으로 ㉠상임 이사국과 비상임 이사국으로 구성된다. 그리고 ㉡국제 사법 재판소는 국가 간의 분쟁을 법적으로 해결하는 국제 연합의 사법 기관이다.

—<보기>—  
 가. (가)는 강대국의 불참으로 인해 국제 분쟁을 해결하는 데 한계가 있었다.  
 나. (나)의 표결 방식은 주권 평등의 원칙에 기초한다.  
 다. ㉠의 거부권은 국제 사회에서 힘의 논리가 반영된 것이다.  
 리. ㉡은 원칙적으로 국제 사회의 모든 법적 분쟁에 있어 강제적 관할권을 가진다.

- ① 가, 다                      ② 나, 리                      ③ 다, 리
- ④ 가, 나, 다                ⑤ 가, 나, 리

20. 밑줄 친 ㉠, ㉡에 대한 옳은 설명을 <보기>에서 고른 것은?

과거 우리나라 ㉠민법상 혼인할 수 있는 최저 연령은 남자 18세, 여자 16세로 성별 차이가 있었다. 하지만 우리나라가 비준한 ㉡여성 차별 철폐 협약은 여성을 차별하는 모든 법률을 폐지하도록 하고, 아동 혼인의 법적 효력을 부인하는 내용을 담고 있다. 이 협약의 취지와 사회적 인식 변화에 따라 민법의 관련 규정이 개정되었다.

—<보기>—  
 가. ㉠은 국가 내 입법 기관에 의해 제·개정된다.  
 나. 우리나라에서 ㉡과 같은 국제법의 법원(法源)은 대통령이 비준한다.  
 다. 우리나라에서 ㉡이 헌법에 의하여 체결·공포되었다면 헌법과 같은 효력을 가진다.  
 리. ㉠은 ㉡과 달리 성문화된 형식으로 존재한다.

- ① 가, 나                      ② 가, 다                      ③ 나, 다                      ④ 나, 리                      ⑤ 다, 리

\* 확인 사항  
 ○ 답안지의 해당란에 필요한 내용을 정확히 기입(표기)했는지 확인 하시오.



제 4 교시

# 사회탐구 영역(법과 정치)

성명	수험 번호
----	-------

1. (가), (나)는 정치를 보는 관점이다. 이에 대한 옳은 설명을 <보기>에서 고른 것은?

(가) 정치권력을 획득하고 유지하며 행사하는 것은 국가의 고유한 기능이다. 정치는 물리적 강제력을 독점한 국가가 사회적 갈등을 해결하고 질서를 유지하는 과정에서 나타나는 현상이다.

(나) 다양한 집단에서 나타나는 이해관계의 대립과 갈등을 조정하고 해결해 가는 과정이 정치이다. 정치는 국가를 포함한 모든 사회 집단에서 권력을 형성하고 배분하며 행사하는 것과 관련된 현상이다.

— <보기> —

ㄱ. (가)는 (나)보다 정치를 넓은 의미로 이해한다.  
 ㄴ. (가)는 (나)보다 공동의 문제를 해결하는 과정에 참여하는 주체가 다양하다고 본다.  
 ㄷ. (나)는 (가)와 달리 아파트 쓰레기 처리 문제를 해결하기 위해 주민 회의를 하는 것을 정치라고 본다.  
 ㄹ. (가), (나) 모두 국무 회의에서 주요 정책을 심의하는 것을 정치라고 본다.

- ① ㄱ, ㄴ    ② ㄱ, ㄷ    ③ ㄴ, ㄷ    ④ ㄴ, ㄹ    ⑤ ㄷ, ㄹ

2. (가), (나)는 근대 시민 혁명과 관련된 주요 문서의 일부이다. 이에 대한 옳은 설명만을 <보기>에서 있는 대로 고른 것은? [3점]

(가)

(나)

제1조 국왕이 의회의 동의 없이 왕권으로 법의 효력을 정지하거나 법의 집행을 정지할 수 있다는 주장은 위법이다. ... (중략) ... 제5조 국왕에게 청원하는 것은 국민의 권리이므로 그러한 청원을 했다는 이유로 구금하거나 박해하는 것은 위법이다.	제2조 모든 정치적 결사의 목적은 자유, 재산, 안전, 압제에 대한 저항 등 인간의 천부적이며 양도할 수 없는 권리를 보존하는 데 있다. 제3조 모든 주권의 근원은 국민에게 있다. 어떤 단체나 개인도 국민으로부터 유래하지 않은 권한을 행사할 수 없다.
--	---

— <보기> —

ㄱ. (가)는 입헌 정치의 기틀이 마련되는 데 기여하였다.  
 ㄴ. (나)는 국민 주권의 원리를 강조하고 있다.  
 ㄷ. (가), (나) 모두 계몽사상의 영향을 받았다.  
 ㄹ. (가), (나)에 의해 보통 선거, 평등 선거 원칙이 확립되었다.

- ① ㄱ, ㄴ    ② ㄱ, ㄹ    ③ ㄷ, ㄹ  
 ④ ㄱ, ㄴ, ㄷ    ⑤ ㄴ, ㄷ, ㄹ

3. 법치주의를 바라보는 갑, 을의 관점에 대한 설명으로 옳은 것은?



- ① 갑의 관점은 통치의 형식적 합법성보다 실질적 정당성을 중시한다.  
 ② 을의 관점은 기본권 제한의 법적 근거가 있다라도 국민의 자유와 권리의 본질적 내용을 침해할 수 없다고 본다.  
 ③ 현대 사회로 오면서 을보다 갑의 관점이 강조되고 있다.  
 ④ 갑의 관점은 을의 관점과 달리 통치 권력의 자의적 행사 방지를 중시한다.  
 ⑤ 을의 관점은 갑의 관점과 달리 독재를 정당화하는 근거로 악용되기도 한다.

4. A, B는 공정한 선거를 위한 제도이다. 이에 대한 옳은 설명을 <보기>에서 고른 것은? [3점]

- A는 선거구를 법률로 획정함으로써 선거구가 특정 정당이나 인물에 유리하도록 정해지는 것을 방지하기 위한 제도이다.
- B는 국가가 선거 과정을 관리하고 선거 비용의 일부를 중앙 정부 또는 지방 자치 단체에서 부담하게 하는 제도이다.

— <보기> —

ㄱ. A는 선거 비용의 집행·결산을 공적으로 관리하기 위한 제도이다.  
 ㄴ. A는 선거구별 선거인 수의 차이를 일정 비율 이내로 조정하여 선거구를 확정하는 것을 필요로 한다.  
 ㄷ. B는 직접 선거, 비밀 선거 원칙을 실현하기 위한 제도이다.  
 ㄹ. B는 입후보의 기회 보장 및 후보자 간 선거 운동의 기회 균등을 주된 목표로 삼고 있다.

- ① ㄱ, ㄴ    ② ㄱ, ㄷ    ③ ㄴ, ㄷ    ④ ㄴ, ㄹ    ⑤ ㄷ, ㄹ

5. 다음 자료에 대한 설명으로 옳지 않은 것은?

정당은 정치적 견해를 같이하는 사람들이 (가)을/를 주된 목적으로 조직한 단체이다. 정당은 대중 집회, 공청회 등을 통해 공동체 문제에 대한 ㉠국민의 관심을 환기하고, 유권자의 ㉡다양한 이해관계를 집약·표출한다. 또한 정당은 선거에서 ㉢정치적 충원을 통해 지지를 획득함으로써 국민의 대표자를 배출한다. 정당은 ㉣정부와 의회 사이를 매개하는 기능을 하거나 ㉤정부에 대한 비판 및 견제 기능을 수행한다.

- ① (가)는 이익 집단과 구별되는 정당의 특징이다.  
 ② 정당은 ㉠과 같은 활동을 통해 정치 사회화 기능을 수행한다.  
 ③ ㉡은 정당의 여론 형성과 조직화 기능에 해당한다.  
 ④ 정당은 후보자 공천을 통해 ㉢의 기능을 수행한다.  
 ⑤ 국정 조사 요구는 ㉤보다 ㉣의 성격이 강하다.

# 2 사회탐구 영역 (법과 정치)

6. 다음 자료에 대한 분석 및 추론으로 가장 적절한 것은? [3점]

갑국은 전형적인 정부 형태를 취하고 있으며, 의회 총 의석수는 200석이다. (가)~(나) 시기 동안 정부 형태와 총 의석수의 변화는 없다. 선거 결과는 아래 표와 같다.

구분	(가) 시기	(나) 시기
행정부 수반의 소속 정당	A 당	B 당
A 당 의석수(석)	115	①
B 당 의석수(석)	80	90

- ① ①이 110이면 갑국의 정부 형태는 의원 내각제이다.
- ② 갑국의 정부 형태가 의원 내각제이고 ①이 90이면, 연립 내각 구성 가능성은 (가) 시기보다 (나) 시기에 높을 것이다.
- ③ 갑국의 정부 형태가 대통령제이고 ①이 95이면, 의회와 행정부의 대립 가능성은 (가) 시기보다 (나) 시기에 낮을 것이다.
- ④ 갑국의 정부 형태가 의원 내각제이고 ①이 90이면, 내각 불신임, 의회 해산의 가능성은 (나) 시기보다 (가) 시기에 높을 것이다.
- ⑤ 갑국의 정부 형태가 대통령제이고 ①이 110이면, 행정부 정책 추진을 위한 법률 제·개정은 (가) 시기보다 (나) 시기에 용이할 것이다.

7. 기본권 A, B에 대한 설명으로 옳은 것은? [3점]

**법률 상담 게시판**

**갑** 2016년 00월 00일

저는 방학 중에 ◇◇ 회사에서 아르바이트를 했지만 최저 임금에 못 미치는 급여를 받았습니다. ... (후략)...

↳ 변호사 기본권 A를 보장하기 위한 최저 임금법에 따라 구제 받을 수 있습니다.

**을** 2016년 00월 00일

집에 가던 중 뺑소니 차량으로부터 큰 상해를 입었지만 범인을 알 수 없어 피해를 배상받지 못하고 있습니다. ... (후략)...

↳ 변호사 국가에 대해 구조를 요청하는 기본권 B를 행사할 수 있습니다.

- ① A는 국가 권력의 간섭이나 침해를 받지 않을 '국가로부터의 자유'에 해당한다.
- ② A와 같은 기본권의 유형에는 국가 및 공공 단체의 구성원으로 직무를 담당할 수 있는 권리가 포함된다.
- ③ B는 다른 기본권 보장의 전제 조건으로 포괄적 성격을 가진다.
- ④ B와 같은 기본권의 유형에는 국가 기관에 문서로 자신의 요구와 의견을 진술할 수 있는 권리가 포함된다.
- ⑤ A와 B는 모두 권리이자 의무의 성격을 동시에 가진다.

8. 다음 대화에서 갑, 을의 의견에 대한 추론으로 가장 적절한 것은?

이번 선거에서 투표율이 이전 선거보다 크게 높아 졌는데, 그 원인이 어디에 있다고 보십니까?

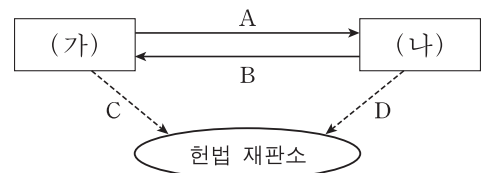
저는 집권당이 시행한 정책에 대한 유권자의 부정적 인식이 높은 투표 참여로 나타났기 때문이라고 생각합니다.

저는 그렇게 생각하지 않습니다. 정당들의 공약이 매우 차별적으로 제시되어 유권자들이 자신이 지지하는 정책을 제시한 정당에 투표할 이유가 분명해졌기 때문입니다.

사회자      갑      을

- ① 갑은 선거가 기존 정책에 대한 평가의 성격을 가진다고 본다.
- ② 을은 투표율과 정당 간 정책 차별성 사이의 상관성이 낮다고 본다.
- ③ 갑은 을과 달리 선거가 국민 의사를 집약하는 기능을 한다고 본다.
- ④ 을은 갑과 달리 선거가 정당에 대한 통제적 성격을 가진다고 본다.
- ⑤ 갑, 을 모두 정당 간 경쟁이 국민의 주권 의식을 높이는 데 부정적 영향을 미친다고 본다.

9. 그림은 우리나라 국가 기관 간의 관계를 나타낸 것이다. 이에 대한 설명으로 옳은 것은? (단, (가), (나)는 각각 국회, 정부 중 하나이다.) [3점]



\*A와 B는 국가 기관 간의 견제 방향을, C와 D는 헌법 재판의 청구 방향을 나타냄.

- ① A가 '국정 감사·조사권' 이면, B는 '예산안 심의·확정권' 이 될 수 있다.
- ② B가 '국무총리 해임 건의권' 이면, A는 '국무위원 임명 제청권' 이 될 수 있다.
- ③ B가 '법률안 거부권' 이면, C는 '탄핵 소추권' 이 될 수 있다.
- ④ D가 '정당 해산 심판 제소권' 이면, (가)는 '선전 포고·강화권' 을 가진다.
- ⑤ B가 '대법원장 임명 동의권' 이면, (나)는 '국가 중요 정책에 대한 국민 투표 부의권' 을 가진다.

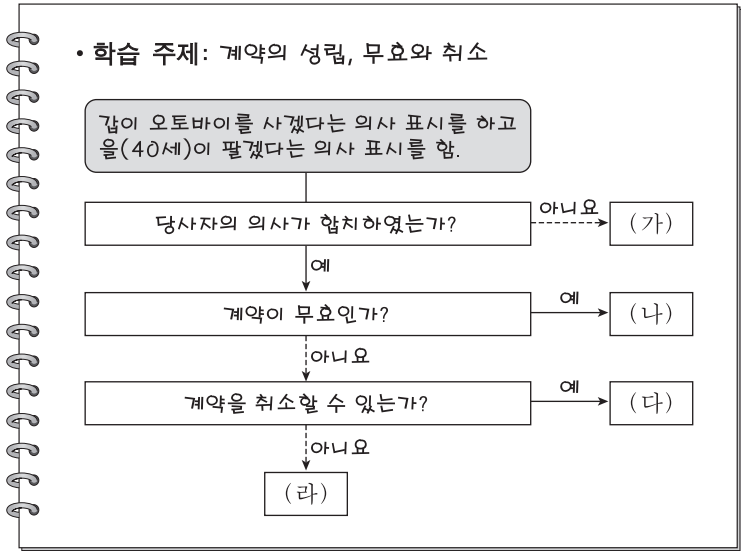
10. 다음 대화에 나타난 우리 헌법의 기본 원리 (가)에 대한 설명으로 옳은 것은?

00부에서는 (가)의 실현을 위해 어떤 정책을 추진하고 있습니까?

우리 부에서는 (가)을/를 실현하기 위해 고령화 사회의 대책으로 기초 연금, 노인 돌봄 종합 서비스, 공공 보건 시설 확충 등의 정책을 추진하고 있습니다.

- ① (가)는 사유 재산권의 절대성을 강조한다.
- ② (가)는 근대 입헌주의 국가에서부터 강조되었다.
- ③ 국제 평화 유지군 활동에 대한 지원은 (가)를 실현하기 위한 것이다.
- ④ (가)는 국가가 시민의 자율적인 문화생활을 진흥하되 지나치게 간섭할 수 없다는 원리이다.
- ⑤ (가)에 따라 국가는 적정한 소득의 분배를 유지하기 위하여 경제에 관한 규제와 조정을 할 수 있다.

11. 다음 자료에 대한 법적 판단으로 옳은 것은? [3점]



- ① 20세의 갑이 매매 계약서를 작성하지 않고 오토바이를 할부로 구입한 경우는 (가)에 해당한다.
- ② 25세의 갑이 오토바이를 100만 원에 산다고 통지하였는데 을이 150만 원에 판다고 통지한 경우는 (나)에 해당한다.
- ③ 17세의 갑이 법정 대리인의 동의를 받아 매장에서 오토바이를 정가에 구입한 경우는 (다)에 해당한다.
- ④ 40세의 갑이 만취하여 의식 불명 상태에서 을이 제시한 오토바이 매매 계약서에 서명한 경우는 (라)에 해당한다.
- ⑤ (나)의 경우와 (다)에서 취소된 경우 모두, 갑은 오토바이 매매 대금을 지급하지 않은 것에 대한 채무 불이행 책임을 지지 않는다.

12. 다음 자료에 대한 법적 판단으로 옳은 것은?

○○ 신문 2000년 00월 00일

**“마른하늘에 창 벼락”**

건물에서 갑자기 떨어진 창문에 맞아 행인 A가 전치 8주의 부상을 입은 사건이 발생하였다. 이 건물에는 임차인 B(42세)와 그의 아들 C(9세)가 살고 있고, 건물의 소유주는 D(55세)이다. 떨어진 창문은 D의 의뢰에 의해 사장 E(50세)의 종업원 F(30세)가 전담하여 시공한 것이다. 창문이 떨어질 때 C가 그 창문 주위에서 놀고 있었던 것으로 확인되었다. 경찰은 이 사고의 원인과 관련하여 C와 F의 고의 또는 과실 여부를 조사하고 있다.

- ① C의 불법 행위 책임이 성립하지 않아도 B는 A에게 불법 행위 책임을 지는 경우가 있다.
- ② D는 A에게 불법 행위에 의한 손해 배상 책임을 지는 경우가 없다.
- ③ F에게 고의 또는 과실이 없어도 E는 A에게 불법 행위에 의한 손해 배상 책임을 진다.
- ④ F의 과실로 창문이 떨어진 경우 E는 B에게 채무 불이행에 의한 손해 배상 책임을 진다.
- ⑤ F의 과실로 창문이 떨어진 경우 E는 A 및 D에게 원상을 회복할 책임이 있다.

13. 다음은 갑이 법원에 제출한 소장 일부이다. 이에 대한 법적 판단으로 옳은 것은?

**청구 취지**

1. 피고 을은 원고 갑에게 임금으로 금 6백만 원을 지급하라.  
2. 소송 비용은 피고의 부담으로 한다.  
라는 판결을 구합니다.

**청구 원인**

원고는 근로자이고, 피고는 원고를 지휘·감독하는 사용자입니다.  
...(중략)...

원고는 피고로부터 3개월 동안의 임금을 전혀 받지 못해 소송에 이른 것입니다.

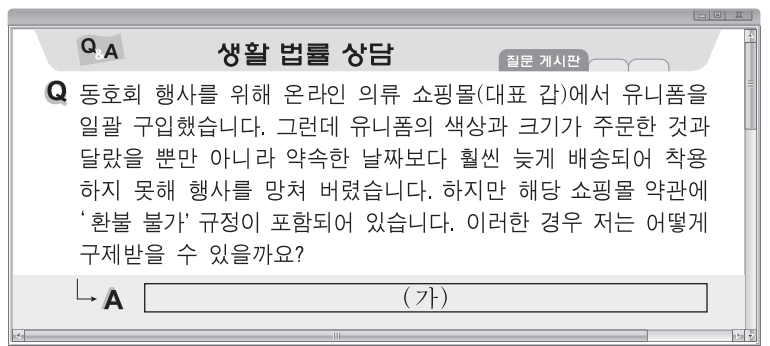
- ① 갑은 을에게 채무 불이행 책임을 묻고 있다.
- ② 갑은 을의 재산에 대하여 가압류 신청을 할 수 없다.
- ③ 갑은 내용 증명 우편을 보내야 소송을 제기할 수 있다.
- ④ 갑은 을의 부당 노동 행위에 대하여 소송을 제기하고 있다.
- ⑤ 갑은 근로 계약서에 공증을 받지 않았다면 소송을 제기할 수 없다.

14. 다음 사례에 대한 법적 판단으로 옳은 것은?

밤늦게 귀가하던 갑은 A(13세), B(14세), C(18세)로부터 무차별 폭행을 당했다. 경찰 조사 결과 A와 B는 갑을 폭행하는 데 깊이 가담하였지만, C는 한 차례 폭행 후 옆에서 망을 본 것에 불과하였다. 담당 검사는 A~C에 대한 불구속 수사 후 사건 처리를 고민하고 있다.

- ① 검사가 C를 기소할 경우, 갑과 C는 형사 재판의 당사자가 된다.
- ② 검사가 C를 기소할 경우, C는 형벌과 소년법상 보호 처분을 동시에 받을 수 있다.
- ③ 검사가 C에 대해 불기소 처분을 할 경우, C는 형사 보상을 청구할 수 있다.
- ④ A와 B의 행위는 구성 요건에 해당하는 위법한 행위이지만 책임이 조각되어 범죄가 성립하지 않는다.
- ⑤ A, C는 소년법상 보호 처분을, B는 형벌을 받을 수 있다.

15. 그림의 (가)에 들어갈 법적 조언으로 옳은 것은? [3점]



- ① 약관에 따라 환불을 요청할 수 없고 갑에게 손해 배상만 청구할 수 있습니다.
- ② 갑이 환불을 거절하더라도 소비자 분쟁 조정 신청을 통해 환불 받을 수 있습니다.
- ③ 유니폼을 착용하지 않았기 때문에 기간에 상관없이 계약을 철회할 수 있습니다.
- ④ 유니폼에 결함이 있었기 때문에 유니폼을 생산한 사람에게 제조물 책임을 물을 수 있습니다.
- ⑤ 소비자의 8대 권리를 명시한 '독점 규제 및 공정 거래에 관한 법률'에 의해 구제받을 수 있습니다.



16. 밑줄 친 ㉠에 해당하는 사례로 옳은 것은?

어떠한 행위가 범죄로 성립하려면 일단 구성 요건에 해당하여야 한다. 구성 요건은 위법한 행위의 일정한 유형을 규정해 놓은 것이다. 그러나 구성 요건 해당성이 인정되는 행위라도 전체 법질서로 보아 부정적인 가치 판단이 불가능하기 때문에 위법하다고 말할 수 없어 범죄가 성립하지 않는 ㉠ 경우가 존재한다.

- ① 아들의 수술비를 마련하기 위해 은행에서 현금을 탈취한 행위
- ② 친구의 초대를 받아 그 집에 놀러 가서 친구 아버지의 지갑을 훔친 행위
- ③ 퇴근길에 절도범이 물건을 훔쳐 도망가는 것을 발견하고 현장에서 절도범을 체포한 행위
- ④ 임대차 기간이 만료되었음에도 불구하고 집을 비워 주지 않은 임차인을 폭행하고 내쫓은 행위
- ⑤ 가족의 생명을 위협하는 협박범의 지시에 못 이겨 자신이 근무하는 회사의 생산 설비를 파손한 행위

17. 갑~병의 사례에 대한 법적 판단으로 옳은 것은? [3점]

○ 갑이 사기 혐의로 불구속 상태에서 수사를 받고 있던 중, 검사가 구속 영장을 청구하였다.  
 ○ 을이 상해 혐의로 구속 상태에서 항소심 재판을 받고 있다.  
 ○ 병이 절도 혐의로 구속·기소되어 징역 1년에 집행 유예 2년의 확정 판결을 받았고, 그 후 1년이 경과되었다.

- ① 갑은 검사의 구속 영장 청구에 따라 구속 적부 심사를 받게 된다.
- ② 을은 항소심 재판 중 일정한 조건을 갖추면 가석방될 수 있다.
- ③ 을과 달리 갑은 형사 피의자이므로 변호인의 조력을 받을 권리를 갖지 않는다.
- ④ 병은 갑, 을과 달리 무죄 추정의 원칙이 적용되지 않는다.
- ⑤ 병은 앞으로 2년 동안 죄를 짓지 않아야 형 선고의 효력이 상실된다.

18. 다음 자료에 대한 옳은 설명을 <보기>에서 고른 것은?

일반적으로 두 나라 간 [가] 을/를 체결할 때는 먼저 헌법상의 체결권자로부터 위임받은 자가 내용에 관해 교섭하고 서명한다. 보통은 서명만으로 성립되지 않고 비준 절차를 거쳐야 국제법의 법원(法源)인 [가] 이/가 성립된다. 또한 국제 사회의 반복적 관행이 국제 사회의 법 규범으로 승인되어 효력을 가지게 되는 국제법의 법원인 [나] 도 존재한다.

—<보기>—  
 가. 우리나라에서 (가)의 체결·비준권은 국회가 가진다.  
 나. 국내 문제 불간섭은 (나)에 해당한다.  
 다. (가), (나) 모두 국제 사법 재판소의 재판 준거가 된다.  
 르. (가), (나) 모두 원칙적으로 문서 형식의 명시적 합의에 의해 성립된다.

- ① 가, 나    ② 가, 다    ③ 나, 다    ④ 나, 르    ⑤ 다, 르

19. 다음 자료에 대한 법적 판단으로 옳은 것은? [3점]

A는 B와 보증금 1억 3천만 원에 주택 임대차 계약을 체결하였다. B가 주택을 인도받아 전입신고를 할 때 이 주택의 등기 사항 전부 증명서(등기부 등본)는 다음과 같았다.

【갑 구】				
순위 번호	등기 목적	접 수	등기 원인	권리자 및 기타 사항
1	소유권 보존	2015년 4월 2일 제○○호		소유자 A (이하 생략)

【을 구】				
순위 번호	등기 목적	접 수	등기 원인	권리자 및 기타 사항
1	저당권 설정	2015년 6월 17일 제○○호	2015년 6월 16일 설정 계약	채권액 금 230,000,000원 채무자 A (이하 생략) 저당권자 C (이하 생략)

\*B는 소액 임차인에 해당하지 않음.

- ① B가 확정 일자를 받으면 을구의 내용이 변경된다.
- ② 임대차 계약을 통해 B는 A뿐만 아니라 C와도 채권·채무 관계가 발생한다.
- ③ A가 C에게 채무를 이행하지 않을 경우 C가 주택의 소유권을 취득하게 된다.
- ④ B가 확정 일자를 받지 않을 경우 A가 임대차 계약 후 주택을 1년 만에 팔더라도 새로운 소유자에게 대항할 수 없다.
- ⑤ A가 C에게 빚을 전혀 갚지 않아 경매에서 주택이 2억 원에 매각되면 B는 확정 일자를 받았어도 매각 대금에서 보증금을 받지 못한다.

20. (가), (나)는 국제 사회를 바라보는 관점이다. 이에 대한 옳은 설명을 <보기>에서 고른 것은? [3점]

(가) 국제 사회는 군사력과 같은 힘에 의해 주도되며, 각국은 자국의 이익만을 추구하고 계산적으로 움직이므로 양보를 기대하는 것은 불가능하다.  
 (나) 국제 사회는 보편적인 가치나 질서에 의해 유지되며, 각 국가들은 국가 간 합의를 통해 평화적이고 협력적인 국제 사회를 건설할 수 있다.

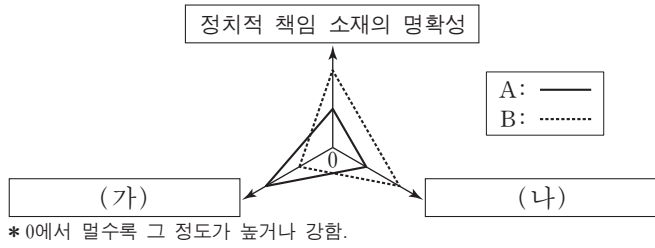
—<보기>—  
 가. (가)는 자국의 안보를 스스로 책임져야 한다고 강조한다.  
 나. (나)는 국제 사회에서 국가 간의 상호 의존 관계를 중요하게 여긴다.  
 다. (가)는 (나)와 달리 모든 국가가 국제 규범에 따라 행동하고 국제기구를 통해 협력하면 침략 전쟁을 방지할 수 있다고 본다.  
 르. (나)는 (가)와 달리 국제 사회를 무정부 상태로 간주하여 국가 간 갈등에 대한 권위적 해결이 어렵다고 본다.

- ① 가, 나    ② 가, 다    ③ 나, 다    ④ 나, 르    ⑤ 다, 르

\* 확인 사항  
 ○ 답안지의 해당란에 필요한 내용을 정확히 기입(표기)했는지 확인하십시오.



6. 그림은 정당 제도의 일반적인 특징을 비교한 것이다. 이에 대한 옳은 설명을 <보기>에서 고른 것은? (단, A, B는 각각 양당제, 다당제 중 하나임.)



<보기>

ㄱ. A는 B에 비해 군소 정당이 난립하여 정국이 불안정할 가능성이 높다.  
 ㄴ. B는 A에 비해 이념적 정체성이 다양한 정당이 존재하여 유권자의 정당 선택 범위가 넓다.  
 ㄷ. 의원 내각제 정부 형태에서 연립 정부가 구성될 가능성은 B보다 A에서 높게 나타난다.  
 ㄹ. (가)에는 '다수당의 횡포 가능성', (나)에는 '소수 의견 반영 가능성'이 적절하다.

- ① ㄱ, ㄴ    ② ㄱ, ㄷ    ③ ㄴ, ㄷ    ④ ㄴ, ㄹ    ⑤ ㄷ, ㄹ

7. 다음 자료에 대한 설명으로 옳지 않은 것은? [3점]

헌법은 국민의 기본권과 이를 보장하기 위한 국가 기관의 구성과 운영을 규정한 근본 규범으로 ㉠ 최고 규범성을 가진다. 따라서 ㉡ 민주 국가는 헌법에 따라 구성되고 운영되어야 한다. 이와 관련하여 우리 헌법에서는 다음과 같은 헌법의 기본 원리를 도출할 수 있다. [가]은/는 근대 자본주의의 모순을 극복하고 국민의 실질적인 자유와 평등을 보장하기 위하여 국가가 적극적인 행위를 하여야 한다는 원리이다. ... (중략) ... 한편, [나]은/는 인류 공존을 위하여 국가가 평화를 추구하여야 한다는 원리이다.

- ① ㉠을 보장하기 위해서 우리 헌법은 위헌 법률 심판 제도를 두고 있다.  
 ② 국민의 기본권 보장은 ㉡의 목적에 해당한다.  
 ③ (가)와 가장 연관성이 높은 기본권의 유형은 절차적이고 방어적인 성격을 가진다.  
 ④ (가)를 통해 우리 헌법이 국민의 인간다운 생활을 보장하는 현대 복지 국가 헌법에 속한다는 것을 알 수 있다.  
 ⑤ (나)를 실현하기 위한 사례로 행정부가 외국인의 법적 지위를 보장하기 위해 추진하는 정책을 들 수 있다.

8. 우리나라 국가 기관 A~E에 대한 설명으로 옳은 것은?

뉴스 브리핑

- A, 일반 사면권 행사
- '□□ 조약', B의 비준 동의로 통과
- C, 국가의 세입·세출의 결산 검사 보고
- △△ 형사 상고 사건, D에서 원심 확정
- ◇◇, E에 권한 쟁의 심판 청구

- ① A는 C의 장(長)과 D의 장(長)에 대한 임명권을 가진다.  
 ② B는 예산안을 편성하고 의결하여 A를 견제할 수 있다.  
 ③ C는 D의 장(長)과 E의 장(長)에 대한 임명 동의권을 가진다.  
 ④ D의 장(長)은 A와 달리 B의 탄핵 소추 대상이 된다.  
 ⑤ E의 결정에 불복할 경우 D에 재항고할 수 있다.

9. 국제 사회를 바라보는 갑~병의 관점에 대한 적절한 추론을 <보기>에서 고른 것은?

갑: 동등한 힘이 없는 곳에 국가 간의 정의는 없다. 강대국은 자기가 하고자 하는 일을 하는 것이고, 약소국은 그것을 인정할 수밖에 없는 것이다.  
 을: 총이 있는 자는 총으로 꿈의 위협을 근본적으로 해결 하지만 총이 없는 자는 꿈과 불안하게 동거하거나 꿈을 회피한다. 국제기구나 국제법을 통해 평화를 추구하려는 노력은 총 없는 약자가 추구하는 정의 추구 방안으로, 실현 가능성이 떨어진다.  
 병: 공동의 목적지에 풀이 부족해지자 농부들은 방목된 양의 수를 줄이자고 논의했지만 실패하였고 결국 목초지는 황무지가 되었다. 지구라는 공유지가 황폐화되는 것을 막으려면 국제 사회의 행위 주체들이 세계 시민 의식과 지구 공동체 윤리를 강화해야 한다.

<보기>

ㄱ. 갑과 을은 국제 사회에 무정부성이 존재한다고 볼 것이다.  
 ㄴ. 을과 병은 국제 사회에 보편적 선이나 규범 그리고 이성 이 존재한다고 볼 것이다.  
 ㄷ. 갑은 국가를 힘의 우위를 추구하는 존재로 보지만, 병은 국제 사회에서 국가 간 상호 협력을 중시할 것이다.  
 ㄹ. 갑과 달리 을, 병은 국제 사회에서 국익에 따른 국가 간 동맹과 갈등이 반복되고 있다고 볼 것이다.

- ① ㄱ, ㄴ    ② ㄱ, ㄷ    ③ ㄴ, ㄷ    ④ ㄴ, ㄹ    ⑤ ㄷ, ㄹ

10. 다음 자료에 대한 분석 및 추론으로 옳은 것은? [3점]

현재 지역구 의원으로만 구성된 갑국 의회의 총 의석수는 6석이다. 갑국은 <방안 1>, <방안 2> 중 하나로 선거 제도를 개편하고자 한다.

<방안 1> 선거구를 통합하여 현재 6개에서 3개로 줄이고, 의석수도 현재 6석에서 3석으로 줄이는 방안  
 <방안 2> 현재 의석수는 유지하되 각 정당 득표율에 비례하여 전체 의석수를 각 정당에 배분하는 방안

\* 선거 제도 개편 방안 검토 시 아래 표만 기준으로 하여 판단함.  
 \*\* <방안 1>의 경우, 현재와 같이 각 정당은 선거구별로 1명의 후보자를 공천함.  
 \*\*\* <방안 2>의 경우, 각 정당 득표율에 총 의석수를 곱하여 산출된 수의 정수(整数) 만큼 의석을 각 정당에 먼저 배분하고, 잔여 의석은 소수점 이하 수가 큰 순서대로 각 정당에 1석씩 배분함.

<갑국의 최근 의회 의원 선거 정당별 득표 결과> (단위: 명)

정당 \ 선거구	가	나	다	라	마	바	합계
A	700	400	900	800	600	600	4,000
B	500	500	600	500	700	300	3,100
C	300	900	200	400	300	800	2,900
합계	1,500	1,800	1,700	1,700	1,600	1,700	10,000

- ① 현재 갑국의 선거구 제도는 선거구 내 당선자 간 표의 등가성 문제가 발생할 수 있다.  
 ② 최근 선거에서 투표한 유권자의 1표의 가치가 가장 큰 곳은 '나' 선거구이고, 가장 작은 곳은 '가' 선거구이다.  
 ③ 최근 선거 결과, A당은 과대 대표되었고 C당은 과소 대표 되었다.  
 ④ <방안 1>을 적용하여 가-나, 다-라, 마-바로 선거구를 통합한다면, 선거구 획정에 A, B당은 찬성, C당은 반대할 것이다.  
 ⑤ <방안 2>를 적용하면 A, B, C당의 의석수는 동석이 된다.



11. 다음 사례에 대한 법적 판단으로 옳은 것은? [3점]

갑(16세)은 전자 제품 판매점을 운영하는 을과 200만 원인 최신형 컴퓨터를 100만 원에 구매하는 계약을 체결하였다. 그날 저녁 갑의 컴퓨터 구매 사실을 알게 된 갑의 부모(법정 대리인)는 갑에게 선물할 태블릿 PC를 이틀 전에 인터넷 쇼핑몰에서 자신들의 명의로 주문한 상태라고 하며 갑에게 최신형 컴퓨터 매매 계약의 취소를 권유하고 있다. 을은 계약 체결 이후 본사에 컴퓨터를 주문하였고, 이미 판매점에 컴퓨터가 도착한 상태이다.

- ① 갑은 자신에게 이익을 주는 계약을 체결하였으므로 최신형 컴퓨터 매매 계약을 취소할 수 없다.
- ② 갑은 행위 능력이 제한된 자이므로 최신형 컴퓨터 매매 계약을 취소하기 위해 부모의 동의를 얻어야 한다.
- ③ 갑과 을이 체결한 계약이 일단 유효하게 성립하였지만 갑은 최신형 컴퓨터에 대한 소유권을 주장할 수 없다.
- ④ 갑이 최신형 컴퓨터를 갖기로 한 경우, 갑은 태블릿 PC를 주문한 인터넷 쇼핑몰에 청약 철회권을 행사할 수 있다.
- ⑤ 갑이 을과의 계약을 취소할 경우, 을은 갑에게 계약 체결에 따른 채무를 이행하지 않은 것에 대해 손해 배상을 청구할 수 있다.

12. 다음 사례에 대한 법적 판단으로 옳은 것은?

갑은 상가 건물을 매입하여 미용실을 경영하고 있다. 갑은 손님이 많아지자 부모(법정 대리인)의 동의를 얻은 을(18세)과 고용 계약을 체결하였다. 그 후 을은 헤어드라이어로 손님 병의 머리를 말리던 중 실수로 병의 두피에 화상을 입혔다.

- ① 을이 병에게 고의로 화상을 입힌 것은 아니므로 병이 을에게 불법 행위로 인한 위자료는 청구할 수 없다.
- ② 을이 미성년자이지만 불법 행위 책임을 지는 경우, 을의 부모는 병에게 특수 불법 행위 책임을 지지 않는다.
- ③ 직접적 가해자인 을에게 불법 행위 책임이 성립하기 때문에 갑은 병에게 특수 불법 행위 책임을 지지 않는다.
- ④ 갑은 상가 건물을 매입하여 미용실을 경영하고 있으므로, 공작물의 소유자로서 병에게 불법 행위 책임을 진다.
- ⑤ 갑과 미성년자인 을의 계약은 민법상 무효이기 때문에, 갑은 을의 사용자가 아니므로 병에게 불법 행위 책임을 지지 않는다.

13. (가)~(다) 사례에 대한 법적 판단으로 옳은 것은?

(가) 갑은 타인의 지갑 속에 든 현금 50만 원을 절취하였다.  
(나) 을은 타인이 사는 집에 방화하여 1심 법원에서 징역 3년을 선고받았다.  
(다) 병은 심신 장애로 인하여 사물을 변별할 능력이 없는 심신 상실 상태에서 지나가는 사람을 살해하였다.

- ① (가)의 경우 법원은 범죄 피해가 경미함을 이유로 갑에게 불기소 처분을 선고할 수 있다.
- ② (가)의 경우 갑이 벌금형을 선고받고 벌금을 납부하지 않는다면 검사는 갑에 대하여 금고에 처한다는 결정을 할 수 있다.
- ③ (나)에서 이 판결이 확정된 경우 형 집행 기간 동안 을에게 노역을 부과할 수 없다.
- ④ (나)의 경우 을이 항소심에서 징역 3년에 집행 유예 5년을 선고받으면 형사 보상을 청구할 수 있다.
- ⑤ (다)의 경우 병은 무죄이지만 재범의 위험성이 있는 경우 치료 감호에 처해질 수 있다.

14. 다음 사례에 대한 법적 판단으로 옳은 것은? [3점]

갑(남)과 을(여)이 혼인하여 A를 출산하였는데, 그 후 이혼하여 을이 혼자 A를 양육하고 있었다. 한편, 병(남)과 정(여)이 혼인하여 B를 출산하였는데, 성격 차이로 이혼하였다. 이혼 당시 병이 B의 친권자 및 양육자로 지정되었다. 그 후 을은 A를 데리고 병과 재혼하였다. 재혼 후 3년이 지나 을과 병이 함께 여행하던 중 교통사고로 병이 사망하였고, 을은 중상을 입었다. 병의 사망 후 “모든 재산을 을에게 물려준다.”는 병의 유언장이 발견되었다. 사망 당시 병의 전 재산은 35억 원이며, 을의 재산은 없다.  
\*위 사례의 혼인은 모두 법률혼이며, 병의 사망 당시 A와 B는 미성년자임.

- ① 병과 정이 이혼은 법원을 거치지 않아도 되며, 이혼 신고를 해야 효력이 발생한다.
- ② 정은 B에 대한 면접 교섭권을 가지며, 병의 사망으로 인해 을이 B에 대한 친권을 가지게 된다.
- ③ 유언장의 효력이 있고 을이 사망하지 않은 경우, 을은 최대 21억 원을 상속받을 수 있다.
- ④ 유언장의 효력이 없고 병이 사망한 후 을도 사망한 경우, A와 B의 상속 금액은 동일하다.
- ⑤ 유언장의 효력이 없고 을이 사망하지 않은 경우, 만약 병이 A를 양자로 입양했다면 B의 법정 상속분은 10억 원이다.

15. 다음 자료에 대한 옳은 분석을 <보기>에서 고른 것은?

**<연구 보고서>**

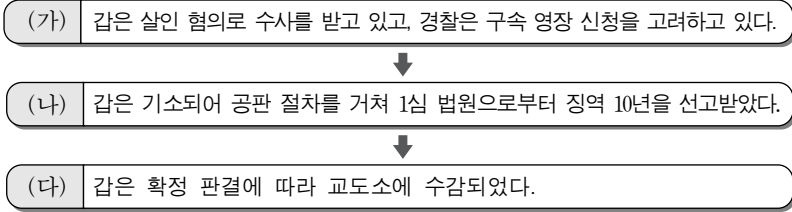
- 연구 주제: 배우자 간 선호하는 정부 형태 비교
- 조사 대상: 부부 100쌍(남성 100명, 여성 100명)
- 조사 방법: 전형적인 정부 형태 A, B의 일반적 특징에 대해 설명하고, A와 B 중 하나를 선택하는 설문 조사를 실시함.  
(단, A, B는 각각 의원 내각제, 대통령제 중 하나이며, 복수 응답 및 무응답은 없음.)
- 조사 결과
  - 남성은 A를 B보다 1.5배 선택하고, 여성은 B를 A보다 1.5배 선택함.
  - 이 가운데 부부가 함께 A를 선택한 경우는 30쌍임.
- 결과 분석: A를 선택한 사람은 '국민이 행정부 수반을 직접 선출할 수 있다.'는 장점으로 인해 A를 선호한 것으로 판단됨.  
...(후략)...

— <보기> —

ㄱ. 권력이 융합된 정부 형태를 부부가 함께 선택한 경우는 30쌍이다.  
ㄴ. 행정부 수반의 임기가 보장되는 정부 형태를 선택한 여성 중에서 배우자와 동일한 정부 형태를 선택한 수는 배우자와 다른 정부 형태를 선택한 수보다 많다.  
ㄷ. 내각이 의회에 연대 책임을 지는 정부 형태를 선택한 여성 중에서 배우자와 동일한 정부 형태를 선택한 수는 배우자와 다른 정부 형태를 선택한 수보다 많다.  
ㄹ. 의회 의원의 각료 겸직이 가능한 정부 형태를 선택한 남성의 수보다 행정부 수반이 법률안 거부권을 행사할 수 있는 정부 형태를 선택한 여성의 수가 많다.

- ① ㄱ, ㄴ    ② ㄱ, ㄷ    ③ ㄴ, ㄷ    ④ ㄴ, ㄹ    ⑤ ㄷ, ㄹ

16. 형사 절차 (가)~(다) 단계에 대한 설명으로 옳은 것은?



- ① (가) 단계에서 경찰이 갑을 구속하려면 검사가 발부한 영장을 제시하여야 한다.
- ② (가) 단계에서 갑이 구속되었다면 검사의 청구에 의하여 갑은 구속 적부 심사를 받을 수 있다.
- ③ (가) 단계와 달리 (나) 단계는 수사 절차가 아니므로 진술 거부권을 행사할 수 없다.
- ④ (나) 단계에서 갑이 징역 10년을 선고받았더라도 검사는 항소할 수 있다.
- ⑤ (다) 단계에서 수형자 갑의 인권 보호를 위해 판사의 지휘로 형을 집행한다.

17. 다음 사례에 대한 법적 판단으로 옳은 것은? [3점]

고등학생 갑(17세)과 중학생 을(13세), 초등학생 병(9세)은 상습적으로 근처 학교에서 자전거를 훔쳤다. 그러던 어느 날, 셋은 함께 정(17세)의 자전거를 훔쳐서 10m 정도 끌고 가던 중 들켜고 말았다. 정은 사람들에게 도움을 요청하고 갑을 뒤쫓아 체포한 후 경찰에 인계하였다. 한편 경찰은 을과 병을 뒤쫓아 검거하였다.

- ① 갑은 학생이므로 형벌을 받지 않지만 소년법상 보호 처분을 받을 수 있다.
- ② 을은 형사 미성년자이므로 소년법상 보호 처분을 받을 수 없다.
- ③ 병은 앞으로 형법에 저촉되는 행위를 할 우려가 있으므로 예외적으로 소년법상 보호 처분을 받을 수 있다.
- ④ 정이 갑을 체포한 행위는 구성 요건에 해당하고 위법하다.
- ⑤ 갑, 을, 병이 함께 정의 자전거를 훔친 행위는 구성 요건에 해당하고 위법하다.

18. 밑줄 친 ㉠~㉣에 대한 옳은 설명만을 <보기>에서 있는 대로 고른 것은? [3점]

㉠ 국제 연합은 민주주의를 훼손하고 법의 지배를 위태롭게 하는 부패를 척결하기 위해 ㉡ '국제 연합 부패 방지 협약'을 마련하였다. 우리나라에서 이 협약은 헌법에 정해진 절차에 따라 체결·공포되어 2008년에 발효되었다. 국회는 이 협약의 효율적 이행을 위해 ㉢ '부패 재산의 몰수 및 회복에 관한 특별법'을 제정하였다.


— <보기> —

- ㄱ. ㉠은 국제 사회의 행위 주체로 '정부 간 국제기구'이다.
- ㄴ. ㉡과 같은 국제법의 법원(法源)은 국제 사법 재판소의 재판 준거로 활용될 수 있다.
- ㄷ. ㉡과 같은 국제법의 법원(法源)은 원칙적으로 체결 당사국 뿐 아니라 모든 국가를 구속한다.
- ㄹ. ㉢은 ㉣과 달리 헌법과 동일한 국내법적 지위를 가진다.

- ① ㄱ, ㄴ                      ② ㄱ, ㄷ                      ③ ㄷ, ㄹ
- ④ ㄱ, ㄴ, ㄹ                ⑤ ㄴ, ㄷ, ㄹ

19. 그림의 (가)에 들어갈 법적 조언으로 옳은 것은? [3점]

2014년 9월 말경 임차인 을과 제 소유의 아파트에 관해 임대차 계약을 작성하여 계약을 체결하였습니다. 이후 계약 만료일이 다가와 2016년 8월 10일 을에게 직접 찾아가 갱신 거절의 의사 표시를 했습니다. 그러나 계약 기간이 만료되었음에도 을이 집을 비워 주지 않고 연체된 임대료 1천만 원도 주지 않고 있습니다.



**<주택 임대차 계약서>**

제1조 갑은 을에게 ○○시 ○○구 ○○로 123 ○○아파트 ○○동 ○○호를 2년의 기간(2014. 10. 1.~2016. 9. 30.)으로 임대한다.

제2조 ① 보증금은 300만 원으로 한다.  
② 을은 갑에게 매월 말일 100만 원의 임대료를 지급한다.

- ① 배상 명령 제도를 이용하면 신속하게 주택을 인도받을 수 있습니다.
- ② 을이 임대차 계약서에 확정 일자를 받아 놓은 경우 주택의 인도를 청구할 수 없습니다.
- ③ 연체된 임대료 등 금전 채권 보전을 위하여 을의 재산에 대하여 가압류를 신청할 수 있습니다.
- ④ 계약 기간 만료 3개월 전까지 갱신 거절 의사를 표시하지 않았으므로, 주택의 인도를 청구할 수 없습니다.
- ⑤ 을에게 주택의 인도를 청구하는 내용 증명 우편을 보낸 후에도 을이 퇴거하지 않는 경우 바로 강제 집행할 수 있습니다.

20. 다음 자료는 부당 해고를 당한 갑(19세)이 작성한 체크리스트이다. 이에 대한 법적 판단으로 옳은 것은?

**I 근로 계약 관련**

- 1. 근로 계약서를 서면으로 작성했나요?                      예   아니요
- 2. 근로 계약서에 근로 시간과 임금이 명시되어 있었나요?   예   아니요
- 3. 실제 근로 시간이 1주일에 40시간을 초과하였나요?   예   아니요
- 4. 법에 따라 정해진 최저 임금 이상을 급여로 지급받았나요?   예   아니요
- 5. 노동조합에 가입하여 활동하는 것을 금지하는 내용이 있었나요?   예   아니요
- 6. 이 외에 근로 계약에 특별한 사항이 있었나요?           예   아니요

**II 부당 해고 관련**

- 1. 근로 3권을 침해당하였나요?                                      예   아니요

- ① 갑은 부당 노동 행위를 이유로 하여 노동 위원회에 구제 신청을 할 수 있다.
- ② 갑이 체결한 근로 계약은 근로 기준법과 노동조합 및 노동관계 조정법에 위반된다.
- ③ 국가는 계약 자유의 원칙으로 인해 갑이 사용자와 자율적으로 체결한 근로 계약에 대해 공법적 규제를 가할 수 없다.
- ④ 갑은 사용자를 상대로 해고의 효력을 다투는 민사 소송을 제기하지 않아도 노동 위원회에 구제 신청을 할 수 있다.
- ⑤ 갑이 체결한 근로 계약에 법이 정한 최저 기준에 미치지 못하는 내용이 포함되어 있으므로 근로 계약 전체가 무효가 된다.

\* 확인 사항  
○ 답안지의 해당란에 필요한 내용을 정확히 기입(표기)했는지 확인 하시오.

제 4 교시

# 사회탐구 영역(법과 정치)

성명  수험 번호

1. 다음은 정치의 의미에 대한 대화이다. 갑, 을의 관점에 대한 옳은 설명을 <보기>에서 고른 것은?

갑: 정치란 정당의 선거 운동, 국회의원의 입법 활동, 대통령의 국무 회의 주재와 같이 정당, 국회, 정부에 관련된 활동들에 한정된다고 생각해.  
 을: 아니야. 우리가 학급 회의를 열어서 체험 활동 장소를 결정하는 것과 같이 공동의 의사 결정을 하는 것도 정치라 할 수 있어.

<보기>

- ㄱ. 갑은 국가 수준에서 정치권력을 획득하고 행사하는 것을 정치라고 본다.
- ㄴ. 을은 개인이나 집단 수준에서 발생하는 다양한 이해관계를 조정하여 사회 질서를 유지하는 것을 정치라고 본다.
- ㄷ. 갑과 달리 을은 정치가 소수 정치 엘리트들의 독점적인 의사 결정을 통해서 이루어진다고 본다.
- ㄹ. 갑과 을의 관점 모두 국가 형성 이전에 나타난 정치 현상을 설명하기에 적합하다.

- ① ㄱ, ㄴ    ② ㄱ, ㄷ    ③ ㄴ, ㄷ    ④ ㄴ, ㄹ    ⑤ ㄷ, ㄹ

2. 기본권 (가)~(다)에 대한 설명으로 옳은 것은?

지난 시간에 배웠던 인간의 존엄과 가치 및 행복 추구권, 평등권에 이어 이번에는 (가), (나), (다)를 알아볼까요?

학습 주제: 기본권의 종류

기본권	관련 헌법 조항
(가)	제12조 ① 모든 국민은 신체의 자유를 가진다. ... (후략)...
(나)	제25조 모든 국민은 법률이 정하는 바에 의하여 공무 부담권을 가진다.
(다)	제26조 ① 모든 국민은 법률이 정하는 바에 의하여 국가 기관에 문서로 청원할 권리를 가진다.

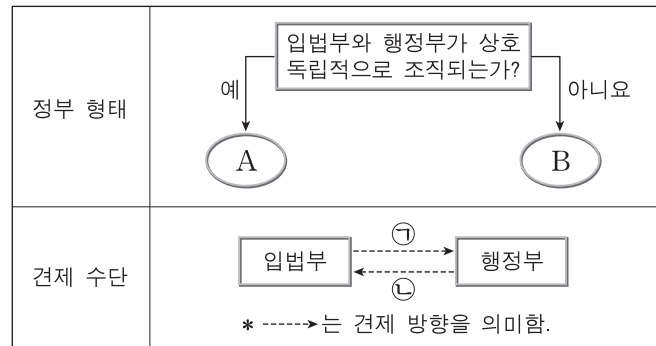
- ① (가)는 능동적이고 적극적인 성격을 가진다.
- ② (나)는 국민 주권주의를 구현하는 수단이 된다.
- ③ (다)는 국가의 개입을 배제하는 방어적 성격을 가진다.
- ④ (가)는 (나)와 달리 현대 복지 국가에서 중시되기 시작했다.
- ⑤ (나)는 (다)와 달리 기본권 보장을 위한 수단적 권리이다.

3. A~C에 대한 설명으로 옳은 것은? (단, A~C는 각각 고대 아테네 민주 정치, 근대 민주 정치, 현대 민주 정치 중 하나이다.) [3점]

A, B는 대의제를 바탕으로 하고 있다는 공통점을 가지고 있는 반면, 정치에 참여할 수 있는 시민의 범위에는 차이가 있다. 한편 C는 정치 참여에 있어 신분과 성별 등에 따라 제한을 두었던 점에서 일정 연령 이상의 모든 시민에게 참정권을 부여한 B와는 구별된다.

- ① A에서는 입헌주의 원리를 통해 민주주의를 추구하였다.
- ② B에서는 전쟁, 외교 등 공적 사안을 민회가 결정하였다.
- ③ C에서는 천부 인권 사상을 바탕으로 통치가 이루어졌다.
- ④ C와 달리 A에서는 모든 시민에게 공직 참여 기회가 부여되었다.
- ⑤ A, B 모두에서 보통 선거의 원칙이 확립되었다.

4. 그림은 전형적인 정부 형태 A, B와 견제 수단 ㉠, ㉡을 나타낸 것이다. 이에 대한 옳은 설명을 <보기>에서 고른 것은? (단, A와 B는 각각 대통령제, 의원 내각제 중 하나이다.) [3점]



<보기>

- ㄱ. A에서는 행정부가 법률안 제출권을 가진다.
- ㄴ. A와 달리 B에서는 의회 의원이 각료를 겸직할 수 있다.
- ㄷ. B와 달리 A에서는 국가 원수와 행정부 수반의 권한이 동일인에게 부여된다.
- ㄹ. A에서 ㉠으로는 탄핵 소추권, B에서 ㉡으로는 법률안 거부권이 있다.

- ① ㄱ, ㄴ    ② ㄱ, ㄷ    ③ ㄴ, ㄷ    ④ ㄴ, ㄹ    ⑤ ㄷ, ㄹ


5. 우리나라 헌법 기관 A~D에 대한 설명으로 옳은 것은? [3점]

A는 국가 기관 상호 간, 국가 기관과 지방 자치 단체 간 및 지방 자치 단체 상호 간의 권한 쟁의에 관한 심판 등을 관장한다. A는 법관의 자격을 가진 9인의 재판관으로 구성되며, 재판관은 B가 임명한다. A의 재판관 중 3인은 C에서 선출하는 자를, 3인은 D의 장(長)이 지명하는 자를 임명한다. 그리고 A의 장(長)은 C의 동의를 얻어 재판관 중에서 B가 임명한다.

- ① A는 위헌 법률 심판 제청권을 가진다.
- ② A는 위헌 정당 해산 제소권을 가진다.
- ③ B는 긴급 재정·경제 처분 및 명령권을 가진다.
- ④ C는 국가의 예산안을 편성하고 심의·확정한다.
- ⑤ D는 국정을 감사하거나 조사할 수 있는 권한을 가진다.



6. 그림에 나타난 법치주의를 이해하는 갑, 을의 관점에 대한 옳은 추론을 <보기>에서 고른 것은?



— <보기> —

ㄱ. 갑은 을과 달리 위헌 법률 심사제 도입을 옹호할 것이다.  
 ㄴ. 을은 갑과 달리 법의 실질적 정당성을 중시할 것이다.  
 ㄷ. 을은 갑과 달리 법이 독재자의 통치권을 강화하는 수단으로 사용되는 것을 용인할 것이다.  
 ㄹ. 갑, 을 모두 통치 권력이 형식적 합법성을 갖추어야 한다고 생각할 것이다.

- ① ㄱ, ㄴ    ② ㄱ, ㄷ    ③ ㄴ, ㄷ    ④ ㄴ, ㄹ    ⑤ ㄷ, ㄹ

7. 표는 정치 참여 집단 A~C에 해당되는 단체의 목적 및 활동을 나타낸 것이다. 이에 대한 설명으로 옳은 것은? (단, A~C는 각각 정당, 시민 단체, 이익 집단 중 하나이다.)

구분	목적 및 활동
A	우리는 자유와 정의, 인권과 복지를 실현하고자 자발적인 시민들의 연대를 통해 입법, 행정, 사법에 대한 감시 활동을 한다.
B	우리는 자유·평등·평화를 기본 가치로 지향하며 국민의 삶을 행복하게 만들기 위해 모든 공직 선거에서 후보자를 공천한다.
C	우리는 조합원의 경제적 지위 향상을 도모하기 위해 임금 및 근로 조건을 비롯한 제반 노동 환경을 개선하고자 노력한다.

- ① A는 특정한 분야에서 사적 이익을 추구한다.  
 ② B는 행정부와 의회를 매개하는 역할을 한다.  
 ③ C는 공적 이익을 추구하는 비영리 조직이다.  
 ④ A는 B와 달리 자신들의 행위에 정치적 책임을 진다.  
 ⑤ B는 C와 달리 정치 사회화 기능을 수행한다.

8. 다음 사례에 대한 법적 판단으로 옳은 것은?

갑(19세)은 개를 데리고 공원을 산책하던 중 스마트폰으로 게임을 하느라 개의 목줄을 놓치고 말았다. 이때 잔디밭에서 놀고 있던 을(7세)에게 개가 갑자기 달려들자, 을은 개의 공격을 피할 다른 방법이 없어 길가에 세워둔 병의 자전거와 부딪쳐서 넘어졌다. 이로 인해 병의 자전거가 파손되었고 을은 전치 2주의 부상을 입었다.

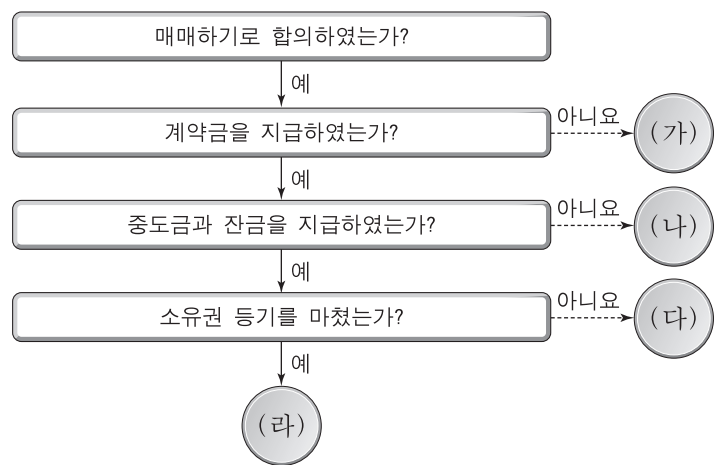
- ① 갑은 병의 자전거 파손에 대해 고의가 없으므로 손해 배상 책임을 지지 않는다.  
 ② 갑이 개의 소유자가 아닌 경우, 갑은 을에게 특수 불법 행위 책임을 지지 않는다.  
 ③ 갑은 을의 부모와 함께 병에게 공동 불법 행위 책임을 진다.  
 ④ 을의 행위는 위법성이 없으므로 을의 부모는 병에게 책임 무능력자의 감독자 책임을 지지 않는다.  
 ⑤ 병은 민사 조정 절차를 거쳐야 재산적 손해에 대한 배상을 받을 수 있다.

9. 우리나라 헌법의 기본 원리 (가), (나)에 대한 설명으로 가장 적절한 것은? [3점]

근대적 의미의 헌법은 국가의 역할을 제한하여 개인의 자유와 권리를 최대한 존중하고 국민의 동의와 지지에 근거한 국가 권력의 행사를 강조하였다. 이를 실현하기 위해 우리나라 헌법은 (가) 을/를 반영하여 기본권 보장, 법치주의 등을 규정하고 있다. 하지만 근대적 의미의 헌법으로는 국가가 빈부 격차를 비롯한 여러 사회 문제에 적극적으로 대처할 수 없다는 한계가 있었다. 그래서 현대적 의미의 헌법은 국민의 생존과 인간다운 생활을 보장하기 위하여 국가의 적극적인 개입을 강조한다. 이를 실현하기 위해 우리나라 헌법은 (나) 을/를 반영하고 있다.

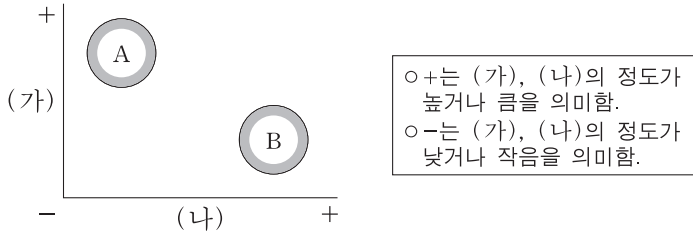
- ① (가)는 남북 분단이라는 현실을 반영한 우리나라 헌법 특유의 원리이다.  
 ② (가)를 실현하기 위해 우리나라는 국제 평화 유지에 노력하고, 침략적 전쟁을 부인하고 있다.  
 ③ (나)를 구현하는 방안으로 우리나라는 국민 기초 생활 보장 제도를 시행하고 있다.  
 ④ (나)에 따라 우리나라 헌법에서는 국가 기관 간 상호 견제와 균형을 유지하도록 규정하고 있다.  
 ⑤ (나)와 달리 (가)는 실질적 평등을 추구함에 있어 근거가 되는 원리이다.

10. 그림은 갑 소유의 A 주택을 을이 매수하는 과정을 나타낸 것이다. 이에 대한 법적 판단으로 옳은 것은? (단, 당사자 사이에 별도의 특별한 약정은 없다.) [3점]



- ① (가)의 경우 갑과 을이 계약서를 작성하지 않았다면 계약이 성립하지 않는다.  
 ② (나)의 경우 갑은 을로부터 받은 계약금의 두 배를 돌려주고 계약을 해제할 수 있다.  
 ③ (다)의 경우 을은 갑에게 지급한 계약금과 중도금을 포기하고 계약을 해제할 수 있다.  
 ④ (다)의 경우 을은 갑에게 잔금을 지급했으므로 A 주택의 소유권을 취득한다.  
 ⑤ (라)의 경우 A 주택의 등기부 을구에서 소유권자가 을로 변경된다.

11. 그림은 정당 제도 A, B를 비교한 것이다. 이에 대한 옳은 설명을 <보기>에서 고른 것은? (단, A와 B는 각각 양당제, 다당제 중 하나이다.)



가. (가)가 '다양한 민의 반영 용이성'이라면, B는 다당제이다.  
 나. (나)가 '다수당의 횡포가 나타날 가능성'이라면, A는 다당제이다.  
 다. A가 양당제라면, (가)에는 '군소 정당 난립 가능성'이 들어갈 수 있다.  
 르. B가 양당제라면, (나)에는 '정치적 책임 소재의 명확성'이 들어갈 수 있다.

- ① 가, 나    ② 가, 다    ③ 나, 다    ④ 나, 르    ⑤ 다, 르

12. 다음 자료에 대한 분석으로 옳은 것은? [3점]

현재 갑국의 의회는 5개의 선거구에서 선출된 지역구 의원으로만 구성된다. 각 정당은 선거구별로 한 명의 후보자만 공천하며, 유권자는 자신의 지역구 후보 중 한 명에게만 투표한다. 그리고 선거구별 선출 의원 수는 같다. 갑국은 현재의 선거구 수는 유지하되 현행 선거구제인 [가]를 [나]로 변경하고자 한다. 이 경우 [가]로는 갑국에서 한 정당이 지역구 전체 의석의 과반수를 확보할 수 없었지만, [나]에서는 가능하다. 더불어 선거구제 변경과 함께 각 정당의 지역구 후보들이 선거구 전체에서 얻은 득표율에 비례하여 의석을 배분하는 제도를 도입하여 비례 대표 10석을 추가하려 한다. 이와 같이 갑국이 선거 제도를 변경하면 의회 전체 의석수는 변경 전 의석수의 1.5배가 된다. 선거 제도 변경 안은 제10대 의회 의원 선거에서부터 시행하고자 한다. 아래 표는 현행 선거 제도로 실시된 제9대 의회 의원 선거에서의 정당 후보별 득표율을 나타낸 것이다.

(단위: %)

구분	A당 후보	B당 후보	C당 후보	D당 후보
선거구 1	30	35	25	10
선거구 2	30	45	10	15
선거구 3	40	20	30	10
선거구 4	25	40	28	7
선거구 5	75	10	7	8

\* 모든 선거구의 유권자 수와 투표율은 동일하다.  
 \*\* 선거 제도 변경 후에도 정당 공천 후보 수와 유권자 투표 방식은 동일하다.

- ① (가)는 (나)에 비해 사표가 많이 발생하여 득표율과 의석률의 불일치가 심하다.
- ② (나)는 (가)와 달리 선거구 내 당선자 간 표의 등가성 문제가 발생한다.
- ③ 제9대 선거 결과, B당은 과대 대표되었지만 C당은 과소 대표되었다.
- ④ 갑국이 도입하고자 하는 비례 대표 배분 방식은 평등 선거 원칙에는 위배되지만 직접 선거 원칙에는 위배되지 않는다.
- ⑤ 선거 제도 변경 안을 제9대 선거 결과에 적용한다면, A당과 B당의 의석수는 동석이 된다.

13. 다음 사례에 대한 법적 판단으로 옳은 것은? [3점]

고등학생 갑(17세)이 부모(법정 대리인)의 동의 없이 전자 대리점에서 고가의 노트북을 주문하였고, 대리점 사장 을은 갑이 미성년자임을 알면서도 판매하였다. 다음 날 갑의 동갑내기 이성 친구 병은 갑으로부터 그 노트북을 선물로 받았다.

- ① 갑은 미성년자임을 이유로 을과의 계약을 취소할 수 없다.
- ② 갑의 부모는 갑의 동의가 없으면 을과의 계약을 취소할 수 없다.
- ③ 갑의 부모는 갑이 병에게 노트북을 준 행위를 갑의 동의 없이 취소할 수 없다.
- ④ 갑이 부모의 동의 없이 구매하였으므로 을은 먼저 판매 의사 표시를 철회할 수 있다.
- ⑤ 을은 미성년자인 갑에게는 계약을 취소할 것인지의 확인을 요구할 수 없다.

14. 다음 사례에 대한 옳은 법적 판단만을 <보기>에서 있는 대로 고른 것은?

갑은 A와 이혼을 하였고 혼인 중에 출생한 딸 B(9세)는 A가 키우기로 하였다. 갑은 을과 재혼을 하였고 남자 아이 병(14세)을 합법적인 절차에 의해 입양하였다. 이듬해 갑은 퇴근하던 중 교통사고로 사망하였다. 사망 당시 갑은 채무 없이 자신 명의의 집을 남겼으며, 별도의 유언은 없었다.

\* 위 사례의 혼인은 모두 법률혼임.

가. 갑의 B에 대한 면접 교섭권은 재혼으로 상실된다.  
 나. 을이 상속을 포기하더라도 A는 갑의 재산을 상속받지 못한다.  
 다. 병은 단독으로 상속을 포기할 수 있다.  
 르. B와 병은 갑의 재산에 대해 동순위로 상속받는다.

- ① 가, 나    ② 가, 다    ③ 나, 르
- ④ 가, 다, 르    ⑤ 나, 다, 르

15. (가)에 대한 옳은 설명만을 <보기>에서 있는 대로 고른 것은?

법은 전통적으로 공법(公法)과 사법(私法)으로 분류되어 왔다. 공법은 국가 권력이 지배하는 정치적 생활 관계를 규율하는 반면, 사법은 사적 자치의 원칙에 근거하여 개인 간의 생활 관계를 규율한다. 하지만 자본주의 발전 과정에서 발생하는 사회 문제를 해결하기 위해 새로운 제3의 법 영역으로 [가]이 등장하였다.

가. 대표적으로 노동법, 경제법, 사회 보장법이 있다.  
 나. 실질적 평등보다는 형식적 평등을 추구하는 법이다.  
 다. 사법(私法)의 영역에 공법적 규제를 가하는 것을 내용으로 한다.  
 르. 국가 권력으로부터 사회·경제적 약자를 보호하기 위해 등장하였다.

- ① 가, 나    ② 가, 다    ③ 나, 르
- ④ 가, 다, 르    ⑤ 나, 다, 르

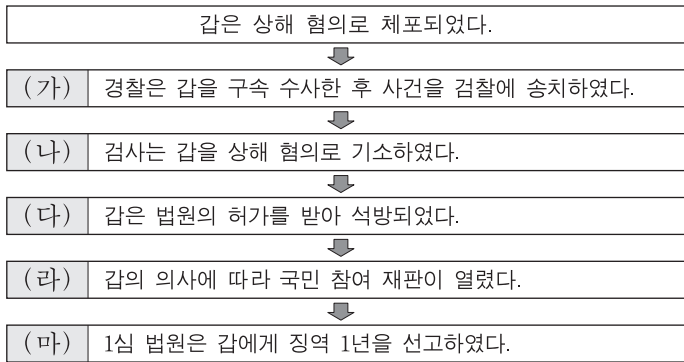
16. (가)에 대한 옳은 설명만을 <보기>에서 있는 대로 고른 것은?

국가 권력이 형벌권을 자의적으로 행사한다면 시민의 자유와 권리가 심각하게 침해되므로 국가 형벌권의 남용을 방지하기 위하여 형법의 기본 원리인 [가]이/가 등장하게 되었다. [가]은/는 근대에는 “법률이 없으면 범죄도 없고, 형벌도 없다.”라는 말로 표현되었다. 그러나 오늘날에는 법률의 내용까지도 정의로워야 한다는 의미에서 “적정한 법률이 없으면 범죄도 없고, 형벌도 없다.”라고 표현된다.

- <보기> —
- ㄱ. 형법의 보장적 기능을 수행하기 위해 필요한 원리이다.
  - ㄴ. 일반 시민에게 적용되나 범죄인에 대해서는 적용되지 않는다.
  - ㄷ. 사회적으로 큰 비난을 받는 행위라도 관습에 의해 처벌할 수 없다는 원칙을 포함한다.
  - ㄹ. 법률에 규정이 없는 사항에 대해서는 그것과 유사한 규정을 적용하여 처벌해서는 안 된다는 원칙을 포함한다.

- ① ㄱ, ㄴ                      ② ㄴ, ㄹ                      ③ ㄷ, ㄹ
- ④ ㄱ, ㄴ, ㄷ                ⑤ ㄱ, ㄷ, ㄹ

17. (가)~(마) 단계에 대한 법적 판단으로 옳은 것은? [3점]




- ① (가) 단계 이전에 검사가 발부한 구속 영장이 필요하다.
- ② (가)와 (나) 단계 사이에는 진술 거부권이 인정되나 (나) 단계 이후에는 인정되지 않는다.
- ③ (나)와 (다) 단계 사이에서 갑은 구속 적부 심사 제도를 활용하였다.
- ④ (라) 단계에서 민법상 성년인 19세 시민은 배심원으로 선정될 수 있다.
- ⑤ (마) 단계 이후 판결이 확정되었다면 검사의 지휘에 따라 형이 집행된다.

18. (가)~(다)에 대한 설명으로 옳은 것은?

국제법의 법원에 대해 알아보시다.

국제법의 법원(法源)

- (가) 국가 간에 체결한 법적 구속력을 가진 약속
- (나) 문명국들이 공통적으로 승인하여 따르는 법의 보편적인 원칙
- (다) 반복적인 관행이 국제 사회에서 법 규범으로 승인되어 효력을 가지게 된 것
- ⋮



- ① (가)는 우리나라에서 대통령이 체결하고 국회가 비준한다.
- ② (나)의 예로 신의 성실의 원칙, 권리 남용 금지의 원칙을 들 수 있다.
- ③ (다)는 당사국 간 명시적인 수용 절차를 거쳐야만 성립된다.
- ④ (나)와 달리 (가)는 우리나라에서 헌법과 동등한 지위를 가진다.
- ⑤ (가)와 (다)는 우리나라에서 국회의 동의가 있어야만 법적 효력을 가진다.

19. 다음 사례에서 범죄 성립에 대한 옳은 법적 판단만을 <보기>에서 있는 대로 고른 것은? [3점]

- 경찰관 갑은 범죄 현장에서 적법한 절차에 따라 강도를 체포하였다.
- 을은 강풍에 의해 간판이 머리 위로 떨어지자 이를 달리 피할 방도가 없어 남의 집 안으로 뛰어 들어갔다.
- 평소 심신 장애로 인하여 사물을 변별할 능력이 없는 병이 아무런 이유 없이 지나가는 행인을 폭행하였다.
- 고등학생 정(17세)은 친구 A의 동의하에 A의 아버지 소유의 자전거를 훔쳤다.

- <보기> —
- ㄱ. 갑의 행위는 구성 요건에 해당되지 않는다.
  - ㄴ. 을의 행위는 구성 요건에 해당되나 위법성이 조각된다.
  - ㄷ. 병의 행위는 구성 요건에 해당되고 위법성은 인정되나 책임이 조각된다.
  - ㄹ. 정은 행위는 구성 요건에 해당되고 위법성과 책임이 모두 인정된다.

- ① ㄱ, ㄴ                      ② ㄱ, ㄷ                      ③ ㄷ, ㄹ
- ④ ㄱ, ㄴ, ㄹ                ⑤ ㄴ, ㄷ, ㄹ

20. 국제 사회를 바라보는 관점 A, B에 대한 추론으로 가장 적절한 것은? [3점]

관점	관점을 뒷받침하는 사례
A	갑국과 영토권 분쟁을 빚고 있는 지역에 을국이 자국의 이익만을 고려하여 군대를 파견하였다. 그리고 을국은 “군대를 파견한 것은 해당 지역에 대한 정당한 주권 행사이며, 향후 추가 파견을 통해 실질적인 지배권을 확보하겠다.”라고 발표했다. 갑국은 이에 대응하여 을국에 선전 포고를 하였다.
B	병국은 해상 경계선 문제로 국제 사법 재판소에 정국을 제소하였다. 국제 사법 재판소는 정국의 주권을 80해리까지로 제한한다고 판결하였다. 이에 대해 정국은 “국제 규범과 국제법을 따르는 국가로서 국제 사법 재판소의 판결을 존중하며 이를 따르겠다.”라고 발표했고, 병국 역시 동일한 입장을 밝혔다.

- ① A는 국제법을 통해 국가 간 분쟁이 평화롭게 해결될 수 있다고 볼 것이다.
- ② A는 국제 사회가 무정부 상태에 가깝기 때문에 국가 스스로 안보를 지켜야 한다고 볼 것이다.
- ③ B는 국제 사회에서 국가들이 이기적 행위자이기 때문에 국가 간 협력은 불가능하다고 볼 것이다.
- ④ A는 B와 달리 국제기구를 통해 국제 사회에서 협력을 이룰 수 있다고 볼 것이다.
- ⑤ B는 A와 달리 국제 사회에서 국가 간 힘의 균형을 중요시하고 이를 통해 전쟁이 억제된다고 볼 것이다.

\* 확인 사항  
○ 답안지의 해당란에 필요한 내용을 정확히 기입(표기)했는지 확인 하시오.



제 4 교시

# 사회탐구 영역(법과 정치)

성명		수험 번호							
----	--	-------	--	--	--	--	--	--	--

1. (가), (나)는 민주 정치 형태에 관한 주장이다. 이에 대한 설명으로 옳은 것은?

(가) 국민 모두가 대부분의 결정에 직접 참여하는 것은 불가능하고, 국민이 직접 참여하여 결정한 결과가 반드시 옳은 것도 아니다. 따라서 국민은 능력과 자격을 갖춘 대표를 선출하고 대표로 하여금 다양한 이해관계를 조정하며 공익을 추구하는 결정을 하도록 믿고 맡기는 것이 바람직하다.

(나) 국민이 대표만 직접 선출하고 중대 사안의 결정을 대표에게만 맡기는 것은 부당하다. 대표가 국민의 의사를 제대로 반영하지 못하기도 하고, 국민 대다수가 방관자로 남기 때문이다. 따라서 국민이 직접 참여하여 결정하는 다양한 제도를 시행해야 한다.

- ① 국민 투표는 (가)에서 유래한 제도이다.
- ② (가)는 대표의 정치적 전문성을 중시한다.
- ③ (나)는 엘리트 정치를 옹호한다.
- ④ (나)는 다수결의 원리를 반대한다.
- ⑤ (가), (나) 모두 대표가 국민 의사를 반영하는 원리를 불신한다.

2. 법치주의 (가), (나)에 대한 옳은 설명을 <보기>에서 고른 것은?

(가) 법치주의란 '실정법률에 의한 지배'이다. 따라서 형식적인 절차에 의해 국가가 제정한 실정법이라면 법 그 자체의 내용에 대한 판단은 내리지 않으며, 그에 따른 통치는 정당하다.

(나) 법치주의란 '민주주의적 가치와 정의의 요청을 충족하는 법의 지배'이다. 따라서 의회에서 심의되고 결정된 것을 인간의 존엄성과 가치를 존중하는 헌법 이념에 비추어서 심사할 수 있는 헌법재판제도는 법치주의의 중요한 장치이다.

— <보기> —

ㄱ. (가)에서는 법적 절차와 형식 준수가 강조된다.

ㄴ. (나)에서는 정치권력에 대한 법의 우위성 여부가 통치자에 의해 결정된다.

ㄷ. (가)와 달리 (나)는 통치 행위의 합법성뿐만 아니라 실질적 정당성까지 중시한다.

ㄹ. (나)와 달리 (가)는 국민의 기본권 제한에 대한 법적 근거의 필요성을 인정한다.

- ① ㄱ, ㄴ    ② ㄱ, ㄷ    ③ ㄴ, ㄷ    ④ ㄴ, ㄹ    ⑤ ㄷ, ㄹ

3. 다음 근대 정치 사상가의 주장에 대한 설명으로 옳지 않은 것은?

자연 상태에서 개인들은 누구나 자신이 원하는 것을 행할 수 있기 때문에 언제나 서로 생존을 위협하고 투쟁하는 전쟁 상태에 처해 있다. 개인들은 이러한 상태를 끝내고 자신을 보존하기 위해 자연 상태에서 행사했던 자연권을 스스로 양도하는 계약을 맺어 국가를 설립한다.

- ① 국가가 부재한 가상의 상태를 설정하고 국가 질서의 필요성을 역설한다.
- ② 자연 상태를 개인들이 갈등을 평화적으로 해결할 수 없는 상태로 묘사한다.
- ③ 국가의 역할을 평화와 안전을 보장하는 데에 두고 군주의 절대적 지배를 옹호한다.
- ④ 자연 상태에서 생존을 위협하는 공포와 불안을 개인이 사회 계약을 맺게 되는 동기로 본다.
- ⑤ 개인이 자연 상태에서의 자연권을 양도하는 것은 개인보다 국가를 우선시하는 데에서 비롯된다고 본다.


4. 교사의 질문에 대한 옳은 답변을 <보기>에서 고른 것은? [3점]

※ **학습 목표**  
우리나라 정부 형태의 특징을 설명할 수 있다.

※ **학습 주제**  
전형적인 정부 형태 A, B와 우리나라 정부 형태의 특징

- 정부 형태 A
  - 국민의 선거에 의한 입법부 구성
  - 입법부에 책임을 지는 행정부
- 정부 형태 B
  - 국민의 선거에 의한 입법부 구성과 국민의 선거에 의한 행정부 수반 선출
  - 입법부와 독립적인 행정부

우리나라 정부 형태에서 A, B에 해당하는 요소에는 어떤 것이 있을까요?



— <보기> —

ㄱ. 국회의원이 국무위원을 겸직할 수 있는 것은 A의 요소입니다.

ㄴ. 행정부 수반과 국가 원수가 동일인인 것은 B의 요소입니다.

ㄷ. 행정부의 법률안 거부권은 A, 행정부의 법률안 제출권은 B의 요소입니다.

ㄹ. 국무총리를 두는 것은 A, B 모두의 요소입니다.

- ① ㄱ, ㄴ    ② ㄱ, ㄷ    ③ ㄴ, ㄷ    ④ ㄴ, ㄹ    ⑤ ㄷ, ㄹ

5. 다음 자료에 대한 설명으로 옳은 것은? (단, A~D는 각각 국회, 대법원, 정부, 헌법재판소 중 하나이다.) [3점]

- A는 국정 감사권 및 조사권을 통해 B를 견제한다.
- C의 장(長)은 A의 동의를 얻어 임명된다.
- 정당의 목적이나 활동이 민주적 기본 질서에 위배될 때 B는 D에 그 해산을 제소할 수 있다.
- C는 D에 (가)을/를 행사할 수 있다.

- ① A는 국가 및 법률이 정한 단체의 회계를 검사한다.
- ② B는 국가의 예산안을 심의하고 확정한다.
- ③ C는 국가 기관 상호 간 권한 쟁의 심판을 담당한다.
- ④ D는 국회의원 선거 소송을 담당한다.
- ⑤ (가)에는 '위헌 법률 심판 제청권'이 적절하다.

6. 표에 대한 옳은 분석 및 추론을 <보기>에서 고른 것은?

<갑국의 의회 의원 선거 결과>

구분	t 대				t+1 대			
	A	B	...	합계	A	B	...	합계
정당								
의석률(%)	30	31	...	100	52	43	...	100

\* t대와 t+1대에서 의석을 차지한 정당의 수는 각각 4개이며, 무소속 의원은 없음.  
 \*\* 갑국은 전형적인 의원 내각제를 채택하고 있음.

<보기>

- ㄱ. t대는 t+1대에 비해 정국이 안정적으로 운영되었을 가능성이 높다.
- ㄴ. t+1대는 t대에 비해 정당의 정치적 책임 소재가 명확할 것이다.
- ㄷ. t+1대는 t대에 비해 국민의 다양한 의사가 정책에 반영될 기회가 많아질 것이다.
- ㄹ. t대에서는 t+1대와 달리 연립 내각을 구성하는 것이 필요했을 것이다.

- ① ㄱ, ㄴ    ② ㄱ, ㄷ    ③ ㄴ, ㄷ    ④ ㄴ, ㄹ    ⑤ ㄷ, ㄹ

7. 밑줄 친 '입법 청원의 새로운 방법'의 기대 효과로 가장 적절한 것은?

입법 청원의 새로운 방법

국회법에 의하면 국민은 의원의 소개를 얻어 국회에 청원서를 제출할 수 있다. 국민의 뜻을 반영하려는 방식을 법률로 보장한 것이다. 제19대 국회에서는 227건의 청원이 있었으나 본회의에서 채택된 것은 2건뿐이었다. 국민의 목소리가 제대로 전달되지 않는 국회의 모습을 어떻게 변화시킬 수 있을까? 이를 고민하던 ○○연구소는 국민들이 인터넷을 이용하여 입법안을 제출할 수 있는 사이트를 개설했다. 누구든지 이 사이트에 가입하여 입법을 제안할 수 있다. 만약 입법안이 1천 명 이상의 지지를 받게 되면 국회의 해당 상임 위원회 의원에게 전달된다. 현재까지 이 사이트를 통해 제안된 법안은 크게 증가하였고, 이 가운데 상당 건은 입법 실행 단계에 있다. 국회의원들도 적극적이었다. 이 방법은 법안을 쉽게 제안할 수 있어 입법 청원에 더 많은 국민이 참여할 것으로 기대된다.

- ① 정부에서 제출하는 입법안이 증가할 것이다.
- ② 입법 과정에서 국회의 전문성이 강화될 것이다.
- ③ 국민 여론이 특정 분야에 집중되는 데 기여할 것이다.
- ④ 국민의 알 권리를 충족시키며 하향식 의사 결정이 증가할 것이다.
- ⑤ 국민의 정치 참여 접근성이 높아지고 투입 기능이 활성화될 것이다.

8. 밑줄 친 ㉠, ㉡에 대한 설명으로 옳은 것은?

- 헌법재판소는 4급 이상 공무원이 신고한 병역 사항의 내용 중 병역 면제의 근거인 질병명이 관보와 인터넷에 예외 없이 공개되도록 규정한 공직자 관련 법령이 4급 이상 공무원의 ㉠기본권을 침해한다고 결정하였다.
- 헌법재판소는 이의 신청 및 심사 청구를 거치지 않으면 지방세 부과 처분에 대하여 행정소송을 제기할 수 없도록 한 지방세법 규정이 지방세 납세 의무자의 ㉡기본권을 침해한다고 결정하였다.

- ① ㉠은 헌법에 열거되지 않아도 보장받을 수 있는 포괄적 권리이다.
- ② ㉠은 기본권이 침해되었을 때 이를 구제받기 위한 수단적 권리이다.
- ③ ㉡은 국가의 정치 과정에 적극적으로 참여할 수 있는 권리이다.
- ④ ㉠은 ㉡과 달리 인간다운 생활을 국가에 요구할 수 있는 적극적 권리이다.
- ⑤ ㉡은 ㉠과 달리 국가의 간섭을 받지 않을 소극적 권리이다.

9. 우리나라 헌법의 기본 원리 (가), (나)에 대한 설명으로 옳은 것은? [3점]

구분	관련 법률
(가)	<b>국민연금법</b> 제1조(목적) 이 법은 국민의 노령, 장애 또는 사망에 대하여 연금 급여를 실시함으로써 국민의 생활 안정과 복지 증진에 이바지하는 것을 목적으로 한다.
(나)	<b>문화재보호법</b> 제1조(목적) 이 법은 문화재를 보존하여 민족 문화를 계승하고, 이를 활용할 수 있도록 함으로써 국민의 문화적 향상을 도모함과 아울러 인류 문화의 발전에 기여함을 목적으로 한다.

- ① (가)의 실현을 위해 국가는 경제에 관한 규제와 조정을 할 수 있다.
- ② (가)의 실현을 위해 국가는 개인의 재산권을 실질적으로 보장하고 간섭을 최소화해야 한다.
- ③ (나)의 실현을 위해 북한 주민에 대한 인도적 지원을 하고 있다.
- ④ (나)의 실현을 위해 상호주의 원칙에 따라 외국인의 지위를 보장하고 있다.
- ⑤ (가)와 달리 (나)의 실현을 위해서는 국가의 적극적인 역할이 요구된다.

10. 그림의 (가)에 들어갈 옳은 법적 조언을 <보기>에서 고른 것은? [3점]



<보기>

- ㄱ. 차용증에 집행력 있는 공증을 미리 받아 두었어야 차용증의 법적 효력이 있어요.
- ㄴ. 을에게 내용 증명 우편을 보내서 채무의 이행을 촉구할 수 있어요.
- ㄷ. 소송을 제기하기 전에 을의 재산에 대한 가압류를 통해 채권을 보전할 수 있어요.
- ㄹ. 이 사건은 소액 사건 심판 대상이 아니기 때문에 민사 조정으로 해결할 수 있어요.

- ① ㄱ, ㄴ    ② ㄱ, ㄷ    ③ ㄴ, ㄷ    ④ ㄴ, ㄹ    ⑤ ㄷ, ㄹ

11. 다음 자료에 대한 법적 판단으로 옳은 것은? [3점]

소 장

원고: 갑 / 피고: 을

청구 취지  
(생략)  
청구 원인

1. 원고는 식사를 하기 위해 피고가 운영하는 ○○식당에 방문한 손님이고, 피고는 ○○식당을 운영하는 자입니다. 병은 피고가 고용한 종업원으로 주로 손님의 자동차를 주차하는 일을 하고 있습니다.

2. 병은 원고로부터 원고 소유의 자동차 키를 받아서 주차하던 중 자동차 범퍼를 파손하여 3백만 원 상당의 손해를 가하였습니다. …(중략)…

3. 이에 원고는 피고에게 손해배상금을 지급받기 위해 이 사건의 소를 청구 합니다.

- ① 갑은 병에게 손해배상책임을 물을 수 없기 때문에 위 소장을 제출하는 것이다.
- ② 위 소장은 갑이 을에게 사용자의 배상책임을 묻는 것이다.
- ③ 병에게 과실이 있더라도 고의가 없다면 을은 갑에게 불법행위 책임을 지지 않는다.
- ④ 병의 행위가 업무와 관련이 없어도 을은 불법행위책임을 진다.
- ⑤ 갑이 승소하면 을은 파손된 범퍼를 원상회복해야 한다.

12. 다음 사례에 대한 법적 판단으로 옳은 것은? [3점]

퇴근 후 불법 사실 도박 사이트에 접속해 불법 도박을 했다는 이유로 해고 처분된 갑은 중앙노동위원회 위원장을 상대로 소송을 제기했다. 해당 재판부는 선고를 내리면서 "사생활에서의 비행이 정당한 징계 사유가 되려면 사업 활동에 직접 관련이 있는 행위이거나 기업의 사회적 평가를 훼손할 우려가 있는 행위여야 한다. 이런 기준을 적용한다면 갑의 행위가 회사의 사회적 평가에 악영향을 미칠 정도로 볼 수 없으므로 해고 처분은 징계 재량권을 남용한 것으로 보아야 한다."라고 그 이유를 제시하였다. 이에 불복한 당사자는 항소하였다.

- ① 갑은 민사 소송을 제기하였다.
- ② 갑이 제기한 소송은 노동조합도 제기할 수 있다.
- ③ 사용자의 부당 노동 행위 여부가 재판의 쟁점이 되었다.
- ④ 해고 처분의 정당성에 대해 중앙노동위원회와 재판부가 동일하게 판단하였다.
- ⑤ 중앙노동위원회의 재심 절차와 관계없이 갑이 제기한 소송은 3심제가 적용된다.

13. 국제 사회를 바라보는 갑, 을의 관점에 대한 옳은 설명을 <보기>에서 고른 것은? [3점]

갑: 대기 환경오염은 특정 국가만의 문제가 아니라 인류 공동의 문제입니다. 이러한 문제는 개별 국가들이 자신의 이해관계를 넘어서서 국제 규범을 통해 평화적으로 해결해야 합니다.

을: 하지만 국가마다 자국만의 산업발전을 중시하기 때문에 대기 환경오염이 불가피하게 발생합니다. 이렇듯 각국이 자국의 이익을 배타적으로 관철하려는 것이 국제 사회의 현실입니다. 그렇기 때문에 단순히 규범으로 문제를 해결하는 데에는 한계가 있습니다.

< 보 기 >

- ㄱ. 갑의 관점은 국제 사회가 힘의 논리에 의해 지배된다고 본다.
- ㄴ. 을의 관점은 국제 사회가 인류의 보편적 가치를 추구한다고 본다.
- ㄷ. 갑의 관점은 을과 달리 국제 협력을 통한 국제 문제의 해결을 중시한다.
- ㄹ. 을의 관점은 갑과 달리 국가 간 동맹을 통한 세력 균형이 자국의 안보를 보장한다고 본다.

- ① ㄱ, ㄴ    ② ㄱ, ㄷ    ③ ㄴ, ㄷ    ④ ㄴ, ㄹ    ⑤ ㄷ, ㄹ

14. 다음 사례에 대한 법적 판단으로 옳은 것은?

2016년 7월 5일, 갑과 을은 보증금 1억 원, 임대차 기간 1년으로 하는 주택 임대차 계약을 체결하였다. 을은 2016년 7월 14일에 이사를 하면서 전입신고를 함과 동시에 확정 일자를 받았다. 임대차 계약이 만료되기 1개월 전, 을은 임차한 주택의 등기 사항 전부 증명서에서 아래의 내용을 확인하였다.

【갑 구】				
순위 번호	등기 목적	접수	등기 원인	권리자 및 기타사항
1	소유권 보존	2015년 3월 3일 제○○○○호		소유자 갑 (이하 생략)
2	소유권 이전	2017년 5월 12일 제○○○○호	---	소유자 병 (이하 생략)

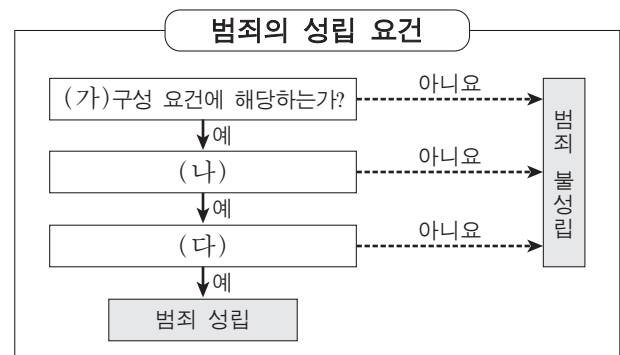
  

【을 구】				
순위 번호	등기 목적	접수	등기 원인	권리자 및 기타사항
1	저당권 설정	2016년 10월 6일 제○○○○호	---	저당권자 정 (이하 생략)

- ① 갑이 병에게 주택을 매도할 당시 임차인 을의 동의를 필요했다.
- ② 을은 임대차 계약 종료 후 갑에게 보증금의 반환을 청구해야 한다.
- ③ 을은 2017년 5월 12일에 병과 새로운 내용의 임대차 계약을 체결하여야 했다.
- ④ 임차한 주택이 경매될 경우 을은 정보보다 우선하여 보증금을 변제받을 수 있다.
- ⑤ 을은 임대차 기간이 2년으로 간주되어 계약 기간 1년이 유효함을 주장할 수 없다.

15. 밑줄 친 ㉠에 대한 근거로 옳은 것은? [3점]

갑(14세)은 하룻길에 갑자기 자신에게 달려오는 오토바이를 피하려다 지나가는 행인과 부딪쳐 경미한 상해를 입혔다. 이후 다친 행인이 갑에게 형사 책임을 지우려 하자 갑의 아버지는 변호사를 찾아가 상담을 요청하였다. 이에 변호사는 다음 그림을 이용하여 갑의 행위는 ㉠ 범죄가 성립하지 않는다고 설명하였다.



- ① (가)단계에서 고의나 과실이 없기에 범죄가 불성립된다.
- ② (나)단계에서 정당방위로 범죄가 불성립된다.
- ③ (나)단계에서 긴급 피난으로 범죄가 불성립된다.
- ④ (다)단계에서 형사 미성년자로 범죄가 불성립된다.
- ⑤ (다)단계에서 저항할 수 없는 폭력에 의해 강요된 행위로 범죄가 불성립된다.



16. 다음 사례에 대한 법적 판단으로 옳은 것은?

갑은 고속도로에서 인접 차량의 운전자 을과 시비가 붙어 을의 차량에 위협을 가하는 보복 운전을 하여 을에게 상해를 입혔다. ㉠ 형사 법규 위반 혐의로 구속된 상태에서 수사를 받던 갑은 ㉡ 구속 적부심을 신청하였지만 기각되었다. 이후 검사는 갑이 형사 법규를 위반한 것으로 판단하고 ○○지방법원에 [A] 을/를 하였다. 이로 인해 공판 절차가 진행되었으며, 재판부는 갑에게 [B] 을/를 선고하였다.

- ① 재판 중 ㉠이 개정되어 처벌 규정이 강화되더라도 갑은 행위시의 법률을 적용받는다.
- ② ㉡으로 인해 갑은 피고인으로 신분이 바뀐다.
- ③ 갑은 A 이전에 보증금을 납부한 후 석방을 신청할 수 있다.
- ④ 을은 갑의 유·무죄와 관계없이 A 이후 공판 과정에서 배상 명령 제도를 통해 배상받을 수 있다.
- ⑤ B가 선고유예라면 갑은 형사 보상을 청구할 수 있다.

17. A~C에 대한 법적 판단으로 옳은 것은? [3점]

어려서 부모를 모두 여윈 갑은 을과 결혼식을 올린 후 유일한 혈육인 동생 병과 같이 살고 있었다. 얼마 전 갑은 “모든 재산 5억 원을 ○○재단에 기부한다.”라는 내용의 유언장을 남기고 채무 없이 사망하였다. 갑은 을과의 사이에 자녀가 없다. 그림의 A~C는 상황에 따른 상속의 경우를 나타낸 것이다.

```

    graph TD
      Q1{갑과 을은 혼인 신고를 하였는가?}
      Q2{갑의 유언장은 법적으로 유효한가?}
      A[A]
      B[B]
      C[C]
      Q1 -- 아니요 --> A
      Q1 -- 예 --> B
      Q1 -- 예 --> C
      Q2 -- 아니요 --> A
      Q2 -- 예 --> B
      Q2 -- 아니요 --> C
  
```

- ① A의 경우 을은 갑의 재산을 상속받을 수 있다.
- ② B의 경우 병은 ○○재단을 상대로 유류분에 대한 반환을 청구할 수 있다.
- ③ C의 경우 을은 병이 상속받게 될 상속액의 50%를 가산하여 상속받는다.
- ④ A의 경우 병의 상속액과, C의 경우 을의 상속액은 동일하다.
- ⑤ C와 달리 B의 경우 을의 법정 상속권이 인정되지 않는다.

18. 표는 국제법의 법원(法源) A~C를 질문에 따라 구분한 것이다. 이에 대한 설명으로 옳지 않은 것은? (단, A~C는 각각 조약, 국제 관습법, 법의 일반 원칙 중 하나이다.)

질문	A	B	C
국가 간에 체결한 법적 구속력을 가진 약속입니까?	아니요	아니요	예
문명국들이 공통적으로 승인하여 따르는 법의 보편적 원칙입니까?	예	아니요	아니요
(가)	아니요	예	아니요

- ① A에는 신의 성실의 원칙, 권리 남용 금지의 원칙 등이 있다.
- ② B는 국제 사회에서의 관행이 규범화된 것이다.
- ③ C는 우리나라의 경우 대통령이 비준권을 행사한다.
- ④ A~C 모두 국제 사법 재판소의 재판 준거가 된다.
- ⑤ (가)에는 ‘국내에서 효력이 발생하려면 별도의 입법 절차가 필요합니까?’가 들어갈 수 있다.

19. (가)에 대한 옳은 설명을 <보기>에서 고른 것은?

○○신문 2017년 ○월 ○일

시장에서 과도한 경제력의 집중을 방지하고 불공정거래행위를 규제하기 위한 ‘독점 규제 및 공정 거래에 관한 법률’이 마련되어 있다. 이 법률에 근거하여 최근 음식 가격 인상으로 논란이 컸던 대형 프랜차이즈 회사들에 대해 [가]의 조사가 시작되었다. [가]은/는 이 회사들이 음식 가격 인상과 함께 가맹점으로부터 광고비 분담 명목으로 일정액을 받기로 한 것이 가맹사업법 위반 및 과징금의 부과 대상에 해당되는지 살펴볼 예정이다.

— <보기> —

- ㄱ. 시장 지배적 지위의 남용 여부를 조사할 권한을 가진 기관이다.
- ㄴ. 사법적 영역에 대해 공법적 규제를 가할 권한을 가진 기관이다.
- ㄷ. 경제적으로 어려운 국민을 보호하기 위하여 소송 대리 등의 법률 구조를 하는 기관이다.
- ㄹ. 소비자의 피해를 구제하기 위해 피해 보상에 대한 합의를 권고하고 분쟁을 조정하는 기관이다.

- ① ㄱ, ㄴ    ② ㄱ, ㄷ    ③ ㄴ, ㄷ    ④ ㄴ, ㄹ    ⑤ ㄷ, ㄹ

20. 다음 자료에 대한 옳은 분석을 <보기>에서 고른 것은? [3점]

갑국은 현재 5개 선거구에서 선거구마다 최다 득표자 1인을 의회 의원으로 선출한다. 갑국은 차기 선거를 앞두고 현행 제도를 변경할 예정이며, 다음과 같은 두 가지 안을 검토하고 있다.

- <1안> 선거구 1~3, 선거구 4~5를 통합하여 두 개의 선거구를 만들며 의원 정수는 각각 3석과 2석으로 함.
- <2안> 선거구 모두를 통합하여 한 개의 선거구로 만들며 의원 정수는 5석으로 함.

두 안 모두 의석 할당 정당의 득표 비율에 선거구별 의원 정수를 곱하여 산출된 수의 정수(整數)만큼 정당의 의석으로 배분한다. 이후 잔여 의석은 소수점 이하 수가 큰 순서대로 각 의석 할당 정당에 1석씩 배분한다. 단, 의석 할당 정당은 1안의 경우 선거구별로 유효 투표 총수의 20% 이상을 득표하여야 하고, 2안의 경우 전체 유효 투표 총수의 5% 이상을 득표하여야 한다. 표는 최근 갑국 선거에서의 정당별 득표수를 나타낸다.

구분	A당	B당	C당	D당	E당	유효 투표 총수
선거구 1	100	200	0	100	0	400
선거구 2	400	100	0	0	0	500
선거구 3	100	100	200	100	100	600
선거구 4	200	0	100	0	0	300
선거구 5	0	0	200	0	0	200
합계	800	400	500	200	100	2,000

\* 의석 할당 정당의 득표 비율은 각 의석 할당 정당의 득표수를 모든 의석 할당 정당의 득표수 합계로 나누어 산출함.  
\*\* 위의 표를 기준으로 차기 선거 결과를 판단함.

— <보기> —

- ㄱ. A당의 경우 1안은 현행보다 유리하다.
- ㄴ. B당의 경우 2안은 현행보다 불리하다.
- ㄷ. C당의 경우 1안과 2안 모두 현행보다 불리하다.
- ㄹ. D당의 경우 1안이 2안보다 유리하고, E당의 경우 선거 제도 변경에 따른 유불리는 없다.

- ① ㄱ, ㄴ    ② ㄱ, ㄷ    ③ ㄴ, ㄷ    ④ ㄴ, ㄹ    ⑤ ㄷ, ㄹ

\* 확인 사항  
○ 답안지의 해당란에 필요한 내용을 정확히 기입(표기)했는지 확인 하시오.

제 4 교시

사회탐구 영역(법과 정치)

성명		수험 번호							
----	--	-------	--	--	--	--	--	--	--

1. 정치의 의미에 대한 관점 (가), (나)에 대한 설명으로 옳은 것은?

(가) 사회적 희소가치의 배분을 둘러싼 권력 현상은 국가 수준에서 형성되기 때문에 사회적 갈등을 해결하고 질서를 유지하는 국가의 활동을 정치로 보아야 한다.  
 (나) 권력 현상은 국가는 물론 다른 사회 집단에서도 나타나기 때문에 국가를 포함한 사회 집단이 갈등을 해결하고 사회 집단 내의 의사를 형성하는 것도 정치로 보아야 한다.

- ① (가)는 국가 형성 이전의 정치 현상을 설명하는 데 적합하다.
- ② (가)는 학생 자치회가 자선 바자회 수익금의 사용처를 결정하는 과정을 정치라고 본다.
- ③ (가)는 (나)에 비해 다원화된 현대 사회의 갈등 해결 양상을 설명하기에 용이하다.
- ④ (가)는 (나)와 달리 시민 단체가 정부 정책을 감시하고 비판하는 것을 정치라고 본다.
- ⑤ (가), (나) 모두 소수의 통치 엘리트가 정책을 결정하는 것을 정치라고 본다.

2. 법치주의를 보는 갑, 을의 관점에 대한 설명으로 옳은 것은?

갑: 법이 구속력을 갖는 것은 국민의 대표 기관인 의회가 일정한 절차를 거쳐 제정하였기 때문입니다. 따라서 법의 내용과 목적의 타당성 여부와 상관없이 그 법에 따른 권력 행사는 당연히 구속력을 가집니다.  
 을: 절차적 정당성을 갖춘 법이 곧 정의는 아니며, 정의롭지 못한 법이 합법적으로 제정되어 역사적 비극이 발생하기도 하였습니다. 법이 적법한 절차를 거쳤더라도 그 내용과 목적이 정의에 부합할 때에만 구속력을 갖게 됩니다.


- ① 갑의 관점은 절차적 정당성과 관계없이 실질적 정당성만 확보되면 법의 효력을 인정한다.
- ② 을의 관점은 국민의 자유와 권리 보장보다 통치의 합법성을 중시한다.
- ③ 갑과 달리 을의 관점은 국가가 국민의 기본권을 제한하거나 의무를 부과할 때 법에 근거를 두어야 한다고 본다.
- ④ 을과 달리 갑의 관점은 통치자를 제외한 모든 사람이 법에 구속되어야 한다고 본다.
- ⑤ 갑과 을의 관점 모두 국가 권력의 자의적 행사를 경계한다.

3. (가), (나)에 대한 설명으로 옳은 것은? (단, (가)와 (나)는 각각 고대 아테네 민주 정치, 근대 민주 정치 중 하나이다.) [3점]

(가) 국가의 주요 의제에 대한 최고 의결 권한을 가지는 기구가 있었고, 모든 시민은 이 기구에 참가하여 중요한 정치 문제를 토의하고 결정하였다.  
 (나) 시민에 의해 선출된 대표로 구성된 기구가 대의 기능을 수행하였으나, 공직 선출이나 정치 참여에 있어 재산, 성별 등에 따른 제한이 있었다.


- ① (가)에서는 국민 주권론에 근거한 정치 체제가 확립되었다.
- ② (가)에서는 국가 주요 사안을 시민들이 직접 결정할 수 있는 기회가 보장되었다.
- ③ (나)에서는 보통 선거 원칙이 확립되었다.
- ④ (가)에서는 (나)와 달리 입헌주의 원리가 확립되었다.
- ⑤ (가), (나) 모두 천부 인권 사상의 영향을 받아 발전하였다.

4. 다음 대화의 (가), (나)에 들어갈 수 있는 적절한 내용을 <보기>에서 고른 것은? (단, A와 B는 각각 양당제, 다당제 중 하나이다.)

의원 내각제 국가인 ○○국은 역사적으로 연립 정부를 구성해 왔으며, 현재에도 연립 정부가 구성되어 있습니다. ○○국의 정당 제도에 대한 자신의 의견을 말해 보세요. 

갑: ○○국의 정당 제도는 A입니다. A에서는 B에서보다 (가) 따라서 B가 바람직합니다.

을: 그렇지 않습니다. B에서는 A에서보다 (나) 따라서 ○○국은 현행 정당 제도를 유지하는 것이 바람직합니다.

모두 각 정당 제도의 특징을 근거로 한 타당한 의견을 제시하였습니다. 

— <보기> —

ㄱ. (가) - 강력한 정책 추진이 어렵습니다.  
 ㄴ. (가) - 다양한 의견을 반영하기 어렵습니다.  
 ㄷ. (나) - 다수당의 횡포 가능성이 높습니다.  
 ㄹ. (나) - 정책 실패에 대한 책임 소재가 불분명합니다.

- ① ㄱ, ㄴ    ② ㄱ, ㄷ    ③ ㄴ, ㄷ    ④ ㄴ, ㄹ    ⑤ ㄷ, ㄹ

5. 우리나라 헌법 기관 A, B에 대한 설명으로 옳은 것은? [3점]

A는 국무 회의의 심의를 거친 '○○의정서' 비준안을 결재하였다. 그러나 국회는 A가 '○○의정서'의 체결·비준에 대한 국회의 동의를 요구하지 않는 행위가 국회의 권한을 침해하였다고 주장하면서 B에 권한 쟁의 심판을 청구하였다.

- ① A는 국무 총리 해임 건의권을 가진다.
- ② A는 국가 예산의 결산 심사권을 가진다.
- ③ B는 위헌 법률 심판 제청권을 가진다.
- ④ B는 하급 법원의 판결에 대한 상고심을 담당한다.
- ⑤ A는 B의 재판관 9인을 임명한다.

6. A~C에 대한 설명으로 옳은 것은? (단, A~C는 각각 시민 단체, 이익 집단, 정당 중 하나에 해당하는 집단이다.)

A와 B는 대기 오염을 줄이기 위해 관련 법 개정에 공동의 노력을 하고 있다. A는 법 개정에 필요한 대기 오염 원인 및 해결 방안 등에 대한 정보를 B에 제공하기도 한다. B는 다가올 선거에서 관련 내용을 공약으로 제시하고 대기 환경 전문가도 영입해 공천할 예정이다. 반면 대기 오염 규제로 매출 감소가 예상되는 기업들로 조직된 C는 A와 B가 추진하고 있는 법안이 산업 발전을 저해할 것이라며 반대 여론 형성을 위한 방안을 모색하고 있다.

- ① A는 자신의 활동에 대해 정치적 책임을 진다.
- ② B는 국민의 대표를 배출하는 정치 충원 기능을 수행한다.
- ③ C는 사익의 실현보다 공익의 실현을 중시한다.
- ④ A와 달리 B와 C는 정치 사회화 기능을 수행한다.
- ⑤ C와 달리 A와 B는 정권 획득을 목표로 한다.

7. 다음 자료에 대한 분석 및 추론으로 옳은 것은? [3점]

갑국과 을국은 전형적인 정부 형태를 채택하고 있다. 갑국의 행정부 수반은 국민들의 직접 선거로 선출되는 반면, 을국의 행정부 수반은 의회에서 선출된다. 표는 (가)와 (나) 시기별 갑국과 을국의 정치 상황을 '행정부 수반 소속 정당이 의회에서 과반 의석을 차지하고 있는가?'를 기준으로 구분한 것이다.

국가 \ 시기	(가)	(나)
갑국	예	아니오
을국	아니오	예

- ① 갑국과 달리 을국의 행정부 수반은 의회에 법률안을 제출할 수 있는 권한이 없다.
- ② 을국과 달리 갑국의 행정부 수반은 국가 원수를 겸직하지 않는다.
- ③ 갑국의 경우, 행정부 수반의 법률안 거부권 행사 가능성은 (나)보다 (가)에서 높을 것이다.
- ④ 을국의 경우, 행정부 수반의 의회 해산권 행사 가능성은 (가)보다 (나)에서 높을 것이다.
- ⑤ 을국의 경우, 의회의 내각 불신임권 행사 가능성은 (나)보다 (가)에서 높을 것이다.

8. 기본권 A에 대한 설명으로 옳은 것은?

헌법 재판소는 집행 유예 기간 중인 자의 A을/를 제한하고 있는 ○○법의 해당 부분은 헌법 제37조 제2항을 위반하여 청구인들의 A을/를 침해하였을 뿐만 아니라 평등 원칙도 위반한 것이라고 결정하였다. 헌법 재판소는 그 이유에서 형사 책임과 주권의 행사는 다른 차원의 문제로서 범죄자가 저지른 범죄의 경중을 전혀 고려하지 않고 공동체의 운용을 주도하는 국가 조직의 구성에 참여하는 것을 전면적·확립적으로 제한하는 것은 헌법에 위반된다고 하였다.

- ① 국가의 정치 과정에 참여할 수 있는 능동적 권리이다.
- ② 민주주의의 이념 중 하나로서 다른 기본권 보장의 전제 조건이 된다.
- ③ 개인의 자유에 대한 국가 권력의 침해를 배제하는 방어적 권리이다.
- ④ 국민의 권리임과 동시에 국가의 존속과 유지를 위한 헌법상 의무이기도 하다.
- ⑤ 국민이 국가에 대하여 적극적으로 특정한 행위를 요구할 수 있는 수단적 권리이다.

9. 다음 자료에 대한 설명으로 옳은 것은? [3점]

우리나라 헌법의 기본 원리	관련 헌법 조문 예시	기본 원리의 실현 방안
(가)	모든 국민은 거주·이전의 자유를 가진다.	A
(나)	모든 국민은 인간다운 생활을 할 권리를 가진다.	B

- ① (가)는 국민의 기본적 생활을 국가가 보장해 주는 원리이다.
- ② (나)는 자유방임적 시장 경제 질서를 유지하는 것이 국가의 주된 역할임을 강조한다.
- ③ (가)는 (나)와 달리 법률 제정과 정책 결정의 방향을 제시한다.
- ④ A에는 '국가가 저소득층을 비롯한 주거 약자에게 안정적인 주거 환경을 우선적으로 보장하는 제도'가 들어갈 수 있다.
- ⑤ B에는 '국가가 치매를 비롯한 각종 질병으로 일상생활에 어려움을 겪고 있는 노인을 지원하는 제도'가 들어갈 수 있다.

10. 다음 사례에 대한 옳은 법적 판단을 <보기>에서 고른 것은? [3점]

갑은 2015년 ○○은행으로부터 1억 원을 대출받으면서 자신의 A주택에 저당권을 설정하였다. 그 후 갑은 임대차 기간을 정하지 않고 보증금 2억 원에 A주택을 임대하는 계약을 을과 체결하였다. 을은 2016년 12월 5일에 이사와 전입신고를 마치고, 같은 달 26일에 확정 일자를 받았다. 갑이 ○○은행의 대출금을 갚지 않자, ○○은행의 신청에 의해 2017년 11월 16일에 법원이 A주택에 대한 가압류 결정을 내렸다.

— < 보기 > —

- ㄱ. 을은 2016년 12월 26일에 주택 임대차 보호법상의 대항력을 취득한다.
- ㄴ. 을은 임대차 기간이 2년임을 주장할 수 있다.
- ㄷ. A주택에 대한 가압류 사실은 A주택 등기부의 기재 사항이다.
- ㄹ. A주택이 경매되는 경우, 을은 ○○은행보다 우선하여 보증금을 변제받을 수 있다.

- ① ㄱ, ㄴ    ② ㄱ, ㄷ    ③ ㄴ, ㄷ    ④ ㄴ, ㄹ    ⑤ ㄷ, ㄹ

11. 다음 사례에 대한 옳은 법적 판단을 <보기>에서 고른 것은?

갑(15세)이 부모로부터 학습용으로 받은 노트북을 부모의 동의 없이 단독으로 중고 판매업자 을(30세)에게 팔기로 약속하였다.

```

    graph TD
      Q1[계약 당시 갑은 의사 능력이 있었는가?] -- 아니요 --> A((A))
      Q1 -- 예 --> Q2[갑의 제한 능력을 이유로 계약을 취소할 수 있는가?]
      Q2 -- 아니요 --> B((B))
      Q2 -- 예 --> C((C))
    
```

— < 보기 > —

- ㄱ. A의 경우에 갑의 부모가 갑의 행위를 동의했다라도 계약의 효력은 없다.
- ㄴ. 계약 당시 의사 능력을 가진 갑이 문서로 을과 계약을 하였다면 B의 경우에 해당한다.
- ㄷ. C의 경우에 을은 갑에게 계약의 취소 여부에 대한 응답을 요구할 수 없다.
- ㄹ. C의 경우에 갑의 부모가 계약을 취소하면 을은 손해 배상을 청구할 수 있다.

- ① ㄱ, ㄴ    ② ㄱ, ㄷ    ③ ㄴ, ㄷ    ④ ㄴ, ㄹ    ⑤ ㄷ, ㄹ



12. 다음 사례에 대한 옳은 법적 판단만을 <보기>에서 있는 대로 고른 것은? [3점]

갑은 자신의 X건물을 2017년 10월 27일부터 임대하는 계약을 을과 체결하였다. 그리고 갑은 임차인 을과 약속한 외벽 도색을 위해 도색 전문 업체 사장 병과 2017년 10월 23일까지 도색을 완료하기로 하는 계약을 체결하였다. 도색 작업 중 병의 직원 정은의 부주의로 X건물의 창문이 깨지면서 떨어진 유리 파편에 행인 A가 부상당하였다. 이로 인해 작업이 지연되면서 을은 계약일보다 늦게 입주하였다.

— <보기> —

- ㄱ. 병은 을에게 채무 불이행으로 인한 손해 배상 책임을 지지 않는다.
ㄴ. 병은 정은의 선임 및 그 사무 감독에 상당한 주의를 다하였음을 증명하면 A에게 특수 불법 행위 책임을 지지 않는다.
ㄷ. 병이 A에게 특수 불법 행위 책임을 지는 경우, 정은은 A에게 일반 불법 행위 책임을 지지 않는다.
ㄹ. 정은은 갑에게 일반 불법 행위 책임을 지지 않는다.

- ① ㄱ, ㄴ                    ② ㄱ, ㄹ                    ③ ㄷ, ㄹ
④ ㄱ, ㄴ, ㄷ                ⑤ ㄴ, ㄷ, ㄹ

13. 다음 사례에 대한 옳은 법적 판단을 <보기>에서 고른 것은?

갑은 아내와 사별 후 을과 재혼하였다. 갑과 을은 아이가 없어서 병의 아들 A(5세)를 합법적인 절차에 의해 친양자가 아닌 양자로 입양하였다. 이듬해 갑의 아들이라 주장하는 B가 재판을 통해 인지되었다. 2년 후 갑이 지병으로 사망하였는데, 사망 당시 갑은 채무 없이 7억 원의 재산을 남겼고, '모든 재산을 A에게 준다.' 라는 취지의 유언장이 발견되었다.

— <보기> —

- ㄱ. 입양된 A와 병의 친자 관계는 종료된다.
ㄴ. 갑의 유언이 유효한 경우, B는 A에게 유류분의 반환을 청구할 수 있다.
ㄷ. 갑의 유언이 무효이더라도 A는 법정 상속권을 가진다.
ㄹ. 갑의 유언이 무효인 경우, 을은 4억 2천만 원을 상속받는다.

- ① ㄱ, ㄴ                    ② ㄱ, ㄷ                    ③ ㄴ, ㄷ                    ④ ㄴ, ㄹ                    ⑤ ㄷ, ㄹ

14. 다음 자료에 대한 설명으로 옳은 것은? (단, A와 B는 각각 국가, 초국가적 행위체 중 하나이다.) [3점]

전통적으로 국제 사회는 구성원에 대한 독점적 강제력을 가진 A에 의해 주도되었으나, 오늘날에는 국제 사회의 상호 의존성이 심화됨에 따라 국경을 넘어 활동하는 B가 등장하여 활동 영역을 넓혀 가고 있다. 국제 사회에서는 이와 같은 다양한 행위 주체들이 서로 갈등하기도 하고 협력하기도 한다. 이러한 국제 사회를 바라보는 관점 (가)은/는 국제 사회에서 힘의 논리가 지배적이기 때문에 협력이 어렵다고 보는 반면, (나)은/는 국제 사회에서 이해관계의 조화가 가능하며 협력을 통해 많은 문제를 해결할 수 있다고 본다.

- ① A는 국제 연합 총회에서 차등적 투표권을 가진다.
② B는 국제 사회에서 주권을 가진 독립적 행위 주체이다.
③ (가)는 A 사이에 힘의 균형이 이루어져야 평화가 유지된다고 본다.
④ (나)는 국제 사회에서 A의 이익 추구에 따른 갈등이 반복되고 있으며 B의 영향력은 쇠퇴하고 있다고 본다.
⑤ (가), (나) 모두 A와 B를 강제할 수 있는 중앙 정부가 국제 사회에 존재한다고 본다.

15. 다음 자료에 대한 법적 판단으로 옳은 것은? [3점]

근로 계약서
갑(사업자)과 을(근로자, 20세 남자)은 다음과 같이 근로 계약을 체결한다.
1. 계약 기간: 2017년 8월 30일부터 2017년 9월 24일까지
2. 근로 시간: 9시 ~ 18시(휴게 시간: 12시 ~ 13시)
3. 근무일: 매주 수요일부터 일요일까지(유급 휴일: 매주 월요일)
4. 임 금: 시간당 8,000원(연장 근로 시 임금의 50%를 연장 근로 수당으로 지급)
5. 업무 내용: ○○백화점의 주차 안내

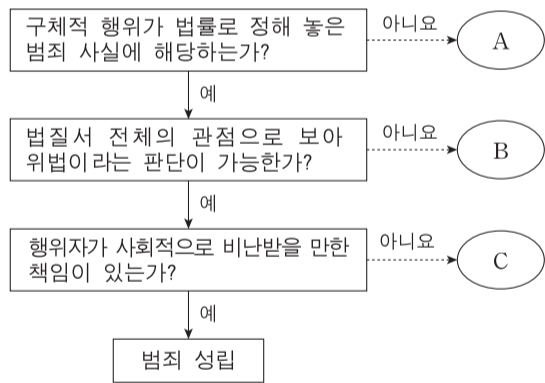
\* 근로 기준법상 연장 근로 시간은 1주간 12시간 이내이며, 이에 대한 예외 규정은 고려하지 않음.

- ① 을이 근무일에 하루 9시간 일했다면 하루 임금으로 72,000원을 받아야 한다.
② 근로 계약서의 근로 시간이 1일 8시간을 초과하였기에 해당 부분은 효력이 없다.
③ 갑이 을에게 매 근무일 21시까지 근로를 시키는 것은 서로 합의가 있어도 위법하다.
④ 을이 체결한 근로 계약서의 근로 기준법 준수 여부에 대해 근로 감독관은 감독 권한이 없다.
⑤ 을이 매주 수요일부터 일요일까지 개근하더라도 유급 휴일에 대한 임금을 추가로 받을 수 없다.

16. 다음 자료에 대한 옳은 법적 판단을 <보기>에서 고른 것은?

자료는 범죄가 성립되는 요건과 이를 적용한 형사 재판의 사례를 제시한 것이다.

<자료 1> 범죄의 성립 요건



<자료 2> 형사 재판 사례

Table with 2 columns: 구분 (Case 1, Case 2) and 법원의 판단 (Court's Judgment). Case 1: Victim G's act is... (summary)... against the law, current unjust harm prevention for sufficient reasons. Case 2: Victim E committed crime while in mental disorder... (summary)... judgment capacity was impaired at the time, so no punishment.

— <보기> —

- ㄱ. 반사회적 행위는 A에 해당되어도 형사 처벌할 수 있다.
ㄴ. 12세인 형사 미성년자의 행위가 C에 해당하더라도 소년법상 보호 처분을 받을 수 있다.
ㄷ. 법원은 갑의 행위를 정당 행위로 보아 B로 판단하였다.
ㄹ. 법원은 을의 행위가 C에 해당한다고 판단하더라도 재범의 위험성이 있는 경우, 을에게 치료 감호 처분을 내릴 수 있다.

- ① ㄱ, ㄴ                    ② ㄱ, ㄷ                    ③ ㄴ, ㄷ                    ④ ㄴ, ㄹ                    ⑤ ㄷ, ㄹ

17. 다음 사례에 대한 옳은 법적 판단을 <보기>에서 고른 것은? [3점]

- 갑은 '개업 기념 연회비 50% 할인' 광고를 보고 ○○헬스 클럽에 등록하려 하였으나, 직원으로부터 개인 트레이닝 10회를 의무적으로 받아야 할인가가 적용된다는 설명을 들었다. 이에 갑은 연회비 100만 원과 개인 트레이닝 비용 50만 원을 3개월 할부로 결제하였다. 하지만 이튿날 충동 계약임을 깨닫고 후회하고 있다.
- 을은 안전성이 뛰어나다는 광고를 보고 △△기업의 신형 전동 킥보드를 구매하였다. 이튿날 을은 공원에서 전동 킥보드를 타다가 제동 장치가 작동하지 않아 벽에 부딪쳐 크게 다쳤다. 이에 을은 △△기업에 보상을 요구하였지만 거절당했다.

— <보기> —

- ㄱ. 갑은 계약 체결 의사를 철회할 수 있다.
- ㄴ. 을은 △△기업의 고의 또는 과실을 증명하지 않아도 손해 배상을 받을 수 있다.
- ㄷ. 을은 한국 소비자의 피해 구제 절차가 진행 중인 경우에는 민사 소송을 제기할 수 없다.
- ㄹ. 갑은 소비자의 선택할 권리, 을은 소비자의 안전하고 쾌적한 환경에서 소비할 권리를 침해당했다.

- ① ㄱ, ㄴ    ② ㄱ, ㄷ    ③ ㄴ, ㄷ    ④ ㄴ, ㄹ    ⑤ ㄷ, ㄹ

18. 국제법의 법원(法源) A, B에 대한 설명으로 옳은 것은? (단, A와 B는 각각 국제 관습법, 조약 중 하나이다.)

외교 관계에 관한 국제법은 매우 오랜 역사를 가지고 있다. 대표적인 예로 '외교관은 어떠한 형태의 체포 또는 구금을 당하지 아니하며 접수국은 외교관의 신체, 자유, 품위가 침해되지 않도록 적절한 조치를 취해야 한다.'라는 오래된 관행이 유럽에서는 이미 16세기 말 이전에 A가 된 것을 들 수 있다. 이후 상주 외교 사절의 파견이 일반화됨에 따라 이 관행은 국가들 간에 채택된 「외교 관계에 관한 비엔나 협약 (1961년)」의 내용으로 포함되면서 또 다른 국제법의 법원인 B가 되었다.

- ① A는 원칙적으로 이를 승인한 국가에만 법적 구속력이 발생한다.
- ② B는 국제 사회에서 포괄적 구속력이 있다.
- ③ A는 B와 달리 강제적으로 집행할 국제기구가 있다는 특징이 있다.
- ④ B는 A와 달리 당사국 간 명시적인 합의 절차를 거쳐야만 성립된다.
- ⑤ A, B 모두 우리나라에서는 국회의 동의가 있어야만 법적 효력을 갖는다.

19. (가)에 들어갈 법적 조언으로 옳은 것은?

Q: 저의 남편은 퇴근 후 동료들과 회식 중, 사소한 시비로 동료를 때려 전치 6주의 부상을 입힌 후 구속되어 현재 조사를 받고 있습니다. 앞으로 저의 남편에 대한 절차는 어떻게 진행되며 무엇을 준비해야 하는 건가요?

A: \_\_\_\_\_ (가)

- ① 영장 실질 심사를 통해 석방될 수 있습니다.
- ② 진행 중인 수사 절차가 종결되면 석방됩니다.
- ③ 선고 유예를 받더라도 형사 보상을 받을 수 있습니다.
- ④ 형사 재판에서 배상 명령이 내려진 경우, 민사상 강제 집행을 받을 수 있습니다.
- ⑤ 피해자와 그 가족의 생활을 위한 범죄 피해자 구조금을 마련해 놓고 있어야 합니다.

20. 다음 자료에 대한 분석 및 추론으로 옳은 것은? [3점]

○○국 의회 의원 정수는 4명으로, 4개 선거구(A1~A4)에서 단순 다수제로 의원을 선출하고 있다. 현재의 의원 정수와 대표 결정 방식은 유지하되, 인구 이동을 고려하여 선거구를 재획정하기로 하고 다음과 같은 개편안을 논의하고 있다.

- 인구가 증가한 B지역(B1~B4)을 분리하여 이 지역을 2개의 선거구로 획정함.
- 각각의 A지역에서 B지역을 제외한 나머지 지역을 a지역(a1~a4)으로 함. 예를 들어, A1에서 B1을 제외한 나머지 지역이 a1임. 그리고 a지역도 2개의 선거구로 획정함.
- 경계선이 접한 선거구 혹은 지역끼리만 통합하고, 대각선 방향으로의 통합은 고려하지 않음.
- 하나의 선거구 유권자 수가 다른 선거구 유권자 수의 2배 이상이 되지 않도록 함.

<자료 1>은 ○○국 선거구 및 지역별 유권자 수를, <자료 2>는 최근 의회 의원 선거에서의 각 정당 후보 득표율을 나타낸다.

<자료 1>			<자료 2>				
(단위: 명)			(단위: %)				
선거구	유권자 수	지역	정당	A1	A2	A3	A4
A1 (300)	B1 (200) B2 (200)	A2 (300)	갑	60	30	20	10
A3 (200)			B3 (100) B4 (100)	A4 (200)	을	30	50
			병	10	20	20	40

- \* <자료 1>의 ( ) 안 수치는 유권자 수이며, A1~A4 선거구 유권자 수는 각각 B1~B4 지역 유권자 수를 포함한 수치임.
- \*\* B1~B4 지역과 a1~a4 지역의 정당 후보 득표율은 현행 제도에서 각각 속해 있던 A1~A4 선거구 정당 후보 득표율과 동일함.
- \*\*\* 투표율은 100%이며, 무효표는 없음.
- \*\*\*\* 개편안의 경우, 위 <자료 1>과 <자료 2>를 근거로 차기 선거 결과를 판단함.

- ① 최근 의회 의원 선거 결과, 갑 정당과 을 정당은 과소 대표되었다.
- ② 개편안의 경우, a지역에 비해 B지역 유권자 의사가 과대 대표된다.
- ③ 갑 정당의 경우, 현행 선거구 획정 방식보다 a1과 a3을 통합하는 개편안이 유리하다.
- ④ 을 정당의 경우, 개편안에서 a1과 a2의 통합보다는 a1과 a3을 통합하는 선거구 획정 방식이 유리하다.
- ⑤ 병 정당의 경우, 현행 선거구 획정 방식보다 개편안이 유리하다.

\* 확인 사항

- 답안지의 해당란에 필요한 내용을 정확히 기입(표기)했는지 확인하십시오.

제 4 교시

# 사회탐구 영역(법과 정치)

성명  수험 번호

1. 정치를 바라보는 갑, 을의 관점에 대한 설명으로 옳은 것은?

갑: 정부가 공공 정책을 수립하는 것은 물론 다양한 사회 집단이 의사 결정을 하는 것도 정치입니다. 사회 집단 어디에서나 희소한 자원을 둘러싼 갈등은 있기 때문입니다.  
 을: 정치를 그렇게 이해한다면 정치가 다른 형태의 사회 행위와 구별되는 특징이 무엇인지 파악하기 어렵습니다. 따라서 정치는 국가를 통치하는 데 행사되는 리더십과 그 영향력에 한정하여 정의되어야 합니다.

- ① 갑은 정치가 국가와 사회 집단에서 공통적으로 나타나는 현상이라고 본다.
- ② 을은 학교에서 체험 학습 장소를 정하는 것을 정치라고 본다.
- ③ 갑과 달리 을의 관점은 국가 형성 이전의 정치 현상을 설명하기에 적합하다.
- ④ 을에 비해 갑의 관점은 다원화된 현대 사회의 정치 현상을 설명하기 어렵다.
- ⑤ 갑, 을은 모두 시민 단체 회원들이 총회에서 대표를 선출하는 것을 정치라고 본다.

2. 법치주의의 유형 (가), (나)에 대한 옳은 설명을 <보기>에서 고른 것은? [3점]

(가) 의회가 합법적인 절차를 거쳐 법을 제정하였다면 법의 목적이나 내용과 관계없이 그 법에 근거한 국가 권력 행사는 정당화된다.  
 (나) 국가 권력 행사의 정당성을 확보하기 위해서는 법 제정의 형식과 절차를 갖추어야 할 뿐만 아니라 인간의 존엄성과 실질적 정의를 내용으로 하는 법의 지배가 이루어져야 한다.

<보 기>

ㄱ. (가)는 (나)와 달리 국민의 기본권 보장을 중시한다.  
 ㄴ. (나)는 (가)와 달리 독재를 정당화하는 근거로 악용되기도 한다.  
 ㄷ. 현대 사회로 오면서 법치주의의 의미는 (가)에서 (나)로 확장되고 있다.  
 ㄹ. (가), (나)는 모두 의회가 제정한 법에 근거하여 국가 권력이 행사되어야 한다고 본다.

- ① ㄱ, ㄴ    ② ㄱ, ㄷ    ③ ㄴ, ㄷ    ④ ㄴ, ㄹ    ⑤ ㄷ, ㄹ

3. (가)~(다)에 들어갈 내용으로 옳지 않은 것은?

학습 주제: 사회법의 이해

1. 등장 배경:  (가) 등

2. 목적과 특징:  (나) 등

3. 종류

- 노동법 - 근로 기준법, 노동조합 및 노동관계 조정법 등
- 경제법 - 전자 상거래 등에서의 소비자 보호에 관한 법률 등
- 사회 보장법 -  (다) 등

- ① (가) - 독과점 기업의 불공정 거래 행위 증가
- ② (가) - 자본주의 발전에 따른 경제적 불평등 심화
- ③ (나) - 사유 재산에 대한 개인의 지배권 강화
- ④ (나) - 사법(私法) 영역에 대한 공법(公法)적 규제
- ⑤ (다) - 국민 기초 생활 보장법

4. 표는 시대별 민주 정치의 특징을 나타낸 것이다. 이에 대한 설명으로 옳은 것은? (단, (가)~(다)는 각각 고대 아테네 민주 정치, 근대 민주 정치, 현대 민주 정치 중 하나이다.) [3점]

구분	특 징
(가)	자유와 평등의 이념이 확산되고 시민의 범위가 확대됨에 따라 선거를 통해 대의 기구인 A를 구성하였다. 그러나 성별, 재산 등에 따른 참정권 제한은 사라지지 않았다.
(나)	시민들은 최고 의결 기구인 B에 모여 공동체의 문제에 대해 토론하고 법률 제정, 과세, 외교 등 국가의 중요 사안을 직접 결정하였다.
(다)	선거로 뽑힌 대표자가 정치를 담당하는 형태는 시민의 의사를 정확히 반영하기 어렵다는 점을 보완하기 위해 직접 민주주의의 요소인 C를 도입하였다.

- ① (가)에서는 모든 성인에게 공직 참여의 기회가 제공되었다.
- ② (나)는 (다)와 달리 입헌주의를 통해 기본권을 보장하였다.
- ③ A의 구성원을 선출하는 과정에는 보통 선거의 원칙이 적용되었다.
- ④ B에 참여하는 시민들은 추첨을 통해 선출되었다.
- ⑤ 국가의 중요 정책을 결정하기 위해 실시하는 국민 투표는 C에 해당한다.

5. 다음 자료에 대한 분석 및 추론으로 옳은 것은? [3점]

갑국은 전형적인 정부 형태 중 하나를 채택하고 있다. 표는 각 시기별 갑국 의회의 정당별 의석률과 행정부 수반의 소속 정당을 나타낸다. 단, t+1 시기 의회 의원 선거는 국민이 행정부 수반을 선출하는 선거와 동시에 실시되었다.

시기	정당별 의석률(%)				행정부 수반 소속 정당
	A당	B당	C당	D당	
t	49	12	32	7	C당
t+1	58	23	10	9	A당
t+2	45	28	16	11	A당

\* 갑국의 정부 형태 변화는 없음.

- ① t 시기에 행정부의 강력한 정책 추진이 용이할 것이다.
- ② t 시기에 비해 t+1 시기에 연립 내각이 등장할 가능성이 높다.
- ③ t 시기에 비해 t+1 시기에 행정부 수반의 법률안 거부권 행사 가능성이 높다.
- ④ t+1 시기에 비해 t+2 시기에 의회가 내각을 불신임할 가능성이 높다.
- ⑤ t+1 시기에 비해 t+2 시기에 행정부와 의회 간 갈등이 발생할 가능성이 높다.



6. 다음 자료에 대한 옳은 설명만을 <보기>에서 있는 대로 고른 것은?

이달의 ○○당 활동 계획						
일	월	화	수	목	금	토
						1
3	4	5	6	7	8	9
10	11	12	13	14	15	16
17	18	19	20	21	22	23
24	25	26	27	28	29	30

㉠ 청년 유권자 대상 정치 워크숍 개최

㉡ 주요 현안에 대한 당정 협의회 참석

㉢ 보궐 선거 후보 공천을 위한 당원 투표 실시

㉣ 보궐 선거 후보 확정

<보 기>

㉠. ㉠은 정당의 정치 사회화 기능을 보여준다.  
 ㉡. ㉡을 통해 정당은 의회와 정부를 매개하는 역할을 한다.  
 ㉢. ㉢은 정당의 하향식 의사 결정 구조를 강화한다.  
 ㉣. ㉣은 정당의 정치 엘리트 충원 기능을 보여준다.

- ① ㉠, ㉡      ② ㉠, ㉢      ③ ㉡, ㉢  
 ④ ㉠, ㉢, ㉣      ⑤ ㉡, ㉢, ㉣

7. 우리나라 헌법 기관 A~D에 대한 설명으로 옳지 않은 것은? [3점]

A는 법무부 장관이 사임하자 그 후임으로 갑을 후보자로 지명하고 법률에 근거하여 B에 인사 청문을 요청하였으나, 여야 대립으로 인사 청문 절차가 지체되고 있다. 이 과정에서 정부는 법무부 소관 법률안을 C의 심의를 거쳐 C의 부의장인 D와 법무부 차관의 서명을 받아 B에 제출하였다. 그런데 B는 법무부 차관이 C의 구성원이 아니기 때문에 관련 내용을 규정한 헌법 조항에 위반된다고 주장하고 있다.

- ① A는 B의 동의를 얻어 헌법 재판소의 장(長)을 임명한다.  
 ② A는 D의 제청으로 국무 위원을 임명한다.  
 ③ B는 A에게 국무 위원의 해임을 건의할 수 있다.  
 ④ C는 위헌 법률 심판 제청권을 가진다.  
 ⑤ D는 우리나라 정부 형태의 의원 내각제적 요소이다.

8. 다음 대화에 나타난 정치 참여 집단 A~C에 대한 설명으로 옳은 것은? (단, A~C는 각각 정당, 이익 집단, 시민 단체 중 하나에 해당 하는 집단이다.)

갑: 이번에 정부가 추진하는 정책이 시행되면 우리 A의 회원인 농·축산업자들이 큰 피해를 보게 됩니다. 따라서 우리는 회원들의 이익을 침해하는 정부 정책에 반대합니다.  
 을: 이 정책은 우리나라의 환경에도 큰 피해를 줄 가능성이 있습니다. 환경 보호라는 공익적 가치를 위해 설립하여 활동해 온 우리 B로서도 이 정책에 반대할 수밖에 없습니다.  
 병: 우리 C는 오늘 간담회에서 제시된 의견들을 충분히 반영 하여 다음 선거에서 공약으로 제시하고 유권자의 선택을 받겠습니다.

- ① A는 B와 달리 대의제의 한계를 보완한다.  
 ② B는 C와 달리 정치 과정에서 산출 기능을 담당한다.  
 ③ A, B는 모두 시민의 다양한 요구를 표출하는 역할을 한다.  
 ④ B, C는 모두 자신들의 활동에 대해 정치적 책임을 진다.  
 ⑤ A~C는 모두 정치 권력 획득을 목표로 한다.

9. 기본권 A, B에 대한 설명으로 옳은 것은?

헌법상 재산권 보장은 개인이 재산을 가지고 있다는 것을 전제로 하여 이를 보호하는 것이므로, 재산이 없는 사람에게는 의미가 없을 수 있다. 따라서 헌법은 인간의 생존에 필요한 최소한의 물질적인 생활을 보장받을 수 있도록 '인간다운 생활을 할 권리'를 규정하여 실질적 평등을 실현하고자 한다. '인간다운 생활을 할 권리'는 A의 이념적 기초이자 일반 조항으로서, 국가로부터의 자유를 의미하는 B와 함께 인간의 존엄과 가치를 실현하기 위한 불가결한 요소이다.

- ① A는 국가의 부당한 침해를 배제하는 방어적 성격의 권리이다.  
 ② B는 헌법에 열거되지 않아도 보장될 수 있는 포괄적 권리이다.  
 ③ A는 B와 달리 본질적 기본권으로서 다른 기본권을 실현하기 위한 전제 조건이 된다.  
 ④ B는 A와 달리 인간의 존엄을 실현하는 데 필요한 조건을 국가에 요구할 수 있는 권리로 국가의 존재를 전제로 인정된다.  
 ⑤ A, B는 모두 현대 복지 국가 헌법에서 보장되기 시작한 권리이다.

10. 다음 사례에 대한 옳은 법적 판단을 <보기>에서 고른 것은?

갑(남)과 을(여)은 법률상 부부이고 그 사이에는 혼인 중의 출생자 A가 있다. 한편 병(남)과 정(여) 역시 법률상 부부이고 그 사이에는 혼인 중의 출생자 B가 있다. 그런데 어느 날 교통 사고로 을이 사망하였고, 병과 정은 이혼하였다. 이후 갑과 정이 결혼하여 혼인 신고를 하였고, 병은 홀어머니를 모시고 B와 함께 살고 있다. 갑과 정은 혼인 중 C가 태어났고, 정은 함께 살고 있던 A를 합법적으로 입양하였다.

<보 기>

㉠. 을의 사망 당시 A가 16세였다면, A는 단독으로 유효하게 상속을 포기할 수 있다.  
 ㉡. 갑이 자신의 전 재산을 C에게 준다는 내용의 유효한 유언을 하고 사망하였다면, A는 C를 상대로 유류분의 반환을 청구 할 수 있다.  
 ㉢. 병이 2억 5천만 원의 재산을 남긴 채 유언 없이 사망하였다면, B는 1억 원을 상속받는다.  
 ㉣. 정이 10억 원의 재산과 1억 원의 빚을 남긴 채 유언 없이 사망하였다면, B는 2억 원을 상속받는다.

- ① ㉠, ㉡      ② ㉠, ㉢      ③ ㉡, ㉣      ④ ㉡, ㉣      ⑤ ㉢, ㉣

11. 밑줄 친 ㉠~㉣에 대한 법적 판단으로 옳은 것은? [3점]

갑(30세)은 을을 폭행한 뒤 을의 주머니에서 10만 원을 꺼내 도주하였다. 다음은 갑에 대한 일반적인 형사 절차를 간략하게 정리한 것이다.

㉠ 수사 → ㉡ 기소 → ㉢ 공판 → ㉣ 집행

- ① 을이 수사 기관에 갑을 고발해야만 ㉠이 개시된다.  
 ② ㉠ 단계에서 갑이 구속되었다면 ㉡ 이후에 구속 적부 심사를 청구하여 석방될 수 있다.  
 ③ ㉡은 검사의 청구에 의해 법원이 결정한다.  
 ④ ㉢에서 형의 선고와 동시에 집행이 유예되었다면 일정 기간이 지난 후 면소된 것으로 간주된다.  
 ⑤ 검사는 ㉠~㉣의 형사 절차에 모두 관여한다.

12. 밑줄 친 ㉠~㉣에 대한 옳은 법적 판단만을 <보기>에서 있는 대로 고른 것은?

갑(17세)은 을이 운영하는 피자 가게에서 배달 아르바이트를 하였다. 어느 날 병은 생일 파티에 쓸 피자 20판을 을의 가게에 주문하였고, 갑은 이를 배달하기 위하여 오토바이를 몰다가 운전 부주의로 횡단보도에서 ㉠ 정을 치어 다치게 하였다. 이 사고로 ㉡ 배달이 늦어져 병은 피자를 파티에 쓸 수 없었다. 한편 갑은 을이 자신을 나무라자 기분이 상하여 ㉢ 인터넷 게시판에 을에 대한 악담과 허위 사실을 올려 을의 명예를 훼손하였다.

<보 기>  
㉠. ㉠의 경우, 갑에게 책임 능력이 인정된다면 정은 특수 불법 행위 책임을 근거로 갑의 부모에게 손해 배상을 청구할 수 없다.  
㉡. ㉠의 경우, 갑의 정에 대한 일반 불법 행위가 성립한다면 정은 특수 불법 행위 책임을 근거로 을에게 손해 배상을 청구할 수 있다.  
㉢. ㉢의 경우, 병은 채무 불이행을 근거로 갑에게 손해 배상을 청구할 수 있다.  
㉣. ㉣의 경우, 갑의 불법 행위가 성립한다 하더라도 을은 금전을 통한 손해 배상 이외의 다른 처분을 청구할 수 없다.

- ① ㉠, ㉡      ② ㉠, ㉢      ③ ㉢, ㉣  
④ ㉠, ㉡, ㉣      ⑤ ㉡, ㉢, ㉣

13. 다음 자료의 (가)에 들어갈 옳은 진술만을 <보기>에서 있는 대로 고른 것은?

교사: 현재 갑국 의회의 본회의에는 ○○법 개정 법률안이 상정되어 있습니다. 표는 갑국 의회 재적 의원의 정당별 의석률과 개정 법률안에 대한 입장을 나타낸 것입니다. 이 사례에 우리나라 정부 형태와 입법 절차를 적용했을 때 추론할 수 있는 상황에 대해 발표해 보세요.

구분	A당	B당	C당	D당	E당
의석률(%)	4	20	46	26	4
개정 법률안에 대한 입장	찬성	반대	찬성	반대	찬성

\* 갑국 의회 재적 의원은 250명이며, 법률안 의결 과정에서 재적 의원 수의 변화는 없다고 가정함.  
\*\* 각 정당의 입장은 변경되지 않으며, 본회의 표결 시 각 의원들은 소속 정당의 입장대로만 투표하고, 기권과 무효표는 없음.

학생 : \_\_\_\_\_ (가)

<보 기>  
㉠. A당 소속 의원들만으로는 개정 법률안을 발의할 수 없었을 거예요.  
㉡. B당, D당, E당 소속 의원들을 제외한 나머지 의원들 모두 본회의에 출석하면 개정 법률안이 가결될 수 있어요.  
㉢. A당, E당 소속 의원들을 제외한 나머지 의원들 모두 본회의에 출석하여 투표하면 개정 법률안이 가결될 수 없어요.  
㉣. 본회의에서 가결된 개정 법률안에 대해 대통령의 재의 요구가 있을 경우, B당 소속 의원들을 제외한 나머지 의원들 모두 본회의에 출석하여 투표하면 개정 법률안은 법률로서 확정돼요.

- ① ㉠, ㉡      ② ㉠, ㉢      ③ ㉢, ㉣  
④ ㉠, ㉡, ㉣      ⑤ ㉡, ㉢, ㉣

14. 형사 제재의 유형 (가), (나)에 대한 설명으로 옳지 않은 것은? (단, (가), (나)는 각각 형벌, 보안 처분 중 하나이다.)

구분	의 미
(가)	범죄 행위를 한 자에게 공권력을 행사하여 책임을 전제로 부과하는 처벌
(나)	범죄 행위를 한 자의 재범 위험성을 막기 위하여 행하는 개선 및 교육 처분

- ① (가)의 종류로는 자격 상실과 과료를 들 수 있다.  
② (나)의 종류로는 치료 감호와 보호 관찰을 들 수 있다.  
③ (나)는 범죄 행위를 한 자의 사회 복귀를 촉진하기 위해 부과하는 대안적 제재 수단이다.  
④ (가)는 (나)와 달리 범죄 예방을 목적으로 하지 않는다.  
⑤ (가), (나)는 모두 법률과 적법한 절차에 의하지 않고는 부과될 수 없다.

15. 다음 사례에 대한 법적 판단으로 옳은 것은? [3점]

갑(30세)은 길을 걷다 을(18세)과 병(13세)이 A를 구타하고 있는 현장을 목격하고 이를 말리려 하였다. 갑의 개입에 화가 난 을이 갑자기 흥기를 꺼내 덤벼자, 생명에 위협을 느낀 갑은 이를 제지하는 과정에서 ㉠ 을을 벽으로 밀어 전치 2주의 상해를 입혔다. 화가 난 을이 더욱 심하게 덤벼들자 갑은 일단 자리를 피하려고 하였지만 을은 갑을 끝까지 추격하였다. 막다른 골목에 다다른 갑은 끝까지 따라온 을의 추격을 따돌리기 위한 다른 방법이 없자 ㉡ 옆집 대문을 부수고 그 집 차고에 들어갔다. 출동한 경찰관은 을을 ㉢ 현행범으로 체포하였고, A에 대한 상해 혐의로 현재 을에 대한 1심 형사 재판이 진행 중이다.

- ① 을에게 유죄가 인정되면 을은 형벌과 동시에 소년법상 보호 처분을 받을 수 있다.  
② 병에게는 책임 조각 사유가 존재하기 때문에 소년원 송치 처분의 대상이 될 수 없다.  
③ A는 을을 상대로 민사 소송을 별도로 제기하지 않아도 재판이 진행 중인 법원에 상해로 인한 치료비에 대해 배상 명령을 신청할 수 있다.  
④ ㉢은 법령에 근거한 행위로서 구성 요건에 해당하지 않기 때문에 범죄가 성립하지 않는다.  
⑤ ㉠, ㉡에 대해 범죄가 성립하지 않는다면, 모두 긴급 피난에 해당되어 위법성이 조각되기 때문이다.

16. 그림에 나타난 국제법의 법원(法源) A~C에 대한 설명으로 옳은 것은? (단, A~C는 각각 조약, 국제 관습법, 법의 일반 원칙 중 하나이다.) [3점]



- ① A는 당사국 간의 명시적 수용 절차를 거쳐야만 성립된다.  
② B의 예로는 신의 성실 원칙과 권리 남용 금지의 원칙이 있다.  
③ 우리나라에서 C의 체결·비준 권한은 국회에 있다.  
④ A는 C와 달리 성문화된 형식으로 존재한다.  
⑤ B는 A와 달리 국제 사회에서 포괄적 구속력을 가진다.



17. 다음 사례에 대한 옳은 법적 판단을 <보기>에서 고른 것은? [3점]

갑은 2017년 5월 7일, 을로부터 3천만 원을 빌리고 2018년 5월 6일까지 연 10%의 이자와 함께 변제하기로 을과 합의 하였다. 그러나 갑은 2018년 5월 6일이 지나서도 변제하지 않았다. 을은 갑에게 하루라도 빨리 변제할 것을 촉구하고 만약 변제하지 않으면 법적 조치를 취할 것이라고 통보하였다.

<보 기>

- ㄱ. 2017년 5월 7일 합의하면서 계약서를 작성하지 않았더라도 갑과 을 사이에 계약이 성립한다.
- ㄴ. 을은 갑에게 내용 증명 우편을 통해 변제를 촉구하는 통보를 하여야 민사 소송을 제기할 수 있다.
- ㄷ. 을은 갑에게 빌려준 돈을 변제받기 위하여 민사 소송을 제기 하기 전에 갑의 재산에 대하여 가압류 신청을 할 수 있다.
- ㄹ. 을은 집행력 있는 공증을 미리 받아 두었다더라도 재판 절차를 거쳐야 강제 집행 절차에 들어갈 수 있다.

- ① ㄱ, ㄴ    ② ㄱ, ㄷ    ③ ㄴ, ㄷ    ④ ㄴ, ㄹ    ⑤ ㄷ, ㄹ

18. 다음 자료에 대한 분석 및 추론으로 옳은 것은? [3점]

갑국 의회의 전체 의석수는 6석이며, 현재 6개의 선거구(가~바)에서 단순 다수제를 통해 의회 의원을 선출하고 있다. 갑국은 현재의 의석수는 유지하면서 다음과 같은 선거 제도 개편안을 논의하고 있다.

- <1안> 선거구 모두를 통합하여 전국을 한 개의 선거구로 만들고 정당별 전국 득표율에 따라 전체 의석을 각 정당에 배분한다.
- <2안> 전국을 2개의 선거구(가-나, 라-마-바)로 나누어, 선거구별로 유권자 수에 비례하여 전체 의석을 할당한다. 이후 각 선거구별로 할당받은 의석을 해당 선거구 내 정당별 득표율에 따라 각 정당에 배분한다.
- \* <1안>, <2안> 모두 각 정당의 득표율에 의석수를 곱하여 산출된 수의 정수(整數)만큼 각 정당에 의석을 배분하고, 이후 잔여 의석은 소수점 이하의 수가 큰 순서대로 각 정당에 1석씩 배분한다.

표는 갑국의 최근 의회 의원 선거에서 선거구별로 각 정당의 후보가 획득한 득표율과 유권자 수를 나타낸다.

선거구	정당별 득표율(%)				유권자 수(명)
	A당	B당	C당	D당	
가	43	36	15	6	2,000
나	34	36	21	9	2,000
다	37	30	24	9	2,000
라	26	42	22	10	1,000
마	33	31	28	8	1,000
바	46	29	19	6	1,000
전국	37	34	21	8	9,000

\* 투표율은 100%이며, 무효표는 없음.  
\*\* 개편안의 경우, 위 표를 근거로 차기 선거 결과를 판단함.

- ① 현행 제도에 비해 1안에서 의회 의원의 지역 대표성이 강화 된다.
- ② 현행 제도와 달리 2안에서 선거구 간 표의 증가성 문제가 발생한다.
- ③ 1안과 달리 2안에서 C당은 과대 대표된다.
- ④ 1안보다 2안에서 A당의 의석수가 많다.
- ⑤ 1안보다 2안에서 정당별 전국 득표율과 의석률 간 차이가 작다.

19. 다음 자료에 대한 옳은 법적 판단을 <보기>에서 고른 것은? [3점]

갑은 2017년 3월 6일 을이 소유한 X주택에 대하여 보증금 5천만 원에 임대차 기간을 2년으로 하는 주택 임대차 계약을 체결하였다. 갑은 2017년 4월 1일 X주택으로 이사한 후, 2017년 4월 7일 자로 전입신고를 마치고 같은 날 확정 일자를 받았다. X주택에 대한 경매가 개시된다는 소식을 들은 갑은 X주택의 등기 사항 전부 증명서에서 아래와 같은 내용을 확인하였다.

【을 구】 (소유권 이외의 권리에 관한 사항)

순위 번호	등기 목적	접수	등기 원인	권리자 및 기타 사항
1	저당권 설정	2017년 4월 4일 제○○○○호	---	채권액 금 1억 원 채무자 을 (이하 생략) 저당권자 병 (이하 생략)
2	저당권 설정	2017년 4월 11일 제△△△△호	---	채권액 금 7천만 원 채무자 을 (이하 생략) 저당권자 정 (이하 생략)

<보 기>

- ㄱ. 갑은 임차 보증금을 정에 우선하여 변제받을 권리를 가진다.
- ㄴ. 갑이 주택 임대차 보호법상 소액 임차인이라면, 임차 보증금 중 일정 금액을 병에 우선하여 변제받을 권리를 가진다.
- ㄷ. 갑은 2017년 4월 1일부터 제3자에 대한 대항력을 가진다.
- ㄹ. 정이 병보다 자신의 저당권을 먼저 실행하여 경매가 이루어진 경우, 정은 매각 대금에서 병에 우선하여 채권을 변제 받을 수 있다.

- ① ㄱ, ㄴ    ② ㄱ, ㄷ    ③ ㄴ, ㄷ    ④ ㄴ, ㄹ    ⑤ ㄷ, ㄹ

20. 국제 연합의 주요 기관 (가)~(다)에 대한 설명으로 옳은 것은?

국제 연합을 개혁해야 한다는 논의는 꾸준히 있어 왔다. 특히 국제 평화와 안전 유지에 관한 일차적 책임을 부여받은 (가) 을/를 개혁하기 위해 거부권을 가진 상임 이사국의 권한을 조정하고 규모를 확대하는 것이 논의의 핵심이다. 또한 국제 연합의 주요 사법 기관인 (나) 의 관할권을 확대함으로써 국제 사회의 분쟁을 보다 효과적으로 해결해야 한다는 주장도 있다. 그런데 국제 연합의 개혁을 위해서는 모든 회원국이 참여 하는 최고 의결 기관인 (다) 에서 헌장을 개정해야 한다. 헌장 개정은 회원국 3분의 2 이상의 찬성으로 채택되며, (가) 의 상임 이사국을 포함한 회원국 3분의 2가 자국 헌법상의 절차에 따라 비준한 경우에 효력이 발생한다.

- ① (가)의 상임 이사국은 회원국의 투표로 선출된다.
- ② (나)는 판결에 불복하는 당사국을 직접 제재할 수 있다.
- ③ 국가와 개인은 모두 분쟁 해결을 위해 (나)에 제소할 수 있다.
- ④ (가)와 달리 (다)의 표결 방식은 국제 사회를 바라보는 현실주의적 관점으로 설명될 수 있다.
- ⑤ (가), (다)는 모두 (나)의 재판관을 선출하는 권한을 가진다.

\* 확인 사항  
○ 답안지의 해당란에 필요한 내용을 정확히 기입(표기)했는지 확인 하시오.



제 4 교시

# 사회탐구 영역(법과 정치)

성명	수험 번호
----	-------

1. 정치의 의미에 대한 관점 (가), (나)에 대한 설명으로 옳은 것은?

(가) 정치는 사회를 구성하고 있는 개인이나 집단이 일상생활에서의 다양한 이해관계를 조정하기 위해 상호 작용함으로써 나타나는 현상이다. 이 현상은 희소한 자원을 배분할 때 발생하는 갈등을 해결하는 과정이며, 공공 부문을 포함한 사회생활의 모든 영역에서 나타난다.

(나) 정치는 사회를 구성하고 있는 개인 또는 집단이 반드시 지켜야 할 절차와 규범을 정치권력이라는 힘을 통해 만들어 가는 과정이다. 이 과정은 공식적 정치 조직들이 헌법과 법률을 통해 희소한 자원을 배분하는 방식을 결정하고 적용하는 국가의 활동이다.

- ① (가)는 정치 활동이 통치 엘리트들의 독점적인 의사 결정을 통해서만 이루어진다고 본다.
- ② (나)는 국가 형성 이전의 정치 현상을 설명하는 데 적합하다.
- ③ (가)는 (나)와 달리 국회가 조세의 종목과 세율을 법률로 정하는 것은 정치가 아니라고 본다.
- ④ (나)는 (가)에 비해 공동의 문제를 해결하는 과정에 참여하는 주체가 다양하다고 본다.
- ⑤ (가), (나) 모두 정부가 정책을 수립하고, 국정을 관리하는 활동을 정치라고 본다.

2. 그림에 나타난 갑국과 을국의 정부 형태에 대한 설명으로 옳은 것은? (단, 갑국과 을국의 정부 형태는 각각 전형적인 대통령제와 의원 내각제 중 하나이다.)



- ① 갑국에서는 내각이 의회에 대해 책임을 진다.
- ② 갑국에서는 의회 의원이 각료를 겸직할 수 있다.
- ③ 을국에서는 입법부와 행정부의 권력이 융합되어 있다.
- ④ 을국에서는 행정부 수반이 국가 원수의 지위를 가진다.
- ⑤ 을국과 달리 갑국에서는 행정부가 법률안을 제출할 수 있다.

3. A~C에 대한 옳은 설명을 <보기>에서 고른 것은? (단, A~C는 각각 고대 아테네 민주 정치, 근대 민주 정치, 현대 민주 정치 중 하나이다.) [3점]

A는 직접 민주주의를 기반으로 하였으나, 공동체의 구성원 모두가 국가의 의사 결정에 참여할 수 있는 것은 아니었다. 한편 B는 국가의 의사 결정을 대표에게 맡기는 형태를 취하였으나, 일정한 재산과 교양을 갖춘 시민만이 선거에 참여할 수 있었다. C에서는 이러한 B의 한계를 극복하여 보통 선거의 원칙을 확립하였다.

<보 기>

- ㄱ. A에서는 모든 성인 남녀에게 참정권을 부여하였다.
- ㄴ. C에서는 대의 민주주의의 한계를 극복하기 위해 직접 민주제의 요소가 보완되었다.
- ㄷ. A는 B와 달리 계몽사상의 영향을 받아 발전하였다.
- ㄹ. B, C 모두 주권이 국민에게 있다는 원리를 기초로 한다.

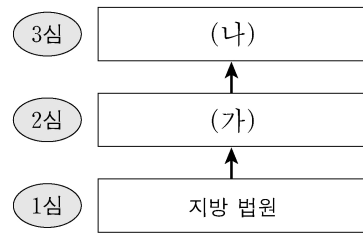
- ① ㄱ, ㄴ    ② ㄱ, ㄷ    ③ ㄴ, ㄷ    ④ ㄴ, ㄹ    ⑤ ㄷ, ㄹ

4. 법치주의의 유형 A, B에 대한 설명으로 옳은 것은? [3점]

근대 법치주의 전개 과정에서 등장한 A는 의회에서 적법한 절차를 거쳐 제정된 법에 의해 정부의 정치권력이 행사되지만 하면 문제가 없는 것으로 이해되었다. 그러나 아무리 형식적으로 합법성을 갖춘 법이라도 그 내용이 인간의 존엄성과 정의에 위반된다면 통제되어야 한다는 것이 역사적 경험을 통해 드러났다. 이후 법치는 국가 권력이 단순히 법에 의해 행사되는 것뿐만 아니라 자유·평등·정의에 부합하는 헌법적 가치에도 구속되어야 한다는 B로 확대되었다.

- ① A는 통치의 합법성보다 정당성을 강조한다.
- ② B는 법의 목적과 내용이 정의에 부합할 때 법의 권위가 발생한다는 점을 간과한다.
- ③ A는 B와 달리 국가 권력의 자의적 행사를 방지하기 위해서 통치자가 법의 구속을 받도록 한다.
- ④ B는 A와 달리 '법에 의한 지배'를 옹호한다.
- ⑤ A, B 모두 법이 국가와 시민을 구속하기 위한 조건으로 법 제정 과정의 적법성을 중시한다.

5. 그림은 우리나라의 사법 제도를 나타낸 것이다. 이에 대한 설명으로 옳은 것은? [3점]



- ① 동일 사건에 대해 2심이 항소심이라면 3심은 항고심이다.
- ② (가)에서의 재판이 민사 재판이라면 국민 참여 재판으로 이루어질 수 있다.
- ③ (가)가 지방 법원이라면 (나)는 고등 법원이다.
- ④ (나)는 (가)와 달리 위헌·위법 명령에 대한 심사권을 가진다.
- ⑤ (가), (나)의 법관은 국회에 의해 탄핵 소추될 수 있다.

6. 다음에 나타난 정치 참여 집단 A~C에 대한 설명으로 옳은 것은?  
(단, A~C는 각각 정당, 시민 단체, 이익 집단 중 하나에 해당하는 집단이다.)

- A는 의회 의원의 윤리적 자질을 평가하고 이들의 정치 활동에 대한 정보를 인터넷에 공개하고 있다. 이 밖에 공직자의 부정과 부패를 감시하며, 문제점을 해결할 수 있는 방안을 제시하기도 한다.
- B는 총기 판매와 소지에 대한 규제를 주장하는 강력한 여론에도 불구하고 자신들이 추구하는 목적을 달성하는 데에만 관심이 있다. 그러나 복지, 교육, 외교, 노동, 환경 등 다른 분야에는 관심이 없다.
- C는 중산층을 기반으로 설립되었고, 체제 유지를 위해 전통적인 규범과 권위를 중요시한다는 강령을 갖고 있다. 이들은 정권 획득을 통해 시장에 대한 국가의 개입을 최소로 하는 정책을 실현하고자 한다.

- ① A는 정치 과정에서 투입 기능을 독점한다.
- ② B는 행정부와 의회를 매개한다.
- ③ C는 정치적 중립을 추구한다.
- ④ A는 B와 달리 구성원의 이익을 공익보다 우선한다.
- ⑤ B, C 모두 정치 사회화 기능을 수행하지만, C는 정치적으로 책임을 진다는 점에서 B와 다르다.

7. 밑줄 친 'A 원칙'에 대한 옳은 설명만을 <보기>에서 있는 대로 고른 것은? [3점]

범죄로 규정되어 있지 않았던 행위를 법률의 개정으로 소급하여 처벌하는 것은 헌법상 평등의 원칙과 A 원칙에 반한다. 이와는 달리, 기존 판례에서 처벌하지 않았던 행위를 법률이 바뀌지 않았으나 판례가 변경되어 처벌하는 것은 헌법에 반하지 않는다. 형사 처벌의 근거가 되는 것은 판례가 아니라 법률이며, 판례의 변경을 제한하는 것은 사법 제도의 본질에 반하기 때문이다.

- <보 기>
- ㄱ. 형법의 보장적 기능 실현을 위해 필요한 원칙이다.
  - ㄴ. 행위 당시의 판례를 신뢰한 자는 보호되어야 한다는 원칙이다.
  - ㄷ. 범죄의 성립 및 처벌의 정도는 법관이 결정해야 한다는 원칙이다.
  - ㄹ. 행위 당시의 형벌 법규를 재판의 기준으로 삼아야 한다는 원칙이다.

- ① ㄱ, ㄴ                      ② ㄱ, ㄷ                      ③ ㄴ, ㄷ
- ④ ㄱ, ㄷ, ㄹ                ⑤ ㄴ, ㄷ, ㄹ

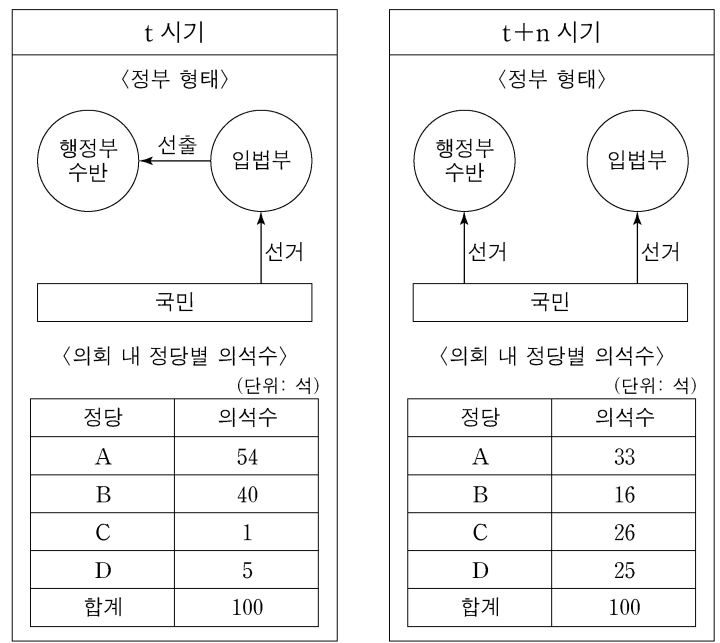
8. 밑줄 친 ㉠에 대한 설명으로 옳은 것은?

◇◇신문 2018년 ○○월 ○○일

국회 의사당 본관 앞 계단에서 동료 20명과 함께 '△△법 개정 반대한다.'는 구호를 외치며 농성했다는 이유로 갑은 기소되었다. 갑은 국회의사당의 경계 지점으로부터 100미터 이내에서 옥외 집회를 금지한 ㉠ A 법률의 해당 조항은 위헌이라고 생각하여 □□ 지방 법원에 위헌 법률 심판 제청 신청을 하였다. 헌법 재판소는 헌법이 보장한 국회의 기능을 보호하기 위한 A 법률 해당 조항의 입법 목적은 정당하나, 위험 상황이 구체적으로 존재하지 않는 경우 까지도 예외 없이 국회 의사당 인근에서의 집회를 금지하는 것은 입법 목적의 달성에 필요한 범위를 넘는 과도한 제한이라고 보았다.

- ① ㉠은 갑의 '기본권 보장을 위한 기본권'을 제한한다.
- ② ㉠에 의해 제한된 갑의 기본권은 자본주의 발달에 따른 불평등을 시정하기 위해 등장하였다.
- ③ 헌법 재판소는 ㉠이 과잉 금지 원칙에 위배된다고 보았다.
- ④ 헌법 재판소는 ㉠에 의해 제한된 기본권이 국회의 기능 보호라는 입법 목적보다 항상 우선한다고 보았다.
- ⑤ □□ 지방 법원은 갑의 신청 없이 직권으로 ㉠에 대해 위헌 법률 심판을 제청할 수 없다.

9. 다음 자료는 시기별 갑국의 정부 형태와 의회 내 정당별 의석수를 나타낸다. 이에 대한 추론으로 가장 적절한 것은? [3점]



\*t 시기와 t+n 시기에서 행정부 수반은 모두 A 정당 소속이다.

- ① t 시기는 t+n 시기와 달리 행정부 수반의 임기가 보장되어 정책의 지속성을 확보하기가 용이했을 것이다.
- ② t 시기는 t+n 시기에 비해 국민의 다양한 의견이 투입되어 국정이 비능률적으로 운영되었을 것이다.
- ③ t+n 시기는 t 시기에 비해 다수당의 횡포 가능성이 높았을 것이다.
- ④ t+n 시기는 t 시기에 비해 의회 내에서 A 정당의 영향력은 감소한 반면 B 정당의 영향력은 증가했을 것이다.
- ⑤ t+n 시기는 t 시기에 비해 입법부와 행정부 간 대립 가능성이 높아 행정부의 강력한 정책 추진을 위한 법률 제·개정은 어려웠을 것이다.

10. 우리나라 헌법의 기본 원리 (가), (나)에 대한 옳은 설명을 <보기>에서 고른 것은?

20세기에 발생한 세계 대전을 통해 인류는 국가 간의 평화 질서 내에서만 인간의 존엄성을 보장할 수 있다는 교훈을 얻게 되었다. 이로 인해 우리나라 헌법 전문에서도 "...인류 공영에 이바지함으로써..."라고 하여 (가) 을/를 천명하고 있다. 한편 제2차 세계 대전 이후 한반도에서는 남북이 분단되어 군사적인 대치 상황과 이산가족 문제 등으로 많은 고통을 겪어왔다. 이에 우리나라 헌법은 (나) 을/를 기본 원리로 받아들이고 있다.

- <보 기>
- ㄱ. (가)에 따라 우리나라 헌법은 외국인의 지위 보장에 대해 상호주의를 택하고 있다.
  - ㄴ. (가)의 실현 방안으로 '재외 국민의 선거권 보장'이 적절하다.
  - ㄷ. (나)에 따라 우리나라 헌법은 자유 민주적 기본 질서에 입각한 평화 통일 정책을 추진하도록 하고 있다.
  - ㄹ. (나)의 실현 방안으로 '모든 유형의 전쟁을 금지하는 법률 제정'이 적절하다.

- ① ㄱ, ㄴ                      ② ㄱ, ㄷ                      ③ ㄴ, ㄷ                      ④ ㄴ, ㄹ                      ⑤ ㄷ, ㄹ

11. 다음 사례에 대한 법적 판단으로 옳은 것은?

갑은 홀어머니 을과 살던 중 병과 혼인하여 A, B를 출산하였다. 갑은 병과 이혼한 후 정과 재혼하고 혼인 신고를 하였다. 그 후 갑과 정은 무의 자녀 C를 친양자로 입양하였다. 최근 갑은 불치의 병에 걸려서 전 재산을 B에게 물려준다는 유언을 남기고 사망하였는데, 유언은 법에서 정한 형식을 갖추지 못하였다. 사망 당시 갑은 채무 없이 2억 원의 예금과 7억 원의 부동산이 있었고, 이외의 다른 재산은 없었다.

- ① A는 상속 재산 중 2억 원을 상속받는다.
- ② B가 상속을 포기하면 병은 갑의 재산을 상속받을 수 있다.
- ③ 정은 B에게 유류분 반환 청구를 할 수 있다.
- ④ 정은 을이 받게 될 상속분의 1.5배를 상속받는다.
- ⑤ 무와 C의 친자 관계가 유지되므로 C는 갑의 재산을 상속받을 수 없다.

12. 다음 사례에 대한 법적 판단으로 옳은 것은?

2018년 4월 2일에 갑은 을 소유의 X주택에 대해 보증금 2억 원에 임대차 기간을 1년으로 하는 주택 임대차 계약을 체결하였다. 갑은 2018년 4월 13일에 X주택을 인도받아 살고 있었는데, 을이 2018년 4월 16일에 ○○은행으로부터 2억 원을 대출받으면서 X주택에 대한 저당권 설정 등기를 해 주었다. 2018년 4월 23일에 갑은 전입신고를 하면서 임대차 계약서에 확정 일자를 받았다. 단, X주택에 대한 다른 권리 관계는 없다.

- ① 갑은 계약 기간이 1년이므로 임대차 기간이 2년임을 주장할 수 없다.
- ② 갑은 2018년 4월 13일 다음 날부터 제3자에 대한 대항력을 가진다.
- ③ X주택에 대한 저당권 설정 등기는 X주택 등기 사항 전부 증명서 갑구에 기재된다.
- ④ X주택에 대한 경매 절차가 진행되어 3억 원에 매각되면, 갑은 매각 대금에서 보증금 중 일부만 변제받을 수 있다.
- ⑤ 갑은 임대차 계약 종료 후 ○○은행에 보증금의 반환을 청구할 수 있다.

13. 다음 사례에 대한 옳은 법적 판단을 <보기>에서 고른 것은? [3점]

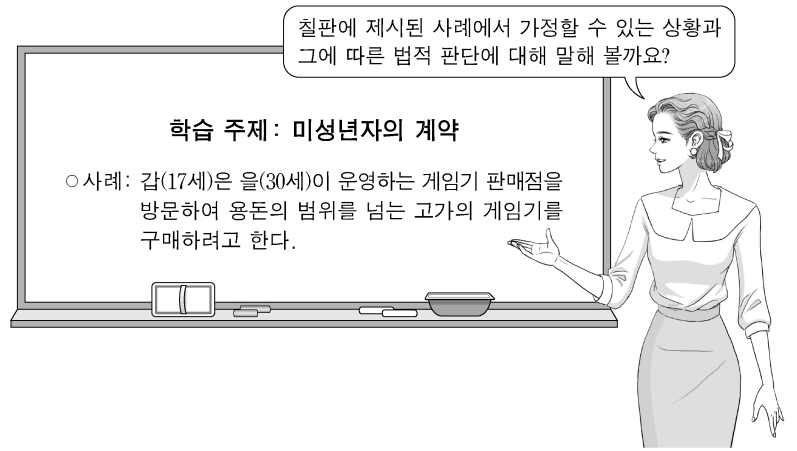
○ 갑 소유의 주택을 임차해서 살고 있는 을은 외벽 창틀에 하자가 있음을 알게 되었다. 그러던 어느 날 그 창틀이 갑자기 아래로 떨어져서 주차장에 주차되어 있던 병의 자동차가 파손되었다.  
○ 정이 운영하는 음식점의 종업원 무(17세)는 오토바이를 타고 급하게 음식 배달을 하던 중, 지나가던 사람을 치어 다치게 하였다.

<보 기>

ㄱ. 갑, 을은 공동 불법 행위 책임을 진다.  
ㄴ. 을은 공작물의 관리에 소홀함이 없음을 증명하지 못할 경우 병에게 금전으로 손해를 배상해야 한다.  
ㄷ. 무는 미성년자이므로 고의가 없다면 불법 행위가 성립하지 않는다.  
ㄹ. 정은 무에 대한 감독상의 과실이 없음을 증명할 경우 손해 배상 책임을 면할 수 있다.

- ① ㄱ, ㄴ    ② ㄱ, ㄷ    ③ ㄴ, ㄷ    ④ ㄴ, ㄹ    ⑤ ㄷ, ㄹ

14. 교사의 질문에 대한 옳은 답변을 <보기>에서 고른 것은? [3점]



<보 기>

ㄱ. 갑이 법정 대리인의 동의를 얻지 않고 게임기를 구매하였다면 을은 갑의 법정 대리인에게 계약을 취소할 것인지를 확답을 요구할 수 있어요.  
ㄴ. 게임기 구매 시 갑이 법정 대리인의 동의가 있는 것으로 을을 속였다면 갑의 법정 대리인은 계약을 취소할 수 없어요.  
ㄷ. 을이 갑에게 아무런 조건 없이 게임기를 무상으로 지급하는 경우에도 갑은 법정 대리인의 동의를 얻어야 해요.  
ㄹ. 갑이 법정 대리인의 동의를 얻어 게임기를 구매하였다더라도 갑은 계약을 취소할 수 있어요.

- ① ㄱ, ㄴ    ② ㄱ, ㄷ    ③ ㄴ, ㄷ    ④ ㄴ, ㄹ    ⑤ ㄷ, ㄹ

15. 다음 사례에 대한 옳은 법적 판단을 <보기>에서 고른 것은? [3점]

A 식료품 회사 사용자와 노동조합은 근로 조건에 관해 단체 교섭을 진행하였으나 사용자가 안전에 합의하지 않아 결렬되었다. 이에 노동조합은 적법하게 파업을 이끌었다. A 식료품 회사는 인사 위원회를 열어 파업을 주도했다는 이유로 갑(28세)에게 해고를 통보하였다. 이에 갑은 즉시 해고의 효력을 다투는 소송을 제기하였다. 법원은 해고 처분이 재량권 범위를 이탈·남용하여 위법하다고 판결하였고, 이 판결은 확정되었다.

<보 기>

ㄱ. 갑은 소송을 제기하기 전, 노동 위원회에 구제 신청을 할 수 있다.  
ㄴ. 갑이 A 식료품 회사의 인사 위원회 결정에 불복하여 제기한 소송은 민사 소송이다.  
ㄷ. 갑의 행위에 대한 A 식료품 회사의 해고 처분은 부당 해고에는 해당하지만 부당 노동 행위에는 해당하지 않는다.  
ㄹ. A 식료품 회사 사용자가 노동조합이 제시한 근로 조건에 관해 합의를 하지 않은 행위는 단체 교섭권을 침해한 것이다.

- ① ㄱ, ㄴ    ② ㄱ, ㄷ    ③ ㄴ, ㄷ    ④ ㄴ, ㄹ    ⑤ ㄷ, ㄹ



16. 다음 사례에 대한 법적 판단으로 옳은 것은? [3점]

갑(14세)은 얼마 전 길에서 주운 신분증을 이용해 편의점에서 술과 담배를 구입하려다 편의점 주인에게 적발되었다. 갑은 술과 담배를 가지고 황급히 도주하였지만 편의점 주인에게 붙잡혀 실랑이를 벌였고, 급기야 편의점 주인을 폭행하였다. 마침 지나가던 을(30세)이 갑을 제압한 후 경찰에 인계하였다.

- ① 갑의 범죄 행위는 소년부 보호 사건의 처리 대상에 포함되지 않아 일반 형사 사건과 동일하게 처리된다.
- ② 갑은 책임 조각 사유가 존재하므로 불기소 처분을 받는다.
- ③ 갑은 수사 종결 후 가정 법원 소년부로 송치되어 보호 처분의 결정을 받게 되면 항고할 수 있다.
- ④ 갑에 대한 공판 절차가 개시되면 을도 재판의 당사자가 된다.
- ⑤ 을이 갑을 제압한 행위는 자구 행위에 해당하기 때문에 범죄가 성립하지 않는다.

17. 국제 사회를 바라보는 관점 A, B에 대한 옳은 설명을 <보기>에서 고른 것은?

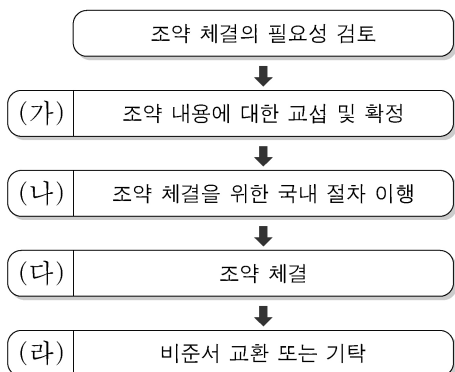
A를 지지하는 학자들은 국제법과 국제기구의 중요성을 강조하며 집단 안보 체제를 통해 국제 평화를 유지할 수 있다고 주장한다. 이에 반해 B를 지지하는 학자들은 제1차 세계 대전 이후 설립된 국제 연맹이 제2차 세계 대전의 발발을 막지 못하였고, 이후 설립된 국제 연합 역시 끊임없이 발생하는 국가 간 분쟁을 통제하지 못하였다는 점을 지적한다. 그래서 B를 지지하는 학자들은 군사력을 강화하거나 동맹을 맺는 것이 오히려 자국의 안전을 지키는 방법이라고 주장한다.

<보 기>

- ㄱ. A는 국가 간 힘의 균형을 강조한다.
- ㄴ. B는 국제 사회가 도덕 규범에 의해 통제되기 어렵다고 본다.
- ㄷ. A는 자유주의적 관점, B는 현실주의적 관점이다.
- ㄹ. B는 A와 달리 초국가적 행위 주체들의 역할을 강조한다.

- ① ㄱ, ㄴ    ② ㄱ, ㄷ    ③ ㄴ, ㄷ    ④ ㄴ, ㄹ    ⑤ ㄷ, ㄹ

18. 그림은 우리나라의 일반적인 조약 체결 절차이다. (가)~(라)에 대한 설명으로 옳은 것은?



\*기탁: 조약 체결 당사국이 비준서를 제출하여 그 효력의 발생을 인정하는 행위

- ① (가) 단계에서 정부 간 국제기구는 참여할 수 없다.
- ② (가) 단계에서 해당 조약의 포괄적 구속력이 발생한다.
- ③ (나) 단계에서 해당 조약에 대한 국회의 비준이 이루어진다.
- ④ (다)에 대한 권한은 대통령에게 있다.
- ⑤ (라) 이후 해당 조약은 헌법과 동등한 효력을 가진다.

19. 다음 사례에 대한 옳은 법적 판단을 <보기>에서 고른 것은?

갑(38세)은 길가에 주차되어 있던 자동차를 훔쳐서 운행하다 인적이 드문 곳에 버렸다. 자동차 주인인 을이 이를 알고 갑을 고소하였으나 갑은 수년간 도망 다녔다. 결국 갑은 경찰에 의해 체포되어 현재 수사가 진행 중이다.

<보 기>

- ㄱ. 갑의 범죄 행위에 대한 공소 시효가 지났다면 검사는 기소 유예 처분을 내려 수사를 종결한다.
- ㄴ. 공판 절차가 개시되면 을은 해당 법원에 배상 명령을 신청할 수 있다.
- ㄷ. 형(刑)의 선고 시 갑은 집행 유예와 보호 관찰 처분을 동시에 받을 수 있다.
- ㄹ. 을이 갑으로부터 범죄 피해를 배상받지 못할 경우 일정한 한도의 구조금 지급을 청구할 수 있다.

- ① ㄱ, ㄴ    ② ㄱ, ㄷ    ③ ㄴ, ㄷ    ④ ㄴ, ㄹ    ⑤ ㄷ, ㄹ

20. 다음 자료에 대한 분석으로 옳은 것은? [3점]

갑국은 현재 6개 선거구에서 단순 다수 대표제로 6명의 의회 의원을 선출하고 있다. 다음은 최근 의회 의원 선거 결과이다.

<정당별 득표 결과>

(단위: 표)

구분	A당	B당	C당	D당	합계
선거구 1	60	80	40	20	200
선거구 2	50	0	10	40	100
선거구 3	30	80	60	30	200
선거구 4	70	80	50	0	200
선거구 5	40	50	0	10	100
선거구 6	200	0	0	0	200
합계	450	290	160	100	1,000

\*투표율은 100%이며, 무효표는 없음.

갑국은 차기 의회 의원 선거를 앞두고 현재의 의석 정수를 유지하면서 다음과 같은 두 가지 개편안을 검토하고 있다. (단, 개편안의 경우 최근 의회 의원 선거의 정당별 득표 결과를 근거로 차기 선거 결과를 판단한다.)

<1안> 선거구 1-2, 3-4, 5-6을 통합하여 선거구를 3개로 축소하고, 각 선거구에서 득표순으로 2인의 대표를 선출한다. 정당은 당선 가능성을 고려하여 각 선거구에서 2인까지 후보자를 공천할 수 있다.

\*정당이 후보자를 공천할 때 2인이 당선 가능한 경우 2인을, 그렇지 않은 경우 1인을 공천한다.

<2안> 선거구 모두를 통합하여 한 개의 선거구로 만들며, 정당의 득표 비율에 의석 정수를 곱하여 산출된 수의 정수(整数)만큼 정당의 의석으로 배분하고, 이후 잔여 의석은 소수점 이하의 수가 큰 순서대로 각 정당에 1석씩 배분한다.

- ① A당의 경우 현행은 2안보다 유리하다.
- ② B당의 경우 현행은 1안보다 불리하다.
- ③ C당의 경우 현행보다 1안이, D당의 경우 현행보다 2안이 유리하다.
- ④ A당이 1안에서 얻을 수 있는 최대 의석수와 2안에서 얻을 수 있는 의석수는 동일하다.
- ⑤ 1안에서 B당은 과소 대표되고, 2안에서 C당은 과대 대표된다.

\* 확인 사항

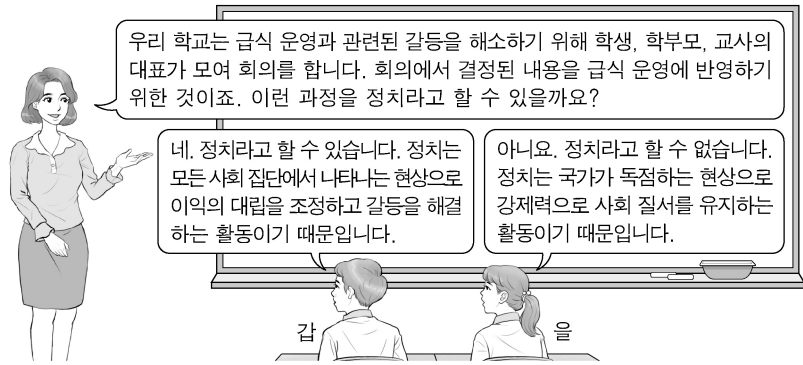
○ 답안지의 해당란에 필요한 내용을 정확히 기입(표기)했는지 확인하십시오.

제 4 교시

사회탐구 영역(법과 정치)

성명  수험 번호

1. 정치를 바라보는 갑, 을의 관점에 대한 설명으로 옳은 것은?



- ① 갑의 관점은 국가 형성 이전의 정치 현상을 설명할 수 없다.
- ② 을의 관점은 기업에 대한 시민 단체의 감시 활동을 정치로 본다.
- ③ 갑의 관점은 을의 관점과 달리 소수 통치 엘리트의 활동을 중시한다.
- ④ 을의 관점은 갑의 관점과 달리 다양한 집단을 정치의 주체로 본다.
- ⑤ 갑과 을의 관점 모두 정치권력을 획득하고 유지·행사하는 활동을 정치라고 본다.

2. 다음 자료에서 공통적으로 부각되는 우리나라 헌법의 기본 원리를 실현하기 위한 방안으로 가장 적절한 것은?

○ 국회는 노인 장기 요양 보험법을 제정하면서 장기 요양 급여가 원활하게 제공될 수 있도록 충분한 수의 요양 기관을 확충하여야 할 국가 및 지방 자치 단체의 책무를 규정하였다.

○ 헌법 재판소는 영유아 보육법의 직장 보육 지원 조항이 근로자들의 안정적 육아 및 고용 안정을 이루어 가정 복지 증진에 기여한다고 보았다.

- ① 언론·출판·집회·결사의 자유를 보장한다.
- ② 대통령 선거에서 재외 국민에게 선거권을 부여한다.
- ③ 복수 정당제를 기반으로 민주적인 정당 활동을 보장한다.
- ④ 상호주의에 근거해 국내 거주 외국인에게 지위를 보장한다.
- ⑤ 근로자의 생활 안정과 노동력의 질적 향상을 위해 최저 임금제를 시행한다.

3. 밑줄 친 정치 참여 집단 ㉠, ㉡의 일반적인 특징에 대한 공통점으로 옳은 것은? [3점]

구분	주요 활동
㉠ ○○ 단체	○ 국정 감사 모니터링 활동 ○ 노동 문제에 대한 대안 제시 ○ 사법부 활동 감시를 위한 시민 연대 결성
㉡ △△ 단체	○ 성과 연봉제 도입 반대를 위한 파업 주도 ○ 해외 금융 회사의 국내 진출 반대 로비 활동 ○ 조합원의 후생 복지를 위한 시설의 설치 운영

- ① 정치 사회화를 담당하며 정치 과정에서 산출 기능을 수행한다.
- ② 정부에 대하여 비판을 하며 정강에 기본 이념이 규정되어 있다.
- ③ 정치권력 획득에는 관심이 없으며 사회 전체의 공공선을 추구한다.
- ④ 정치적으로 책임을 지지 않으며 정부의 정책 결정 과정에 영향력을 행사한다.
- ⑤ 대의 민주주의의 한계를 보완하기 위해 시민의 여론을 수렴하여 법률안을 발의한다.

4. 다음 사례에 대한 법적 판단으로 옳은 것은? (단, A와 B는 우리나라 헌법 기관이다.) [3점]

A는 공직 선거법의 ‘국회의원 지역 선거구 구역표’에 대해 헌법 불합치 결정이 있었음에도 이를 개정하지 않았다. 국회의원 선거에 출마하고자 한 갑은 공직 선거법이 적용되는 구체적 사건이 없어 다른 권리 구제 절차를 거칠 수 없었기에 A의 헌법상 입법 의무 불이행에 대한 위헌 확인을 구하는 심판을 B에 청구하였다. 이에 대해 B는 A가 위 표를 개정하지 않아 갑의 기본권이 침해되었으나, 그 사이 위 표가 헌법에 맞게 개정되어 갑의 권리를 보호해야 할 실익이 소멸하였기에 헌법 위반 여부에 대한 판단을 내릴 수 없다는 결정을 내렸다.

- ① A의 헌법상 입법 의무 불이행으로 갑의 ‘기본권 보장을 위한 기본권’이 침해되었다.
- ② 갑은 위헌 법률 심판을 제청해 줄 것을 B에 신청하였을 것이다.
- ③ 갑이 B에 청구한 심판은 공권력에 의한 기본권의 침해를 전제로 하는 것이다.
- ④ 갑은 헌법 위반 여부에 대한 판단을 내릴 수 없다는 B의 결정에 불복하여 헌법 소원 심판을 청구할 수 있다.
- ⑤ A의 장(長)은 B의 장(長)과 달리 헌법상 의무 불이행을 이유로 탄핵 소추될 수 있다.

5. 표에 대한 옳은 분석 및 추론을 <보기>에서 고른 것은? (단, 갑국과 을국의 정부 형태는 각각 전형적인 대통령제와 의원 내각제 중 하나이다.) [3점]

질문	국가	갑국	을국
(가)		예	아니요
행정부 수반 소속 정당이 의회에서 과반 의석을 차지하는가?		아니요	아니요

<보 기>

㉠. (가)가 ‘의회 의원이 각료를 겸직할 수 있는가?’라면 갑국에서는 연립 내각 구성이 필요했을 것이다.

㉡. (가)가 ‘의회가 행정부 수반을 선출하는가?’라면 을국에서는 의회 내 다수석을 확보하기 위해 행정부 수반이 의회를 해산할 수 있다.

㉢. 갑국의 행정부 수반이 법률안 제출권을 가진다면 (가)에 ‘의회는 내각에 대한 불신임권을 행사할 수 있는가?’가 들어갈 수 있다.

㉣. 을국의 행정부 수반이 법률안 거부권을 가진다면 (가)에 ‘국가 원수와 행정부 수반이 동일인인가?’가 들어갈 수 있다.

- ① ㉠, ㉡    ② ㉠, ㉢    ③ ㉡, ㉣    ④ ㉢, ㉣    ⑤ ㉣, ㉣

6. 법치주의의 유형 A, B에 대한 설명으로 옳은 것은? [3점]

헌법 제59조는 “조세의 종목과 세율은 법률로 정한다.”라고 규정하여 조세 법률주의를 선언하고 있다. A는 국회가 제정한 법률이 과세 요건을 명확히 규정하고 있다면 그 목적과 내용의 정당성 여부와 상관없이 조세 법률주의에 위배되지 않는다고 본다. 그러나 B에 따르면 경제 활동을 더 이상 불가능하게 할 정도로 과도하게 조세를 부과하는 조세법은 허용되지 않는다. B는 과세 근거가 되는 법률의 목적과 내용 또한 기본권 보장이라는 헌법 이념에 부합되어야 한다고 보기 때문이다.


- ① A는 B와 달리 입법 절차의 합법성을 중시한다.
- ② A는 B와 달리 조세법이 적법한 절차에 따라 제정되었다라도 위헌 법률 심사를 할 수 있다고 본다.
- ③ B는 A와 달리 조세의 종목과 세율을 법률로 정해야 한다고 본다.
- ④ B는 A와 달리 다수당의 횡포와 독재 체제를 옹호하는 논리로 악용될 수 있다.
- ⑤ A와 B는 모두 국가가 국민의 재산권을 제한할 때 법률에 근거가 있어야 한다고 본다.

7. 교사의 질문에 대한 학생의 답변으로 옳은 것은? [3점]

A와 B가 발생하게 된 공통적인 배경은 무엇일까요?

**민주 정치의 발전 과정에서 발생한 A와 B**

- A: 19세기 영국에서 노동자들이 중심이 되어 21세 이상 남성의 선거권 보장 등을 요구하며 벌인 운동
- B: 20세기 초 영국에서 결성된 여성사회정치동맹(WSPU)의 활동가들이 여성의 선거권을 요구하며 벌인 활동



- ① 직접 민주 정치 제도에 대한 요구가 증가했기 때문입니다.
- ② 대의제로 인해 정책 결정의 효율성이 떨어졌기 때문입니다.
- ③ 개인주의가 심화되어 정치적 무관심이 확대되었기 때문입니다.
- ④ 사회 구성원의 정치 참여 증가로 중우 정치가 나타났기 때문입니다.
- ⑤ 국민의 대표를 선출할 권리가 보장되지 않아 정치 참여가 제한되는 사회 구성원들이 있었기 때문입니다.

8. 기본권 A~C에 대한 설명으로 옳은 것은? (단, A~C는 각각 자유권, 평등권, 청구권 중 하나이다.)

갑은 일정한 범죄로 확정 판결을 받은 사람의 디엔에이(DNA) 시료를 영장에 의해 채취하도록 한 ○○법에 따라 시료를 채취당하였다. 갑은 ○○법 조항이 입법 목적에 부합하는 구체적 채취 요건의 규정 없이 본인의 의사에 반해 구강 등에서 시료를 채취하도록 하여 신체의 안정성과 자율적 활동에 관한 A를 침해한다고 보았다. 또한, 갑은 해당 조항이 강력 범죄자와 경미한 범죄자를 합리적 이유 없이 동일하게 취급하여 B를 침해하고, 채취 대상자의 의견 진술 기회와 사후 불복 및 구제 절차를 마련하지 않아 C를 침해한다고 판단하여 헌법 소원 심판을 청구하였다.

- ① A는 현대 복지 국가 헌법에서부터 보장된 기본권이다.
- ② B는 국가에 특정 행위를 요구할 수 있는 절차적 권리이다.
- ③ C는 민주주의 이념 중 하나로 다른 기본권 보장의 전제 조건이다.
- ④ A는 소극적·방어적 권리, C는 적극적 권리에 해당한다.
- ⑤ A는 B와 C의 보장과 실현을 위한 수단적 성격의 권리이다.

9. 다음 자료에 대한 옳은 분석 및 추론을 <보기>에서 고른 것은?

전형적인 의원 내각제를 채택하고 있는 갑국의 의회 의원은 100명이며, 단순 다수제로 선출된 지역구 의원 80명과 정당별 득표율에 따라 결정된 비례 대표 의원 20명으로 구성된다. 표는 시기별 갑국의 의회 의원 선거 결과를 나타낸다.

<t대>						<t+1대>					
구분	A당	B당	C당	D당	합계	구분	A당	B당	C당	D당	합계
지역구 당선인수(명)	9	20	21	30	80	지역구 당선인수(명)	1	32	1	46	80
정당 득표율(%)	80	20	0	0	100	정당 득표율(%)	0	50	5	45	100

\* 비례 대표 선거에서 모든 정당은 득표율에 따라 의석을 할당받을 수 있음.

<보 기>

- ㄱ. t대는 t+1대에 비해 다수당의 횡포 가능성이 높았을 것이다.
- ㄴ. t+1대는 t대에 비해 국정 운영에 대한 정치적 책임의 소재가 명확할 것이다.
- ㄷ. t대 정당 제도에서는 t+1대에 비해 정국이 불안정해질 가능성이 높다.
- ㄹ. t+1대 정당 제도에서는 t대에 비해 국민의 다양한 의견이 정책 결정 과정에 투입될 가능성이 높다.

- ① ㄱ, ㄴ    ② ㄱ, ㄷ    ③ ㄴ, ㄷ    ④ ㄴ, ㄹ    ⑤ ㄷ, ㄹ

10. 다음 자료에 대한 옳은 법적 판단을 <보기>에서 고른 것은?

갑이 운영하는 A 회사에서 2018년 7월부터 일하고 있는 을(20세)은 갑과 아래와 같은 내용의 근로 계약서를 작성하였다.

- 계약 기간은 1년, 시급은 9,000원
- 근로 시간은 14시부터 21시까지 (근무일 주 5일, 휴게 시간 17시부터 18시까지)
- 업무 내용은 상품 개발 및 마케팅

그러나 을은 근로 계약 내용과 달리 주차장 관리 업무도 담당하게 되었다. 을은 이에 대해 항의하는 과정에서 갑을 밀어 부상을 입혔다. 갑은 징계 위원회의 해고 결정에 따라 2018년 10월 5일 을에게 해고 사유와 시기를 구두로 통보하였다. 그러나 A 회사 노동조합은 을에 대한 해고를 반대하고 있다.


<보 기>

- ㄱ. 갑의 을에 대한 해고 통보로 해고의 효력이 발생한다.
- ㄴ. 을은 노동 위원회 구제 신청과 별도로 법원에 해고의 효력을 다투는 소를 제기할 수 있다.
- ㄷ. 을이 근무일에 근로 계약서에 따라 일했다면 갑은 을에게 하루 임금으로 63,000원을 지급해야 한다.
- ㄹ. 갑의 을에 대한 행위는 부당 노동 행위에 해당하지 않으므로 A 회사 노동조합은 노동 위원회에 구제 신청을 할 수 없다.

- ① ㄱ, ㄴ    ② ㄱ, ㄷ    ③ ㄴ, ㄷ    ④ ㄴ, ㄹ    ⑤ ㄷ, ㄹ



11. (가)에 해당하는 사례로 옳은 것은?



- ① 을과 불공정한 금전 차용 계약을 법정 대리인의 동의를 받아 체결한 경우
- ② 소장품을 안 팔겠다고 했는데도 을이 몰래 가져가고 돈을 입금한 경우
- ③ 성인자인 것처럼 신분증을 위조하여 을로부터 오토바이를 구입한 경우
- ④ 용돈의 범위 내에서 법정 대리인의 동의를 받지 않고 을로부터 게임기를 구입한 경우
- ⑤ 1주일 동안 을의 강아지를 돌보는 조건으로 법정 대리인의 동의 없이 을로부터 장학금을 받는 계약을 체결한 경우

12. 다음 자료에 대한 법적 판단으로 옳은 것은? [3점]

갑은 A 주택에 대한 등기 사항 전부 증명서에서 아래의 내용을 확인하고 다음과 같이 계약을 진행하였다.

【 갑 구 】				
순위 번호	등기 목적	접수	등기 원인	권리자 및 기타 사항
1	소유권 보존	2010년 3월 4일 제○○○호		소유자 을(이하 생략)
【 을 구 】				
순위 번호	등기 목적	접수	등기 원인	권리자 및 기타 사항
1	저당권 설정	2017년 1월 4일 제○○○호	2017년 1월 4일 설정 계약	채권액 금 1억 원 채무자 을(이하 생략) 저당권자 병(이하 생략)

- 2017년 9월 16일: 갑은 자신이 주택 임대차 보호법상 소액 임차인에 해당함을 확인하고 A 주택에 대해 을과 보증금 5천만 원에 계약 기간은 입주일로부터 3년으로 하는 임대차 계약을 체결하면서 계약금 5백만 원을 지급하였다.
- 2017년 11월 10일: 갑은 을에게 잔금을 지급한 후 을과 임대차 계약서 작성을 완료하고 입주하였다.
- 2017년 11월 13일: 갑은 전입 신고를 하면서 임대차 계약서에 확정 일자리를 받지 않았다.

- ① 갑과 을이 체결한 임대차 계약은 2017년 11월 10일부터 유효하다.
- ② 갑은 2017년 11월 14일에 A 주택의 등기 사항 전부 증명서에서 자신의 임차권을 확인할 수 있다.
- ③ 갑은 주택 임대차 보호법에 따라 2019년 11월 9일까지 주거를 보장받고 그 이후에는 보장받지 못한다.
- ④ 2017년 12월 11일 A 주택이 경매된 경우 병이 받는 변제액은 갑이 확정 일자를 받았는지 여부에 영향을 받지 않는다.
- ⑤ 을이 임대 사실을 모르는 병에게 A 주택을 팔아 2018년 11월 9일 등기부의 갑구가 변경되면 갑은 더 이상 거주할 수 없다.

13. 다음 사례에 대한 법적 판단으로 옳은 것은? [3점]

A(남)는 B(여)와 이혼을 하였고 혼인 중에 출생한 딸 C는 B가 키우고 있었다. 홀어머니 D를 모시는 A는 E와 혼인 신고는 하지 않은 채 사실혼 관계에 있으면서 E와의 사이에서 태어난 아들 F와 함께 살고 있었다. 그런데 A가 사고를 당해 사망하였다. A가 남긴 재산으로는 7천만 원이 전부이고 F는 상속 자격을 갖추고 있다. A는 자신의 모든 재산을 D와 E에게 각각 1/2씩 주겠다는 유언장을 남겼다.

- ① A는 F를 친양자로 입양하는 절차를 거쳤다.
- ② 유언이 무효라면 C는 2천만 원을 상속받는다.
- ③ A의 사망 당시 E와 달리 B는 A의 친족이 아니다.
- ④ 유언이 무효이고 C와 F가 상속을 포기하면 D는 7천만 원을 상속받을 수 있다.
- ⑤ 유언이 유효하고 D와 E가 유언에 의한 권리를 포기하지 않더라도 C와 F는 균등하게 법정 상속분 전액을 상속받는다.

[14~15] 다음 사례를 읽고 물음에 답하시오.

A가 운영하는 학원에 다니는 갑(16세), 을(14세), 병(10세)은 수업을 받던 중, 고용된 강사 B가 잠시 자리를 비운 사이에 정(13세)과 말다툼을 하게 되었다. 그 과정에서 갑은 망을 보고 을과 병이 정을 때려 정에게 5주의 치료를 요하는 상해를 입혔다. 정은 폭행을 피하기 위해 강의실을 뛰쳐나가다 택배 기사 C를 밀어 C에게 2주의 치료를 요하는 부상을 입혔다. 현재 갑, 을, 병은 경찰에서 조사를 받고 있으며, 정은 A에게 남은 기간의 수강료에 대한 환불을 요구하고 있다.

14. 위 사례에 대한 법적 판단으로 옳은 것은? [3점]

- ① 정에 대한 을의 불법 행위 책임이 인정되는 경우 을의 부모는 책임 무능력자의 감독자 책임을 지지 않는다.
- ② 정에 대한 병의 불법 행위 책임이 인정되지 않는 경우 갑과 을은 정에게 불법 행위 책임을 지지 않는다.
- ③ A가 B의 사용자로서 정에 대해 불법 행위 책임을 지는 경우 B는 정에게 불법 행위 책임을 지지 않는다.
- ④ B의 불법 행위 책임이 인정되지 않는 경우에만 A는 정에게 채무 불이행으로 인한 손해 배상 책임을 진다.
- ⑤ 정이 C에게 부상을 입힌 행위는 정당방위에 해당하여 범죄가 성립되지 않으므로 정의 불법 행위 책임은 인정되지 않는다.

15. 갑~병의 소년 사건 처리에 대한 법적 판단으로 옳은 것은?

정에게 상해를 입힌 갑, 을, 병의 행위에 대한 경찰 수사 결과에 따라 갑과 을은 검사에게, 병은 가정 법원 소년부로 송치되었다. 검사는 갑과 을에 대한 법적 조치를 검토 중이다.

- ① 을, 병은 갑과 달리 선도 조건부 기소 유예 처분을 받을 수 없다.
- ② 갑과 을의 행위는 병의 행위와 달리 구성 요건에 해당하며 위법하다.
- ③ 검사가 갑과 을의 행위를 범죄로 판단하더라도 갑과 을을 가정 법원 소년부로 송치할 수 있다.
- ④ 검사가 갑과 을을 가정 법원 소년부로 송치하면 가정 법원 소년부가 형의 선고를 유예할 수 있다.
- ⑤ 병이 소년법상 보호 처분을 받는다면 갑, 을의 부모와는 달리 병의 부모는 민사상 책임이 면제된다.

16. 다음 사례에 대한 법적 판단으로 옳은 것은? [3점]

갑(25세)은 을에 대한 사기죄로 고소되어 경찰에서 피의자 신문을 받았다. 갑의 사건이 검찰로 송치된 이후 구속 영장이 발부되어 갑은 구속되었다가 5일 후 석방되었고 불구속 상태에서 공소가 제기되었다. 갑은 1심 재판에서 징역형을 선고받아 항소하였고, ○○고등법원 항소심 재판부는 갑에 대하여 A를 선고하였으며 그 판결은 항소심에서 최종 확정되었다.

- ① 갑은 영장 실질 심사를 통해 석방되었을 것이다.
- ② A가 '벌금형'이라면 갑은 형사 보상을 청구할 수 없다.
- ③ 갑의 1심 재판은 지방 법원 단독 판사가 담당하였을 것이다.
- ④ A가 '무죄'라면 갑은 항소심 재판부에 을을 상대로 한 배상 명령을 신청할 수 있다.
- ⑤ 수사 절차에서와 달리 1심 재판에서 갑은 진술 거부권을 보장 받지 못했을 것이다.

17. 밑줄 친 'A 원칙'에 대한 옳은 설명만을 <보기>에서 있는 대로 고른 것은?

갑은 을의 컴퓨터에 저장된 전자 파일을 자신의 이동식 저장 장치에 몰래 복사한 행위와 관련하여 절도죄로 공소 제기되었다. 갑은 1심 재판에서, 컴퓨터 파일과 같은 전자 정보를 복사하는 행위는 절도죄의 구성 요건에 해당하지 않음에도 절도 행위와 유사하다는 이유만으로 절도죄의 규정을 그대로 적용하는 것은 죄형 법정주의의 A 원칙에 위반된다고 주장하였다.

<보기>

- ㄱ. 범죄의 성립과 형벌에 모두 적용된다.
- ㄴ. 범죄와 처벌이 균형을 갖추어야 한다는 원칙이다.
- ㄷ. 적용할 형법 규정이 없는 경우 법관의 자의적인 판단만으로 처벌할 수 없다는 것을 의미한다.
- ㄹ. 범죄 행위가 어떤 것인지를 누구나 예측할 수 있게 법률로 명확하게 규정하여야 한다는 것을 의미한다.

- ① ㄱ, ㄷ                      ② ㄴ, ㄷ                      ③ ㄴ, ㄹ
- ④ ㄱ, ㄴ, ㄹ                ⑤ ㄱ, ㄷ, ㄹ

18. 국제 연합의 주요 기관 A~C에 대한 설명으로 옳은 것은?

국제 연합 헌장은 A가 B의 권고에 따라 국제 연합 가입 신청국의 가입 여부를 결정하도록 규정하고 있다. 그런데 냉전이 격화되면서 B의 상임 이사국들이 정치적 이해관계로 거부권을 행사하여 가입하지 못하는 신청국이 발생하였다. 이에 모든 회원국이 의결에 참여하는 A는 독자적으로 가입 여부를 결정할 수 있는지에 대해 C에 권고적 의견을 요청하였다. 1940년대 창설된 사법 기관 C는 A와 B에서 선출된 15인의 국적이 다른 재판관으로 구성되어 있다.

- ① A는 주권 평등 원칙에 따른 표결 방식을 채택하고 있다.
- ② B의 모든 이사국들은 신청국의 가입 여부에 대해 거부권을 가진다.
- ③ C는 국제 평화와 안전 유지에 대한 일차적 책임을 진다.
- ④ 다국적 기업 간의 분쟁이 국제 사회의 법적 분쟁이라면 C의 재판 대상이 된다.
- ⑤ B와 달리 A는 C가 내린 판결의 이행을 위해 적절한 조치를 결정할 수 있다.

19. A와 같은 국제법의 법원(法源)에 대한 설명으로 옳은 것은?

갑은 밀수 행위로 관세법을 위반한 사람에 대해 A에 의하여 형벌을 가중하는 것은 중대한 기본권의 침해라고 주장하면서 헌법 소원 심판을 청구하였다. 그러나 헌법 재판소는 A도 적법하게 체결·공포된 것이므로 국내법과 같은 효력을 가지기에 그로 인해 범죄자에 대한 형벌이 가중되더라도 헌법에 위반되지 않는다고 판단하였다.

- ① 체결 당사국뿐만 아니라 모든 국가에 효력을 미친다.
- ② 우리나라에서 헌법과 동일한 국내법적 지위를 지닌다.
- ③ 국회가 비준하고 대통령이 공포해야 효력이 발생한다.
- ④ 국가뿐만 아니라 국제기구도 체결 당사자가 될 수 있다.
- ⑤ 일반적인 국제 관행과 법적 확신의 결합에 의하여 성립된다.

20. 다음 자료에 대한 분석 및 추론으로 옳은 것은? [3점]

갑국의 의회 의원 정수는 6명으로, 현재 6개 선거구(1~6)에서 단순 다수제로 의회 의원을 선출하고 있다. 다음은 갑국의 최근 의회 의원 선거의 정당별 득표 결과와 선거구를 나타낸다.

〈정당별 득표 결과〉 (단위: 표)							〈선거구〉		
선거구	A당	B당	C당	D당	E당	합계	1	2	3
1	20	40	0	0	0	60	1	2	3
2	30	15	15	0	0	60			
3	10	35	10	5	0	60			
4	0	15	5	0	0	20	4	5	6
5	5	0	0	15	20	40			
6	15	5	0	0	40	60			
합계	80	110	30	20	60	300			

\* 유권자 1인은 1표를 행사하고 투표율은 100%이며, 무효표는 없음.

갑국은 현재의 의원 정수를 유지하면서 다음과 같은 두 가지 선거 제도 개편안을 검토하고 있다. 개편안의 경우 최근 의회 의원 선거의 정당별 득표 결과만을 근거로 판단한다.

<1안> 2개의 선거구를 하나로 통합하여 선거구를 3개로 축소하고, 각 선거구에서 득표수로 2인의 대표를 선출한다. 정당이 후보자를 공천할 때 2인이 당선 가능한 경우 2인을, 그렇지 않은 경우 1인을 공천한다. 선거구는 경계선이 접한 경우에만 통합이 가능하며, 대각선 방향으로의 통합은 고려하지 않는다. 통합 후 하나의 선거구 유권자 수가 다른 선거구 유권자 수의 2배 이상이 되지 않도록 한다.

<2안> 선거구 모두를 통합하여 한 개의 선거구로 만들며, 의석 할당 정당의 득표 비율에 의원 정수를 곱하여 산출된 수의 정수(整數)만큼 정당의 의석으로 배분한다. 의석 할당 정당의 득표 비율은 각 의석 할당 정당의 득표수를 모든 의석 할당 정당의 득표수 합계로 나누어 산출한다. 이후 잔여 의석은 소수점 이하의 수가 큰 순서대로 각 의석 할당 정당에 1석씩 배분한다. 단, 의석 할당 정당은 전체 투표 총수의 15% 이상을 득표하여야 한다.

- ① 현행에서 A당과 C당은 과소 대표되고, 2안에서 B당과 E당은 과대 대표된다.
- ② 1안에서 A당이 얻을 수 있는 최소 의석수는 1석, 최대 의석수는 3석이다.
- ③ 1안에서 선거구가 1-4, 2-5, 3-6으로 통합된다면, B당의 의석수는 현행보다 적어도 1석이 증가할 것이다.
- ④ C당의 경우 1안과 2안에서 얻을 수 있는 의석수는 동일하지 않다.
- ⑤ D당과 E당은 1안보다 2안이 유리하다.

\* 확인 사항  
○ 답안지의 해당란에 필요한 내용을 정확히 기입(표기)했는지 확인 하시오.



제 4 교시

# 사회탐구 영역(법과 정치)

성명		수험 번호							
----	--	-------	--	--	--	--	--	--	--

1. 정치를 바라보는 다음 관점에 대한 설명으로 옳은 것은?

우리는 정치를 입법부, 행정부 등 국가 기관과 관련된 활동들에 한정하여 생각하는 것에서 벗어나 정치의 의미를 확대해서 생각할 필요가 있다. 정치는 사회에서 권력이 형성, 분배되는 과정이며 이러한 과정은 다양한 사회 집단에서 발견되기 때문이다.

- ① 국회의 입법 과정을 정치로 보지 않는다.
- ② 부서 간 통폐합을 둘러싼 회사 내 갈등 해결 과정을 정치로 보지 않는다.
- ③ 국가 형성 이전에는 정치 현상이 나타나지 않았다고 본다.
- ④ 복잡하고 다원화된 현대 사회의 정치 현상을 설명하기에 적합하다.
- ⑤ 국가의 정치 현상과 다양한 사회 집단의 정치 현상은 본질적으로 다르다고 본다.

2. 법치주의의 유형 A, B에 대한 설명으로 옳은 것은? [3점]

A는 행정과 재판이 법률에 따라 이루어져야 한다고 보며, 합법적인 절차를 거쳐 제정된 법률이라면 그 목적이나 내용은 문제 삼지 않는다. B도 합법적으로 제정된 법률에 따른 행정과 재판을 중시하지만, 법률의 목적과 내용이 인간의 존엄성, 실질적 평등, 국민의 자유와 권리의 보장에 부합할 것을 강조한다.

- ① A는 정의에 부합하는 법만이 권위를 가진다고 본다.
- ② B는 통치의 정당성보다 합법성을 더 중시한다.
- ③ A는 B와 달리 위헌 법률 심사체의 필요성을 강조한다.
- ④ B는 A와 달리 독재자의 통치권을 강화하는 수단으로 악용될 우려가 있다.
- ⑤ A, B 모두 국가 권력 행사에 법적 근거가 필요하다고 본다.

3. 다음 자료에 대한 분석 및 추론으로 옳은 것은? [3점]

갑국은 전형적인 정부 형태인 대통령제와 의원 내각제 중 하나를 채택하고 있으며 ㉠을/를 통해 행정부가 의회를 견제하고, ㉡을/를 통해 의회가 행정부를 견제한다. 갑국 의회의 정당별 의석률은 A당이 60%, B당이 40%이며, 행정부 수반은 B당 소속이다.

- ① 행정부 수반과 국가 원수는 동일인이다.
- ② A당 소속 의원은 각료를 겸직할 수 있다.
- ③ '법률안 제출권'은 ㉠에 들어갈 수 있다.
- ④ '내각 불신임권'은 ㉡에 들어갈 수 있다.
- ⑤ '탄핵 소추권'은 ㉠에, '법률안 거부권'은 ㉡에 들어갈 수 있다.

4. A, B에 대한 설명으로 옳은 것은? (단, A, B는 각각 고대 아테네 민주 정치, 근대 민주 정치 중 하나이다.)

민주 정치는 역사적으로 '누가 정치에 참여할 수 있는가'와 '어떻게 정치에 참여할 것인가'에 따라 다양한 형태로 나타났다. 예를 들면 A에서는 재산, 성별 등에 따라 정치 참여에 제한이 있었고, B에서는 시민의 지위를 가진 일정 연령 이상의 남성에게만 정치 참여의 기회가 부여되었다. A에서는 시민이 선거를 통해 대표자를 선출하는 반면, B에서는 시민이 최고 의결 기구인 민회에 모여 국가의 중요 사안을 직접 결정하였다.

- ① A에서는 보통 선거의 원칙이 확립되었다.
- ② B는 '시민은 지배하면서 동시에 지배되어야 한다는 원리'에 기초하였다.
- ③ A는 B와 달리 추천, 운번제를 통해 모든 시민에게 공직 참여의 기회를 부여하였다.
- ④ B는 A와 달리 국가 기관 간 견제와 균형을 위한 권력 분립의 원칙에 기초하였다.
- ⑤ A, B는 모두 입헌주의에 기반한 다수의 지배를 추구하였다.

5. 다음 자료에 나타난 정치 참여 집단 A~C에 대한 설명으로 옳은 것은? (단, A~C는 각각 정당, 시민 단체, 이익 집단 중 하나이다.)

정부가 추진하는 정책으로 인한 비용은 A에게 집중되고 이익은 국민에게 분산될 경우, A는 자신에게 소속된 업계 회원들의 비용 부담을 우려하여 해당 정책을 강력히 반대할 것이다. 반면 국민은 각자에게 돌아오는 이익이 작아서 큰 관심을 보이지 않을 것이다. 국민의 관심을 불러일으키기 위해서는 공익을 위해 활동하는 B의 역할이 요구된다. 한편 유권자의 지지가 필요한 C는 A와 B의 의견을 종합하여 이에 관한 정책을 다음 선거에서 공약으로 제시할 것이다.

- ① A는 B와 달리 정치 과정에서 산출 기능을 담당한다.
- ② B는 C와 달리 행정부와 의회를 매개한다.
- ③ C는 A와 달리 정권 획득을 목적으로 한다.
- ④ A는 B, C와 달리 대의제의 한계를 보완한다.
- ⑤ B는 A, C와 달리 정치 사회화 기능을 수행한다.

법과 정치



## 2 (법과 정치)

## 사회탐구 영역

6. 다음 사례에 대한 분석으로 옳은 것은? [3점]

구치소에 수용 중인 갑은, 구치소장이 수용자 거실에 설치한 폐쇄 회로 텔레비전(CCTV)으로 인해 기본권을 침해당했다며, 헌법 재판소에 권리 구제형 헌법 소원 심판을 청구하였다. 이에 대해 헌법 재판소는 구치소장의 해당 행위는 갑을 보호하기 위한 것으로 그 목적이 정당하고, 교도관의 감시만으로는 사고 발생을 막는 데 한계가 있으므로 목적 달성에 적합한 수단이며, 수용자가 입게 되는 피해를 최소화하기 위한 조치를 취하고 있다는 점에서 피해의 최소성을 갖추었다고 보았다. 또한 이로 인해 갑의 사생활의 비밀 및 자유가 제한되더라도, 이를 통해 보호하려는 공익이 더 크기 때문에 법익의 균형성을 갖추었다고 판단하여 기각 결정을 내렸다.

- ① 갑이 침해당했다고 주장하는 기본권은 '기본권 침해를 구제받기 위한 수단적 성격'을 가진다.
- ② 갑이 청구한 심판은 법률의 위헌 여부가 재판의 전제가 된 경우에 이루어진다.
- ③ 갑의 헌법 소원 심판 청구는 사회적 기본권의 행사에 해당한다.
- ④ 헌법 재판소는 구치소장의 행위가 과잉 금지 원칙을 위배하지 않았다고 판단하였다.
- ⑤ 헌법 재판소는 보호하려는 공익보다 침해되는 사익이 더 작다고 할 수 없으므로 기본권 제한의 한계를 넘었다고 판단하였다.

7. 우리나라 헌법 기관 A~C에 대한 설명으로 옳은 것은?

헌법 기관	대통령 권한 행사에 대한 견제와 통제 방법
A	국정 감사와 국정 조사를 실시하여 정부를 감시
B	대통령령이 헌법이나 법률에 위반되는지 여부가 재판의 전제가 된 경우 이에 대한 위헌·위법 여부를 최종적으로 심사
C	대통령의 처분이 다른 국가 기관이나 지방 자치 단체의 권한을 침해하여 다툼이 있을 경우 권한 쟁의 심판을 담당

- ① 국무총리는 A의 의장이다.
- ② B는 정당의 목적이나 활동이 민주적 기본 질서에 위배된다는 이유로 정부가 제소할 정당 해산 심판을 담당한다.
- ③ C는 법관이 직무 집행에 있어 헌법이나 법률을 위반한 경우 해당 법관에 대한 탄핵 소추를 의결할 수 있다.
- ④ B는 위헌 법률 심판 제청을 통해 A를 견제할 수 있다.
- ⑤ C의 재판관 중 3인은 B의 장(長)이 임명한다.

8. 다음 자료에 나타난 법원의 판단으로 옳은 것은?

◇◇ 신문 2000년 00월 00일

갑은 길에서 버스를 기다리고 있었다. 이때 을이 갑으로부터 가방을 훔치기 위하여 갑의 가방을 잡아당겼다. 이를 저지하기 위하여 갑은 가방을 잡아당기는 을의 손을 뿌리쳐 을에게 3주간의 치료를 요하는 상처를 입혔다. 이에 대해 법원은 "갑의 행위는 을의 불법적인 공격 행위로부터 벗어나기 위한 본능적인 소극적 방어 행위에 지나지 아니하므로 사회 상규에 위반되지 아니한다."라고 판단하였다.

- ① 갑의 행위는 구성 요건에 해당하고 위법하다.
- ② 갑의 행위는 피해자의 승낙에 의한 행위에 해당한다.
- ③ 갑의 행위는 범죄의 성립 요건을 충족하지 않는다.
- ④ 을의 행위는 구성 요건에 해당하지 않는다.
- ⑤ 을의 행위는 정당방위에 해당한다.

9. 다음 자료에 대한 설명으로 옳은 것은? [3점]

우리나라 헌법의 기본 원리 (가)와 (나)의 비교

(가)	(나)
<b>■ 관련 헌법 내용</b> ○ _____ ㉠ _____ ○ 대한민국의 주권은 국민에게 있고, 모든 권력은 국민으로부터 나온다.	<b>■ 관련 헌법 내용</b> ○ 모든 국민은 인간다운 생활을 할 권리를 가진다. ○ 국가는 균형 있는 국민 경제의 성장 및 안정과 적정한 소득의 분배를 유지하고 ... (중략) ... 경제에 관한 규제와 조정을 할 수 있다.
<b>■ 실현 방안</b> ○ 보통 선거 실시를 통한 국민의 참정권 보장	<b>■ 실현 방안</b> ○ _____ ㉡ _____

- ① ㉠에 '대한민국은 민주 공화국이다.'가 들어갈 수 있다.
- ② ㉡에 '사유 재산의 절대적 보장'이 들어갈 수 있다.
- ③ (가)는 직접 민주제의 요소를 배제하고 국민이 선출한 대표에 의해 국가 의사를 결정해야 한다는 원리이다.
- ④ (나)는 국민 경제의 성장 및 안정을 위해 국가의 간섭이 최소화 되어야 한다는 원리이다.
- ⑤ (가), (나)는 모두 근대 입헌주의 헌법에서부터 강조되었다.

10. (가)에 들어갈 수 있는 내용으로 옳은 것은? [3점]

○○ 단체는 1인의 대표자를 선출하고자 합니다. 후보자는 갑~정이며, 유권자(A~K)의 후보자 선호 순위는 <자료 1>과 같습니다. 단, 유권자 1인은 1표를 행사하고 투표율은 100% 이고 무효표는 없으며, 전체 유권자는 항상 이 선호 순위에 따라 모든 투표에 참여한다고 가정합니다. 현행 제도에서는 유권자가 1순위 선호 후보자에게만 투표하여 최다 득표 후보자가 대표자로 선출되는데, <자료 2>의 1안 또는 2안으로 변경을 고려하고 있습니다. 이에 대해 분석해 볼까요?

(가)

<자료 1> <○○ 단체 유권자별 후보자 선호 순위>

유권자 \ 후보자	A	B	C	D	E	F	G	H	I	J	K
갑	1	1	1	1	2	2	4	4	4	3	4
을	2	2	2	3	1	1	1	3	3	2	2
병	4	3	3	2	3	4	2	1	1	4	3
정	3	4	4	4	4	3	3	2	2	1	1

\* 선호도가 가장 높은 후보자가 1순위, 선호도가 가장 낮은 후보자가 4순위임.

<자료 2>

1안: 유권자는 모든 후보자에 대한 선호 순위를 표시하여 투표하며, 선호 순위에 따른 합계 점수가 가장 높은 후보자가 대표자로 선출된다. 선호 순위별 점수는 1순위 4점, 2순위 3점, 3순위 2점, 4순위 1점을 부여한다.

2안: 유권자는 1순위 선호 후보자에게만 투표하며, 과반수를 획득한 후보자가 대표자로 선출된다. 과반 득표자가 없을 경우 득표수가 많은 상위 2인을 후보자로 하는 결선 투표를 진행한다. 결선 투표에서 유권자는 2인의 후보자 중 선호도가 높은 후보자에게 투표하며 과반수를 획득한 후보자가 대표자로 선출된다.

- ① 현행 제도에서는 사표가 발생하지 않습니다.
- ② 1안에서 선호 순위 합계 점수가 높은 후보자부터 나열하면 을, 갑, 정, 병입니다.
- ③ 현행 제도는 1안과 달리 한 번의 투표로 대표자를 선출합니다.
- ④ 현행 제도는 다수 대표제, 2안은 소수 대표제에 해당합니다.
- ⑤ 1안과 2안에서 선출되는 대표자는 동일합니다.

11. 다음 사례에 대한 법적 판단으로 옳은 것은? [3점]

갑, 을, 병은 모두 17세이며, 법정 대리인의 동의 없이 각각 다음의 계약을 체결하였다.

- 갑은 A(30세)에게서 고가의 자전거를 구입했는데, A는 갑이 미성년자임을 알고 있는 상태에서 거래했다.
- 을은 B(30세)에게서 고가의 노트북을 구입했는데, B는 을과 거래할 당시에는 을이 미성년자임을 몰랐으나 다음날 알게 되었다.
- 병은 C(30세)에게서 고가의 음향 장비를 구입했는데, 병은 법정 대리인의 동의서를 위조하여 제시하였고, C는 이것을 보고 병이 미성년자이지만 법정 대리인의 동의를 받은 것으로 생각했다.

- ① 갑은 법정 대리인을 통해서만 A와의 계약을 취소할 수 있다.
- ② A는 갑의 법정 대리인에게 계약 체결의 의사 표시를 철회할 수 있다.
- ③ B는 미성년자인 을에게 계약의 취소 여부를 확답해 줄 것을 촉구할 수 없다.
- ④ 병이 법정 대리인의 동의서를 위조한 속임수로 계약을 체결했으므로 병과 C의 계약은 무효이다.
- ⑤ 갑, 을, 병은 모두 자신의 계약을 취소할 수 없다.

12. 다음 사례에 대한 법적 판단으로 옳은 것은?

- 갑은 의류를 생산하여 판매하는 A 회사에서 바지를 21만 원에 구입하면서 3개월 할부로 결제하였다. 집에 돌아와 보니 바지 치수가 규격에 맞지 않아 갑은 A 회사에 환불을 요청하였으나 거부당하였다. 다음날 갑은 A 회사에 환불을 요청하는 내용 증명 우편을 발송하였다. 이후 민사 조정을 신청하였다.
- 을은 B 회사의 온라인 쇼핑몰에서 화장품을 5만 원에 구입하면서 일시불로 결제하였다. 수령한 화장품이 마음에 들지 않아 을은 제품을 개봉하지 않은 채 바로 B 회사에 환불을 요청하였다. B 회사는 해당 상품이 약관상 '환불 불가' 품목이라며 거부하였다. 을은 한국 소비자원에 피해 구제를 신청하였다.

- ① A 회사가 일정 기간 내에 내용 증명 우편에 기재된 내용에 대해 이의를 제기하지 않으면, 그 내용은 법적 사실로 확정된다.
- ② 제조물 책임법에 따라 손해 배상을 받으려면, 갑은 바지의 결함에 대해 A 회사의 과실을 증명해야 한다.
- ③ 갑은 을과 달리 할부로 결제했으므로 계약을 철회할 수 없다.
- ④ 을은 갑과 달리 한국 소비자원의 피해 구제 절차가 끝나야만 법원에 민사 조정을 신청할 수 있다.
- ⑤ 한국 소비자원이 B 회사에 합의를 권고하더라도 B 회사는 이를 거부할 수 있다.

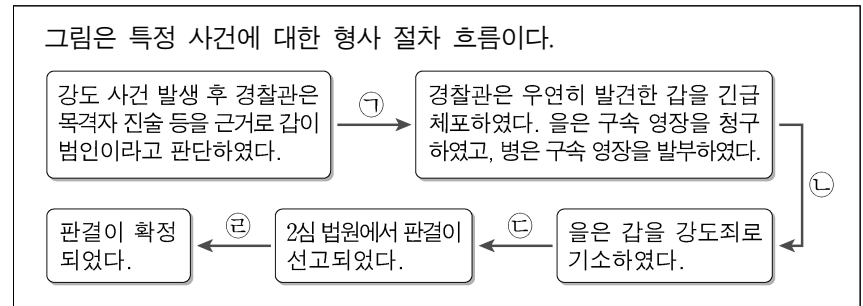
13. 다음 사례에 대한 법적 판단으로 옳은 것은? [3점]

2019년 3월 15일	갑은 자신이 소유한 ○○주택을 보증금 4억 원, 임대 기간 2년의 조건으로 을과 임대차 계약을 체결하였다.
2019년 4월 2일	을은 ○○주택으로 이사를 하면서 전입 신고를 하였다.
2019년 4월 16일	병은 갑으로부터 ○○주택을 매수하여 소유권 이전 등기를 마쳤다.
2019년 5월 2일	을은 확정 일자를 받았다.
2019년 5월 15일	병은 A 은행에서 ○○주택을 담보로 1억 원을 빌리고 저당권 설정 등기를 해 주었다.

\* ○○주택에 대한 다른 권리 관계는 없다.

- ① 을은 임대차 계약 당시 갑의 동의 없이 등기 사항 전부 증명서를 열람할 수 없다.
- ② 병은 소유권 이전 등기를 마친 후 바로 을에게 ○○주택의 인도를 청구할 수 있다.
- ③ 을이 받은 확정 일자는 등기 사항 전부 증명서의 갑구에 기재된다.
- ④ 병이 저당권을 설정하여 주었으므로 등기 사항 전부 증명서의 을구에 병은 저당권자, A 은행은 채권자로 기재된다.
- ⑤ ○○주택이 경매될 경우 을은 매각 대금에서 A 은행에 우선하여 보증금을 변제받을 수 있다.

[14~15] 다음 사례를 읽고 물음에 답하십시오.



14. ㉠~㉣에서 나타날 수 있는 형사 절차에 대한 설명으로 옳은 것은? [3점]

- ① ㉠에서 증거로 사용될 물건에 대하여 적법한 절차에 따른 압수가 가능하다.
- ② ㉡에서 갑에 대한 피고인 신문이 가능하다.
- ③ ㉢에서 1심 법원은 기소 유예 처분을 선고하였다.
- ④ ㉣에서 항소가 이루어졌다.
- ⑤ ㉣, ㉡에서 판사의 지휘로 형의 집행이 이루어졌다.

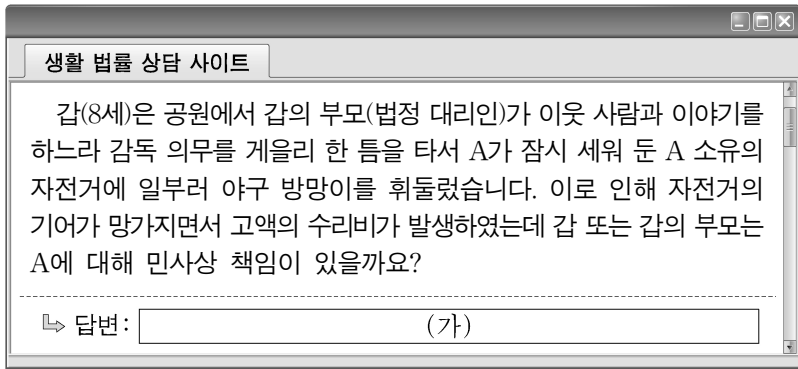
15. 위 사례에 대한 법적 판단으로 옳은 것은?

- ① 갑이 기소되더라도 갑에게 무죄 추정의 원칙이 적용된다.
- ② 갑은 병에 의해 구속 영장이 발부되기 전에는 변호인의 조력을 받을 수 없다.
- ③ 구속된 갑은 을에게 구속 적부 심사를 청구할 수 있다.
- ④ 을은 진범이 나타나 갑이 범인이 아니라고 판단하는 경우 갑에게 보석을 허가할 수 있다.
- ⑤ 갑에 대해 집행 유예 판결이 선고되어 확정되었다면 갑은 형사 보상을 청구할 수 있다.

# 4 (법과 정치)

# 사회탐구 영역

16. 그림의 (가)에 들어갈 법적 조언으로 옳은 것은? [3점]



- ① 갑에게 고의가 있으므로 갑은 특수 불법 행위 책임이 있습니다.
- ② 갑의 부모가 갑의 행위를 지시한 것이 아니므로 갑의 부모는 민사상 책임이 없습니다.
- ③ A가 자전거를 방치한 책임이 있기 때문에 갑의 부모는 불법 행위 책임이 없습니다.
- ④ 갑은 불법 행위 책임이 없지만 갑의 부모는 특수 불법 행위 책임이 있습니다.
- ⑤ 갑과 갑의 부모 모두에게 책임이 있으므로 갑과 갑의 부모는 연대하여 배상해야 합니다.

17. 다음 사례에 대한 법적 판단으로 옳은 것은?

갑과 을은 법률상 혼인 후 병을 입양하였다. 3년 후 갑과 을 사이에 정이 태어났다. 어느 날 갑은 심장마비로 사망하였다. 자신의 전 재산 21억 원을 A 재단에 기부한다는 갑의 유언장을 갑의 홀어머니 무가 발견하였는데, 법적으로 효력이 있는 유언장이었다. 갑은 사망 당시 채무가 전혀 없는 상태였다.

\* 사망자의 직계 비속과 배우자에게는 법정 상속분의 2분의 1, 사망자의 직계 존속과 형제자매에게는 법정 상속분의 3분의 1의 유류분이 보장됨.  
 \*\* 이 사례에서 유류분을 받을 수 있는 자는 자신에게 보장되는 유류분의 전액을 청구하는 것을 전제로 함.

- ① 갑의 사망으로 을과 병의 친자 관계는 종료된다.
- ② A 재단은 법정 상속인에 해당한다.
- ③ 을과 정은 법정 상속분은 동일하다.
- ④ 을은 병보다 적은 유류분액을 받게 된다.
- ⑤ 무는 유류분액을 받을 수 없다.

18. 국제 연합의 주요 기관 A~C에 대한 설명으로 옳은 것은? [3점]

- 15개 이사국으로 구성된 A는 자국민의 인권을 탄압하고 있는 갑국에 대해 만장일치로 경제적 제재를 결정하였다.
- 모든 회원국이 참여하는 B는 170개국의 찬성으로 을국 정부에 소수민족 탄압 정책을 중지하도록 촉구하는 결의안을 채택하였다.
- 15인의 재판관으로 구성된 C는 병국과 정국이 영토 분쟁을 겪고 있는 ○○ 지역에 대해 병국이 소유권을 가진다고 판결하였다.

- ① A의 모든 이사국은 거부권을 가진다.
- ② B는 의사 결정 과정에서 1국 1표의 원칙을 적용한다.
- ③ C는 국가 간, 국가와 개인 간 법적 분쟁을 다룬다.
- ④ C는 판결의 강제 이행을 위해 당사국을 직접 제재할 수 있다.
- ⑤ B는 A와 달리 C의 재판관 선출에 관한 권한을 가진다.

19. 밑줄 친 ㉠, ㉡에 대한 옳은 설명만을 <보기>에서 있는 대로 고른 것은?

우리나라에서는 국제적 합의 중 하나인 ㉠ 난민의 지위에 관한 협약이 1993년에 발효되어 이행되고 있다. 이후 난민 지위 및 처우 등에 관한 사항을 정하고자 ㉡ 난민법이 2012년에 국회에서 제정되어, 2013년부터 시행되고 있다.

<보 기>

- ㉠. 우리나라에서 ㉠에 대한 비준 권한은 대통령에게 있다.
- ㉡. ㉠은 ㉡과 달리 우리나라에서 헌법과 동등한 지위를 가진다.
- ㉢. ㉡은 ㉠과 달리 강제적으로 집행할 기관이 없다.
- ㉣. ㉠, ㉡은 모두 성문화된 형식으로 존재한다.

- ① ㉠, ㉡                      ② ㉠, ㉢                      ③ ㉡, ㉣
- ④ ㉠, ㉢, ㉣                ⑤ ㉡, ㉢, ㉣

20. 다음 자료에 대한 옳은 분석 및 추론만을 <보기>에서 있는 대로 고른 것은?

갑국의 정당 제도는 <방식 1>과 <방식 2>에 따라 양당제 또는 다당제로 판단할 수 있다.

<방식 1>  
 유효 정당 수로 정당 제도를 판단한다. 유효 정당은 의회의 총 의석수의 10% 이상을 가진 정당을 의미한다. 유효 정당 수가 2개이면 양당제, 3개 이상이면 다당제로 판단한다.

<방식 2>  
 유효 정당 지수로 정당 제도를 판단한다. 특정 국가의 유효 정당 지수가 1.5 이상 2.5 미만이면 양당제, 2.5 이상이면 다당제로 판단한다.

유효 정당 지수 =  $\frac{1}{\text{각 정당의 의석수를 제공한 값의 합}}$

\* 정당의 의석률 = 정당의 의석수 / 총 의석수

다음은 갑국의 의회 의원 선거 결과이다.

시기	정당별 의석수					총 의석수
	A당	B당	C당	D당	E당	
t	5	40	5	50	0	100
t+1	5	50	5	30	10	100

<보 기>

- ㉠. <방식 1>로 판단하면 t시기 정당 제도는 t+1 시기 정당 제도에 비해 정당 간 대립 시 중재가 용이하다.
- ㉡. <방식 2>를 적용하면 갑국의 유효 정당 지수는 t+1 시기가 t 시기에 비해 높다.
- ㉢. <방식 2>로 판단하면 t+1 시기 정당 제도는 t 시기 정당 제도에 비해 소수 의견 반영 가능성이 높다.
- ㉣. <방식 1>로 판단한 t시기 정당 제도와 <방식 2>로 판단한 t+1 시기 정당 제도는 동일하다.

- ① ㉠, ㉡                      ② ㉠, ㉢                      ③ ㉡, ㉣
- ④ ㉠, ㉢, ㉣                ⑤ ㉡, ㉢, ㉣

\* 확인 사항  
 ○ 답안지의 해당란에 필요한 내용을 정확히 기입(표기)했는지 확인 하시오.



제 4 교시

# 사회탐구 영역(법과 정치)

성명  수험 번호 ----- 제 [ ] 선택

1. 정치를 바라보는 갑, 을의 관점에 대한 설명으로 옳은 것은?

수업 자료    묻고 답하기    자유 게시판    법과 정치 E-class

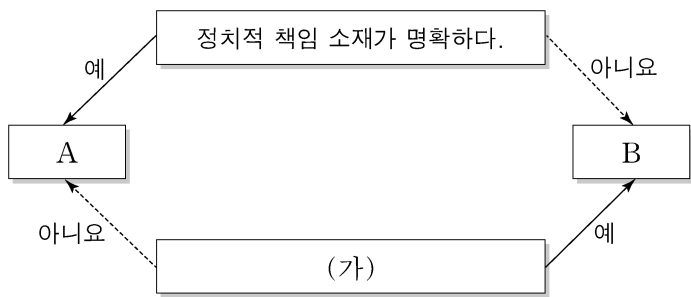
쓰레기 무단 투기와 불법 주정차로 불편함을 겪고 있는 ○○아파트에서는 최근 입주자 대표 회의를 통해 주거 환경 개선 방안을 마련하였습니다. 이러한 활동을 정치라고 볼 수 있을까요?

↳ 갑: 네, 정치라고 볼 수 있습니다. 정치는 모든 사회 집단에서 발생하는 이해관계의 대립을 조정하고 갈등을 해결하는 과정이기 때문입니다.

↳ 을: 제 생각은 다릅니다. 정치란 정치권력을 획득, 유지, 행사하는 국가 고유의 활동을 의미합니다. 따라서 정치라고 볼 수 없습니다.

- ① 갑의 관점은 국가 형성 이전의 정치 현상을 설명할 수 없다.
- ② 을의 관점은 시민 단체나 이익 집단 내에서 의사를 형성하는 것을 정치로 본다.
- ③ 갑의 관점에 비해 을의 관점은 다원화된 현대 사회의 정치 현상을 설명하기에 적합하다.
- ④ 을의 관점과 달리 갑의 관점은 소수의 통치 엘리트에 의해서만 정치 활동이 이루어진다고 본다.
- ⑤ 갑과 을의 관점 모두 대통령이 정책을 결정하는 것을 정치라고 본다.

2. 그림은 정당 제도 A와 B를 상대적 특성에 따라 분류한 것이다. 이에 대한 옳은 설명만을 <보기>에서 있는 대로 고른 것은? (단, A와 B는 각각 양당제와 다당제 중 하나이다.)



<보 기>

ㄱ. A보다 B에서는 다양한 민의를 국정에 반영하기가 용이하다.  
 ㄴ. B보다 A에서는 국가 정책을 강력하게 추진하기가 용이하다.  
 ㄷ. (가)에는 '의원 내각제에서 단독 정부가 구성된다.'가 들어갈 수 있다.  
 ㄹ. (가)에는 '민주주의의 원리에 부합하는 정당 제도이다.'가 들어갈 수 있다.

- ① ㄱ, ㄴ                      ② ㄱ, ㄷ                      ③ ㄷ, ㄹ
- ④ ㄱ, ㄴ, ㄹ                ⑤ ㄴ, ㄷ, ㄹ

3. 법치주의의 유형 A, B에 대한 옳은 설명만을 <보기>에서 고른 것은? [3점]

법치주의는 '사람의 지배'가 아닌 '법의 지배'를 의미한다. 그러나 A는 입법자에 의한 기본권 침해 가능성을 인식하지 못해 합법적 독재를 정당화하는 논리로 악용되었다. 이에 대한 반성으로 의회에서 적법한 절차를 거쳐 제정된 법률일지라도 그 내용과 목적이 인간의 존엄과 평등, 정의에 부합해야 한다는 B가 등장하였다.

<보 기>

ㄱ. A는 법률에 근거하지 않은 국가 권력 행사도 정당하다고 본다.  
 ㄴ. B는 통치 행위의 형식적 합법성과 함께 실질적 정당성도 강조한다.  
 ㄷ. B와 달리 A는 부당한 국가 권력에 대해 저항권을 행사할 수 있다고 본다.  
 ㄹ. A, B 모두 국민의 기본권을 제한할 때 법적 근거가 있어야 한다고 본다.

- ① ㄱ, ㄴ    ② ㄱ, ㄷ    ③ ㄴ, ㄷ    ④ ㄴ, ㄹ    ⑤ ㄷ, ㄹ

4. 갑국과 을국이 채택하고 있는 전형적인 정부 형태에 대한 설명으로 옳은 것은? [3점]

갑국의 정부 형태는 입법부와 행정부가 엄격히 분리된 형태로서, 입법부와 행정부가 별도의 선거를 통해 구성된다. 반면 을국의 정부 형태는 입법부와 행정부의 권력이 융합된 형태로서, 입법부에서 다수의 의석을 차지한 정당의 대표가 행정부 수반이 되어 내각을 구성한다.

- ① 갑국에서 행정부는 의회에 대해 정치적 책임을 진다.
- ② 을국에서 행정부는 의회를 해산할 수 있는 권한을 가진다.
- ③ 갑국과 달리 을국에서 행정부 수반과 국가 원수는 동일인이다.
- ④ 을국과 달리 갑국에서 행정부는 법률안 제출권을 가진다.
- ⑤ 갑국과 을국 모두에서 행정부 수반의 임기는 보장된다.

5. 국제 사회를 바라보는 관점 (가), (나)에 대한 설명으로 옳은 것은?

(가) 국제 사회는 무정부 상태이며, 자국의 안보를 위해서는 군사력을 강화하거나 동맹을 맺는 것이 필요하다.  
 (나) 국제 사회에는 보편적인 선(善)이 존재하며, 국제 사회의 문제들은 국제법이나 국제기구를 통해서 해결할 수 있다.

- ① (가)는 국가 간 권력 관계보다 상호 협력 관계를 중시한다.
- ② (가)는 국가 간 힘의 균형 상태에서 전쟁 발발 가능성이 높다고 본다.
- ③ (나)는 국제 사회는 힘의 논리보다 이성과 제도의 영향력이 크다고 본다.
- ④ (가)와 달리 (나)는 국제 사회에서 국가는 자국의 이익을 최우선으로 추구한다고 본다.
- ⑤ (나)와 달리 (가)는 국제 사회에서 국가보다 초국가적 행위 주체의 영향력이 강화되고 있다고 본다.

법과 정치

## 2 (법과 정치)

## 사회탐구 영역

6. 다음 자료에 대한 설명으로 옳은 것은? (단, A~C는 각각 고대 아테네 민주 정치, 근대 민주 정치, 현대 민주 정치 중 하나이다.) [3점]

아래 그림은 <질문 1>, <질문 2>에 대해 '예', '아니요' 중 같은 답을 할 수 있는 것끼리 점선으로 묶은 것이다.

<질문 1> 보통 선거 원칙이 확립되었는가?

<질문 2> 주권이 국민에게 있다는 원리를 기초로 하는가?

- ① A는 근대 시민 혁명을 통해 형성·발전되었다.
- ② B는 입헌주의 원리에 근거한 민주주의를 지향한다.
- ③ B에서는 C와 달리 대의 기구를 통해 국가 정책이 결정된다.
- ④ C는 A와 달리 치자(治者)와 피치자(被治者)의 동일성을 추구한다.
- ⑤ A에서는 B, C와 달리 모든 사회 구성원이 정치에 직접 참여할 수 있다.

7. 다음 자료에 대한 분석 및 추론으로 옳지 않은 것은? [3점]

전형적인 정부 형태를 지닌 갑국과 을국의 의회 전체 의석수는 각각 300석으로 지역 대표 200명과 비례 대표 100명으로 구성된다. 갑국과 을국 모두 하나의 선거구에서 선출되는 지역 대표의 수는 같고, 각 정당은 선거구별로 한 명의 후보자만 공천한다. 유권자는 지역 대표 선출을 위해 후보자에 1표를, 비례 대표 선출을 위해 정당에 1표를 행사한다.

- 갑국의 선거 제도는 병립형으로 각 정당이 얻은 지역 대표 의석수와 정당 득표율에 따라 배분된 비례 대표 의석수를 합쳐 정당별 총의석수가 확정된다.
- 을국의 선거 제도는 연동형으로 의회 전체 의석을 정당 득표율에 비례해 정당별 총의석으로 할당하고, 각 정당별 비례 대표 의석은 할당된 총의석수에서 지역 대표 의석수를 뺀 만큼 배정된다.

다음은 갑국과 을국의 최근 선거 결과이다.

<갑국의 최근 선거 결과>

구분	A당	B당	C당	D당
정당 득표율(%)	40	30	20	10
지역 대표 의석수(석)	120	50	20	10

<을국의 최근 선거 결과>

구분	가당	나당	다당	라당
정당 득표율(%)	40	30	20	10
지역 대표 의석수(석)	105	50	30	15

- ① 갑국에서 지역 대표를 선출하는 선거구 수는 200개이다.
- ② 을국이 대통령제 정부 형태라면 여소야대 정국이 형성된다.
- ③ 을국의 가당 비례 대표 의석수와 라당의 비례 대표 의석수는 같다.
- ④ 갑국의 최근 선거 결과에 을국의 선거 제도를 적용하면, B당의 비례 대표 의석수는 C당의 비례 대표 의석수보다 많다.
- ⑤ 을국의 최근 선거 결과에 갑국의 선거 제도를 적용하면, 나당, 다당, 라당과 달리 가당의 의회 의석률은 높아질 것이다.

8. 정치 참여 집단 A~C에 대한 설명으로 옳은 것은? (단, A~C는 각각 정당, 이익 집단, 시민 단체 중 하나이다.)

정치 참여 집단 A~C의 특성을 비교하면 A와 B는 '공익을 추구한다.'라는 공통점이, B와 C는 '정치적 책임을 지지 않는다.'라는 공통점이 있다.

- ① A는 정권 획득을 목표로 정치적 중립성을 추구한다.
- ② B는 정치 과정에서 산출 기능을 담당한다.
- ③ C는 정부와 의회를 매개한다.
- ④ B, C는 모두 대의제의 한계를 보완한다.
- ⑤ C와 달리 A, B는 정치 사회화 기능을 수행한다.

9. 다음 사례에 대한 옳은 분석만을 <보기>에서 고른 것은? [3점]

갑은 중과실에 의한 교통사고로 을에게 중상해를 입혔다. 을은 갑을 ○○법 위반죄로 고소하였으나, 검사는 △△특례법 조항에 따라 갑에 대하여 불기소 처분을 하였다. 이에 을은 해당 처분의 근거가 된 법률 조항이 평등권을 침해했을 뿐만 아니라 형사 재판 절차에서 자신의 피해에 대하여 의견 진술을 할 기회를 보장받을 수 있는 권리인 [A]도 침해하였다고 주장하면서 헌법 소원 심판을 청구하였다. 이에 대해 헌법 재판소는 △△특례법 조항은 중상해를 입은 피해자의 [A] 행사가 근본적으로 봉쇄됨으로써 교통사고의 신속한 처리 또는 전과자 양산 방지라는 입법 목적을 위하여 피해자의 사익이 현저히 경시된 것으로 법률 조항의 해당 부분이 헌법에 위반된다고 판단하였다.

<보 기>

- ㄱ. 을은 검사의 불기소 처분을 대상으로 하여 헌법 소원 심판을 청구하였다.
- ㄴ. 을이 헌법 소원 심판을 청구하기 위해서는 △△특례법 조항의 위헌 여부가 재판의 전제가 되어야 한다.
- ㄷ. A는 국민이 국가에 대하여 적극적으로 특정한 행위를 요구할 수 있는 수단적 성격의 기본권에 해당한다.
- ㄹ. 헌법 재판소는 입법 목적과 그 목적을 달성하기 위한 수단이 적정한 비례 관계를 유지하고 있지 않다고 판단하였다.

- ① ㄱ, ㄴ    ② ㄱ, ㄷ    ③ ㄴ, ㄷ    ④ ㄴ, ㄹ    ⑤ ㄷ, ㄹ

10. A의 일반적 특징에 대한 설명으로 옳은 것은?

교사: 국제법의 법원(法源) 중 A에 대해 발표해 볼까요?  
 갑: 국가 간 체결하는 법적 구속력을 지닌 명시적 합의입니다.  
 을: 우리나라에서는 헌법에 의하여 체결·공포되면 국내법과 같은 효력을 가집니다.  
 병: 문명국들이 공통적으로 승인하여 따르는 보편적 법 원칙입니다.  
 교사: 한 사람만 빼고 옳게 발표했네요.

- ① 국제기구는 A의 체결 주체가 될 수 있다.
- ② A는 국가를 초월한 입법 기관에 의해 제정된다.
- ③ 우리나라에서 A에 대한 체결·비준권은 국회에 있다.
- ④ A는 원칙적으로 국제 사회에서 포괄적 구속력을 가진다.
- ⑤ A의 예로는 신의 성실의 원칙과 국내 문제 불간섭의 원칙이 있다.

11. 다음 자료에 대한 법적 판단으로 옳은 것은?



우리 헌법은 직접 민주제 요소로 A만을 규정하고 있습니다. 그러나 A를 실시할 수 있는 경우가 제한되어 있어 제도의 실효성이 떨어진다는 비판이 제기됨에 따라 헌법 개정을 통해 또 다른 직접 민주제 요소인 B를 도입해야 한다는 주장이 있습니다. B가 실시되면 선출직 공직자는 일정한 절차에 따라 임기 내라도 해당 직을 상실할 수 있습니다.

- ① 국가 안위에 관한 중요 정책에 대해 A를 부의할 수 있는 권한은 대통령과 국회에 있다.
- ② 헌법 개정을 위한 A를 실시하기 위해서는 국회 재적 의원 3분의 2 이상의 발의가 요구된다.
- ③ B는 주권자인 국민이 자신이 선출한 대표에게 책임을 물을 수 있는 수단이 된다.
- ④ B가 도입될 경우 국회의원의 면책 특권을 제한하는 법률안을 국민이 직접 제안할 수 있다.
- ⑤ B가 도입될 경우 직무 집행에 있어서 헌법이나 법률을 위반한 공무원을 국민이 탄핵 소추할 수 있다.

12. 우리나라 헌법 기관 A~D에 대한 설명으로 옳은 것은?

우리 헌법은 입법 기관인 A에 의한 기본권 침해 예방 및 구제하기 위해 아래와 같은 제도적 장치를 마련하고 있다.

- 의결된 법률안이 헌법을 위반하거나 기본권을 침해할 우려가 있을 경우 B가 일정 기간 내 재의를 요구할 수 있다.
- 법률의 위헌 여부가 구체적 사건의 해결을 위한 선결 문제가 된 경우에 당해 사건을 담당하는 C의 제청으로 D가 해당 법률의 위헌 여부를 심판한다.

- ① A는 국가의 예산안을 심의·확정하고 결산을 검사한다.
- ② 행정부 내 최고 심의 기관의 모든 구성원은 A의 구성원 지위를 동시에 가질 수 있다.
- ③ B는 국가 원수의 지위에서 C와 D의 모든 구성원을 임명한다.
- ④ B는 사면, 감형 등을 명할 수 있는 권한을 행사하여 D를 견제할 수 있다.
- ⑤ A가 헌법상 입법 의무가 있는 사항에 관하여 입법을 하지 않아 기본권이 침해된 경우 A의 행위는 D의 심판 대상이 될 수 있다.

13. 다음 사례에 대한 옳은 법적 판단만을 <보기>에서 고른 것은?

고등학생 갑(16세)은 경연 대회에서 상품으로 받은 고가의 자전거를 같은 반 친구인 을(16세)에게 매도하였다. 을은 부모로부터 받은 용돈으로 매매 대금을 갑에게 지급하였다. 갑과 을은 서로의 나이를 알고 있었고, 매매 계약에 대해 법정 대리인인 부모의 동의를 얻지 않았다.

<보 기>

- ㄱ. 갑의 부모는 매매 계약을 취소할 수 없다.
- ㄴ. 을의 부모는 매매 계약을 취소할 수 없다.
- ㄷ. 을은 매매 계약 체결의 의사 표시를 철회할 수 없다.
- ㄹ. 갑이 을에게 자전거의 시가를 속여 매도하였다면 그 매매 계약은 무효이다.

- ① ㄱ, ㄴ    ② ㄱ, ㄷ    ③ ㄴ, ㄷ    ④ ㄴ, ㄹ    ⑤ ㄷ, ㄹ

14. 다음 사례에 대한 옳은 법적 판단만을 <보기>에서 고른 것은? [3점]

갑은 X 건물의 소유자인 A에게서 X 건물을 임차하여 음식점을 운영하고 있다. 음식점에 방문한 을은 종업원 병에게 음식을 주문하면서, 자신은 새우 알레르기가 있으니 새우를 빼고 요리를 해 달라고 부탁하였다. 그런데 이를 귀찮게 여긴 병은 을의 요구를 주방장에게 전달하지 않았고, 이에 새우가 들어간 음식을 먹게 된 을은 알레르기 반응에 의해 성대가 훼손되었다. 이 사고로 성악가의 꿈을 포기할 수밖에 없게 된 을은 자신의 처지를 비관하던 중, X 건물에 방화를 하였다. 그런데 X 건물의 화재경보기가 작동하지 않아 음식점 안에 있던 정이 중상을 입게 되었다.

<보 기>

- ㄱ. 갑과 병은 연대하여 을에게 채무 불이행 책임을 진다.
- ㄴ. 병이 을에게 불법 행위 책임을 지지 않는 경우, 갑은 특수 불법 행위 책임을 진다.
- ㄷ. 갑이 정에게 건물 점유자로서 특수 불법 행위 책임을 지는 경우, A는 특수 불법 행위 책임을 지지 않는다.
- ㄹ. 을이 A에게 건물에 대한 손해를 금전으로 모두 배상하였더라도, 정은 을에게 위자료를 청구할 수 있다.

- ① ㄱ, ㄴ    ② ㄱ, ㄷ    ③ ㄴ, ㄷ    ④ ㄴ, ㄹ    ⑤ ㄷ, ㄹ

15. 다음 사례에 대한 옳은 법적 판단만을 <보기>에서 고른 것은? [3점]

- 2018년 3월 5일 갑은 본인 소유의 X 주택을 보증금 4억 원에 을에게 임대하면서 임대차 기간을 1년으로 약정하였다. 2018년 3월 15일 을은 X 주택을 인도받아 살기 시작하였고 2018년 4월 16일에 전입신고를 하면서 임대차 계약서에 확정 일자를 받았다.
- 2018년 6월 16일 갑은 X 주택을 병에게 8억 원에 매도하면서 병이 갑에게 대금을 완납하면 X 주택이 병 소유가 되는 것으로 약정하였다. 2019년 5월 7일 병은 X 주택에 대한 소유권 이전 등기를 마쳤으나 갑에게 매매 대금 중 일부만을 지급하였다.
- 2019년 7월 9일 B에 의해 저당권이 실행되어 경매가 진행되었고 2019년 8월 19일 정에게 6억 원에 매각되었다.

다음은 경매 신청 당시의 X 주택의 등기 사항 전부 증명서의 일부이다.

【 등 기 】				
순위 번호	등기 목적	접수	등기 원인	권리자 및 기타 사항
1	저당권 설정	2018년 4월 16일 제○○○○호	2018년 4월 16일 설정 계약	채권액 금 3억 원 채무자 갑 (이하 생략) 저당권자 A (이하 생략)
2	저당권 설정	2018년 5월 9일 제○○○○호	2018년 5월 9일 설정 계약	채권액 금 1억 원 채무자 갑 (이하 생략) 저당권자 B (이하 생략)

<보 기>

- ㄱ. 2019년 5월 7일 병은 X 주택의 소유권을 취득한다.
- ㄴ. 2019년 7월 9일 병이 을에게 X 주택의 인도를 요구한 경우, 을은 임차권을 주장하여 병에게 대항할 수 있다.
- ㄷ. 을은 X 주택에 대한 매각 대금에서 A와 동순위로 보증금을 변제받을 수 있다.
- ㄹ. B는 X 주택에 대한 매각 대금에서 A보다 우선하여 변제받을 수 있다.

- ① ㄱ, ㄴ    ② ㄱ, ㄷ    ③ ㄴ, ㄷ    ④ ㄴ, ㄹ    ⑤ ㄷ, ㄹ



# 4 (법과 정치)

# 사회탐구 영역

16. 다음 자료에 대한 옳은 법적 판단만을 <보기>에서 고른 것은? [3점]

2014년 5월: 갑과 을은 이혼하면서 두 자녀 A(3세)와 B(13세) 모두에 대한 양육권은 갑이, 친권은 을이 가지기로 함.  
 2015년 1월: 갑은 병과 재혼함.  
 2016년 2월: 병은 A를 친양자로 입양함.  
 2019년 7월: 병이 갑을 상대로 법원에 재판상 이혼을 청구함. 병은 전 재산을 ○○대학에 기부한다는 유언장을 작성함.  
 2019년 8월: 병이 사망함.

<보 기>

- ㄱ. 병의 사망 당시 을은 A에 대한 면접 교섭권을 가지지 않는다.
- ㄴ. 병의 유언이 유효한 경우, 갑은 ○○대학을 상대로 유류분 반환을 청구할 수 없다.
- ㄷ. 18세가 된 B가 갑과 을의 동의를 얻어 혼인하면, B에 대한 을의 친권은 소멸된다.
- ㄹ. 을이 사망하면, A와 B가 을에 대한 법정 상속인이 된다.

- ① ㄱ, ㄴ    ② ㄱ, ㄷ    ③ ㄴ, ㄷ    ④ ㄴ, ㄹ    ⑤ ㄷ, ㄹ

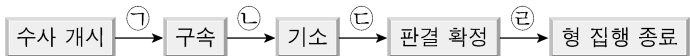
17. 다음 자료에 대한 법적 판단으로 옳은 것은?

범죄 성립 여부는 일반적으로 다음 세 가지 요소를 고려하여 결정된다. A, B는 행위를 판단 대상으로 삼는 데 반해 C는 행위자를 판단 대상으로 삼는다. A는 법률에서 범죄로 정해 놓은 일정한 행위로서 A에 해당하면 대개 B는 인정되지만, 법질서 전체의 관점에서 볼 때 부정적이라는 가치 판단이 불가능하다면 B가 인정되지 않을 수도 있다. 한편 C는 행위자에 대해 가해지는 비난 가능성을 의미한다.

- ① 경찰관이 적법한 절차에 따라 현행범을 체포하였다면, A에 해당하지 않아 범죄가 성립하지 않는다.
- ② B가 인정되지 않아 무죄 선고를 받은 자에게도 치료 감호 처분은 가능하다.
- ③ 저항할 수 없는 폭력에 의해 강요된 절도 행위를 하였다면, B가 인정되지 않아 범죄가 성립하지 않는다.
- ④ 심신 장애로 인하여 사물을 변별할 능력이 없는 자라도 방화를 하였다면, C가 인정되어 범죄가 성립한다.
- ⑤ 사회 상규에 위배되지 않는 행위를 하였다면, A에 해당하더라도 B가 인정되지 않아 범죄가 성립하지 않는다.

18. 다음 사례에 대한 법적 판단으로 옳은 것은? [3점]

갑은 을에게 상해를 가하였고 을의 고소로 인하여 아래와 같이 형사 절차가 진행되었다.



- ① ㉠ 단계에서 상해와 관련된 물건을 압수·수색하기 위해서는 경찰관의 신청에 의하여 검사가 발부한 영장을 제시하여야 한다.
- ② ㉡ 단계에서 갑은 영장 실질 심사를 통해 구속 상태에서 벗어날 수 있다.
- ③ ㉢ 단계에 이르러야 비로소 국선 변호인 선임이 가능하다.
- ④ ㉡ 단계와 ㉢ 단계에서 진술 거부권 고지 의무의 주체는 동일하지 않다.
- ⑤ ㉣ 단계에서 갑은 판사의 지휘에 의해 가석방될 수 있다.

19. 다음 사례에 대한 법적 판단으로 옳은 것은? [3점]

갑(15세)은 동생 을(9세)과 길을 건넌 중, 머리 위로 떨어지는 간판을 피하려다 같이 가던 병(18세)을 밀쳤고 그 결과 병에게 가벼운 상처를 입혔다. 그 사정을 몰랐던 병은 순간 화가 나 갑과 을을 폭행하였고 이로 인해 갑과 을에게 2주간 치료를 요하는 상해를 입혔다. 양갈음할 기회를 엿보고 있던 갑과 을은 병의 노트북을 훔쳐 사용하다가 정에게 팔아 버렸다. 며칠 후 정이 자신의 노트북을 사용하는 것을 우연히 본 병은 정에게 폭력을 행사하여 노트북을 되찾았다.

- ① 병에게 상처를 입힌 행위와 관련하여 갑과 달리 을에게는 선도 조건부 기소 유예 처분을 내릴 수 없다.
- ② 절도 행위와 관련하여 을과 달리 갑에게는 가정 법원 소년부에 의해 보호 처분이 부과될 수 있다.
- ③ 절도 행위를 이유로 갑이 기소되었다면, 형사 법원은 형벌 외에도 소년법상 보호 처분을 내릴 수 있다.
- ④ 갑과 을에 대해 상해 행위를 한 병에게 선도 조건부 기소 유예 처분이 내려졌다면, 불법 행위로 인한 민사상 책임은 면제된다.
- ⑤ 폭력을 행사하여 자신의 노트북을 되찾은 병의 행위는 정당 방위에 해당하여 범죄가 성립하지 않는다.

20. 다음 사례에 대한 법적 판단으로 옳은 것은?

갑은 쟁의 행위에 참가하였다는 이유로, 을은 근무 실적이 저조하다는 이유로 A 회사로부터 해고되었다.

↓ (가)

갑과 을은 각각 적법한 절차를 거쳐 ○○지방 노동 위원회에 A 회사의 해고에 대해 구제 신청을 하였는데, ○○지방 노동 위원회는 을의 구제 신청만을 기각하는 결정을 하였다.

↓ (나)

○○지방 노동 위원회의 구제 명령에 불복한 A 회사와 기각 결정에 불복한 을은 각각 적법한 절차를 거쳐 중앙 노동 위원회에 재심을 신청하였다.

↓ (다)

중앙 노동 위원회의 재심 판정에 대하여 갑과 A 회사는 각각 적법한 절차를 거쳐 행정 소송법이 정하는 바에 의하여 소를 제기하였다.

- ① (가)에서 A 회사의 노동조합은 갑과 을에 대한 해고에 대해 노동 위원회에 구제 신청을 할 수 있다.
- ② (가)에서 갑과 을은 ○○지방 노동 위원회에 A 회사의 해고로 인해 근로 3권이 침해되었다고 주장하였다.
- ③ (나)에서 을은 ○○지방 노동 위원회의 결정과 별도로 A 회사를 상대로 해고의 효력을 다투는 소를 제기할 수 있다.
- ④ (다)에서 중앙 노동 위원회는 갑과 달리 을에 대한 해고가 부당 해고에 해당하지 않는다고 판정하였다.
- ⑤ (다)에서 A 회사는 중앙 노동 위원회 위원장을 상대로 갑에 대한 해고의 무효를 확인하는 민사 소송을 제기할 수 있다.

\* 확인 사항

○ 답안지의 해당란에 필요한 내용을 정확히 기입(표기)했는지 확인 하시오.

제 4 교시

사회탐구 영역(법과 정치)

성명

수험 번호

제 [ ] 선택

1. 정치를 바라보는 관점 A, B에 대한 설명으로 옳은 것은?

A는 국가에 의한 사회 갈등 해결과 질서 유지 활동과 같이 권력을 독점한 국가의 활동만을 정치로 본다. 반면 B는 권력 현상은 국가뿐만 아니라 다양한 사회 집단에서도 나타날 수 있기 때문에 국가 이외의 집단이 갈등 해결을 위해 의사를 결정하는 활동도 정치로 본다.


- ① A는 국가 형성 이전의 정치 현상을 설명하기에 적합하다.
- ② B는 이익 집단 내 이해관계를 조정하는 활동을 정치로 보지 않는다.
- ③ A는 B와 달리 주민과 정부가 협력하여 지역 문제를 해결하는 것을 정치로 본다.
- ④ B는 A와 달리 국가의 권력 현상은 다른 사회 집단의 권력 현상과 본질적으로 다르다고 본다.
- ⑤ A와 B 모두 물리적 강제력을 독점한 통치 기구의 권력 활동을 정치로 본다.

2. 다음 자료에 대한 설명으로 옳은 것은? (단, A~C는 각각 고대 아테네 민주 정치, 근대 민주 정치, 현대 민주 정치 중 하나이다.) [3점]

A는 시민이 최고 의결 기구에서 국가의 의사를 직접 결정하는 민주주의 방식인 (가)를 시행하였지만, B와 C는 시민에 의해 선출된 대표로 구성된 기구가 대의 기능을 수행하는 민주주의 방식인 (나)를 채택하였다. A와 B에서는 사회 구성원 중 일부만 참정권을 행사할 수 있었고, 보통 선거 원칙은 C에서 확립되었다.

- ① (가)는 (나)보다 정치 공동체의 규모가 클수록 실현이 용이하다.
- ② (나)는 (가)보다 국민 자치의 원리에 충실하다.
- ③ A는 B보다 시민의 의사가 정책 결정에 정확하게 반영되지 않을 가능성이 크다.
- ④ B는 C와 달리 (나)의 한계를 보완하기 위해 (가)의 요소를 도입하였다.
- ⑤ C는 A와 달리 입헌주의 원리를 통해 기본권을 보장하고자 하였다.

3. 우리나라 헌법 기관 A~E에 대한 설명으로 옳은 것은? [3점]



간추린 뉴스입니다. 오늘 A의 주제로 열린 국무 회의에서 ○○ 법률 개정안 제출을 위한 심의를 하였습니다. 한편 B는 국무 위원 임명 제청권자인 C의 출석에 대한 협의와 함께 A 소속의 헌법 기관 D의 장(長)에 대한 임명 동의안을 처리할 예정입니다. 또한 E는 □□ 사건에 대한 상고심에서 원심을 확정하였습니다.

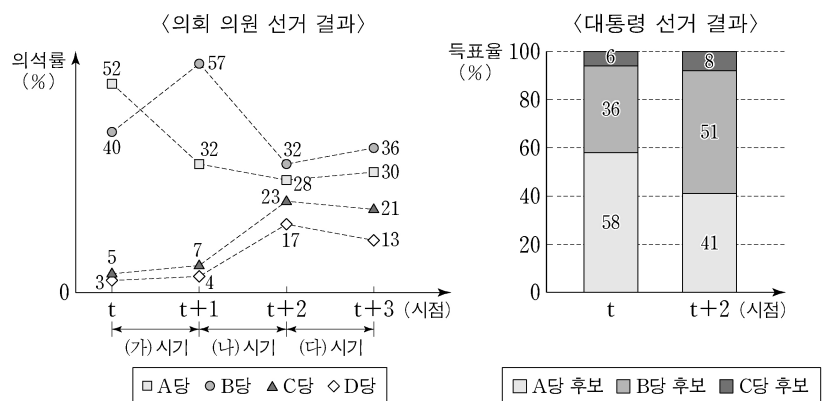
- ① A는 C와 달리 헌법상 임기가 보장된다.
- ② B는 예산안에 대한 심의·의결권을, D는 결산 심사권을 가진다.
- ③ C와 달리 E의 장(長)은 B의 동의를 얻어 A가 임명한다.
- ④ D는 국정을 감시·통제하는 국정 감사권을 통해 C를 견제한다.
- ⑤ E는 A와 B 상호 간의 권한 쟁의에 대한 심판권을 가진다.

4. 법치주의의 유형 A, B에 대한 설명으로 옳은 것은?

헌법은 국가 권력의 남용으로부터 국민의 기본권을 보호하려는 법치주의 실현을 기본 이념으로 하고 있다. 이러한 법치주의는 어떤 행위가 범죄이고 그 범죄에 대하여 어떤 처벌을 할 것인가는 미리 성문의 법률에 규정되어 있어야 한다는 원칙을 포함한다. A는 의회가 제정한 법률이라면 범죄와 형벌을 규정하는 근거가 된다고 본다. 하지만 합법적으로 제정된 법률이라도 인간의 존엄과 가치를 실질적으로 보장하지 못할 수 있다. 이에 따라 법률의 목적과 내용도 실질적 정의에 합치할 것을 고려하는 B는 법률이 정한 형벌이 행위의 무거움과 행위자의 책임에 비해 지나치게 가혹하지 않아야 할 것을 강하게 요구한다.

- ① A는 국가 권력의 자의적 형벌권 남용을 방지하기 위해 통치자도 법의 구속을 받도록 하는 근거가 된다.
- ② B는 법의 목적과 내용이 정의에 부합할 때 국가 권력이 정당성을 확보한다는 점을 간과한다.
- ③ A는 B와 달리 법의 예측 가능성을 높여 국가의 개입에 대한 국민의 신뢰를 보호하고자 한다.
- ④ B는 A와 달리 범죄와 형벌을 법률로 정해야 한다고 본다.
- ⑤ A와 B 모두 국민의 자유와 권리를 보장하는 것보다 통치의 합법성을 중시한다.

5. 다음 자료는 전형적인 대통령제를 채택하고 있는 갑국의 시기별 선거 결과이다. 이에 대한 옳은 추론만을 <보기>에서 있는 대로 고른 것은? [3점]



\* t 시점과 t+2 시점에는 대통령 선거와 의회 의원 선거가 동시에 실시되었으며, t+1 시점과 t+3 시점에는 의회 의원 선거만 실시되었다.

<보 기>

- ㄱ. 대통령이 자신의 정책을 가장 강력하게 추진할 수 있는 시기는 (가) 시기였을 것이다.
- ㄴ. (가) 시기에 비해 (나) 시기에 의회가 통과시킨 법률안에 대해 대통령이 거부권을 행사할 가능성이 낮을 것이다.
- ㄷ. (가) 시기에 비해 (다) 시기에 행정부와 의회 사이의 협조가 원활하게 이루어졌을 것이다.
- ㄹ. (나) 시기에 비해 (다) 시기에 C당이 B당을 견제하기 용이했을 것이다.

- ① ㄱ, ㄷ
- ② ㄱ, ㄹ
- ③ ㄴ, ㄷ
- ④ ㄱ, ㄴ, ㄹ
- ⑤ ㄴ, ㄷ, ㄹ



## 2 (법과 정치)

## 사회탐구 영역

6. 정치 참여 집단 A~C에 대한 설명으로 옳은 것은? (단, A~C는 각각 정당, 이익 집단, 시민 단체 중 하나에 해당하는 집단이다.)

A는 기자 회견을 열어 다가오는 의회 의원 선거에서 B가 공천하지 말아야 할 낙천 대상 명단을 발표했다. A는 낙천 대상자들이 △△ 지역에 휴양 시설을 조성하려는 □□ 기업을 위해 해당 지역을 개발 제한 구역에서 해제하는 데 찬성하였고, 결과적으로 지역의 자연환경과 생태계가 파괴되어 공익을 해쳤다고 주장했다. 한편 △△ 지역에서는 지역 소상공인들로 구성된 C가 집회를 열어 휴양 시설 조성은 지역 경제를 활성화하고 소득 증진에 기여할 수 있기 때문에 △△ 지역을 개발해야 한다고 주장했다.

- ① A는 정부와 의회를 매개하는 역할을 수행한다.
- ② B는 정권 획득을 목표로 정치적 중립성을 추구한다.
- ③ C의 활동은 사회 전체의 보편적 이익과 충돌할 수 있다.
- ④ B는 C와 달리 대의 정치의 한계를 보완하는 기능을 수행한다.
- ⑤ C는 A와 달리 정책 결정 및 집행 과정에 영향력을 행사한다.

7. 갑, 을의 주장에 대한 옳은 설명만을 <보기>에서 고른 것은? [3점]

사회자: 우리나라 정부 형태를 어떻게 바꾸어야 한다고 생각하십니까?  
 갑: 정부의 법률안 제출권을 폐지하는 한편, 국회 의원이 국무총리나 국무 위원을 겸직할 수 없도록 해야 합니다.  
 을: 대통령은 상징적인 지위를 갖고, 국회가 선출하는 국무총리가 국정에 관한 전반적인 권한과 책임을 행사하도록 해야 합니다.

—<보 기>—

ㄱ. 갑은 권력 분립의 원리가 엄격하게 구현되어야 한다고 본다.  
 ㄴ. 을은 행정부와 국회 간 더욱 긴밀한 협조가 필요하다고 본다.  
 ㄷ. 갑은 을과 달리 행정부가 국회에 정치적 책임을 져야 한다고 본다.  
 ㄹ. 을은 갑과 달리 국가 원수와 행정부의 수반이 일치되어야 한다고 본다.

- ① ㄱ, ㄴ    ② ㄱ, ㄷ    ③ ㄴ, ㄷ    ④ ㄴ, ㄹ    ⑤ ㄷ, ㄹ

8. 기본권 유형 A~D에 대한 설명으로 옳은 것은?

외국인에게 기본권을 인정해야 하는가의 문제는 기본권의 성질에 따라 결정하여야 한다. 기본권 중 행복 추구권은 인간이라면 누구나 누릴 수 있는 권리이므로 외국인에게도 인정된다. 한편 신체의 자유로 대표되는 A와 재판 청구권과 같은 B도 원칙적으로 외국인에게 인정되지만 일정한 경우에 제한될 수 있다. 그러나 교육을 받을 권리와 같은 C와 국민 투표권과 같은 D는 원칙적으로 외국인에게 인정되기 어려운 점이 있다.

- ① B는 C보다 우월한 가치가 있는 기본권이다.
- ② C는 A보다 최근에 등장한 현대적인 권리이다.
- ③ D는 A보다 수동적이고 방어적인 권리이다.
- ④ A와 C는 국가 성립 이전부터 인정되는 권리이다.
- ⑤ B와 D는 헌법에 열거되지 않아도 보장받을 수 있는 포괄적 권리이다.

9. 다음에서 공통으로 파악할 수 있는 우리나라 헌법의 기본 원리를 실현하는 방안으로 가장 적절한 것은? [3점]

- 국가는 여자와 연소자의 근로에 대해 특별한 보호를 위한 정책을 실시하여야 한다.
- 국가는 균형 있는 국민 경제의 성장 및 안정을 위하여 경제에 관한 규제와 조정을 할 수 있다.

- ① 영유아 보육을 위해 국가의 지원을 확대한다.
- ② 개발도상국가에 대한 대외 원조를 확대한다.
- ③ 문화재 관리를 위해 국가의 지원을 확대한다.
- ④ 투표율을 높이기 위해 사전 투표제를 확대한다.
- ⑤ 사생활과 관련된 개인 정보 보호 정책을 강화한다.

10. 다음 사례에 대한 법적 판단으로 옳지 않은 것은?

미결 수용자로 구치소에 있었던 갑은 구치소의 종교 행사에 참석하고 싶었으나 구치소장이 이를 금지하여 참석할 수 없었다. 갑은 종교의 자유 침해를 주장하면서 참석 불허 조치의 위헌 확인을 구하는 심판을 헌법 재판소에 청구하였다. 이에 대해 헌법 재판소는 이 조치는 시설의 안전과 질서 유지, 공범과 접촉 방지라는 목적을 달성하기 위한 적절한 방법이라고 할 수 있지만, 공범이 없는 경우는 물론이고 공범이 있더라도 다른 시간대에 각각 참석하도록 할 수 있으므로 필요 최소한의 조치였다고 보기 어렵다고 판단했다. 또한 이 조치로 얻어질 공익이 갑의 불이익보다 더 크다고 단정할 수 없다고 보아 인용 결정을 하였다.

- ① 갑은 권리 구제형 헌법 소원 심판을 청구하였다.
- ② 구치소장의 적극적인 공권력의 행사가 심판 대상이다.
- ③ 헌법 재판소는 구치소장의 종교 행사 참석 불허 조치는 적합한 수단이라고 판단하였다.
- ④ 헌법 재판소는 구치소장의 종교 행사 참석 불허 조치보다 침해가 작은 방법이 없었다고 판단하였다.
- ⑤ 위 결정에 대해 피청구인인 구치소장은 재항고할 수 없다.

11. 다음 사례에 대한 법적 판단으로 옳은 것은? [3점]

- 갑(17세)과 을(13세)은 골목을 지나가던 병(15세)을 폭행하였다. 병은 갑과 을의 폭행을 피하여 도망가다가 달리 피할 방도가 없어 음식점 출입문을 부수고 들어가서 숨게 되었다. 병은 갑과 을의 폭행으로 인하여 상해를 입었다.
- 정(25세)은 무(20세)에게 생명을 위협하는 폭력과 협박을 하여 무가 종업원으로 일하고 있는 가게의 금고 잠금장치를 해제하도록 강요하였다. 무는 생명의 위협을 느껴 금고의 잠금장치를 해제하여 정이 금고에 있는 돈을 가져갈 수 있도록 하였다.

- ① 갑은 을과 달리 선도 조건부 기소 유예 처분을 받을 수 있다.
- ② 을은 갑과 달리 가정 법원 소년부에 의해 보호 처분을 받을 수 없다.
- ③ 병의 행위는 위법성 조각 사유 중에서 자구 행위에 해당한다.
- ④ 정과 달리 갑의 행위는 범죄의 구성 요건에 해당하지 않는다.
- ⑤ 을의 행위는 위법성이 조각되고, 무의 행위는 책임이 조각된다.



12. (가)~(다) 사례에 대한 법적 판단으로 옳은 것은? [3점]

(가) 갑(38세)의 아들 을(8세)이 골목에서 자전거를 타고 놀다가 지나가던 아이(5세)를 치어 다치게 했다.  
 (나) 미술품 판매점을 운영하는 병은 A에게 유명 화가의 그림을 판매하면서 집에 배달해 주기로 하는 내용의 계약을 A와 체결하였다. 그런데 병의 직원이 배달 과정에서 실수로 그 그림을 B에게 떨어뜨려 B는 부상을 입고 그림은 찢어져 버렸다.  
 (다) 정 소유의 광고탑이 설치상의 하자로 인하여 무너져 지나가던 행인이 다쳤다. 그런데 광고탑은 무가 점유 및 관리 하던 것이었다.

- ① (가)에서 을은 책임 능력이 없어 손해 배상 책임을 지지 않으므로 갑이 무과실 책임을 진다.
- ② (나)에서 B는 병의 직원의 실수로 부상을 입은 것이므로 병이 B에 대하여 손해 배상 책임을 지는 경우는 없다.
- ③ (나)에서 병의 직원은 A에게 계약에 따른 채무를 불이행한 책임을 진다.
- ④ (다)에서 무는 손해의 방지에 필요한 주의를 다하였음을 증명 하더라도 손해 배상 책임을 진다.
- ⑤ (다)에서 무에게 손해 배상 책임이 인정되지 않는 경우 정은 무과실 책임을 진다.

13. 다음 자료에 대한 법적 판단으로 옳은 것은?

○ A는 B 소유의 X 주택을 2017년 4월 11일 B에게서 매수하기로 하는 계약을 체결하면서 계약금 4천만 원을 B에게 지급하였다. A는 원래 2017년 5월 11일 중도금 1억 6천만 원을 B에게 지급하기로 약속했었는데, 2017년 4월 21일 A는 B에게 지급한 계약금 4천만 원을 포기하고 X 주택 매매 계약을 해제하였다.  
 ○ 갑은 B 소유의 X 주택을 2018년 2월 13일 보증금 4억 원에 임차 하면서 임대차 기간을 2년으로 하는 주택 임대차 계약을 B와 체결 하였다. 갑은 2018년 3월 15일 X 주택으로 이사하면서 전입신고를 하고 같은 날 확정 일자를 받은 후 계속하여 거주하였다. 2019년 9월 3일 병이 적법한 저당권 실행으로 X 주택에 대해 경매를 신청하였고, X 주택은 2019년 10월 24일 정에게 6억 원에 매각되었다.  
 다음은 병의 경매 신청 당시 X 주택의 등기 사항 전부 증명서의 일부이다.

【을 구】 (소유권 이외의 권리에 관한 사항)

순위 번호	등기 목적	접수	등기 원인	권리자 및 기타 사항
1	저당권 설정	2017년 9월 7일 제○○○○호	2017년 9월 6일 설정 계약	채권액 금 200,000,000원 채무자 B(이하 생략) 저당권자 을(이하 생략)
2	저당권 설정	2018년 7월 5일 제○○○○호	2018년 7월 4일 설정 계약	채권액 금 500,000,000원 채무자 B(이하 생략) 저당권자 병(이하 생략)

- ① 계약금을 받은 B는 중도금을 지급받지 않은 상태라 하더라도 매매 계약을 해제할 권리가 없다.
- ② A가 만일 중도금을 지급했다더라도 계약금의 두 배를 지급하면 매매 계약을 해제할 권리가 있다.
- ③ 갑은 2018년 3월 15일부터 제3자에 대한 대항력을 가진다.
- ④ 갑은 X 주택의 매각 대금에서 을, 병 모두에 우선하여 보증금 전액을 변제받을 수 있다.
- ⑤ 을이 경매를 신청하지는 않았지만, 을은 X 주택의 매각 대금에서 채권액 전부를 변제받을 수 있다.

14. 밑줄 친 ㉠, ㉡에 대한 옳은 법적 판단만을 <보기>에서 있는 대로 고른 것은?

저는 A가 경영하는 회사에 근무 하면서 직장 동료의 권유로 노동 조합에 가입하였습니다. 그런데 ㉠ A는 제가 노동조합에 가입 하였다는 이유만으로 인사에 불이익을 주었습니다.

갑

저는 B가 경영하는 회사에 근무 하면서 연장 근로에 관한 근로 계약 내용 변경을 요구했습니다. 그로부터 6개월 후 ㉡ B로부터 정당한 이유 없이 구두로 해고를 당했습니다.

을

<보 기>

- ㄱ. 갑이 속한 노동조합은 ㉠을 이유로 노동 위원회에 구제 신청을 할 수 있다.
- ㄴ. 을은 ㉡을 이유로 해고의 효력을 다투는 소를 제기할 수 있다.
- ㄷ. 갑은 ㉠, 을은 ㉡에 대해 노동 위원회에 구제 신청을 할 수 있다.
- ㄹ. ㉠과 ㉡ 모두 근로자에 대한 부당 노동 행위에 해당한다.

- ① ㄱ, ㄷ
- ② ㄱ, ㄹ
- ③ ㄴ, ㄹ
- ④ ㄱ, ㄴ, ㄷ
- ⑤ ㄴ, ㄷ, ㄹ

15. (가) 사례를 (나)에 적용했을 경우에 대한 법적 판단으로 옳지 않은 것은? [3점]

(가) 홀어머니 A의 아들 갑은 을과 법률혼을 하여 B를 낳았다. 그 후 갑은 을과 이혼하고, B에 대한 친권과 양육권은 을이 갖기로 하였다. 2년 후, 갑은 병과 법률혼을 하면서 병과 전 배우자 사이에서 태어난 C를 친양자로 입양하기로 약속하였다. 1년 후 A와 갑, 병은 여행 중 사고를 당하여, A는 곧바로 사망하고 다음 날 갑과 병도 사망하였다. A와 병은 유언을 남기지 않았으나, '전 재산의 1/2을 ○○ 재단에 기부한다.'라는 갑의 유언장이 발견되었다. 사고 당시 A와 갑은 모두 채무가 없었고 A에게는 18억 원, 갑에게는 10억 원의 재산이 있었으며, 병은 재산과 채무가 모두 없었다.

(나)

질문	상황	
갑이 C를 친양자로 입양했는가?	㉠ 입양함.	㉡ 입양하지 않음.
갑의 유언장이 유효한가?	㉢ 유효함.	㉣ 유효하지 않음.
갑과 병 중 누가 먼저 사망했는가?	㉤ 갑이 먼저 사망함.	㉥ 병이 먼저 사망함.

- ① ㉠, ㉢, ㉥의 상황에서 B의 상속액은 최소가 된다.
- ② ㉠, ㉣, ㉥의 상황에서 C의 상속액은 최대가 된다.
- ③ ㉡, ㉣, ㉥의 상황과 ㉡, ㉣, ㉥의 상황에서 C는 갑의 재산을 상속받을 수 없다.
- ④ ㉠, ㉣, ㉥의 상황과 ㉠, ㉣, ㉥의 상황에서 B의 상속액은 C의 상속액보다 크다.
- ⑤ ㉡, ㉣, ㉥의 상황과 ㉡, ㉣, ㉥의 상황에서 C의 상속액은 B의 상속액의 1.5배가 된다.

# 4 (법과 정치)

# 사회탐구 영역

16. 다음 사례에 대한 법적 판단으로 옳은 것은? [3점]

갑(17세)은 전자 제품 매장에 들렀다가 고가의 스피커를 구매하는 계약을 을(30세)과 체결하였고, 집에 돌아오는 길에 자신의 용돈으로 저렴한 헤드폰을 구매하는 계약을 병(25세)과 체결하였다. 다음 날 갑은 고가의 전자 건반을 정(17세)과 체결하였다. 그런데 이 계약들은 모두 갑과 정 각각의 법정 대리인의 동의 없이 체결되었다.

- ① 갑의 법정 대리인이 스피커 매매 계약에 대해 동의한 적이 없으므로 을은 갑에게 확답을 촉구할 권리가 있다.
- ② 을이 스피커 매매 계약 당시에 갑의 나이를 알았다면 을은 자신의 의사 표시를 철회할 수 없다.
- ③ 헤드폰 매매 계약에 대해 갑은 취소할 수 없지만 병은 취소할 수 있다.
- ④ 갑은 전자 건반을 자신에게 이익이 되는 가격으로 구매하였으므로 전자 건반 매매 계약을 취소할 수 없다.
- ⑤ 갑과 정은 전자 건반 매매 계약을 취소할 수 없지만, 갑과 정 각각의 법정 대리인은 전자 건반 매매 계약을 취소할 수 있다.

17. 표는 국제 사회를 바라보는 관점을 파악하기 위한 질문과 답변이다. 현실주의와 자유주의 중 하나의 관점에서 일관되게 응답한 학생은?

(○: 예, ×: 아니오)

질문	학생				
	갑	을	병	정	무
국제 사회에서 국제법과 국제기구의 역할을 중시하는가?	○	×	×	○	○
국제 사회에서 힘의 논리보다 상호 협력을 강조하는가?	×	○	×	○	○
국제 사회에서 자국 이익의 배타적 추구를 중시하는가?	○	×	○	○	×
국제 사회에서 자국의 안보를 위해 동맹 및 군사력 강화를 강조하는가?	×	○	○	×	×
국제 사회에서 국가 간 힘의 균형을 통해 평화가 유지될 수 있다고 보는가?	○	×	○	×	○

- ① 갑      ② 을      ③ 병      ④ 정      ⑤ 무

18. 그림은 국제 연합의 주요 기관에 대한 대화이다. 이에 대한 설명으로 옳은 것은? [3점]



- ① A가 국제 사법 재판소라면 (가)에는 'A는 판결에 불복하는 당사국을 직접 제재할 수 없습니다.'가 들어갈 수 있다.
- ② A가 안전 보장 이사회라면 (가)에는 'A의 상임 이사국 중 한 국가라도 거부권을 행사하면 안전이 부결됩니다.'가 들어갈 수 있다.
- ③ 갑이 옳게 말한 학생이라면 (가)에는 'A는 국제 평화와 안전을 위해 평화 유지군을 파견할 수 있습니다.'가 들어갈 수 있다.
- ④ 을이 옳게 말한 학생이라면 (가)에는 'A는 국제 연합의 최고 의결 기관으로 주권 평등의 원칙이 적용됩니다.'가 들어갈 수 있다.
- ⑤ (가)에 'A는 국적이 모두 다른 15인의 재판관으로 구성됩니다.'가 들어간다면 옳게 말한 학생은 병이다.

19. 다음 사례에 대한 법적 판단으로 옳은 것은?

갑(40세)은 을(45세)을 폭행하여 경찰관에게 현행범으로 체포되었다. 갑은 영장에 의해 구속되어 수사를 받았으며, 병에 의하여 기소되었다. 기소 이후 을에 대한 갑의 폭행 사건 관련 공판이 진행되었다. 병은 갑에게 징역 2년을 구형하였으며, 갑은 징역 6월에 집행 유예 2년을 선고받고 석방되었다. 하지만 을은 갑에게 선고된 형이 낮다고 생각하였다.

- ① 구속된 갑은 영장 실질 심사를 통해 구속 상태에서 벗어날 수 있다.
- ② 병은 수사 과정에서 구속 적부 심사를 법원에 청구할 수 있다.
- ③ 기소 후 진행된 형사 재판의 당사자는 갑과 병이다.
- ④ 을은 갑의 선고 결과에 불복하여 상소할 수 있다.
- ⑤ 갑은 위의 판결이 확정되면 형사 보상을 청구할 수 있다.

20. 다음 자료에 대한 분석 및 추론으로 옳은 것은?

갑국 의회는 단순 다수 대표제로 선출된 지역구 의원 10명과 정당 투표 득표율에 따라 결정된 비례 대표 의원 3명으로 구성된다. 비례 대표 의석은 각 정당의 정당 투표 득표율에 비례 대표 의석수를 곱하여 산출된 수의 정수(整數)만큼 의석을 각 정당에 먼저 배분하고, 잔여 의석은 소수점 이하 수가 큰 순서대로 각 정당에 1석씩 배분한다. 표는 최근 갑국 의회 의원 선거 결과를 나타낸다.

<지역구 의원 선거 결과> (단위: %)

구분	A당	B당	C당	D당	E당
지역구 1	20	55	16	5	4
지역구 2	35	34	23	7	1
지역구 3	36	31	23	8	2
지역구 4	12	16	65	2	5
지역구 5	16	38	36	9	1
지역구 6	33	30	25	9	3
지역구 7	39	26	29	4	2
지역구 8	38	34	21	6	1
지역구 9	47	19	28	5	1
지역구 10	32	30	27	8	3

<정당 투표 결과> (단위: %)

구분	A당	B당	C당	D당	E당
득표율	38	27	26	7	2

갑국은 현재의 선거 제도가 (가) 라는 비판을 고려하여 다음과 같은 두 가지 선거 제도 개편 방안을 고려하고 있다.

- <1안> 현재의 의석 배분 방식을 유지한 채, 비례 대표 의석수를 지역구 의원 의석수와 동일한 10석으로 늘린다.
- <2안> 현재의 총의석수를 기준으로 비례 대표 의석 배분 방식에 따라 정당별 의석수를 먼저 할당한다. 각 정당별로 할당된 의석수에서 지역구 의원 의석수를 뺀 만큼 비례 대표 의석을 배정한다. 만일 어떤 정당의 지역구 의원 의석수가 할당된 의석수보다 더 많다면 초과 의석을 인정하지 비례 대표 의석은 배분되지 않는다. 초과 의석으로 인해 갑국의 의회 의원 정수(定數)는 늘어날 수 있다.

\* 선거 제도 개편 방안 검토 시 위의 표를 기준으로 하여 판단함.  
 \*\* 선거 제도의 비례성은 각 정당의 정당 투표 득표율과 의회 의석을 간 차이의 절댓값의 총합이 작을수록 높음.

- ① (가)에는 '의원의 지역 대표성이 취약하다.'가 들어갈 수 있다.
- ② <2안>을 적용했을 때 2개의 정당이 초과 의석을 받게 된다.
- ③ B당에게는 <1안>이 <2안>보다 유리하다.
- ④ <1안>과 <2안> 모두에서 C당은 의석률이 정당 투표 득표율보다 낮다.
- ⑤ 선거 제도의 비례성은 <1안>이 <2안>보다 높다.

\* 확인 사항  
 ○ 답안지의 해당란에 필요한 내용을 정확히 기입(표기)했는지 확인 하시오.

제 4 교시

사회탐구 영역 (정치와 법)

성명  수험 번호  -    제 [ ] 선택

1. 정치를 바라보는 갑~병의 관점에 대한 설명으로 옳은 것은?



- ① 갑의 관점은 국가 형성 이전에 나타난 정치 현상을 설명하기에 적합하지 않다.
- ② 을의 관점은 복잡하고 다원화된 현대 사회의 정치 현상을 설명하기에 적합하다.
- ③ (가)에 '갑의 관점에 동의합니다.'가 들어간다면 병은 소수 통치 엘리트에 의해서만 정치가 이루어진다고 볼 것이다.
- ④ (가)에 '을의 관점에 동의합니다.'가 들어간다면 병은 노동조합이 새로운 규정을 정하기 위해 회사 내에서 회의를 하는 것을 정치로 볼 것이다.
- ⑤ 갑, 을의 관점은 모두 국회 의원의 입법 활동과 대통령의 국무회의 주재를 정치라고 본다.

2. 다음 자료에 대한 설명으로 옳은 것은? (단, A와 B는 각각 전형적인 대통령제와 의원 내각제 중 하나이다.)

○ 학습 주제: 헌법에 나타난 우리나라 정부 형태의 특징

A의 요소가 나타난 우리나라 헌법 조항	B의 요소가 나타난 우리나라 헌법 조항
<ul style="list-style-type: none"> <li>• 제52조 국회 의원과 정부는 법률안을 제출할 수 있다.</li> <li>• _____ (가)</li> </ul>	<ul style="list-style-type: none"> <li>• 제53조 제2항 법률안에 이의가 있을 때에는 대통령은 제1항의 기간 내에 의서를 붙여 국회로 환부하고, 그 재의를 요구할 수 있다. ... (후략)...</li> <li>• _____ (나)</li> </ul>

- ① A에서 의회 의원은 각료를 겸직할 수 없다.
- ② B에서 행정부 수반은 의회 해산권을 가진다.
- ③ 우리나라에서 대통령이 국가 원수로서의 지위와 행정부 수반으로서의 지위를 동시에 가지는 것은 B의 요소에 해당한다.
- ④ '제67조 제1항 대통령은 국민의 보통·평등·직접·비밀 선거에 의하여 선출한다.'는 (가)에 들어갈 수 있다.
- ⑤ '제63조 제1항 국회는 국무총리 또는 국무위원의 해임을 대통령에게 건의할 수 있다.'는 (나)에 들어갈 수 있다.

3. 법치주의를 이해하는 갑, 을의 관점에 대한 옳은 설명만을 <보기>에서 고른 것은? [3점]

갑은 가혹한 법이라도 적법한 절차를 거쳐 제정되었다면 그 목적이나 내용에 상관없이 지켜져야 한다고 주장한다. 그러나 을은 법의 형식뿐만 아니라 목적과 내용 역시 강조하며 적법한 절차를 거쳤더라도 법은 정의에 합치해야 한다고 주장한다.

<보 기>

- ㄱ. 갑의 관점은 통치의 형식적 합법성뿐만 아니라 실질적 정당성도 중시한다.
- ㄴ. 갑의 관점은 을의 관점과 달리 독재 정치를 정당화하는 논리로 악용될 수 있다는 비판을 받는다.
- ㄷ. 을의 관점은 갑의 관점과 달리 위헌 법률 심사제가 필요 없다고 본다.
- ㄹ. 갑, 을의 관점은 모두 국가 권력 행사의 법적 근거를 중시한다.

- ① ㄱ, ㄴ    ② ㄱ, ㄷ    ③ ㄴ, ㄷ    ④ ㄴ, ㄹ    ⑤ ㄷ, ㄹ

4. 밑줄 친 ㉠~㉣에 대한 설명으로 옳은 것은?

정치 과정은 사회 구성원의 요구와 지지가 ㉠ 정책 결정 기구에 ㉡ 투입되어 정책으로 형성·조정·집행되는 ㉢ 산출의 과정을 거친다. 그러나 모두가 만족하는 정책의 산출은 현실적으로 어려우므로 ㉣ 환류 과정을 통해 기존의 정책이 수정·보완되거나 국민의 요구가 재투입되기도 한다.

- ① 입법부는 ㉠에 해당한다.
- ② 집단과 달리 개인은 ㉡에 참여할 수 없다.
- ③ 시민의 입법 청원 활동은 ㉢의 사례에 해당한다.
- ④ 언론은 ㉣에 참여할 수 없다.
- ⑤ ㉠~㉣은 모두 정치 외적 요소인 경제, 사회, 문화의 영향을 받지 않는다.

5. 밑줄 친 ㉠, ㉡에 대한 설명으로 옳은 것은? [3점]

○ ○○군 주민들은 재개발 과정에서 인허가와 관련된 비리를 저질렀다는 의혹을 받고 있는 ㉠ ○○군수를 임기 중에 주민의 투표에 의해 해임할 수 있는 절차를 밟고 있다.

○ □□시 의회는 △△당 의원이 발의한 시내버스 탑승 시 음식물 섭취를 금지하는 ㉡ 조례 제정을 하였다.

- ① ㉠은 주민 소환 제도에 해당한다.
- ② ㉠은 주민의 직접 참여를 제한한다.
- ③ ㉡은 주민 투표로 확정된다.
- ④ ㉡의 권한은 집행 기관이 독점적으로 가진다.
- ⑤ ㉠, ㉡은 모두 중앙 정부와의 수평적 권력 분립에 기여한다.



## 2 (정치와 법)

## 사회탐구 영역

6. 다음 법률 조항에서 공통적으로 강조되는 우리나라 헌법의 기본 원리에 대한 설명으로 옳은 것은?

- 기초연금법 제1조  
이 법은 노인에게 기초연금을 지급하여 안정적인 소득기반을 제공함으로써 노인의 생활안정을 지원하고 복지를 증진함을 목적으로 한다.
- 아동수당법 제1조  
이 법은 아동에게 아동수당을 지급하여 아동 양육에 따른 경제적 부담을 경감하고 건강한 성장 환경을 조성함으로써 아동의 기본적 권리와 복지를 증진함을 목적으로 한다.

- ① 국가의 의사를 결정할 수 있는 최고 권력인 주권이 국민에게 있다는 원리이다.
- ② 국가가 국민의 인간다운 생활을 보장하기 위하여 적극적인 역할을 해야 한다는 원리이다.
- ③ 국가가 국제 질서를 존중하고 세계 평화와 인류의 번영을 위해 노력해야 한다는 원리이다.
- ④ 국가가 문화를 보호하고 문화 활동의 자유를 보장하여 문화를 발전시켜야 한다는 원리이다.
- ⑤ 국가는 개인의 자유를 존중해야 하며 국민의 동의와 지지를 바탕으로 국가 권력을 행사해야 한다는 원리이다.

7. 기본권 유형 A~C의 특징에 대한 설명으로 옳은 것은? (단, A~C는 각각 자유권, 청구권, 사회권 중 하나이다.) [3점]

- 갑은 자신이 살고 있는 주택 앞 아파트 신축으로 인해 일조량이 감소되었고, 더 이상 쾌적한 환경에서 살지 못하게 되어 A를 침해당했다.
- 을은 자신을 원고로 하여 소장을 제출하였으나 담당 공무원의 실수로 재판을 받을 수 없게 되어 B를 침해당했다.
- 병은 수사 기관에 의해 불법 체포되어 C를 침해당했다.

- ① A의 예로 교육을 받을 권리를 들 수 있다.
- ② B는 모든 개별적인 기본권의 내용을 담은 포괄적인 권리이다.
- ③ C는 기본권 중 가장 최근에 등장한 현대적 권리이다.
- ④ A는 C와 달리 소극적·방어적 성격의 권리이다.
- ⑤ C는 B와 달리 기본권 보장을 위한 수단적 성격의 권리이다.

8. 다음 자료는 우리나라 국회의 활동을 나타낸 것이다. 밑줄 친 ㉠~㉣에 대한 설명으로 옳은 것은?

- 국무총리 후보자 □□□의 ㉠ 임명 동의안 의결
- ◇◇사건의 진상 규명을 위한 ㉡ 국정 조사 실시
- 대통령이 ㉢ 재의 요구한 △△법 ㉣ 개정안 재의결

- ① ㉠은 감사원장 임명 시에도 실시된다.
- ② ㉡은 입법부가 정기적으로 실시하는 행정부 견제 수단이다.
- ③ 대통령은 헌법 개정안에 대해서 ㉢을 할 수 있다.
- ④ △△법 개정안은 ㉣ 이후 국민 투표로 확정된다.
- ⑤ ㉣은 ㉡과 달리 국회의 입법 권한에 해당한다.

9. 우리나라 국가 기관 A~C에 대한 설명으로 옳은 것은? [3점]

절도죄 혐의로 공소 제기되어 징역 10월을 선고받은 갑은 항소하였고, 항소 법원인 A는 갑에게 형 감경 사유가 있다는 이유로 징역 8월을 선고하였다. 이후 상고한 갑은 상고심 계속 중 사건에 적용된 법률 조항에 대해 위헌 법률 심판 제청 신청을 하였으나 B는 이를 기각하였다. 이에 갑은 해당 법률 조항에 대해 C에 헌법 소원 심판을 청구하였다.

- ① A가 '지방 법원 합의부'라면 B는 '고등 법원'이다.
- ② B는 국회 의원 선거의 효력을 다투는 소송의 재판권을 가진다.
- ③ B의 장(長)은 C의 재판관 3인을 임명한다.
- ④ B는 직권으로 C에 헌법 소원 심판을 청구할 수 있다.
- ⑤ C는 A의 법관을 탄핵 소추할 수 있다.

10. 정치 참여 집단 A~C에 대한 옳은 설명만을 <보기>에서 고른 것은? (단, A~C는 각각 시민 단체, 이익 집단, 정당 중 하나에 해당하는 집단이다.)

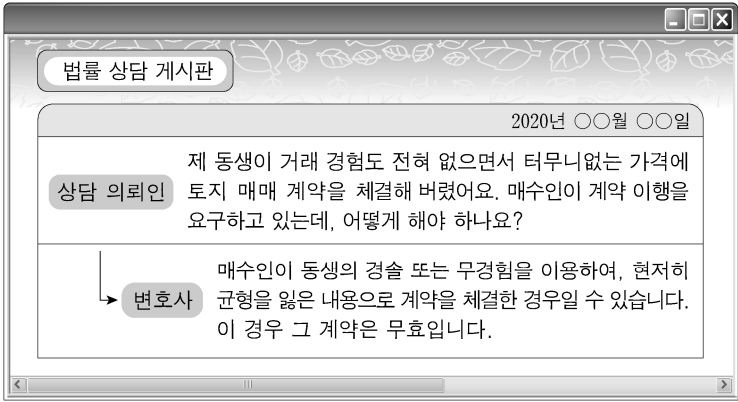
최근 A와 B는 C가 주최한 방송 관련 공청회에 참석하여 각자의 주장을 내세웠다. 먼저 A는 국민의 알 권리 보장과 공익적 보도의 강화를 주장하며 방송의 공공성을 옹호했다. 이에 대해 방송 업계 소속 회원들로 구성된 B는 방송 업계 수익 증대를 위해 보도 시간 축소와 광고 시간 확대를 역설했다. C는 이들의 대립적 주장을 검토하여 다가올 선거에서 유권자의 지지를 극대화할 수 있는 공약을 수립하기 위해 고심 중이다.

<보 기>

- ㄱ. A는 B와 달리 정부 정책을 비판하고 감시하는 기능을 수행한다.
- ㄴ. C는 A와 달리 정권 획득을 목표로 한다.
- ㄷ. A, B는 모두 대의 정치의 한계를 보완한다.
- ㄹ. C는 A, B와 달리 정치 사회화 기능을 수행한다.

- ① ㄱ, ㄴ    ② ㄱ, ㄷ    ③ ㄴ, ㄷ    ④ ㄴ, ㄹ    ⑤ ㄷ, ㄹ

11. 변호사의 조언에 나타난 민법의 기본 원리에 대한 설명으로 가장 적절한 것은?



- ① 국가는 개인 소유의 재산에 함부로 간섭하지 못한다.
- ② 개인은 각자의 자율적인 판단에 기초하여 법률관계를 형성할 수 있다.
- ③ 개인의 소유권 행사가 공공의 이익을 침해한다면 경우에 따라 제한될 수 있다.
- ④ 계약의 내용이 사회 질서에 반하거나 공정하지 못한 경우에는 법적 효력이 발생하지 않는다.
- ⑤ 타인의 손해에 대하여 직접적인 고의나 과실이 없더라도 일정한 요건에 따라 법적 책임을 질 수 있다.

12. 다음 사례에 대한 법적 판단으로 옳은 것은? [3점]

갑(18세)은 평소 갖고 싶었던 고가의 컴퓨터를 매수하는 계약을 법정 대리인 을의 동의 없이 병(28세)과 체결하였다. 이후 갑은 집으로 돌아오는 길에 정이 운영하는 서점에서 자신의 용돈으로 시집을 샀다.

- ① 갑은 을의 동의를 얻어야 병과의 계약을 취소할 수 있다.
- ② 을은 갑의 동의가 없어도 병과의 계약을 취소할 수 있다.
- ③ 병은 미성년자인 갑에게 계약을 취소할 것인지에 대한 확인을 요구할 수 있다.
- ④ 갑이 을의 동의서를 위조하는 속임수로 병과의 계약을 체결하였다더라도 갑은 그 계약을 취소할 수 있다.
- ⑤ 갑이 병과의 계약 당시 법률상 혼인한 상태라면 을은 그 계약을 취소할 수 없다.

13. 다음 사례에 대한 법적 판단으로 옳은 것은?

A(남)와 B(여)는 법률상 혼인하였고 그 사이에는 혼인 중의 출생자 갑과 을이 있다. A와 B는 이혼하면서 갑은 A가, 을은 B가 양육하기로 정하였다. 한편 C는 B와 혼인 신고 후, 을을 친양자로 입양하였다. 그 후 D는 A와 혼인 신고 없이 결혼식만 올리고, 갑을 친양자가 아닌 양자로 입양하였다.

- ① A와 D 사이에서 병이 태어났다면 병은 혼인 중의 출생자이다.
- ② A가 유언 없이 사망하였다면 을은 A의 재산을 상속받을 수 있다.
- ③ B가 유언 없이 사망하였다면 갑은 B의 재산을 상속받을 수 없다.
- ④ D가 유언 없이 사망하였다면 갑은 D의 재산을 상속받을 수 있다.
- ⑤ 갑은 D의 성과 본을 따를 수 있으나, 을은 C의 성과 본을 따를 수 없다.

14. (가) 사례를 (나)에 적용했을 경우에 대한 옳은 법적 판단만을 <보기>에서 있는 대로 고른 것은? [3점]

(가) 갑은 자전거를 타고 가다가 부주의로 보행자 을을 다치게 하였다.

(나)

질문	사고 당시 상황	
갑의 나이는?	㉠ 19세 이상	㉡ 19세 미만
갑의 책임 능력이 인정되는가?	㉢ 인정됨	㉣ 인정되지 않음
갑이 을을 다치게 한 때는?	㉤ 병이 운영하는 치킨 가게의 종업원으로 자전거를 타고 치킨 배달을 하던 중	㉥ 휴일에 공원에서 자전거를 타고 놀던 중

<보 기>

㉠. ㉠, ㉢, ㉤의 상황에서 병이 사용자 배상 책임을 지는 경우, 갑의 을에 대한 일반 불법 행위는 성립하지 않는다.

㉡. ㉠, ㉢, ㉤의 상황에서 갑은 을에 대한 손해 배상 책임을 지지 않는다.

㉢. ㉡, ㉣, ㉥의 상황에서 갑의 법정 대리인 정은 을에 대한 특수 불법 행위 책임을 지지 않는다.

㉣. ㉡, ㉢, ㉥의 상황에서 갑의 법정 대리인 정이 갑에 대한 감독 의무를 게을리하지 않았다면, 을에 대해서 갑, 정은 모두 손해 배상 책임을 지지 않는다.

- ① ㉠, ㉢                      ② ㉠, ㉣                      ③ ㉡, ㉢
- ④ ㉠, ㉡, ㉣                ⑤ ㉡, ㉢, ㉣

15. 다음 사례에 대한 옳은 법적 판단만을 <보기>에서 고른 것은? [3점]

○○ 기업에서 근무하던 갑은 특별 감사에서 지적을 받았다는 이유로 을(○○ 기업 사장)로부터 해고를 통보받았다. 이에 갑은 해고 사유가 부당할 뿐만 아니라 노동조합 간부인 자신을 해고하여 노동조합을 무력화시키려 한다는 이유로 △△ 지방 노동 위원회에 구제 신청을 하였다. △△ 지방 노동 위원회는 갑의 비위 행위에 비해 징계의 정도가 과하여 갑의 해고는 부당 해고임을 인정하였으나, 부당 노동 행위는 아니라고 판정하였다. 이에 불복한 갑과 을은 각각 중앙 노동 위원회에 재심을 청구하였다. 이에 중앙 노동 위원회는 갑의 재심 청구를 인용하고, 을의 재심 청구는 기각하였다.

<보 기>

㉠. 갑과 달리 갑이 소속된 노동조합은 부당 노동 행위를 이유로 노동 위원회에 구제 신청을 할 수 없다.

㉡. 갑은 △△ 지방 노동 위원회에 구제 신청을 하는 것과 별도로 법원에 해고 무효 확인 소송을 제기할 수 있다.

㉢. 을의 부당 노동 행위 여부에 대해 △△ 지방 노동 위원회와 중앙 노동 위원회는 동일한 판정을 하였다.

㉣. 을은 중앙 노동 위원회의 판정에 불복하여 중앙 노동 위원회 위원장을 상대로 행정 소송을 제기할 수 있다.

- ① ㉠, ㉡                      ② ㉠, ㉢                      ③ ㉡, ㉢                      ④ ㉡, ㉣                      ⑤ ㉢, ㉣

# 4 (정치와 법)

# 사회탐구 영역

16. 밑줄 친 ㉠~㉣에 대한 설명으로 옳은 것은? [3점]

갑은 을의 사기 범죄 사실에 대해 경찰에 ㉠ 고소장을 제출하였고 이에 따라 을에 대한 수사가 개시되었다. 경찰은 을에 대한 ㉡ 체포를 통해 신병을 확보하여 ㉢ 피의자 신문을 하고 ㉣ 구속 영장을 발부 받아 구속하였다. 을은 수사 진행 과정에서 구속 절차의 적정성을 이유로 석방을 요구하였고 ㉤ 법원의 심사 중에 있다.

- ① ㉠은 범죄 피해자와 관련자를 제외한 제3자가 수사 기관에 수사를 요청하기 위해 제출하는 문서이다.
- ② 수사 기관이 ㉡을 하기 위해서는 법원이 사전에 발부한 영장에 예외 없이 필요로 한다.
- ③ 을은 ㉢을 받음에 있어 진술을 거부할 수 있으나 변호인의 조력을 받을 수는 없다.
- ④ 수사 기관이 ㉣을 신청하면 법원은 별도의 피의자 신문 절차 없이 형식 심사만을 통해 발부 여부를 결정한다.
- ⑤ ㉤을 통해 구속의 필요성이 없다고 판단될 경우 을은 석방된다.

17. 다음 글에서 도출할 수 있는 죄형 법정주의의 구체적인 원칙에 대한 설명으로 가장 적절한 것은? [3점]

법정형의 종류와 범위를 정하는 것이 기본적으로 입법자의 권한에 속하는 것이라고 하더라도, 형벌은 죄질과 책임에 상응하도록 적절한 비례성이 지켜져야 한다. 그러나 ○○ 법률 조항은 범죄의 중대성 정도에 비하여 과중한 형벌을 규정함으로써 죄질과 그에 따른 행위자의 책임 사이에 비례 관계가 준수되지 않아 인간의 존엄과 가치를 존중하고 보호하려는 법치 국가의 이념에 어긋나고, 형벌 체계상 정당성을 상실한 것이다.

- ① 범죄와 형벌은 관습법에 의해 규정할 수 없다.
- ② 범죄의 성립과 그 처벌은 행위 당시의 법률에 의해야 한다.
- ③ 범죄와 형벌이 법률에 구체적이고 명확하게 규정되어야 한다.
- ④ 범죄 행위의 경중과 행위자가 부담해야 할 형벌의 정도는 서로 균형을 이루어야 한다.
- ⑤ 법률에 규정이 없는 사항에 대해서 그것과 유사한 성질을 가지는 사항에 관한 법률을 적용하여 처벌해서는 안 된다.

18. 밑줄 친 ㉠, ㉡에 대한 설명으로 옳은 것은?

◇◇ 신문 ○○○○년 ○○월 ○○일

사증(비자) 없이 입국할 수 있는 외국인이 사전에 전자 여행 허가를 받을 수 있도록 하는 ㉠ 출입국 관리법 일부 개정안이 국회 본회의를 통과했다. 전자 여행 허가를 받을 수 있는 대상은 우리나라와 ㉡ 사증 면제 협정을 체결한 국가의 국민으로서 그 협정에 따라 면제 대상이 되는 사람, 다른 법률에 따라 사증 없이 입국할 수 있는 외국인 등이다.

- ① ㉠은 강제적으로 집행할 기관이 없다.
- ② 국제 사회에서 ㉠은 포괄적 구속력을 가진다.
- ③ 우리나라에서 ㉡에 대한 체결권은 대통령이 가진다.
- ④ 우리나라에서 ㉡은 헌법과 동등한 지위와 효력을 가진다.
- ⑤ ㉠, ㉡은 모두 성문화된 형식을 갖추지 않아도 된다.

19. 국제 연합의 주요 기관 A, B에 대한 설명으로 옳지 않은 것은?

- A는 국제 평화와 안전 유지의 목적을 수행하는 기관으로 5개의 상임 이사국과 10개의 비상임 이사국으로 구성된다.
- B는 국가 간 분쟁을 사법적으로 해결하기 위한 기관으로 15명의 재판관으로 구성된다.

- ① A는 안전 보장 이사회이다.
- ② B는 국제 사법 재판소이다.
- ③ B는 국적이 모두 다른 재판관으로 구성된다.
- ④ B는 국가 간뿐만 아니라 국가와 개인 간 법적 분쟁도 다룬다.
- ⑤ A는 B의 판결을 이행하지 않는 당사국에게 적절한 조치를 취할 수 있다.

20. 다음 자료에 대한 옳은 분석만을 <보기>에서 있는 대로 고른 것은? [3점]

갑국의 의회는 지역구 의원 선거에서 선출된 200명과 비례 대표 의원 선거에서 선출된 100명으로 구성된다. 지역구 의원 선거의 대표 결정 방식은 1인을 선출하는 단순 다수 대표제이며, 비례 대표 의원 선거에서는 전국을 하나의 선거구로 하여, 정당 명부식 비례 대표제로 당선자를 결정한다. 유권자 1인은 지역구 의원 선거와 비례 대표 의원 선거에 각 1표씩 2표를 행사한다. 갑국에서는 의회 의원 선거 직후 의회 과반수를 확보한 단독 정당이 행정부 수반을 배출한다. 단독 과반수 정당이 없는 경우 복수의 정당이 연합하여 행정부 수반을 배출한다. 아래 표는 최근 실시된 갑국의 의회 의원 선거 결과이다.

<지역구 의원 선거>			<비례 대표 의원 선거>		
구분	득표율(%)	의석률(%)	구분	득표율(%)	의석률(%)
A당	50	45	A당	33	33
B당	15	20	B당	26	26
C당	25	20	C당	35	35
D당	10	15	D당	6	6

\* 정당은 A~D당만 존재하고 무소속 출마자는 없으며, 각 선거의 투표율은 100%, 무효표는 없다.  
\*\* 지역구 의원 선거의 득표율은 각 정당이 전국 모든 지역구 선거구에서 얻은 표를 총투표자 수 대비로 구한 비율이다.

<보 기>

- ㄱ. 지역구 의원 선거에서 득표율 20% 미만인 정당은 과대 대표 되었다.
- ㄴ. 행정부 수반을 배출하는 정당의 연합에는 A당이 반드시 포함 된다.
- ㄷ. 지역구 의원 선거 득표율과 총의석률의 격차가 가장 작은 정당은 C당이다.
- ㄹ. A당과 D당의 총의석률의 합은 B당과 C당의 총의석률의 합보다 크다.

- ① ㄱ, ㄷ                      ② ㄴ, ㄷ                      ③ ㄴ, ㄹ
- ④ ㄱ, ㄴ, ㄹ                ⑤ ㄱ, ㄷ, ㄹ

\* 확인 사항  
○ 답안지의 해당란에 필요한 내용을 정확히 기입(표기)했는지 확인 하시오.



제 4 교시

사회탐구 영역(정치와 법)

성명

수험 번호

제 [ ] 선택

1. 정치를 바라보는 갑, 을의 관점에 대한 설명으로 옳은 것은?



- ① 갑의 관점은 국가 형성 이전에 나타나는 정치 현상을 설명하는 데 적합하다.
- ② 을의 관점은 국가의 정치 현상과 사회 집단의 정치 현상은 본질적으로 다르다고 본다.
- ③ 갑의 관점은 을에 비해 정치 문제를 해결하는 과정에 참여하는 주체가 다양하다고 본다.
- ④ 을의 관점은 갑에 비해 다원화된 현대 사회의 갈등 해결 양상을 설명하기에 용이하다.
- ⑤ 갑, 을의 관점 모두 시민 단체가 정부 정책에 대하여 문제를 제기하는 것은 정치가 아니라고 본다.

2. 법치주의의 유형 A, B에 대한 설명으로 옳지 않은 것은? [3점]

민주주의에서 국가 권력은 주권자의 의사가 집약된 법률에 따라 행사되어야 한다. 주권자인 국민이 스스로 만든 법에 의해 구속되는, 국민의 자기 지배가 곧 법치주의이다. 그러나 바이마르 공화국에서 나치의 행태가 보여 주었듯이 당시 나치 독일은 법률의 형식과 절차만을 강조하는 **A**를 통해 비민주적인 체제로 이행하였다. 이후 법치의 본래 의미에 대한 성찰이 이루어지는 과정에서 법치주의는 국가 권력을 단순히 형식적인 합법성에 구속시키는 것이 아니라, 민주주의에서 요청되는 인간의 존엄성 존중, 국민의 자유와 권리 보장을 목적과 내용으로 하는 **B**로 확대되었다.

- ① A는 의회에서 적법한 절차를 거쳐 법률이 제정되었다면 국가 기관과 국민을 구속할 수 있다고 본다.
- ② B를 실현하기 위해 우리나라에서는 과잉 금지 원칙을 적용하여 기본권 제한의 한계를 설정하고 있다.
- ③ A는 B와 달리 국가 권력의 자의적인 통치를 초래할 수 있다는 비판을 받는다.
- ④ B는 A와 달리 법의 목적과 내용이 정의에 부합해야 국가 권력이 정당성을 확보한다는 점을 강조한다.
- ⑤ A, B 모두 위헌 법률 심사제의 도입을 반대할 것이다.

3. 우리나라 헌법의 기본 원리 (가), (나)에 대한 설명으로 가장 적절한 것은?

지방 자치 제도는 지방의 공동 관심사를 자율적으로 해결하고, 주민의 자치 역량을 배양하는 것을 목적으로 한다. 이는 국가 권력이 본래 국민의 것이라는 **(가)**에서 출발하여 국가 의사를 최종적으로 결정할 수 있는 지역적 주체로서의 주민에 의한 자기 통치의 실현인 것이다. 한편 현대 사회에서 국가는 국민의 생활 능력을 강화하고 적절한 생활 수준을 유지할 의무를 진다. **(나)**의 실현과 관련된 국민 생활의 안정, 실질적 평등 실현의 필요성으로 인해 중앙 정부와 지방 자치 단체 간에는 상호 협력이 이루어져야 한다.

- ① (가)는 균형 있는 지역 경제 육성 정책의 근거가 된다.
- ② (가)를 실현하기 위한 방안으로 국민 투표제를 들 수 있다.
- ③ (나)는 개인의 자유 존중을 근본으로 하여 국가 권력의 간섭을 최소화하는 원리이다.
- ④ (나)의 실현을 위해 우리나라 헌법에서는 국가 기관 간 상호 견제와 균형을 유지하도록 규정하고 있다.
- ⑤ (가), (나) 모두 근대 입헌주의 헌법에서부터 강조되었다.

4. 기본권 A, B에 대한 설명으로 옳은 것은? [3점]

- 재판에 영향을 미칠 염려가 있거나, 영향을 미치게 하기 위한 집회 또는 시위를 금지하는 △△법률의 해당 조항은 국민이 재판과 관련된 집단적 의견을 표명하는 것을 전면적으로 불가능하게 하여 A를 실질적으로 박탈하는 결과를 초래하므로 헌법에 위반된다.
- 형사 소송에서 즉시항고의 제기 기간을 3일로 정한 ○○법률의 해당 조항은 국민이 재판에 대해 불복할 기회를 실질적으로 보장받지 못하게 하여 B를 침해하므로 헌법에 위반된다.

- ① A는 내국인에게만 보장되는 권리이다.
- ② B는 다른 기본권 실현의 전제 조건이 되는 본질적 권리이다.
- ③ A는 B와 달리 헌법에 열거되어야 보장되는 권리이다.
- ④ B는 A와 달리 국가에 특정 행위를 요구할 수 있는 절차적 권리이다.
- ⑤ A, B 모두 국가 성립 이전부터 인정받아 온 권리이다.

5. A~C에 대한 설명으로 옳은 것은? (단, A~C는 각각 시민 단체, 이익 집단, 정당 중 하나에 해당하는 집단이다.)

A는 총선을 앞두고 국민의 선택에 도움을 주고자 B의 보건 의료 정책에 관련된 공약의 평가를 발표하였다. 발표 자료에서 A는 신종 감염병의 피해를 최소화하기 위한 B의 정책 의지를 확인했다고 밝혔다. 한편 소상공인들로 조직된 C는 B를 방문하여 신종 감염병 유행으로 인해 어려움을 겪는 조합원들을 위한 제도를 마련해 달라고 요청하였다. 이에 B는 정부가 특별 지원금을 조속히 지급할 수 있도록 협력할 것을 약속하였다.

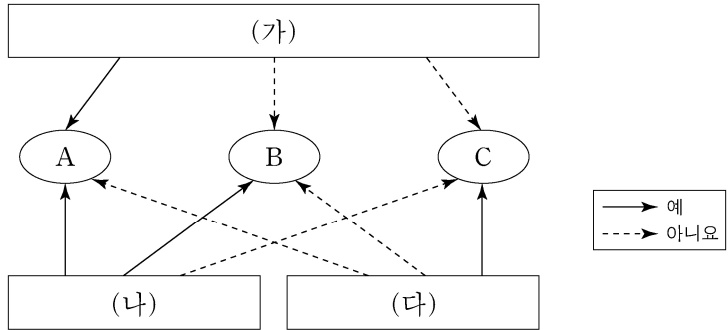
- ① A는 구성원의 이익을 공익보다 우선시한다.
- ② B는 시민의 여론을 수렴하여 법률안을 발의한다.
- ③ C는 정권 획득을 목적으로 선거에서 후보자를 공천한다.
- ④ A는 B, C와 달리 대의 정치의 한계를 극복하기 위해 등장하였다.
- ⑤ B는 A, C와 달리 행정부와 의회를 매개하며 정치적 책임을 진다.

정치와 법

## 2 (정치와 법)

## 사회탐구 영역

6. 그림은 (가)~(다) 질문에 따라 우리나라 국가 기관 A~C를 구분한 것이다. 이에 대한 옳은 설명만을 <보기>에서 있는 대로 고른 것은? (단, A~C는 각각 감사원, 국회, 대통령 중 하나이다.) [3점]



<보기>

ㄱ. (가)에 '조약의 체결·비준에 대한 동의권을 가지고 있습니까?'가 들어가면, (나)에 '헌법 재판소 재판관의 구성 권한이 있습니까?'가 들어갈 수 없다.

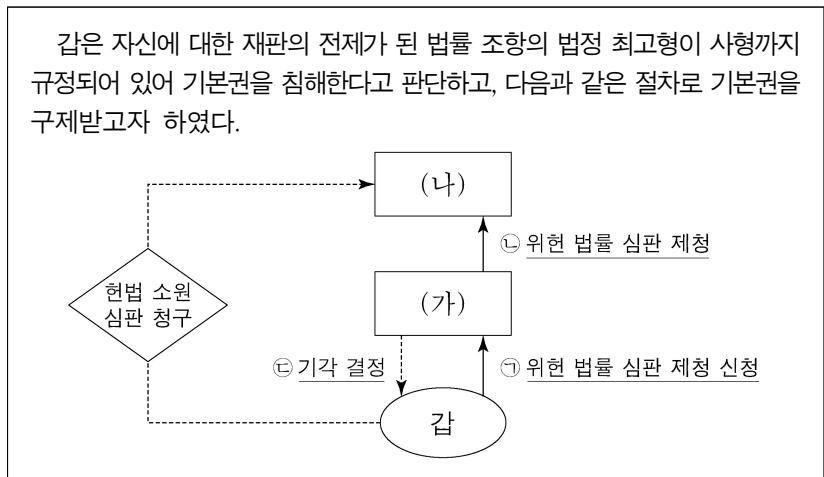
ㄴ. (나)에 '국민으로부터 직접 민주적 정당성을 부여받았습니까?'가 들어가면, (다)에 '국가 세입·세출의 결산 감사의 권한을 가집니까?'가 들어갈 수 있다.

ㄷ. (가)에 '법률안 재의 요구권이 있습니까?'가 들어가고 (나)에 '헌법 개정에 관한 권한이 있습니까?'가 들어가면, B의 장(長)은 탄핵 소추의 대상이 된다.

ㄹ. (가)에 '국정 감사권을 가지고 있습니까?'가 들어가고 (다)에 '행정 기관 및 공무원의 직무에 관한 감찰을 합니까?'가 들어가면, C의 장(長)은 A의 동의를 얻어 B가 임명한다.

- ① ㄱ, ㄴ                      ② ㄴ, ㄹ                      ③ ㄷ, ㄹ  
 ④ ㄱ, ㄴ, ㄷ                ⑤ ㄱ, ㄷ, ㄹ

7. 다음 자료에 대한 설명으로 옳은 것은? (단, (가)와 (나)는 우리나라의 국가 기관이다.) [3점]



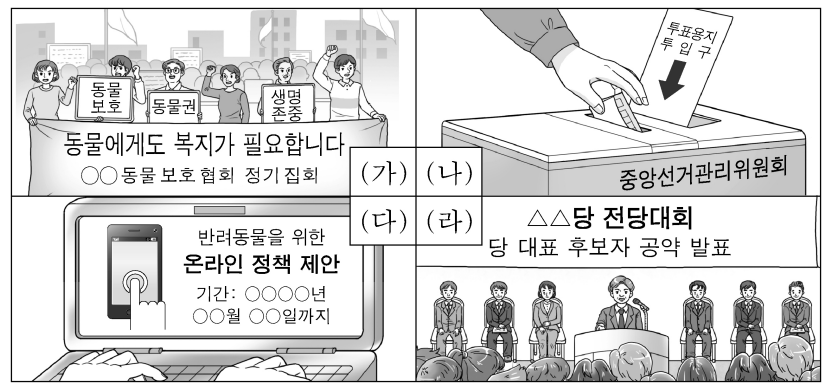
- ① (가)가 ㉠을 받아들이면 해당 법률 조항은 효력을 상실한다.  
 ② (가)는 갑의 신청 없이 ㉡을 할 수 없다.  
 ③ (나)는 ㉡에 의한 법률의 위험 여부를 심판하는 권한으로 국회를 견제할 수 있다.  
 ④ 갑이 ㉢에 불복하는 경우 항고할 수 있다.  
 ⑤ (가), (나) 모두 공정한 재판을 보장하기 위해 심급 제도를 두고 있다.

8. 밑줄 친 ㉠~㉢에 대한 법적 판단으로 옳은 것은? [3점]

갑(28세)은 을에 대한 상해 혐의로 ㉠ 구속 수사를 받던 중, ㉡ 기소되었다. 갑은 ㉢ 1심 재판에서 상해죄로 징역 1년을 선고받았다. 1심 법원의 판결에 대해 갑은 항소를 하였고, 2심 재판에서 무죄 판결을 받았다. 검사가 상고를 하였지만 기각되어 ㉢ 무죄 판결이 확정되었다.

- ① ㉠ 단계 이전에 갑은 구속 전 피의자 심문을 법원에 신청할 수 있다.  
 ② ㉡으로 인해 검사는 소송 당사자로서의 지위를 갖게 된다.  
 ③ ㉢ 단계에 이르러야 비로소 갑은 진술 거부권을 가진다.  
 ④ 갑이 형사 보상을 청구하기 위해서는 ㉢ 시점에 구급되어 있어야만 한다.  
 ⑤ ㉢ 이후 을은 배상 명령 제도를 활용할 수 있다.

9. 그림은 정치 참여 방법 (가)~(라)를 나타낸 것이다. 이에 대한 옳은 설명만을 <보기>에서 고른 것은?



<보기>

ㄱ. (가)는 (나)와 달리 집단적인 정치 참여 방법이다.  
 ㄴ. (나)는 (라)와 달리 정치 과정에서 투입 기능을 담당한다.  
 ㄷ. (다)는 (가), (나), (라)에 비해 시·공간의 제약이 적어 시민의 정치 참여 활성화에 기여할 수 있다.  
 ㄹ. (라)는 (가), (나), (다)와 달리 정치권력을 감시하고 통제하는 기능을 가진다.

- ① ㄱ, ㄴ                      ② ㄱ, ㄷ                      ③ ㄴ, ㄷ                      ④ ㄴ, ㄹ                      ⑤ ㄷ, ㄹ

10. A~C는 근대 민법의 수정 원칙이다. 이에 대한 옳은 설명만을 <보기>에서 고른 것은?

구분	관련 법규
A	약관의 규제에 관한 법률 제6조 ① 신의성실의 원칙을 위반하여 공정성을 잃은 약관 조항은 무효이다.
B	환경정책기본법 제44조 ① 환경오염 또는 환경훼손으로 피해가 발생한 경우에는 해당 환경오염 또는 환경훼손의 원인이자 그 피해를 배상하여야 한다.
C	헌법 제23조 ② 재산권의 행사는 공공복리에 적합하도록 하여야 한다.

<보기>

ㄱ. A에 의하면, 계약 당사자는 자신의 법률관계를 형성할 때 국가의 간섭을 받아서는 안 된다.  
 ㄴ. 임대 건물의 하자로 인한 행인의 부상에 대하여 임차인과 달리 건물 소유자가 면책되지 않는 것은 B가 적용된 것이다.  
 ㄷ. C에 의하면, 소유권은 사유 재산권의 대표적인 것이지만 경우에 따라 제한될 수 있는 상대적 권리이다.  
 ㄹ. 근대 민법의 기본 원리는 A, B, C로 인해 현대의 사법 관계에 적용되지 않는다.

- ① ㄱ, ㄴ                      ② ㄱ, ㄷ                      ③ ㄴ, ㄷ                      ④ ㄴ, ㄹ                      ⑤ ㄷ, ㄹ

11. 다음 사례에 대한 옳은 법적 판단만을 <보기>에서 고른 것은?

자전거 여행을 계획하던 갑(17세)은 법정 대리인 을에게 자전거 구매 허락을 받고 병이 운영하는 자전거 대리점에 갔다. 갑이 병에게 을의 동의를 제시하고 마음에 드는 자전거를 선택하자, 병은 브랜드를 속여 가격을 높여서 불렀고 갑은 구입하기로 하였다. 병은 갑에게 여행 출발 전날까지 자전거를 배달해 주기로 약속하였지만, 병의 실수로 자전거가 배달되지 못해 갑은 여행을 가지 못했다.

<보 기>

- ㄱ. 갑은 사기를 이유로 매매 계약을 취소할 수 있다.
- ㄴ. 갑은 병에게 채무 불이행으로 인한 손해 배상을 청구할 수 있다.
- ㄷ. 을은 갑이 미성년자임을 이유로 매매 계약을 취소할 수 있다.
- ㄹ. 병은 갑에게 매매 계약의 취소 여부에 대한 확답을 촉구할 수 있다.

- ① ㄱ, ㄴ    ② ㄱ, ㄷ    ③ ㄴ, ㄷ    ④ ㄴ, ㄹ    ⑤ ㄷ, ㄹ

12. 다음 사례에 대한 옳은 법적 판단만을 <보기>에서 고른 것은? [3점]

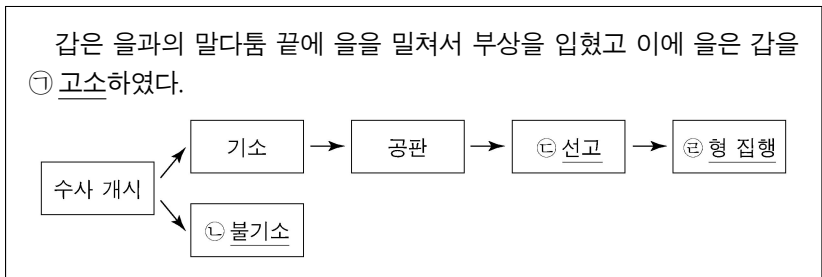
- A는 출장을 가면서 자신의 애완견을 B가 운영하는 애견 호텔에 맡겼다. B가 A의 애완견과 산책하던 중 실수로 목줄을 놓친 사이에 애완견이 행인 C의 다리를 물었고 C가 애완견을 걷어차 다치게 하였다.
- 갑(14세)이 망을 보는 사이 을(14세)과 병(16세)이 골목길에 주차된 정 소유의 수입차에 올라가 장난을 쳐 2천만 원의 수리비가 발생하였다.

<보 기>

- ㄱ. B는 애완견을 다치게 하지 않았으므로 A에게 채무 불이행에 따른 손해 배상 책임을 지지 않는다.
- ㄴ. C에 대한 B의 불법 행위 책임의 인정 여부와 관계없이 A는 C에게 특수 불법 행위 책임을 지지 않는다.
- ㄷ. 정에 대한 갑의 불법 행위 책임이 인정되지 않더라도 을과 병은 정에게 불법 행위 책임을 질 수 있다.
- ㄹ. 정에 대한 을의 불법 행위 책임이 인정되지 않는 경우, 을의 법정 대리인은 정에게 특수 불법 행위 책임을 지지 않는다.

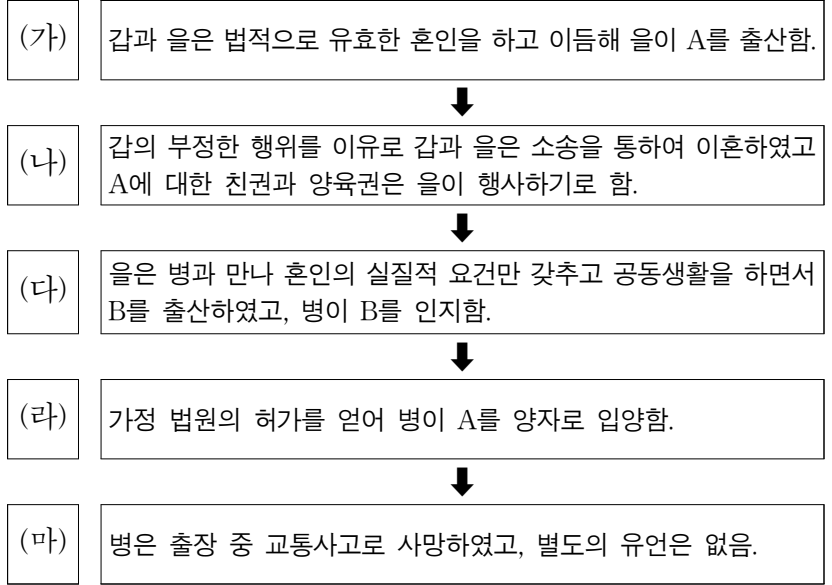
- ① ㄱ, ㄴ    ② ㄱ, ㄷ    ③ ㄴ, ㄷ    ④ ㄴ, ㄹ    ⑤ ㄷ, ㄹ

13. 다음은 갑에게 적용될 수 있는 형사 절차를 나타낸 것이다. 이에 대한 분석 및 추론으로 옳은 것은? [3점]




- ① ㉠은 을이 법원에 갑의 처벌을 구하는 의사 표시를 의미한다.
- ② ㉡은 범죄 혐의가 인정되어 유죄 판결의 가능성이 있는 경우에도 행해질 수 있다.
- ③ ㉢ 단계에서 재범의 위험성이 크더라도 형벌 이외의 보안 처분을 부과할 수 없다.
- ④ ㉣ 단계에서 일정 기간 형의 선고를 유예하는 판결이 확정되었다면 그 기간이 경과한 때 형 선고는 효력을 잃게 된다.
- ⑤ ㉣ 단계에서 갑은 형기 만료 이전이라도 보석 결정에 의해 석방될 수 있다.

14. (가)~(마)의 상황에 대한 법적 판단으로 옳은 것은?



- ① (가)에서 갑은 을이 혼인 전에 형성한 을 소유의 부동산을 임의로 처분할 수 있다.
- ② (나)에서의 소송은 다른 민사 소송과 달리 3심제가 적용되지 않는다.
- ③ (다)에서 B는 혼인 외의 출생자이지만, 병은 B에게 친권을 행사할 수 있다.
- ④ (라)로 인해 갑과 A의 친자 관계는 종료된다.
- ⑤ (마)에서 A가 상속을 포기하면 을과 B가 공동 상속인이 된다.

15. 국제 관계를 바라보는 갑, 을의 관점에 대한 옳은 설명만을 <보기>에서 있는 대로 고른 것은? [3점]



<보 기>

- ㄱ. 갑의 관점은 도덕적 규범에 따른 외교 정책 수립이 가능하다고 본다.
- ㄴ. 국제 연합 안전 보장 이사회의 상임 이사국이 거부권을 갖는 것은 을의 관점으로 설명될 수 있다.
- ㄷ. 갑의 관점은 을과 달리 자국의 안보는 스스로 책임져야 한다고 본다.
- ㄹ. 을의 관점은 갑과 달리 국가 간 힘의 균형을 강조하며 이를 통해 전쟁 억제가 가능하다고 본다.

- ① ㄱ, ㄴ    ② ㄴ, ㄷ    ③ ㄷ, ㄹ  
 ④ ㄱ, ㄴ, ㄹ    ⑤ ㄱ, ㄷ, ㄹ



# 4 (정치와 법)

# 사회탐구 영역

16. 다음 자료에 대한 법적 판단으로 옳은 것은? [3점]

범죄가 성립하기 위해서는 우선 행위가 A에 해당하여야 한다. A는 형벌을 부과하는 근거가 되는 행위 유형을 법률에 기술해 놓은 것을 말한다. A는 국회에서 제정한 성문의 법률로 명확하게 규정되어야 한다. 만약 그 내용이 지나치게 추상적이거나 모호한 경우에는 국가 형벌권의 자의적인 행사가 가능하게 되어 죄형 법정주의의 구체적 원리 중 B에 반한다. 죄형 법정주의의 다른 구체적 원리인 C는 관련 사안에 대한 명문 규정이 없는데도 유사한 사안을 규정한 법률을 적용해서는 안 된다는 것을 의미한다.

- ① A의 유형화를 통해 형법의 보장적 기능이 구현된다.
- ② A에 해당하면 심신 상실자의 행위라도 범죄는 성립한다.
- ③ B는 형벌까지 명확하게 규정할 것을 요구하지는 않는다.
- ④ C는 B와 달리 입법자에게 적용되는 원칙이다.
- ⑤ B, C 모두 실질적 의미의 형법에는 적용되지 않는다.

17. 다음 사례에 대한 법적 판단으로 옳은 것은? [3점]

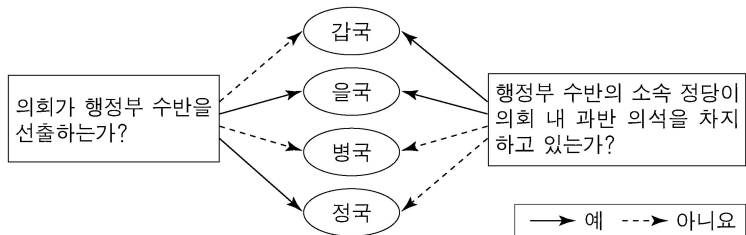
□□ 의류 회사 노동조합은 ㉠ 단체 교섭권을 행사하여 근로 조건에 관해 사용자 측과 교섭을 진행하였으나, 합의에 이르지 못해 적법하게 쟁의 행위를 하였다. 다음은 최근 사용자에 의해 정당한 이유 없이 근로관계가 종료된 갑, 을, 병의 상황을 질문에 대한 답변을 통해 구분한 것이다.

질문	갑	을	병
적법한 쟁의 행위를 이유로 근로관계가 종료되었습니까?	예	아니오	예
근로관계 종료와 관련하여 적법한 절차에 따라 행정 소송을 제기하였습니까?	예	아니오	아니오
지방 노동 위원회의 구제 절차를 거쳤습니까?	예	예	예
법원에 해고의 효력을 다투는 소를 제기하였습니까?	예	예	아니오

\* 갑, 을, 병 모두 □□ 의류 회사 노동조합에 가입되어 있었음.

- ① 근로자와 사용자 모두 ㉠을 가진다.
- ② 갑의 근로관계 종료 사안은 중앙 노동 위원회의 구제 절차를 거쳤다.
- ③ 갑, 을은 해고 무효 확인 소송을 제기하기 전에 지방 노동 위원회의 구제 절차를 거쳤다.
- ④ 갑, 을은 병과 달리 사용자에 의해 정당한 근로 3권 행사가 침해되었다.
- ⑤ 갑, 을, 병의 해고에 대해 □□ 의류 회사 노동조합도 지방 노동 위원회에 구제 신청을 할 수 있다.

18. 그림에 대한 분석 및 추론으로 옳은 것은? (단, 갑국~정국의 정부 형태는 각각 전형적인 대통령제와 의원 내각제 중 하나이다.)



- ① 갑국과 달리 을국은 행정부 수반이 국가 원수의 지위를 가진다.
- ② 을국과 달리 병국은 행정 권력이 의회의 신임을 받는 동안에만 유지된다.
- ③ 병국과 달리 정국은 의회 의원이 각료를 겸직할 수 있다.
- ④ 갑국에 비해 병국은 행정부 정책 추진을 위한 법률 제·개정이 용이할 것이다.
- ⑤ 을국과 달리 병국, 정국은 연립 내각이 구성된다.

19. 국제법의 법원(法源) A, B에 대한 설명으로 옳은 것은? (단, A와 B는 각각 국제 관습법과 조약 중 하나이다.)

A와 B는 각각 별도의 경로를 통해 형성되는 별개의 법원(法源)이지만, 양자의 성립과 적용은 서로 밀접한 관계에 있다. 이미 존재하는 B의 내용을 명문화하려는 목적으로 A가 탄생하는 경우도 있고, 형성 중이던 B가 A의 탄생을 계기로 결정적으로 확립되기도 한다. A는 이를 승인한 당사국에 대하여만 법적 구속력을 지니지만 그 내용이 국제 사회에서 절대 다수 국가의 호응을 얻는다면 B로 발전해 비당사국에게도 법적 구속력을 지니게 된다.

- ① 헌법에 의하여 체결·공포된 A는 우리나라에서 국내법과 같은 효력을 지닌다.
- ② A는 국가 간의 합의이므로 국가와 국제기구 간에는 체결할 수 없다.
- ③ B는 법적 확신과 관계없이 국제 사회에서 반복적으로 나타나는 일반적인 관행만 있으면 성립한다.
- ④ A는 B와 달리 국제 사법 재판소에서 재판의 준거로 활용될 수 있다.
- ⑤ B는 A와 달리 그 내용과 성립 시기가 분명하다는 특징이 있다.

20. 다음 자료에 대한 분석 및 추론으로 옳은 것은?

갑국의 의회 의원 정수(定數)는 5명이다. 현재 갑국은 5개의 선거구에서 선거구마다 최다 득표자 1인을 의원으로 선출하고 있다. 그러나 차기 선거를 앞두고 의원 정수는 유지하면서 현재의 선거구제인 (가)를 (나)로 변경하여 전국을 하나의 선거구로 통합하고자 한다. 개편안에 따르면 전국적 수준의 한 선거구에서 5명의 의원을 선출하며, 의석수는 정당 득표율에 비례하여 각 정당에 배분한다. 아래 표는 현행 선거 제도에서 실시된 갑국의 의회 의원 선거 결과이다.

<정당별 득표 결과> (단위: 표)

선거구	정당	A당	B당	C당	D당	합계
선거구 1		160	140	80	20	400
선거구 2		90	270	220	20	600
선거구 3		135	120	35	10	300
선거구 4		120	180	80	20	400
선거구 5		125	100	45	30	300
합계		630	810	460	100	2,000

\* 유권자 1인은 1표를 행사하고, 전체 유권자 수는 2,000명임.  
 \*\* 개편안의 경우 위 표를 근거로 차기 선거 결과를 판단함.  
 \*\*\* 개편안의 경우 각 정당 득표율에 의석수를 곱하여 산출된 정수(整數)만큼 의석을 각 정당에 배분하고, 잔여 의석은 소수점 이하 수가 큰 순서대로 각 정당에 1석씩 배분함.

- ① (가)는 (나)에 비해 군소 정당의 난립 가능성이 높다.
- ② A당은 선거 제도가 개편되는 경우 의석수를 확보하는 데 현행 보다 유리하다.
- ③ B당은 현행 선거 제도의 의석수와 개편 이후 의석수가 동일하다.
- ④ C당은 선거 제도가 개편되면 사표가 많이 발생하여 현행보다 정당 득표율과 의석률의 불일치가 심화된다.
- ⑤ D당은 현행 선거 제도에서 과소 대표되었지만 개편 이후 과대 대표된다.

\* 확인 사항  
 ○ 답안지의 해당란에 필요한 내용을 정확히 기입(표기)했는지 확인 하시오.

제 4 교시

사회탐구 영역 (정치와 법)

성명

수험 번호

제 [ ] 선택

1. 정치를 바라보는 관점 A, B에 대한 질문에 모두 옳게 응답한 학생은?

A는 국가 공동체의 의사를 결정하고 갈등을 해결해 나가는 국가 고유의 활동만을 정치라고 봅니다. 반면 B는 국가뿐만 아니라 다양한 사회 집단 내에서 구성원 간의 이해관계를 조정하고 갈등을 해결하는 활동도 정치라고 봅니다.



교사 (○: 예, ×: 아니오)

질문	학생	갑	을	병	정	무
A는 국가 형성 이전의 정치 현상을 설명하기에 적합한가?		×	×	×	○	×
B는 국가의 정치 현상과 국가 이외 사회 집단의 정치 현상이 본질적으로 다르다고 보는가?		×	○	×	×	×
A에 비해 B는 다원화된 현대 사회의 정치 현상을 설명하기에 적합한가?		○	×	○	×	×
B와 달리 A는 정치권력을 획득하고 유지·행사하는 활동을 정치라고 보는가?		×	×	○	○	×

- ① 갑    ② 을    ③ 병    ④ 정    ⑤ 무

2. 우리나라 헌법 기관 A~D에 대한 설명으로 옳은 것은?

- A는 국가의 예산안을 심의·확정한다.
- B는 세입·세출의 결산을 매년 검사하여 C와 차년도 A에 그 결과를 보고하여야 한다.
- 예산안·결산은 C가 의장이 되는 D의 심의를 거쳐야 한다.

- ① A는 입법 사항에 관한 조약을 체결·비준한다.  
 ② B는 D의 소속하에 있지만 업무의 독립성을 보장받는다.  
 ③ C가 일반 사면을 명하려면 A의 동의를 얻어야 한다.  
 ④ C의 긴급 재정·경제 처분은 B의 승인을 얻어야 한다.  
 ⑤ D의 모든 구성원은 A의 동의를 받아 C가 임명한다.

3. 밑줄 친 ㉠~㉣에 대한 설명으로 옳은 것은? [3점]

- 국민은 정부에서 운영하는 ㉠ 온라인 국민 참여 플랫폼을 통해 정책을 제안할 수 있으며, 해당 제안이 일정 수 이상 국민의 추천을 받으면 정책에 반영되기도 한다.
- 국회 의원 선거 당일 투표가 어려운 유권자는 별도의 신고 없이 선거일 전 5일부터 2일 동안 운영되는 사전 투표소에 가서 ㉡ 사전 투표에 참여할 수 있다.
- 국민은 자신의 정책 아이디어를 ㉢ 정책 선거 관련 홈페이지에 희망 공약으로 제안할 수 있고, 이를 반영하여 공약으로 제시한 후보자가 선거에서 당선되면 해당 제안은 정책으로 실현되기도 한다.

- ① ㉠은 전체 유권자의 수를 확대하는 효과가 있다.  
 ② ㉠과 달리 ㉢은 정치권력에 정당성을 부여하는 기능을 한다.  
 ③ ㉢과 달리 ㉠은 국민의 정치적 효능감 향상에 기여할 수 있다.  
 ④ ㉠, ㉡ 모두 직접 민주주의를 실현하는 방법이다.  
 ⑤ ㉠, ㉢ 모두 정치 참여의 시·공간적 제약을 완화할 수 있는 방법이다.

4. 기본권 유형 A~C에 대한 설명으로 옳은 것은?

A, B에 대한 침해는 국가와 기본권 주체인 개인의 관계에서 주로 발생할 수 있다. A는 국가의 간섭과 침해를 배제함으로써 보장되는 기본권으로, 기본권 제한이 헌법상 과잉 금지의 원칙에 위반될 경우 위헌 판단이 가능하다. B는 권리 구제를 위한 기본권으로, 이를 실현하기 위한 법률을 제정하지 않은 것이 현저히 불합리하다면 위헌 여부를 다룰 수 있다. 이에 비하여 C는 국가, 개인, 그 개인과 비교 대상이 되는 제3자의 관계를 통하여 위헌 여부가 판단될 수 있다. 국가가 본질적으로 같은 사안에서 두 기본권 주체에게 자의적으로 서로 다른 처우를 하면 C의 침해가 인정될 수 있다.

- ① A와 달리 B는 국가에 특정한 행위를 요구하거나 다른 기본권이 침해되었을 때 행사할 수 있는 권리이다.  
 ② B와 달리 A는 입법자가 법률을 통해 기본권을 구체화할 때 행사할 수 있는 권리이다.  
 ③ B와 달리 C는 수단적 성격의 권리로서 국가의 존재를 전제로 한다.  
 ④ C는 A를 행사하기 위한 전제 조건으로 현대 복지 국가 헌법에서 부터 보장되기 시작하였다.  
 ⑤ B와 달리 A, C는 기본권 제한의 한계를 준수하는 경우에도 제한될 수 없는 본질적 권리이다.

5. 다음 자료에 대한 설명으로 옳은 것은? [3점]

갑국과 을국의 정부 형태는 각각 전형적인 대통령제와 의원 내각제 중 하나이다. 행정부 수반이 소속된 정당의 의회 의석률은 갑국 35%, 을국 65%이며, 양국 모두 무소속 의원은 존재하지 않는다. 표는 질문에 따라 갑국과 을국을 비교한 것이다.

질문	국가	갑국	을국
(가)		예	아니오
(나)		예	예


- ① (가)에 '행정부 수반이 국가 원수의 지위를 동시에 가지는가?'가 들어가면, 갑국의 행정부 수반은 임기가 보장되지 않는다.  
 ② (가)에 '의회가 내각을 불신임할 수 있는가?'가 들어가면, 갑국과 달리 을국의 의회 의원은 각료를 겸직할 수 있다.  
 ③ (나)에 '국민이 선거를 통해 행정부 수반을 직접 선출하는가?'가 들어갈 수 있다.  
 ④ (나)에 '의회 내 과반 의석을 확보한 정당이 존재하는가?'가 들어가면, 을국과 달리 갑국의 행정부 수반은 법률안 거부권을 가진다.  
 ⑤ (나)에 '의회 의석을 확보한 정당이 2개만 존재하는가?'가 들어가면, (가)에 '행정부가 법률안을 제출할 수 있는가?'가 들어갈 수 있다.



## 2 (정치와 법)

## 사회탐구 영역


6. 법치주의의 유형 A, B에 대한 설명으로 옳은 것은? [3점]




적법 절차의 원칙은 원래 신체의 자유를 보장하기 위한 것으로 공권력에 의한 기본권 제한 시 법률이 정한 절차의 준수만을 요구하였습니다. 이는 통치의 합법성만을 강조하는 A에 해당한다고 볼 수 있습니다. 그러나 오늘날 적법 절차의 원칙은 입법, 행정, 사법의 모든 국가 작용을 구속할 뿐만 아니라 공권력 행사의 근거가 되는 법률의 실제적 내용도 정당성을 갖추어야 한다는 원칙으로 발전했습니다. 이는 B에 해당한다고 볼 수 있습니다.

- ① A와 달리 B는 국가 권력으로부터 기본권을 보장하는 것을 목적으로 한다.
- ② A와 달리 B는 법률로 금지되는 행위와 그 법적 제재를 미리 규정하도록 하여 법적 안정성을 보장한다.
- ③ B와 달리 A는 공권력에 의해 신체의 자유를 제한하는 경우 법률에 정해진 절차에 따라야 한다고 본다.
- ④ B와 달리 A는 공권력 행사가 법률에 따를 것만을 강조하여 입법자에 의한 기본권 침해의 가능성을 간과한다.
- ⑤ B와 달리 A는 정의에 부합하는 법률에 따라 국가 권력이 행사되어야 기본권의 실질적 보장이 가능해진다고 본다.


7. 우리나라 헌법의 기본 원리 A, B에 대한 설명으로 가장 적절한 것은?



교사: 청소년의 일상생활 속에서 우리나라 헌법의 기본 원리가 실현된 사례를 찾아볼까요?



○○시는 가정 형편이 어려운 청소년들의 교통비 부담을 덜어 주기 위해 교통비 지원 사업을 시행하고 있습니다. 이는 국민의 삶의 질 보장을 중시하는 A의 실현에 기여하였다고 생각합니다.



□□법 개정으로 18세 청소년이 선거에 참여할 수 있게 되었습니다. 이는 국가 권력의 정당성이 국민에게 있다는 B의 실현에 기여하였다고 생각합니다.

- ① A에 따라 국가 기관 간 견제와 균형이 이루어지도록 하고 있다.
- ② B에 따라 국민 투표를 통해 국민이 직접 국가 안위에 관한 중요 정책을 결정할 수 있도록 하고 있다.
- ③ A와 달리 B는 국민의 사회권 보장을 통한 실질적 평등의 실현을 강조한다.
- ④ B와 달리 A는 법률 제정과 정책 결정의 방향을 제시한다.
- ⑤ A, B 모두 근대 입헌주의 헌법에서부터 강조되었다.

8. A~C에 대한 설명으로 옳은 것은? (단, A~C는 각각 정당, 이익 집단, 시민 단체 중 하나에 해당하는 집단이다.) [3점]

학교에서 '고카페인 함유' 표시가 있는 모든 음료의 판매를 금지하는 정책이 필요하다는 학부모들의 주장이 제기되고 있다. 이에 대해 식품 업계 종사자들로 구성된 A는 해당 정책이 소속 회원들의 이익을 침해하고 식품 산업 발전을 저해할 것이라며 반대 의사를 표명하였다. 반면, 청소년의 건강한 식생활 실천을 위한 공익 캠페인을 추진해 온 B는 해당 정책이 청소년의 건강권 보호에 필요하다고 찬성 입장을 밝혔다. 이에 C는 A와 B의 의견을 수렴하여 다가오는 총선을 위해 공약을 개발하고 관련 전문가를 후보자로 공천하였다.

- ① A는 사적 이익을 추구하며 국민에 대해 정치적 책임을 진다.
- ② B의 활동은 정치 과정에서 산출에 해당한다.
- ③ C는 여론을 반영하여 의회와 정부를 매개하는 역할을 한다.
- ④ A와 달리 B는 대의 정치의 한계를 보완하는 역할을 한다.
- ⑤ C와 달리 A, B는 정책 결정 과정에서 정치 사회화 기능을 수행한다.

9. 다음 자료에 대한 법적 판단 및 추론으로 옳은 것은? [3점]

갑은 △△법 위반죄로 징역 3년에 집행 유예 5년의 판결을 선고받고 해당 판결이 확정되었다. 한 달 후 □□법을 위반한 갑은 기소되었고, 1심 법원에서 징역 6월을 선고받고 항소하였지만 기각되었다. 이에 갑은 상고하였으나 A가 이를 기각하여 징역 6월의 형이 확정되었고, 그 결과 형법 조항에 따라 갑에 대한 위의 집행 유예 선고는 효력을 잃게 되었다. 이에 다른 구제 절차를 거칠 수 없었던 갑은 해당 형법 조항이 이중 처벌 금지의 원칙 등에 위반된다며 기본권 침해 여부를 판단하는 심판인 (가) 을/를 B에 청구하였다. 이에 대해 B는 범죄자에 대한 재사회화와 사회 방위를 도모하려는 공익의 중대성은 인정하면서도, 해당 형법 조항에 따라 집행되는 형은 이미 선고된 형이므로 신체의 자유가 추가로 제한된다고 보기 어려운 점 등을 이유로, 해당 형법 조항으로 제한되는 갑의 기본권이 이를 통해 달성하려는 공익보다 중하지 않다고 보아 갑의 청구를 기각한다는 결정을 하였다.

- ① A는 해당 형법 조항의 위헌 여부가 재판의 전제가 된 경우에도 B에 (가)를 청구할 수 없다.
- ② 갑은 A의 판결이 자신의 신체의 자유를 침해하였다고 주장하며 B에 그 판결을 대상으로 (가)를 청구하였다.
- ③ B는 해당 형법 조항을 통한 기본권 제한이 목적은 정당하지만 필요한 범위를 벗어난 것이라고 판단하였다.
- ④ B의 결정으로 법원은 갑의 △△법 위반죄 사건에 대하여 다시 재판을 하여 새로운 형을 부과하였을 것이다.
- ⑤ A의 장(長), B의 장(長) 모두 직무 집행에 있어 헌법이나 법률을 위반한 경우에도 탄핵 심판의 대상이 되지 않는다.

10. (가)에 들어갈 적절한 내용만을 <보기>에서 있는 대로 고른 것은?

정치의 법 E-class

수업 자료    과제 게시판    묻고 답하기

○ 다음 사례에 대한 법적 의견을 작성해 봅시다.

같은 중학교를 졸업한 갑(남, 18세)과 을(남, 16세)은 1개월 동안 ◇◇ 대형 매장에서 물품 판매를 업무로, 주 5일(월~금) 근무하기로 하는 근로 계약을 대표 병과 각각 체결함. 법정 최저 임금은 시간당 8,590원이며, 두 사람의 주요 계약 내용은 다음과 같음. 갑과 을의 임금은 각각 시간당 10,000원, 근로 시간은 갑이 12시~21시(휴게 시간: 17시~18시), 을은 10시~18시(휴게 시간: 13시~14시)임.

↳ 학생1: 갑은 을과 달리 독자적으로 임금을 청구할 수 있습니다.

↳ 학생2: 을의 계약에는 친권자 또는 후견인의 동의가 필요합니다.

↳ 학생3: (가)

↳ 교 사: 근로 기준법에 따라 옳은 의견을 제시한 학생은 2명이네요.

<보 기>

ㄱ. 갑이 계약대로 근무할 경우 갑의 1일 임금은 90,000원입니다.

ㄴ. 을의 연장 근무는 을과 병 사이의 합의가 있어도 1일 1시간, 1주일 5시간을 초과할 수 없습니다.

ㄷ. 갑과 달리 을에게는 야간 또는 휴일 근로가 원칙적으로 금지됩니다.

ㄹ. 병은 갑과 을의 연령을 증명하는 가족 관계 기록 사항에 관한 증명서를 사업장에 갖추어 두어야 합니다.

- ① ㄱ, ㄴ                      ② ㄱ, ㄹ                      ③ ㄴ, ㄷ
- ④ ㄱ, ㄷ, ㄹ                ⑤ ㄴ, ㄷ, ㄹ



11. 다음 자료에서 □□위원회의 판단에 나타난 민법의 기본 원리에 대한 진술로 가장 적절한 것은? [3점]

○○ 신문      △△△△년 △△월 △△일

**온라인 강의 해지, 보다 수월해져...**

수강 기간이 1개월을 넘는 온라인 강의는 앞으로 언제든지 계약을 해지하고 남은 금액을 돌려받을 수 있게 되었다. □□위원회는 최근 온라인 강의 수강 계약의 중도 해지를 제한한 온라인 강의 학원의 이용 약관 조항이 고객의 권리를 과도하게 제한하여 무효라고 판단하였다. 이에 따라 해당 학원에 시정 명령을 내렸다.

- ① 개인은 자신이 소유하는 재산을 배타적으로 사용·수익 또는 처분할 권리를 가진다.
- ② 계약 내용이 사회 질서에 반하거나 현저하게 공정성을 잃으면 법적 효력이 인정되지 않는다.
- ③ 법률관계를 형성하는 것은 개인의 자유로운 의사에 맡겨야 하고 국가가 개입해서는 안 된다.
- ④ 개인은 자신이 소유하는 재산을 공공의 이익에 부합하도록 사용·수익 또는 처분하여야 한다.
- ⑤ 타인의 손해에 대하여 직접적인 고의나 과실이 없더라도 일정한 요건에 따라 법적 책임을 질 수 있다.

12. (가) 사례를 (나)에 적용했을 경우에 대한 옳은 법적 판단만을 <보기>에서 있는 대로 고른 것은?

(가) 갑(17세)은 평소 사고 싶었던 고가의 오토바이를 을(30세)로부터 구입하는 계약을 하였다. 한편 갑의 법정 대리인은 병이다.

(나)

질문	상황	
계약 당시 병의 동의를 받았는가?	㉠ 예	㉡ 아니요
계약 당시 을은 갑이 미성년자임을 알았는가?	㉢ 예	㉣ 아니요

<보 기>

㉠. ㉢의 상황에서 을은 병에게 계약을 취소할 것인지에 대한 확답을 추궁할 권리가 있다.

㉡. ㉠, ㉢의 상황에서 갑이 을의 사기에 의하여 계약을 하였다면 병은 그 계약을 취소할 수 있다.

㉣. ㉡, ㉣의 상황에서 을은 병에게 계약 체결의 의사 표시를 철회할 수 없다.

㉤. ㉡, ㉣의 상황에서 을은 갑이 미성년자임을 이유로 계약을 취소할 수 있다.

- ① ㉠, ㉣
- ② ㉠, ㉤
- ③ ㉡, ㉣
- ④ ㉠, ㉡, ㉤
- ⑤ ㉡, ㉣, ㉤

13. 다음 사례에 대한 옳은 법적 판단만을 <보기>에서 고른 것은?

○ A(14세)는 B(A의 법정 감독 의무자) 몰래 다른 사람의 자동차를 운전하다가 횡단보도에서 길을 건너던 C를 부주의로 다치게 하였다.

○ 대학생인 갑(19세)은 학비를 벌기 위하여 을이 운영하는 식당에서 아르바이트를 하던 중 식사를 하던 손님 병을 부주의로 다치게 하였다.

<보 기>

㉠. 사고 당시 A의 책임 능력이 인정되지 않는다면 B가 A에 대한 감독 의무를 게을리하지 않았더라도 B는 C에 대하여 특수 불법 행위 책임을 진다.

㉡. 사고 당시 A의 책임 능력이 인정되면 C의 부상이 B의 A에 대한 감독 의무 위반으로 인한 경우라도 B는 C에 대하여 특수 불법 행위 책임을 지지 않는다.

㉢. 을의 병에 대한 특수 불법 행위 책임이 성립하는 경우에도 갑의 병에 대한 불법 행위 책임이 인정된다.

㉣. 을의 병에 대한 사용자 배상 책임이 성립하는 경우 갑과 을의 병에 대한 공동 불법 행위자의 책임이 인정된다.

- ① ㉠, ㉡
- ② ㉠, ㉢
- ③ ㉡, ㉣
- ④ ㉡, ㉣
- ⑤ ㉢, ㉣

14. 다음 사례에 대한 법적 판단으로 옳은 것은? [3점]

○ 경찰관 갑은 절도범을 적법하게 긴급 체포하였다.

○ 을의 범죄 후 그 범죄를 가중 처벌하도록 형법이 개정되었다.

○ 병은 이틀 전 자신의 물건을 파손한 A를 길거리에서 우연히 발견하고 손해를 배상받기 위해 A를 붙잡으면서 부득이하게 폭행하였다.

○ 정의 종업원 퇴직금 미지급으로 인한 ○○법 위반 행위에 대하여, 법원은 객관적 법질서에 반하지만 정에게 부득이한 사정이 있어 법적 비난 가능성이 없다며 무죄를 선고하였다.

○ 무가 전화상으로 단순히 고성을 지른 행위에 대하여, 법원은 폭행죄의 폭행 개념인 '사람의 신체에 대한 유형력의 행사'에 해당하지 않는다며 폭행죄로 기소된 무에게 무죄를 선고하였다.

- ① 갑의 체포는 범죄 구성 요건에 해당하지 않는다.
- ② 을을 개정된 형법으로 처벌해도 소급효 금지 원칙 위반이 아니다.
- ③ 병의 폭행은 정당방위로서 위법성이 조각된다.
- ④ 정의 행위는 위법성이 인정되나 책임이 조각된다.
- ⑤ 무의 행위는 범죄 구성 요건에 해당하나 위법성이 조각된다.

15. 국제 연합의 주요 기관 A~C에 대한 옳은 설명만을 <보기>에서 고른 것은? [3점]

국제 연합의 모든 회원국으로 구성된 A는 국제 사회의 다양한 문제를 논의하며, 15개 이사국으로 구성된 B는 국제 평화와 안전 유지에 대한 책임을 지고 있다. 경제 사회 이사회는 경제, 사회, 문화 등의 국제 문제를 담당하며, C는 국제 연합의 주요 사법 기관이다.

<보 기>

㉠. A에서는 분담금에 따라 의결권을 회원국에게 차등적으로 배분한다.

㉡. B에서는 이사국 중 9개국 이상이 찬성하면 모든 안전을 의결할 수 있다.

㉢. C는 국제 관습법을 재판의 준거로 활용할 수 있다.

㉣. C는 원칙적으로 분쟁 당사국들이 합의하여 분쟁 해결을 요청한 경우 관할권을 가진다.

- ① ㉠, ㉡
- ② ㉠, ㉢
- ③ ㉡, ㉣
- ④ ㉡, ㉣
- ⑤ ㉢, ㉣

# 4 (정치와 법)

# 사회탐구 영역

16. 다음 사례에 대한 옳은 법적 판단만을 <보기>에서 고른 것은?

A를 입양하여 함께 살고 있던 갑(남)은 을(여)과 법률상 혼인을 하였고 그 사이에서 B가 태어났다. 이후 갑과 을은 이혼하고 갑은 A를, 을은 B를 양육하였다. 2년 후, 갑과 병은 법률상 혼인을 하였고 그 사이에서 C가 태어났다. 한편 을과 정은 법률상 혼인을 하였고 그 사이에서 D가 태어났으며 정은 B를 친양자로 입양하였다. 그 후 을과 정은 이혼하면서 을은 B를, 정은 D를 양육하기로 하였다.

<보 기>

- ㄱ. 갑이 유언 없이 사망한다면, A는 갑의 재산을 상속받을 수 있으나 B는 상속받을 수 없다.
- ㄴ. 을이 유언 없이 사망한다면, D는 을의 재산을 상속받을 수 있으나 B는 상속받을 수 없다.
- ㄷ. 병이 유언 없이 사망한다면, C는 병의 재산을 상속받을 수 있으나 A는 상속받을 수 없다.
- ㄹ. 정이 유언 없이 사망한다면, D는 정의 재산을 상속받을 수 있으나 B는 상속받을 수 없다.

- ① ㄱ, ㄴ    ② ㄱ, ㄷ    ③ ㄴ, ㄷ    ④ ㄴ, ㄹ    ⑤ ㄷ, ㄹ

17. 다음 사례에 대한 옳은 법적 판단만을 <보기>에서 있는 대로 고른 것은? [3점]

갑은 A에 대한 중상해 혐의로, 을은 사기 혐의로 각각 도주 중 수사 기관에 긴급 체포되었고, 병은 절도 혐의로 수사를 받았다. 갑은 ㉠ 구속 적부 심사 절차에서 석방되었고, 구속 적부 심사를 청구하지 않았던 을은 보석으로 석방되었다. 갑은 징역 1년을 선고받았고, 을은 ㉡ 벌금형에 대해 일정 기간 집행을 유예하는 판결을 선고받았으며, 병은 ㉢ 선도 조건부 기소 유예 처분을 받았다.

<보 기>

- ㄱ. ㉠의 결정과 달리 ㉢은 검사가 한다.
- ㄴ. ㉡ 확정 후 그 효력이 상실 또는 취소됨이 없이 유예 기간이 지나면 을에 대한 공소 제기가 없었던 것으로 간주된다.
- ㄷ. 을은 형사 재판의 당사자가 된 이후에 석방되었다.
- ㄹ. A는 법원의 배상 명령을 통해 국가로부터 피해 구조금을 지급받을 수 있다.

- ① ㄱ, ㄴ    ② ㄱ, ㄷ    ③ ㄴ, ㄹ  
④ ㄱ, ㄷ, ㄹ    ⑤ ㄴ, ㄷ, ㄹ

18. 국제 관계를 바라보는 갑, 을의 관점에 대한 설명으로 옳은 것은?

국가 간 관계는 힘의 우위에 의해 결정되는 것입니다. 따라서 국가는 힘을 길러 자국의 안보를 지키려 하며, 자국의 이익을 배타적으로 추구합니다.

국제기구 등 다양한 제도를 통해서 국가 간 평화는 실현될 수 있습니다. 또한 국가가 서로 협력함으로써 공동의 이익을 실현할 수 있습니다.

- ① 갑의 관점은 보편적 선이나 윤리의 관점에서 국제 관계를 설명한다.
- ② 갑의 관점은 국제법을 국제 사회의 분쟁 해결을 위한 효과적인 수단으로 본다.
- ③ 을의 관점은 집단 안보 체제를 국제 평화 실현의 방안으로 본다.
- ④ 을의 관점은 세력 간 힘의 균형이 이루어지는 전략으로 국제 질서 유지가 가능하다고 본다.
- ⑤ 을의 관점과 달리 갑의 관점은 국제 사회에서 강제력을 행사할 수 있는 중앙 정부가 존재한다고 본다.

19. 우리나라 지방 자치 단체의 기관 A, B에 대한 설명으로 옳은 것은?

□□군 주민들은 노인 복지를 증진하는 내용을 담은 '○○ 조례안'을 적법한 요건을 갖춰 A에게 제출함으로써 조례 제정을 청구하였다. A는 주민이 청구한 조례안을 B에 부의하였다. B는 조례안을 심의·의결하였고, 의결된 조례안은 A에게 이송되었다.

- ① A는 지방 자치 단체 예산의 심의·확정권을 갖는다.
- ② B는 집행 기관으로서 법령의 범위 안에서 제정한 조례를 집행한다.
- ③ B의 장(長)은 지방 자치 단체를 대표하고 행정 사무를 총괄한다.
- ④ A와 B 간에 수직적 권력 분립이 나타난다.
- ⑤ B는 지방 자치 단체의 사무에 관한 감사·조사권으로 A를 견제할 수 있다.

20. 다음 자료에 대한 분석으로 옳은 것은? [3점]

갑국의 대통령 선거에서는 각 지역에 배정된 선거인단을 가장 많이 확보한 후보자가 대통령으로 선출된다. 각 지역에는 유권자 100명당 선거인단 1명씩 배정되며 지역별 선거에서 가장 많은 표를 얻은 후보자는 해당 지역 선거인단을 모두 확보한다.

갑국의 의회는 4개의 선거구에서 선출된 8명의 의원으로 구성된다. 각 선거구에서는 득표순으로 2인의 의원이 선출되며, 각 정당은 한 선거구에 1명의 후보자를 공천한다. 선거구는 경계선이 접한 2개의 지역을 1개로 통합하여 확정되며 대각선 방향의 통합은 고려하지 않으며, 통합 후 한 선거구 유권자 수가 다른 한 선거구 유권자 수의 2배 이상이 되지 않도록 한다.

최근 갑국에서는 대통령 선거와 의회 의원 선거가 동시에 각각 실시되었고, 모든 유권자는 선호하는 정당의 후보자에게 투표하여 대통령과 의회 의원이 선출되었다. 단, 대통령 선거에서는 A당과 C당에서만 후보자가 출마하였으며 B당을 선호하는 유권자는 A당 후보자에게, D당을 선호하는 유권자는 C당 후보자에게 투표하였다. 다음은 갑국의 모든 지역별 위치 및 유권자 수와 모든 유권자의 정당 선호도를 나타낸다.

<지역별 위치 및 유권자 수>		<지역별 유권자의 정당 선호도>				
(단위: 명)		(단위: %)				
지역1	지역2	구분	A당	B당	C당	D당
지역1 (500)	지역2 (200)	지역1	40	20	30	10
지역3 (500)	지역4 (300)	지역2	30	10	40	20
지역5 (100)	지역6 (100)	지역3	30	50	10	10
지역7 (400)	지역8 (400)	지역4	50	10	30	10
		지역5	30	10	10	50
		지역6	30	10	40	20
		지역7	10	10	60	20
		지역8	10	10	60	20

\* 정당은 A~D당만 존재하고 무소속 후보자는 없음.  
\*\* 유권자의 정당 선호도는 변함이 없고, 유권자는 대통령 선거에 1표, 의회 의원 선거에 1표를 행사하였으며 무효표는 없음.

- ① 의회 의원 선거의 대표 결정 방식은 절대다수 대표제이다.
- ② 전체 유권자 과반의 표를 얻은 후보자가 대통령으로 선출되었다.
- ③ 의회 내 가장 많은 의석을 확보한 정당은 A당이다.
- ④ 선출된 대통령의 소속 정당과 D당은 확보한 의석수가 같다.
- ⑤ 의회 의원 선거 결과 B당과 C당은 모두 득표율에 비해 의석률이 낮다.

\* 확인 사항  
○ 답안지의 해당란에 필요한 내용을 정확히 기입(표기)했는지 확인 하시오.

제 4 교시

# 사회탐구 영역(정치와 법)

성명  수험 번호  -     제 [ ] 선택

1. 정치를 바라보는 관점 A에 대한 설명으로 옳은 것은?

정치를 바라보는 관점은 크게 두 가지로 구분된다. A는 정치 권력을 획득하고 유지·행사하는 과정과 관련된 국가 고유의 활동만을 정치로 본다. 한편 넓은 의미로 정치를 바라보는 관점은 국가를 포함한 모든 사회 집단에서 나타나는 갈등을 해결하는 일체의 과정을 정치로 본다.

- ① 대통령의 국정 운영을 정치로 본다.
- ② 임금 인상에 대한 노사 간 협상 과정을 정치로 본다.
- ③ 국가 형성 이전의 정치 현상을 설명하기에 적합하다.
- ④ 다른 사회 집단의 활동과 구별되는 국가 활동의 특수성을 부정한다.
- ⑤ 다양한 사회 집단이 내부 이해관계의 대립을 자체적으로 조정 해가는 과정을 정치로 본다.

2. 다음 자료에 대한 설명으로 옳은 것은? [3점]

역사적으로 법치주의의 의미는 A에서 B로 확장되었다. A는 군주의 자의적인 권력 행사를 제한하기 위해 시민의 대표인 의회가 제정한 법률에 따라 국가 권력이 행사되어야 함을 강조 하면서 등장하였다. 그러나 합법적인 절차에 따라 제정된 법률에 의해서도 시민의 자유와 권리가 침해될 수 있다는 역사적 경험을 통해 법률의 목적과 내용도 헌법의 가치 체계에 합치되어야 함을 강조하는 B가 등장하였다. 이러한 B의 정신은 법과 제도에 투영되어 있다. 가령 죄형 법정주의의 파생 원칙 중 하나인 (가) 은/는 B가 형법에 구현된 것으로 범죄와 이에 대한 형벌은 적절한 균형을 이루어야 하며 헌법의 이념에 부합해야 함을 내용으로 한다. 이러한 의미에서 오늘날 죄형 법정주의는 B의 요청을 충실히 반영하고 있다.

- ① A는 법적 안정성보다 실질적 평등과 같은 정의의 실현을 강조한다.
- ② B는 법률에 대한 헌법의 우위를 보장하기 위해 헌법 재판 제도의 필요성을 강조한다.
- ③ B는 A와 달리 개인의 권리를 제한하기 위해서는 의회가 제정한 법률에 근거가 있어야 한다고 본다.
- ④ (가)가 강조될수록 형법의 보장적 기능은 약화되고, 보호적 기능은 강화된다.
- ⑤ (가)는 사안에 적용할 법률 규정이 없는 경우에는 그와 유사한 규정을 적용해야 한다는 원칙이다.

3. 표는 우리나라 헌법의 기본 원리 A, B를 비교한 것이다. 이에 대한 설명으로 옳은 것은?

구분	관련 헌법 조항	실현 방안
A	(가)	• 최저 임금제 실시 • 사회 보장 제도 실시
B	국가는 전통문화의 계승·발전과 민족 문화의 창달에 노력하여야 한다.	• (나) • 학문·예술의 자유 보장

- ① (가)에는 '대한민국은 국제 평화의 유지에 노력하고 침략적 전쟁을 부인한다.'가 들어갈 수 있다.
- ② (나)에는 '평생 교육 진흥'이 들어갈 수 있다.
- ③ A는 개인의 사적 영역에 대한 국가의 간섭을 최소화해야 한다는 원리이다.
- ④ A는 B와 달리 근대 입헌주의 헌법에서부터 강조된 원리이다.
- ⑤ B는 A와 달리 여성 및 연소 근로자에 대한 특별한 보호를 강조한다.

4. 다음 자료에 대한 설명으로 옳은 것은? [3점]

갑국과 을국은 각각 전형적인 대통령제와 의원 내각제 중 하나를 채택하고 있다. 표는 각국에서 입법부와 행정부가 상호 견제하는 수단을 나타낸 것이다.

구분	갑국	을국
입법부가 행정부를 견제하는 수단	내각 불신임권	(가)
행정부가 입법부를 견제하는 수단	(나)	법률안 거부권

- ① (가)에는 '의회 해산권'이 들어갈 수 있다.
- ② (나)에는 '탄핵 소추권'이 들어갈 수 있다.
- ③ 갑국에서는 의회 의원이 각료를 견할 수 있다.
- ④ 갑국에서는 을국과 달리 행정부 수반과 국가 원수가 동일인이다.
- ⑤ 을국에서는 갑국과 달리 의회 의원이 국민에 의해 선출된다.

5. 밑줄 친 ㉠~㉣에 대한 설명으로 옳은 것은?

□□신문 △△△△년 △△월 △△일

**○○법 개정, 국민의 청원권 대폭 강화**

그동안 ㉠ 청원을 하려면 해당 기관에 직접 방문하여 서면으로 제출해야 하는 불편함이 있었다. 이에 대한 ㉡ 국민의 개선 요구를 적극 반영하여 ㉢ 온라인 제출도 가능하도록 ○○법이 개정되었다. 또한 청원인이 원하는 경우 온라인 청원 시스템에 청원 내용을 공개하여 국민 의견을 수렴하는 ㉣ 공개 청원 제도도 함께 도입되었다.

- ① ㉠이 활성화될수록 정치권력에 대한 국민의 감시 기능은 약화된다.
- ② ㉡은 정치 과정 중 산출에 해당한다.
- ③ ㉢을 통해 정치 참여의 공간적 제약을 완화할 수 있다.
- ④ ㉣은 국민의 의견 제시 기회를 축소시킨다.
- ⑤ ㉣은 ㉡과 달리 국민의 정치적 효능감 향상에 기여할 수 있다.

정치와 법



## 2 (정치와 법)

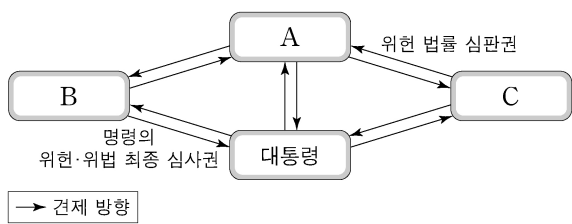
## 사회탐구 영역

6. (가)~(다)는 기본권에 관한 우리나라의 헌법 조항 중 일부이다. 이에 대한 설명으로 옳은 것은?

- (가) 모든 국민은 사생활의 비밀과 자유를 침해받지 아니한다.  
 (나) 누구든지 성별·종교 또는 사회적 신분에 의하여 정치적·경제적·사회적·문화적 생활의 모든 영역에 있어서 차별을 받지 아니한다.  
 (다) 국민의 모든 자유와 권리는 국가 안전 보장·질서 유지 또는 공공 복리를 위하여 필요한 경우에 한하여 법률로써 제한할 수 있으며, 제한하는 경우에도 자유와 권리의 본질적인 내용을 침해할 수 없다.

- ① (가)에 규정된 기본권은 다른 기본권이 침해되었을 때 이를 구제하기 위한 수단적 권리이다.
- ② (가)에 규정된 기본권은 인간다운 생활의 보장을 국가에게 적극적으로 요구할 수 있는 권리이다.
- ③ (나)에 따르면 합리적 이유의 유무와 관계없이 모든 차별이 허용되지 않는다.
- ④ (다)는 국가 권력의 남용을 방지하여 국민의 기본권을 보장하는 것을 목적으로 한다.
- ⑤ (다)에 따르면 기본권을 제한하는 목적의 정당성이 인정된다면 수단의 적합성은 고려될 필요가 없다.

7. 그림은 우리나라 헌법 기관 간 견제 관계를 나타낸다. A~C에 대한 설명으로 옳은 것은? (단, A~C는 각각 국회, 대법원, 헌법재판소 중 하나이다.) [3점]



- ① A의 장(長)은 국무 회의의 부의장이 된다.
- ② B는 국정을 감사하거나 특정한 국정 사안에 대하여 조사할 수 있다.
- ③ C는 정당의 목적이나 활동이 민주적 기본 질서에 위배된다는 정부의 제소가 있을 때 그 정당의 해산 심판을 담당한다.
- ④ C가 위헌 법률 심판권을 행사하기 위해서는 A의 위헌 법률 심판 제청이 전제되어야 한다.
- ⑤ B의 장(長)과 달리 C의 장(長)을 대통령이 임명할 때에는 A의 동의를 필요하다.

8. 정치 참여 집단 A~C에 대한 설명으로 옳은 것은? (단, A~C는 각각 정당, 이익 집단, 시민 단체 중 하나에 해당하는 집단이다.) [3점]

○○ 국립공원 주변 관광업 종사자들로 구성된 A는 B를 찾아가 관광업계의 숙원 사업인 ○○ 국립공원 케이블카 설치 사업이 하루 빨리 시작될 수 있도록 관련 제도 마련을 요구하는 입장문을 전달하였다. 한편 100여 개국의 시민들이 연대한 환경 보호 운동 단체인 C는 ○○ 국립공원 케이블카 설치 반대 시위를 벌였다. 이와 관련하여 B는 더 많은 유권자의 의견을 반영할 수 있는 방향으로 선거 공약을 수립하고자 공청회를 열었다.

- ① A는 정권을 획득하여 정당을 실현하고자 한다.
- ② B는 공직 선거에서 후보자를 공천한다.
- ③ A는 B와 달리 정치 사회화 기능을 수행한다.
- ④ C는 A와 달리 소속 구성원의 이익을 공익보다 우선시한다.
- ⑤ C는 B와 달리 자신들의 활동에 대해 정치적 책임을 진다.

9. 다음 자료는 국제 사회를 바라보는 관점 (가), (나)를 비교한 것이다. 이에 대한 설명으로 옳은 것은? (단, A와 B는 국제 연합의 주요 기관이다.)

(가)  
 ■ 주요 입장  
 국제 사회는 국제기구나 국제법을 통해 평화적이고 협력적인 관계를 유지할 수 있음.  
 ■ 사례  
 ○○ 동계 올림픽을 앞두고 국제 연합의 모든 회원국으로 구성된 A에서는 올림픽 기간 중 일체의 적대 행위 중단을 촉구하는 올림픽 휴전 결의안을 채택함.

(나)  
 ■ 주요 입장  
 국제 사회는 힘의 원리에 따라 운영되며 국가는 자국의 안보와 이익을 우선시함.  
 ■ 사례  
 15개 이사국으로 구성된 B에서는 □□국의 화학 무기 공격을 규탄하는 결의안을 신속히 채택하려 했지만 상임 이사국인 △△국의 거부권 행사로 무산됨.

- ① A는 주권 평등의 원칙이 적용되는 국제 연합의 최고 의사 결정 기관이다.
- ② B에서 △△국은 실질 사항을 제외한 안전에 대해 거부권을 행사할 수 있다.
- ③ A는 B와 달리 국제 사법 재판소의 재판관을 선출하는 권한을 가진다.
- ④ (가)는 (나)와 달리 국제 사회가 무정부 상태라고 본다.
- ⑤ (나)는 (가)와 달리 집단 안보 체제를 통해 국제 평화를 실현해야 한다고 본다.

10. 다음 사례에 대한 법적 판단으로 옳은 것은? [3점]

고등학생 갑과 을은 방학을 맞아 아르바이트를 하기로 하고, ○○ 백화점 사장 병과 각각 근로 계약을 체결하였다. 다음은 갑과 을이 병과 체결한 근로 계약의 공통된 내용 중 일부이다.

- 근로 기간: 2021년 1월 6일~2021년 2월 28일
- 근로 시간: 10시~18시(휴게 시간: 13시~14시)
- 근무일: 매주 수요일~일요일 / 휴일: 매주 월, 화요일
- 임금: 시간당 8,000원

\* 2021년 법정 최저 임금은 시간당 8,720원임.

표는 갑과 을이 병과 근로 계약을 체결할 때 요구되는 서류들을 비교한 것이다.

(○: 요구됨, ×: 요구되지 않음)

구분	갑	을
취직 인허증	×	×
친권자 또는 후견인 동의서	×	○
연령을 증명하는 가족 관계 기록 사항에 관한 증명서	×	○

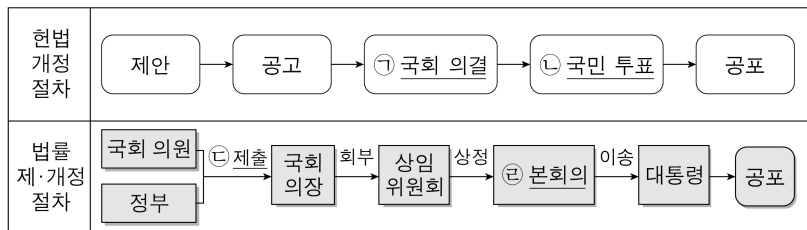
- ① 을의 친권자 또는 후견인은 을의 근로 계약을 대리할 수 있다.
- ② 을은 갑과 달리 주말 근로가 원칙적으로 금지되므로 근무일을 변경해야 한다.
- ③ 근로 계약이 이미 체결되었으므로 갑은 병에게 법정 최저 임금을 요구할 수 없다.
- ④ 을과 병이 근무일의 연장 근로에 대해 추가적으로 합의하더라도 병은 을을 1일 2시간씩 더 근로하게 할 수 없다.
- ⑤ 갑은 을과 달리 친권자 또는 후견인의 동의 없이 병에게 단독으로 임금을 청구할 수 있다.

11. 다음 자료에 대한 설명으로 옳은 것은?

우리나라에서는 지방 자치 단체의 예산 편성 과정에 주민이 직접 참여할 수 있으며, 구체적인 운영 방법은 각 지방 자치 단체의 ㉠조례를 통해 자율적으로 정하도록 하고 있다. 주민이 지역에 필요한 사업을 제안하면 관련 부서에서 사업의 타당성을 검토하고, 지방 행정 사무를 총괄하는 A가 ㉡예산안을 편성한다. 편성 후 제출된 예산안은 B가 심의·의결하고, 의결된 사항은 주민의 선거로 선출된 A가 집행한다.

- ① 주민은 ㉠의 폐지를 청구할 수 없다.
- ② ㉡은 주민 투표를 통해야만 최종 확정된다.
- ③ A는 중앙 정부에서 위임한 사무를 담당하지 않는다.
- ④ B의 의원은 지역구 의원과 비례 대표 의원으로 구분된다.
- ⑤ A는 B와 달리 담당 사무에 관하여 ㉠을 제정할 수 있다.

12. 밑줄 친 ㉠~㉣에 대한 옳은 설명만을 <보기>에서 있는 대로 고른 것은?



<보 기>  
 가. ㉠을 위해서는 국회 재적 의원 3분의 2 이상의 찬성을 얻어야 한다.  
 나. 국회 의원 선거권자는 ㉡에 참여하여 투표할 수 있다.  
 다. 정부의 ㉢은 국회 의원 10인 이상의 동의가 필요하다.  
 리. 교섭 단체는 제출된 법률안을 ㉣에 직권 상정할 수 있다.

- ① 가, 나                      ② 가, 리                      ③ 다, 리
- ④ 가, 나, 다                ⑤ 나, 다, 리

13. 다음 사례에 대한 법적 판단으로 옳은 것은? [3점]

갑(남)과 을(여)은 법률상 혼인하였고 그 사이에서 A와 B가 태어났다. 그 후 갑과 을은 협의 이혼하면서 A는 갑이, B는 을이 양육하기로 하였다. 한편 갑은 병과, 을은 정과 법률상 혼인하였고 을과 정 사이에서 C가 태어났다. 그 후 ㉠병은 A를 친양자가 아닌 양자로 입양하였고, ㉡정은 B를 친양자로 입양하였다.  
 \*A~C는 모두 미성년자이고, 미혼이며 자녀가 없다.  
 \*\*갑~정의 성(姓)과 본(本)은 모두 다르다.

- ① 갑과 을의 이혼은 가정 법원에서 이혼 의사를 확인받는 즉시 그 효력이 발생한다.
- ② ㉠ 이후에도 병은 A의 친권자가 될 수 없다.
- ③ ㉠ 이후 A가 유언 없이 사망하였다면 병은 을과 달리 A의 재산을 상속받을 수 있다.
- ④ ㉡ 이후 B가 유언 없이 사망하였다면 정은 갑과 달리 B의 재산을 상속받을 수 없다.
- ⑤ C가 정의 성(姓)과 본(本)을 따른 경우, ㉡으로 인해 B는 정의 성과 본을 따른다.

14. 다음 자료에 대한 설명으로 옳은 것은? [3점]

(가)~(다)는 범죄 성립 요건인 구성 요건 해당성, A, B 중 어느 하나가 갖춰지지 않아 해당 범죄가 성립하지 않는 사례이다. 단, A와 B는 각각 위법성과 책임 중 하나이다.  
 (가) 갑(22세)이 장난으로 친구의 애완견을 발로 걷어찬 경우는 구성 요건 해당성이 인정되지 않아 폭행죄가 성립하지 않는다.  
 (나) 경찰관 을(43세)이 적법한 절차에 따라 현행범인을 체포한 경우는 A가 인정되지 않아 체포죄가 성립하지 않는다.  
 (다) 병(51세)이 심신 상실 상태에서 아무런 이유 없이 타인에게 상해를 입힌 경우는 B가 인정되지 않아 상해죄가 성립하지 않는다.

- ① (가)는 행위자에 대한 법적 비난 가능성이 인정되지 않아 범죄가 성립하지 않는 사례이다.
- ② (나)는 법질서 전체의 관점에서 볼 때 부정적으로 판단되지 않아 범죄가 성립하지 않는 사례이다.
- ③ (다)는 법률로 정해 놓은 범죄 행위 유형에 해당하지 않아 범죄가 성립하지 않는 사례이다.
- ④ 저항할 수 없는 폭력에 의하여 강요된 행위로 타인에게 상해를 입힌 경우는 A가 인정되지 않아 범죄가 성립하지 않는 사례이다.
- ⑤ 자신의 집에 침입하여 생명을 위협하는 강도를 제압하는 과정에서 강도에게 상해를 입힌 경우는 B가 인정되지 않아 범죄가 성립하지 않는 사례이다.

15. (가) 사례를 (나)에 적용했을 경우에 대한 옳은 법적 판단만을 <보기>에서 고른 것은? [3점]

(가) 갑(18세)은 온라인 게임을 위하여 을(39세)로부터 거액의 돈을 빌리는 계약을 하였다. 갑의 법정 대리인은 병이다.  
 (나)

질문	<상황 1>	<상황 2>	<상황 3>	<상황 4>
계약 당시 병의 동의를 있었는가?	예	아니요	아니요	아니요
계약 당시 을은 갑이 미성년자임을 알았는가?	예	예	아니요	아니요
계약 후 병이 추인하였는가?	아니요	아니요	예	아니요

<보 기>  
 가. <상황 1>에서 을의 사기로 계약을 하였다면 계약은 일단 유효하게 성립하나 갑은 계약을 취소할 수 있다.  
 나. <상황 2>에서 갑이 병의 동의를 위조하는 속임수로 계약을 하였다면 갑뿐만 아니라 병도 계약을 취소할 수 없다.  
 다. <상황 3>에서 을은 계약 체결의 의사 표시를 철회할 수 있다.  
 리. <상황 4>에서 을은 미성년자인 갑에게 계약의 취소 여부에 대한 확답을 촉구할 수 있다.

- ① 가, 나                      ② 가, 다                      ③ 나, 다                      ④ 나, 리                      ⑤ 다, 리

# 4 (정치와 법)

# 사회탐구 영역

16. 표는 근대 민법의 수정·보완 원칙과 적용 사례를 나타낸 것이다. 이에 대한 설명으로 가장 적절한 것은? [3점]

근대 민법의 수정·보완 원칙	적용 사례
(가)	정부는 자연 환경 보전과 건전한 생활 환경 확보라는 공익을 목적으로 관련 법에 근거하여 개인의 토지를 개발 제한 구역으로 지정하였다.
무과실 책임의 원칙	(나)

- ① (가)는 개인이 국가의 간섭 없이 자신의 의사에 기초하여 상대방과 자유롭게 법률관계를 형성할 수 있다는 원칙이다.
- ② (가)에 따르면 행위자는 자신의 행위로 인한 결과를 의도하거나 자신에게 과실이 있는 경우에만 손해 배상 책임을 진다.
- ③ (가)에 따라 개인의 사유 재산권에 대한 절대적 지배가 인정되어 국가나 다른 개인은 이를 함부로 간섭하거나 제한할 수 없다.
- ④ (나)에는 ‘법원은 법정 최고 이자율을 초과하여 돈을 빌리는 계약에서 그 초과분에 대해서는 무효라고 판단하였다.’가 들어갈 수 있다.
- ⑤ (나)에는 ‘제조물 제조상의 결함으로 생명·신체·재산상의 손해가 발생한 사안에서 법원은 제조업자에게 고의나 과실이 없음에도 제조물 책임법에 따른 책임을 인정하였다.’가 들어갈 수 있다.

17. 다음 사례에 대한 법적 판단으로 옳은 것은?

갑(19세)은 을(35세)이 운영하는 결혼 사진 촬영 업체에서 촬영 아르바이트를 하였다. 어느 날 병(30세)이 을에게 자신의 결혼식 사진 촬영을 의뢰하였고, 갑은 그 촬영을 위해 오토바이를 직접 운전하여 결혼식장으로 가던 중 운전 부주의로 정(47세)을 크게 다치게 하였다. 그리고 사고 처리 때문에 병의 결혼식 사진은 촬영되지 못했다.

- ① 갑의 병에 대한 채무 불이행 책임이 성립한다.
- ② 갑의 정에 대한 채무 불이행 책임이 성립한다.
- ③ 을의 병에 대한 채무 불이행 책임이 성립하지 않는다.
- ④ 을의 정에 대한 특수 불법 행위 책임이 성립하지 않는 경우에도 갑의 정에 대한 일반 불법 행위 책임이 성립한다.
- ⑤ 정이 입은 재산적 손해는 정신적 손해와 달리 금전으로 배상하는 것을 원칙으로 한다.

18. 다음 사례에 대한 법적 판단으로 옳은 것은?

갑과 을은 병에게 전치 3주의 부상을 입히고 도주하였으나 일주일 후에 검거되었다. 갑, 을 모두 구속된 상태에서 수사가 진행되었다. 검사는 범죄 혐의를 확인하고 갑, 을 모두 유죄 판결을 받을 수 있다고 판단하였다. 검사는 피의 사실이 인정되지만 피해자와의 관계, 사건 가담 정도, 연령 등을 고려하여 갑에 대해서는 불기소 처분을 내리고, 을에 대해서는 공소를 제기하였다. 재판 결과 을에 대해 징역 6월이 선고되었다. 을은 변호사와 상의 후 항소를 포기하였다.

- ① 갑은 불기소 처분을 이유로 형사 보상을 받을 수 있다.
- ② 을이 항소를 포기하였으므로 검사의 항소 여부와 관계없이 판결은 확정된다.
- ③ 을은 형 집행 도중에 보석 제도를 통하여 형기 만료 전에 석방될 수 있다.
- ④ 병은 형사 재판의 당사자이므로 형사 재판에 참여하여 의견을 진술할 수 있다.
- ⑤ 갑, 을 모두 형사 책임 여부와 관계없이 민사상 손해 배상 책임을 질 수 있다.

19. 그림의 (가)에 들어갈 내용으로 옳은 것은? [3점]

〈서술형 평가〉

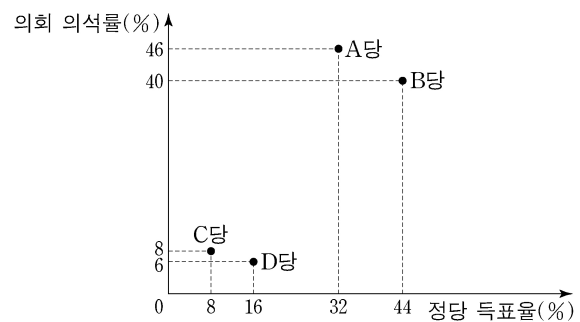
◎ 국제법의 법원(法源) 중 하나인 A의 특징을 3가지 서술하시오. (각 서술별로 채점하며, 옳은 서술 1개당 1점, 총 3점)

답안	점수
1. 우리나라에서는 국회가 비준권을 가진다.	2점
2. 국제 사회의 반복된 관행이 법적 확신을 얻어 효력을 가지게 된 것이다.	
3. _____ (가)	

- ① 국제기구도 체결 주체가 될 수 있다.
- ② 우리나라에서 헌법과 동등한 효력을 가진다.
- ③ 국제 사법 재판소의 재판 준거가 될 수 있다.
- ④ 명시적 입법 절차를 거쳐 성문화된 형식으로 존재한다.
- ⑤ 체결에 참여한 행위 주체에 대해서만 구속력을 지닌다.

20. 다음 자료에 대한 분석으로 옳은 것은?

전형적인 의원 내각제 정부 형태를 채택하고 있는 갑국의 의회는 지역구 의원 70인과 비례 대표 의원 30인으로 구성되며, 유권자는 지역구 의원 선출을 위해 후보자에 1표, 비례 대표 의원 선출을 위해 정당에 1표를 행사한다. 지역구 의원 선거에서 각 정당은 선거구별로 1인의 후보자만 공천하며 각 선거구별로 선출되는 지역구 의원 수는 같다. 비례 대표 의석은 각 정당이 얻은 정당 득표율에 비례 대표 의원 정수(定數)를 곱하여 산출된 수의 정수(整數)만큼 각 정당에 먼저 배분하고 잔여 의석은 소수점 이하의 수가 큰 순서대로 각 정당에 1석씩 배분한다. 갑국은 현재의 의원 선출 방식과 지역구 의원 수는 유지하되, 비례 대표 의원 수는 늘려서 전체 의원 수를 현재의 1.5배가 되도록 하는 개편안을 검토하고 있다. 그림은 현행 선거 제도에서 실시된 갑국의 최근 의회 의원 선거 결과를 나타낸다.



\* 정당은 A~D당만 존재하고 무소속 후보는 없으며, 투표율은 100%이고 무효표는 없음.  
 \*\* 개편안 적용 시 최근 의회 의원 선거의 정당 득표율과 지역구 의원 선거 결과만을 근거로 판단함.

- ① 현재 지역구 의원 선거의 선거구 제도는 ‘선거구 내 당선자 간 표의 등가성 문제’가 발생한다.
- ② 최근 선거 결과 D당의 비례 대표 의석수는 C당의 비례 대표 의석수의 2배이다.
- ③ 개편안 적용 시 A당의 의회 의석수와 B당의 의회 의석수는 같다.
- ④ 개편안 적용 시 C당의 정당 득표율과 C당의 의회 의석률은 일치하지 않는다.
- ⑤ 최근 선거 결과에서뿐만 아니라 개편안을 적용했을 때에도 B당과 D당만으로는 연립 내각이 구성될 수 없다.

\* 확인 사항  
 ○ 답안지의 해당란에 필요한 내용을 정확히 기입(표기)했는지 확인하시오.



제 4 교시

# 사회탐구 영역 (정치와 법)

성명

수험 번호

제 [ ] 선택

1. 정치를 바라보는 갑, 을의 관점에 대한 설명으로 옳은 것은?

- ① 갑의 관점은 이익 집단 내 구성원들 간의 합의를 도출하는 과정을 정치로 본다.
- ② 을의 관점은 국회 의원의 입법 활동을 정치로 보지 않는다.
- ③ 갑의 관점은 을의 관점에 비해 다원화된 현대 사회의 정치 현상을 설명하기에 적합하다.
- ④ 갑, 을의 관점 모두 이해관계의 조정과 갈등의 해결을 정치의 기능으로 본다.
- ⑤ 갑, 을의 관점 모두 국가 형성 이전에 나타난 정치 현상을 설명하기에 적합하다.

2. 다음 주장에 부합하는 법치주의 유형에 대한 옳은 설명만을 <보기>에서 고른 것은? [3점]

법치에 입각해 국가 권력이 분립되고 국가 활동에 대한 예측 가능성이 확보된다면, 법이라는 형식에 의한 통치 질서로 인해 최소한의 기본권 보장은 가능해진다. 하지만 입법자가 어떠한 내용의 법률을 제정해도 정당한 것으로 인정된다면, 법이 독재적 통치 구조와 결합되어 국민의 기본권을 억압하는 수단으로 악용될 수 있다. 따라서 입법자가 법률을 제정함에 있어 그 목적과 내용이 인간의 존엄과 가치를 보장하는 헌법의 이념에 부합하도록 해야 인류가 오랫동안 꿈꾸어 왔던 법치의 이념이 성취될 수 있다.

- <보 기>
- ㄱ. 법은 기본권을 침해하지 않는 범위 내에서 실질적 정당성이 인정된다고 본다.
  - ㄴ. 법의 목적과 내용이 정의에 부합할 때 법의 권위가 발생한다는 점을 간과한다.
  - ㄷ. 형식적 합법성을 갖춘 법이라도 자유와 권리의 본질적 내용을 침해할 수 없다고 본다.
  - ㄹ. 법에 근거하여 국가 권력의 행사가 이루어지지만 하면 기본권이 실질적으로 보장된다고 본다.

- ① ㄱ, ㄴ    ② ㄱ, ㄷ    ③ ㄴ, ㄷ    ④ ㄴ, ㄹ    ⑤ ㄷ, ㄹ

3. 다음 사례에서 갑, 을이 공통적으로 침해받은 기본권 유형에 대한 설명으로 옳은 것은?

- 뇌물죄로 구속 수사를 받고 있는 갑은 변호인의 조력을 받고자 변호인과의 접견을 요청하였으나, 수사 기관은 법률의 근거 없이 자의적으로 이를 거부하였다.
- 다큐멘터리 영화를 제작한 을은 영화관에서 이를 상영하고자 하였으나, 정부 기관은 헌법에서 금지하는 사전 검열을 통해 정당한 이유 없이 영화 상영을 불허하였다.

- ① 다른 기본권을 보장하기 위한 수단적 권리이다.
- ② 실질적 평등 실현을 위해 등장한 현대적 권리이다.
- ③ 국가의 정치 과정에 참여할 수 있는 능동적 권리이다.
- ④ 인간다운 생활을 국가에 요구할 수 있는 적극적 권리이다.
- ⑤ 국가 권력의 간섭이나 침해를 받지 않을 방어적 권리이다.

[4~5] 다음 자료를 보고 물음에 답하시오.

A의 장(長)은 갑을 B의 재판관으로 지명하고, C에게 현직 법관인 을을 대법관 후보자로 임명 제청하였다. 이후 D는 을에 대한 임명 동의안과 국무 위원 임명 제청권자인 E에 대한 임명 동의안을 처리하였다. 한편 민주적 정당성을 직접 확보할 수 없는 A의 장(長)이 헌법 기관을 구성하도록 하는 것이, 자유 민주주의의 법적 기초로서 모든 국가 권력의 정당성의 근거가 국민에게 있다는 우리나라 헌법의 기본 원리인 (가)에 위반된다는 주장이 제기되고 있다. 그러나 헌법에 근거하여 A의 장(長)의 임명 과정에 C와 D가 권한을 행사하므로, 민주적 정당성 확보에 문제가 없다는 반론도 있다.

4. 우리나라 헌법 기관 A~E에 대한 설명으로 옳은 것은? [3점]

- ① A는 하급 법원의 판결에 대한 재항고 사건을 심판한다.
- ② B는 C를 선출하기 위한 선거의 효력을 다투는 소송을 관할한다.
- ③ C는 정부가 제출한 법률안을 D의 본회의에 직권 상정할 수 있다.
- ④ D는 의장 1인과 부의장 2인을 선출한다.
- ⑤ E는 D와 달리 국무 위원의 해임을 C에게 건의할 수 있다.

5. 우리나라 헌법의 기본 원리 (가)에 대한 설명으로 가장 적절한 것은?

- ① 국가가 경제 민주화를 위하여 경제에 관한 규제와 조정을 할 수 있는 토대가 된다.
- ② 근대 자유방임적 시장 경제 발전 과정에서 나타난 결함을 극복하기 위해 등장하였다.
- ③ 국가 의사를 최종적으로 결정할 수 있는 최고의 권력을 국민이 보유하고 있다는 것을 의미한다.
- ④ 상호주의 원칙에 따라 국제법과 조약이 정하는 바에 의하여 외국인의 지위를 보장하는 근거가 된다.
- ⑤ 국가로부터 문화 활동의 자유가 보장되고 국가에 의하여 문화 활동이 보호·지원되어야 한다는 원리이다.

정치와 법

## 2 (정치와 법)

## 사회탐구 영역

6. 정치 참여 집단 A~C에 대한 설명으로 옳은 것은? (단, A~C는 각각 정당, 이익 집단, 시민 단체 중 하나에 해당하는 집단이다.)

사회자: 본인의 정치 참여 경험에 대해 얘기해 주세요.

사람 1: 저는 지난 총선에서 우리 지역구 의원 후보자 선출을 위한 A의 국민 경선에 참여하여 한 표를 행사했습니다.

사람 2: 저는 환경 보호에 관심이 많은 사람들과 함께 자발적으로 B를 조직하여 평소에는 '일회용품 줄이기' 공익 캠페인 활동을 하고 있습니다. 지난 총선 기간에는 A의 환경 보호 공약을 평가하여 유권자들의 선택을 도왔습니다.

사람 3: 저는 ○○ 업종에 종사하고 있는데, 같은 업종의 종사자들로 구성된 C에 가입하여 활동하고 있습니다. 지난 총선 기간에는 C의 일원으로 A에 방문하여 ○○ 업종에 대한 지원 제도를 공약에 포함시킬 것을 요구하였습니다.

- ① A는 국정 감사 및 조사권을 가진다.
- ② B는 C와 달리 정부의 정책을 비판하고 정치권력을 견제한다.
- ③ C는 B와 달리 정치적 책임을 지지 않는다.
- ④ A는 B, C와 달리 정치권력의 획득과 유지를 목적으로 한다.
- ⑤ B는 A, C와 달리 정치에 대한 국민의 지식과 관심을 증진시킨다.

7. 다음 자료에 대한 설명으로 옳은 것은? [3점]

**㉠ 주민 참여 예산 제도**

- 의의: 예산 편성 과정에 주민 참여를 보장함으로써 지방 재정 운영의 투명성과 공정성을 증대하고 참여 민주주의를 활성화하기 위한 제도
- 기대 효과: (가)
- 추진 근거
  - 지방재정법 제39조 및 ㉡ 같은 법 시행령 제46조
  - ㉢ ○○시 주민 참여 예산제 운영 조례
- 참여 방법: 공청회 또는 간담회, 인터넷 설문 조사 등
- 절차
 

주민 의견 수렴

→

의견 검토 및 심사

→

예산 편성안 조정

→

㉣ 예산의 심의·확정

- ① ㉠은 중앙 정부와 지방 자치 단체 간 수평적 권력 분립에 기여한다.
- ② ㉡에 대한 개정 및 폐지 권한은 지방 자치 단체장이 가진다.
- ③ ○○시 주민은 적법한 요건을 갖춰 ㉣의 개정을 청구할 수 있다.
- ④ ㉣은 ○○시 주민 투표로 결정된다.
- ⑤ (가)에는 '주민의 의견 반영을 통한 국가 예산 편성 과정의 신속성 확보'가 들어갈 수 있다.

8. 다음 자료에 대한 설명으로 옳은 것은? [3점]

갑은 공연히 사실을 적시하여 피해자의 명예를 훼손하였다는 이유로 기소되어 ㉠ ○○ 지방 법원에서 명예 훼손죄로 벌금형을 선고받았다. 이후 A에 상고한 갑은 상고심 계속 중 사건에 적용된 법률 조항이 기본권을 침해하여 헌법에 위반된다고 주장하면서 A에 (가) 제청을 신청하였으나 기각당하여, B에 재판의 전제가 된 해당 법률 조항이 헌법에 위반된다는 결정을 구하는 (나) 을/를 청구하였다. 이에 대해 B는 해당 법률 조항이 헌법에 위반되지 않는다고 결정하였다.

- ① 갑이 청구한 (나)는 권리 구제형 헌법 소원 심판이다.
- ② (나)는 (가)와 달리 국회의 입법권에 대한 견제 수단이 된다.
- ③ A는 ㉠과 달리 위헌·위법 명령에 대한 심사권을 가진다.
- ④ A의 법원은 B가 담당하는 탄핵 심판의 대상에 포함된다.
- ⑤ A는 갑의 제청 신청이 없으면 B에 직권으로 (가)를 제청할 수 없다.

9. 다음 자료에 대한 설명으로 옳은 것은? [3점]

[서술형 평가] A 국과 B 국은 각각 전형적인 대통령제와 의원 내각제 중 하나를 채택하고 있다. 제시된 자료를 보고 물음에 답하시오.

- A 국의 의회 의원 선거에서 야당인 ◇◇당이 과반 의석을 확보하면서 원내 제1당이 되었다. 이에 따라 여당인 □□당이 의회 내 소수당으로 전락하면서 행정부 수반의 국정 운영에 어려움이 예상된다.
- B 국의 의회 의원 선거에서 ○○당이 전체 의석의 42%를 획득하여 원내 제1당이 되었다. ○○당의 대표는 의회에서 행정부 수반으로 선출된 후 새로운 내각 구성원을 발표했다.

<서술형 1> B 국과 구분되는 A 국 정부 형태만의 특징을 3가지만 쓰시오. (각 1점, 총 3점)

<서술형 2> 의회 의원 선거 결과로 인해 B 국에서 나타날 수 있는 정치 상황을 2가지만 쓰시오. (각 1점, 총 2점)

[학생 답안 및 채점 결과]

문항	답안	채점 결과
<서술형 1>	의회 의원이 법률안을 제출할 수 있다.	㉠
	행정부 수반의 임기가 보장된다.	
<서술형 2>	(가)	1점
	(나) 연립 내각이 구성되었을 것이다.	

\* 각 답안 내용별로 채점하고, 답안 하나당 맞으면 1점, 틀리면 0점을 부여함.

- ① (가)에 '의회 의원이 각료를 겸직할 수 있다.'가 들어가면 ㉠은 '1점'이다.
- ② (나)에는 '행정부 수반의 법률안 거부권 행사가 빈번해질 것이다.'가 들어갈 수 없다.
- ③ A 국은 입법부와 행정부의 권력이 융합된 정부 형태를 채택하고 있다.
- ④ B 국에서는 A 국과 달리 국가 원수와 행정부 수반이 동일인이다.
- ⑤ A 국에서는 내각 불신임권, B 국에서는 탄핵 소추권을 통해 의회가 행정부를 견제한다.

10. 다음 사례에 대한 법적 판단으로 옳은 것은?

법률상 혼인을 한 갑(남)과 을(여)은 함께 A, B, C, D를 양육하고 있었다. 갑은 을과 혼인하기 전 병(여)과 혼인 신고 없이 혼인의 의사로 공동 생활을 하였다. 을은 갑과 혼인하기 전 정(남)과 이혼하고 정과의 혼인 기간 중에 태어난 C를 양육하고 있었다. 갑의 친구인 무는 아내와 사별 후 혼인 중 출생자인 D를 갑과 을에게 양자로 보냈다. 한편 B와 C는 갑작스런 사고로 중상을 입고 사망하였는데, B와 C 모두 유언을 남기지 않았다. 갑과 병 모두 B의 사망 전 B의 상속인이 될 수 있는 자격을 갖추고 있었다.

<B, C의 사고 당시 A, B, C, D의 법적 지위>

A	B	C	D
갑과 을 사이에서 태어난 자녀	갑과 병 사이에서 태어난 자녀	갑이 적법한 절차를 거쳐 입양한 친양자	갑과 을이 적법한 절차를 거쳐 입양한 친양자가 아닌 양자

\* A~D는 모두 미성년자이고, 자녀와 배우자는 없음.

- ① B, C의 사고 당시 갑, 을과 A, C, D 사이에 친자 관계가 있고, 갑, 병과 B 사이에 친자 관계가 있다.
- ② B, C의 사고 당시 무는 갑, 을과 달리 D의 재산에 관한 법률 행위를 대리할 수 있는 권한을 가진다.
- ③ B, C의 사고 당시 C는 D와 달리 갑의 친생자와 같은 지위를 가진다.
- ④ D는 C와 달리 가정 법원에 입양을 청구하고, 그 청구가 인용되어 입양의 효력이 생겼다.
- ⑤ C의 사망으로 을, 정은 C의 상속인이 될 수 없다.



11. 밑줄 친 ㉠~㉣에 대한 옳은 설명만을 <보기>에서 고른 것은?

○ ‘의원 소개 청원’은 현실적으로 국민이 국회 의원의 소개를 받기 어려운 경우가 많아 청원권이 제대로 보장되지 않는다는 비판을 받아 왔다. 이에 ㉠제도 개선의 필요성이 제기되면서 ㉡‘국민 동의 청원’이라는 제도가 추가로 도입되었다. 이 제도는 자신의 요구를 전자 청원 시스템에 등록하여 일정 수 이상 국민의 동의를 얻으면 자동으로 국회에 청원이 되는 방식이다. 청원된 의견은 검토를 거쳐 정책에 반영되기도 한다.

○ □□시는 청소년들의 요구가 정책에 반영될 수 있도록 ㉢‘청소년 참여 위원회’를 운영하고 있다. 이 위원회에는 공개 모집을 거쳐 선발된 20여 명의 청소년 위원이 활동 중이다. 이들은 지역 청소년들의 다양한 의견을 수렴하여 ㉣청소년들의 요구를 □□시에 제안한다. 지난해 □□시는 청소년 참여 위원회가 제출한 제안서를 검토하여 그중 일부를 정책에 반영하였다.

<보 기>

ㄱ. ㉠의 도입은 정보 통신 기술의 발달로 정치 참여의 수단이 다양해지고 있음을 보여 준다.  
 ㄴ. 정치 과정에서 ㉠은 ‘투입’, ㉣은 ‘산출’에 해당된다.  
 ㄷ. ㉡, ㉢ 모두 참여자의 정치적 효능감 향상에 기여할 수 있다.  
 ㄹ. ㉣은 ㉢과 달리 대의제의 한계를 보완하는 기능을 한다.

- ① ㄱ, ㄴ    ② ㄱ, ㄷ    ③ ㄴ, ㄷ    ④ ㄴ, ㄹ    ⑤ ㄷ, ㄹ

12. 근대 민법의 수정·보완 원칙 (가)에 대한 옳은 법적 판단만을 <보기>에서 고른 것은?

화훼 농원을 운영하는 갑은 인근에 있는 을 소유의 골프장에서 살포한 농약이 농원으로 유입되어 화훼가 말라 죽었다고 주장하면서, 을을 상대로 손해 배상 청구 소송을 제기하였다. 이에 법원은 환경오염으로 피해가 발생한 경우에는 해당 환경오염의 원인 제공자가 그 피해를 배상해야 한다는 환경정책기본법상의 (가) 을/를 적용해 을의 갑에 대한 손해 배상 책임을 인정하였다.

<보 기>

ㄱ. (가)에 의하면, 계약 내용이 사회 질서에 반하거나 현저히 공정성을 잃은 경우에는 그 법적 효력이 발생하지 않는다.  
 ㄴ. 반려견이 타인에게 손해를 가한 경우, 그 반려견의 점유자가 지는 특수 불법 행위 책임에는 (가)가 적용된다.  
 ㄷ. 건물의 보존상 하자로 인해 타인에게 발생한 손해에 대하여 건물 소유자가 지는 특수 불법 행위 책임에는 (가)가 적용된다.  
 ㄹ. 제조물의 결함으로 인한 소비자의 신체상 손해에 대하여 제조물 책임법에 따라 제조업자가 지는 손해 배상 책임에는 (가)가 적용된다.

- ① ㄱ, ㄴ    ② ㄱ, ㄷ    ③ ㄴ, ㄷ    ④ ㄴ, ㄹ    ⑤ ㄷ, ㄹ

13. 밑줄 친 ㉠~㉣에 대한 법적 판단으로 옳은 것은? [3점]

㉠A가 B를 △△법 위반 혐의로 고발하여 B에 대한 수사가 이루어졌다. 수사 과정에서 검사는 B에 대해 구속 영장을 청구하였고, 판사는 ㉡구속 영장을 발부하였다. 구속된 B는 ㉢구속 적부 심사를 청구하였지만 기각되었다. 이후 B는 기소되어 재판을 받았고, 재판부는 B에게 ㉣징역 1년에 집행 유예 2년을 선고하였다. ㉤검사는 항소를 하지 않았다.

- ① ㉠에서 A는 범죄 피해자이다.  
 ② ㉡에 앞서 판사가 피의자를 직접 심문하는 것이 원칙이다.  
 ③ ㉢은 검찰에 청구하며 석방 여부에 대한 최종 판단은 법원이 한다.  
 ④ ㉣이 확정된 후 유예 기간 동안 일정한 범행이 없으면 공소 제기의 효력이 상실된다.  
 ⑤ ㉤으로 인해 B에 대한 유죄 판결이 확정된다.

14. 표는 (가)~(마) 사건에 대한 재판의 쟁점과 그 법적 판단에 근거한 판결을 나타낸 것이다. 이에 대한 설명으로 옳은 것은? [3점]

사건	재판의 쟁점	판결
(가)	자기 집에 침입한 도둑을 살해한 A의 행위가 현재의 부당한 법의 침해를 방위하기 위한 상당한 이유가 있는 행위에 해당하는지 여부	유죄
(나)	부부 싸움 후 배우자의 머리카락을 몰래 자른 B의 행위가 폭행죄의 폭행에 해당하는지 여부	유죄
(다)	소매치기 현장에서 도주하는 범인을 추격하여 체포한 C의 행위가 법률에 따른 정당한 행위에 해당하는지 여부	무죄
(라)	자신의 생명에 대한 저항할 수 없는 협박을 받아 법정에서 위증을 한 D의 행위가 범죄가 되는지 여부	무죄
(마)	악귀에 씌었다며 행인을 폭행한 E의 행위가 심신 장애로 사물을 판별하거나 의사를 결정할 능력이 없는 상태에서 이루어졌는지 여부	유죄

- ① (가)에서는 A의 행위가 범죄의 구성 요건에 해당하는지 여부가 쟁점이 되었다.  
 ② (나)에서는 B의 행위가 위법성 조각 사유에 해당하는지 여부가 쟁점이 되었다.  
 ③ (다)에서는 C의 행위가 책임 조각 사유에 해당하는지 여부가 쟁점이 되었다.  
 ④ (다)에서는 C의 행위가 정당 행위로, (라)에서는 D의 행위가 자구 행위로 인정되었다.  
 ⑤ (라)의 D와는 달리 (마)의 E에 대해서는 책임이 조각되지 않는다고 판단되었다.

15. 다음 자료의 (가)에 들어갈 옳은 진술만을 <보기>에서 고른 것은? [3점]

교사: 국제 관계를 바라보는 관점에는 현실주의와 자유주의가 있습니다. 다음 이야기에서 토끼를 잡은 사람의 행위는 그중 하나의 관점을 드러내고 있습니다. 이 관점에 대해 설명해 보세요.

다섯 명의 배고픈 사람들이 숲속에서 우연히 만났다. 이들은 함께 사슴 한 마리를 사냥하기로 했다. 사슴 한 마리를 사냥하면 모두의 배고픔을 해결할 수 있다. 이들은 사슴 한 마리를 잡기 위해 일정한 간격을 유지하며 포위망을 구성했다. 그때 한 사람이 손을 뻗으면 확실히 잡을 수 있는 곳을 지나가는 토끼 한 마리를 발견했다. 토끼 한 마리면 그 사람의 배고픔은 해결할 수 있다. 그 사람은 사냥 성공이 불확실한 사슴을 포기하고 토끼를 잡기 위해 포위망을 이탈하여 토끼를 잡는 데 성공했다. 그때 이탈한 사람의 빈 공간으로 사슴은 포위망을 뚫고 도망을 갔다. 토끼를 잡은 한 사람은 배고픔을 해결할 수 있었지만, 그 사람의 이탈로 사슴 사냥에 실패한 네 사람은 배고픔을 해결할 수 없었다.

학생: \_\_\_\_\_ (가) \_\_\_\_\_

<보 기>

ㄱ. 개별 국가의 이익과 국제 사회 전체의 이익이 조화될 수 있다고 봅니다.  
 ㄴ. 국제 관계에서는 도덕적 규범보다 힘의 논리가 중요한 역할을 한다고 봅니다.  
 ㄷ. 국제법과 국제기구가 국가 간 갈등을 해결하고 국제 평화를 보장한다고 봅니다.  
 ㄹ. 국제 사회는 무정부 상태이므로 국가 스스로 자국의 안보를 책임져야 한다고 봅니다.

- ① ㄱ, ㄴ    ② ㄱ, ㄷ    ③ ㄴ, ㄷ    ④ ㄴ, ㄹ    ⑤ ㄷ, ㄹ



# 4 (정치와 법)

# 사회탐구 영역

16. 다음 사례에 대한 옳은 법적 판단만을 <보기>에서 고른 것은?

A 주식회사에 고용되어 버스를 운전하는 갑은 교통사고, 차내 흡연 및 신호 위반 등 운행 질서 위반을 이유로 징계 하고 처분을 받았다. 갑은 ○○ 지방 노동 위원회에 부당 해고 구제 신청을 하였으나 기각되었고, 이에 불복해 중앙 노동 위원회에 재심을 신청하였다. 중앙 노동 위원회는 “사용자의 징계 처분이 재량권을 벗어나거나 남용된 것으로 볼 수 없다.”라며 갑의 재심 신청을 기각하였다. 이에 불복한 갑은 중앙 노동 위원회 위원장을 상대로 법원에 소를 제기하였으나 기각되었다.

<보 기>

- ㄱ. 갑이 활용한 구제 신청 절차에서 노동조합은 신청인이 될 수 없다.
- ㄴ. 중앙 노동 위원회는 갑에 대한 사용자의 해고 처분이 갑의 근로 3권을 침해한 것이라고 보았다.
- ㄷ. 갑이 제기한 소송은 행정 소송이다.
- ㄹ. 갑이 제기한 소송은 노동 위원회의 재심 절차를 거쳤으므로 갑은 상소할 수 없다.

- ① ㄱ, ㄴ    ② ㄱ, ㄷ    ③ ㄴ, ㄷ    ④ ㄴ, ㄹ    ⑤ ㄷ, ㄹ

17. 다음 사례에 대한 옳은 법적 판단만을 <보기>에서 고른 것은?

자기 소유의 건물에서 미술관을 운영하는 A는 전시회를 위해 인테리어 사업자 갑에게 미술관의 내부 수리를 의뢰하였다. 이후 갑은 자신의 직원을(23세)과 함께 수리 작업을 하고 있었다. 갑이 데려온 갑의 자녀 병(16세)이 전시된 A의 도자기를 실수로 깨뜨리자 갑이 병을 데리고 밖으로 나갔다. 그 사이에 을이 혼자 작업하던 중 공구가 떨어져 바닥이 파손되면서 공사가 중단되었고 결국 전시회가 개최되지 못하였다.

<보 기>

- ㄱ. 갑의 A에 대한 사용자 배상 책임이 성립하는 경우에도 을의 A에 대한 일반 불법 행위 책임이 인정된다.
- ㄴ. 을의 A에 대한 일반 불법 행위 책임이 성립하는 경우, 갑은 A에게 채무 불이행 책임을 지지 않는다.
- ㄷ. 병의 책임 능력이 인정되는 경우, 갑은 A에게 병의 법정 감독 의무자로서의 특수 불법 행위 책임을 지지 않는다.
- ㄹ. 을의 과실이 인정되는 경우, 갑과 을은 모두 A에게 채무 불이행 책임을 진다.

- ① ㄱ, ㄴ    ② ㄱ, ㄷ    ③ ㄴ, ㄷ    ④ ㄴ, ㄹ    ⑤ ㄷ, ㄹ

18. 국제 연합의 주요 기관 A~C에 대한 설명으로 옳은 것은?

국제 연합의 주요 사법 기관인 A는 판결의 집행에 관한 규정을 두고 있지 않아 판결 이행을 위해서는 분쟁 당사자의 자발적 의지가 중요하다. 분쟁 당사자 일방이 A의 판결에 따른 의무를 이행하지 않는 경우 상대방은 B에 호소할 수 있으며, 필요하다고 인정되면 B가 판결의 집행을 위하여 권고하거나 취해야 할 조치를 결정할 수 있다. 그러나 분쟁 당사자가 B의 상임 이사국이면 이를 기대하기 어려울 수 있다. 판결 집행의 실효성을 확보하기 위하여 모든 국제 연합 회원국으로 구성된 C에서는 국제 연합 현장상 A와 관련된 규정이 개정될 수 있도록 방안을 강구해야 할 것이다.

- ① A는 문명국에 의하여 인정된 법의 일반 원칙을 재판에 적용할 수 없다.
- ② A는 15인의 재판관으로 구성되며, 재판관 2인 이상이 동일국의 국민일 수 없다.
- ③ 국제 사회의 법적 분쟁이라면 개인도 A에 제기되는 사건의 재판 당사자가 될 수 있다.
- ④ B는 C에서 2년의 임기로 선출되는 15개 회원국으로 구성된다.
- ⑤ C와 달리 B에서는 주권 평등의 원칙에 따라 개별 국가가 동등한 투표권을 부여받는다.

19. 다음 자료에 대한 옳은 법적 판단만을 <보기>에서 있는 대로 고른 것은? [3점]

갑의 자녀 을(17세)은 노트북 판매점을 운영하는 병으로부터 법정 대리인인 갑의 동의 없이 고가의 노트북을 구매하였다. 아래 표는 을과 병이 체결한 계약의 효력과 관련한 각각의 상황을 나타낸 것이다.

<상황 1>	갑이 계약을 추인하지도 않고 갑과 을이 계약을 취소하지도 않은 경우
<상황 2>	갑이 병의 해당 추구에 응하여 계약을 추인한 경우
<상황 3>	미성년자임을 이유로 갑이 계약을 취소할 수 없는 경우
<상황 4>	병이 계약 당시 을이 미성년자임을 알았던 경우

<보 기>

- ㄱ. <상황 1>에서 병은 갑에게 취소 여부의 확인을 촉구할 수 없다.
- ㄴ. <상황 2>에서 을은 자신의 행위 능력이 제한됨을 이유로 계약을 취소할 수 없다.
- ㄷ. 을이 신분증을 위조하여 병으로 하여금 성년자로 믿게 하였다면 <상황 3>에 해당한다.
- ㄹ. <상황 4>에서 갑, 을은 계약을 취소할 수 없다.

- ① ㄱ, ㄷ    ② ㄱ, ㄹ    ③ ㄴ, ㄷ  
④ ㄱ, ㄴ, ㄹ    ⑤ ㄴ, ㄷ, ㄹ

20. 다음 자료에 대한 분석 및 추론으로 옳은 것은? [3점]

소선거구 단순 다수 대표제로 60명의 지역구 의원만을 선출하는 갑국은 의회 의원 선거 제도를 개편하려고 한다. 개편안에 따르면 현재의 지역구 의원 선거 제도는 유지되고 비례 대표 제도를 새롭게 도입하여 전체 의석수가 현재의 1.5배가 되며, 유권자는 지역구 의원 후보자와 정당에 각각 1표씩 행사하게 된다. 갑국은 지역구 의원 선거와 동시에 실시될 비례 대표 의원 선거 방안을 다음과 같이 검토하고 있다.

<1안>	정당 득표율에 비례 대표 의석수를 곱하여 산출된 수의 정수(整數)만큼 각 정당의 의석으로 배분하고, 이후 잔여 의석은 소수점 이하의 수가 큰 순서대로 각 정당에 1석씩 배분한다.
<2안>	정당 득표율에 전체 의석수를 곱하여 산출된 수의 정수(整數)만큼 각 정당의 의석으로 배분하고, 이후 잔여 의석은 소수점 이하의 수가 큰 순서대로 각 정당에 1석씩 배분하여 전체 의석수를 할당한다. 정당별로 할당된 의석수에서 지역구 의석수를 뺀 나머지 의석수를 각 정당별 비례 대표 의석으로 배정한다.

아래 표에서 지역구 의석수는 최근 선거 결과이며, 정당 득표율은 각 정당별 지역구 의원 후보자의 득표수를 합산하여 산출한 것이다.

구분	A당	B당	C당	D당
지역구 의석수(석)	22	30	4	4
정당 득표율(%)	34	43	16	7

\* 정당은 A~D당만 존재하고 무소속 후보는 없으며, 투표율은 100%이고 무효표는 없음.  
\*\* 개편안의 경우 위 표를 기준으로 판단하며, 유권자는 최근 선거에서 투표한 후보자의 소속 정당에 정당 투표함.

- ① <1안> 적용 시 B당은 의회 내 과반 의석을 확보한다.
- ② <2안>은 <1안>에 비해 정당 득표율과 비례 대표 의석률 간의 차이가 적어 비례성이 높다.
- ③ <2안> 적용 시 비례 대표 의석수는 B당이 A당보다 많다.
- ④ <2안> 적용 시 C당의 총의석수는 <1안> 적용 시 B당의 비례 대표 의석수보다 많다.
- ⑤ D당은 <1안>보다 <2안>으로 개편하는 것이 유리하다.

\* 확인 사항  
○ 답안지의 해당란에 필요한 내용을 정확히 기입(표기)했는지 확인 하시오.

제 4 교시

사회탐구 영역 (정치와 법)

성명

수험 번호

제 [ ] 선택

1. 정치를 바라보는 관점 A, B에 대한 설명으로 옳은 것은?

A는 정치권력의 획득과 유지 및 행사 과정에서 공동체의 목표를 추구하고 정책을 결정하며 사회 질서를 확립해 나가는 국가의 고유한 활동만을 정치라고 보았다. 그러나 시민 사회의 발전과 더불어 정치 행위자가 다양해졌고, 이러한 시대의 변화를 반영하여 정치가 국가 차원에서만 나타나는 것이 아니라 국가 이외의 사회 집단에서도 나타나는 현상이라는 인식이 확산되었다. 이에 따라 국가라는 한정된 영역을 넘어 공동의 의사를 실현하기 위해 개인이나 집단 간의 다양한 이해관계를 합리적으로 조정하고 해결해 나가는 과정을 정치라고 보는 B가 등장하였다.

- ① A는 층간 소음 갈등을 해결하기 위해 아파트 주민 회의에서 자치 규약을 만드는 과정을 정치라고 본다.
- ② B는 국회가 국정 운영 전반에 대한 감사를 실시하는 것을 정치라고 보지 않는다.
- ③ A는 B에 비해 다원화된 현대 사회의 정치 현상을 설명하기에 적합하다.
- ④ B는 A와 달리 다른 사회 집단과 구분되는 국가만의 특수성이 존재한다고 본다.
- ⑤ A, B는 모두 물리적 강제력을 독점한 통치 기구가 희소한 자원을 배분하는 과정을 정치라고 본다.

2. 우리나라 헌법의 기본 원리 A, B에 대한 설명으로 옳은 것은?

교사: 우리나라 헌법의 기본 원리 A의 실현 방안에 대해 각자 2개씩 발표해 볼까요?  
 갑: 복수 정당제를 기반으로 정당 활동의 자유를 보장하고, 언론·출판에 대한 허가나 검열을 금지하고 있습니다.  
 을: 공정한 재판을 위해 사법권의 독립을 보장하고, 적정한 소득 분배 정책을 실시하고 있습니다.  
 교사: 한 학생은 2개 모두 적절한 대답을 하였는데, 다른 학생은 우리나라 헌법의 기본 원리 A, B의 실현 방안을 각각 1개씩 대답했네요.

- ① A는 국가가 국민의 자율적인 문화 활동을 보장하고 문화 풍토를 조성해야 한다는 원리이다.
- ② B는 근대 입헌주의 헌법에서부터 강조되었다.
- ③ B가 구체화되는 헌법 조항으로 '국가는 사회보장·사회복지의 증진에 노력할 의무를 진다.'를 들 수 있다.
- ④ A는 B와 달리 시장의 지배와 경제력의 남용 방지를 위한 국가의 경제 정책을 통해 실현된다.
- ⑤ B는 A와 달리 개인의 자유를 최대한 보장하고 국가의 간섭을 최소화해야 한다는 원리이다.

3. 다음 자료는 서술형 평가 문항 및 답안에 대한 채점 결과이다. 이에 대한 설명으로 옳은 것은? (단, A와 B는 각각 형식적 법치주의와 실질적 법치주의 중 하나이다.) [3점]

[문항] A와 구별되는 B의 특징을 3가지만 쓰시오. [옳은 서술 하나당 1점씩, 총 3점] [답안] ○ 법률에 근거한 합법적 독재가 가능하다. ○ 법률을 통해 국가 권력을 제한하고자 한다. ○ (가)	
채점 결과	2점

- ① A는 법률의 제정 과정에서 형식과 절차만을 강조한다.
- ② A는 통치의 형식적 합법성과 함께 실질적 정당성도 강조한다.
- ③ B는 통치자를 제외한 모든 사람이 법에 구속되어야 한다고 본다.
- ④ B는 A와 달리 위헌 법률 심사제의 필요성을 강조한다.
- ⑤ (가)에 '국민의 자유와 권리를 제한할 때 법적 근거를 강조한다.'가 들어갈 수 있다.

4. 다음 사례에서 갑~병이 공통적으로 침해받은 기본권에 대한 설명으로 옳은 것은?

- □□위원회 소속 위원으로 공직자였던 갑은 법원, 검찰, 경찰 공무원 등 다른 공직자와는 달리, □□위원회법 규정으로 인해 퇴직 후 일정 기간 공직 선거법상의 선거에 출마할 수 없었다.
- 자신의 자전거로 출근하다 교통사고를 당한 근로자 을은 회사가 제공하는 통근 버스로 출근하다 다친 다른 근로자와는 달리, 산업 재해 보상 보험법상 업무상 재해에 해당하지 않음을 이유로 요양 급여를 받지 못하였다.
- 대한민국 국적을 가지고 있는 영유아 중에서 재외 국민인 영유아를 보육료·양육 수당의 지원 대상에서 제외된 정부 지침 등으로 인해 국내에서 재외 국민인 영유아를 양육하는 병은 자녀의 보육료·양육 수당을 지원받지 못하였다.

- ① 합리적 이유 없이 차별을 받지 않을 권리이다.
- ② 다른 기본권을 보장하기 위한 수단적 권리이다.
- ③ 국가의 간섭이나 침해받지 않을 방어적 권리이다.
- ④ 국가의 정치 과정에 참여할 수 있는 능동적 권리이다.
- ⑤ 인간다운 생활의 보장을 국가에 요구할 수 있는 권리이다.

5. 표는 질문을 통해 우리나라 국가 기관 A~D를 구분한 것이다. 이에 대한 설명으로 옳은 것은? (단, A~D는 각각 국회 의장, 대통령, 국무총리, 감사원장 중 하나이다.) [3점]

(○: 예, ×: 아니오)

구분	A	B	C	D
탄핵 소추의 대상인가?	×	○	○	○
헌법 개정안을 발의할 수 있는가?	×	×	○	×
법률안을 직권 상정할 수 있는가?	○	×	×	×
국무 위원 해임을 건의할 수 있는가?	×	○	×	×

- ① A, C는 모두 법률안 재의 요구권을 갖는다.
- ② B는 C가 참석한 국무 회의에서 의장이 된다.
- ③ D는 B와 달리 국민으로부터 민주적 정당성을 직접 부여받는다.
- ④ B, D는 모두 국회의 동의를 얻어 C가 임명한다.
- ⑤ A, C는 B, D와 달리 국가 긴급권을 행사할 수 있다.

정치와 법



## 2 (정치와 법)

## 사회탐구 영역

6. 다음 자료에 대한 설명으로 옳은 것은? (단, (가)와 (나)는 각각 전형적인 대통령제와 의원 내각제 중 하나이다.) [3점]

의원 정부제에는 (가)와 (나)의 특성이 모두 나타난다. 의원 정부제는 (가)와 달리 행정부 수반과 내각이 의회의 신임에 의존하고, (나)와 달리 국민이 직접 선출한 국가 원수가 실질적이고 강력한 권한을 갖는다. 하지만 국가 원수 소속 정당이 아닌 다른 정당이 의회에서 과반수 의석을 차지하면, 국가 원수는 여당에 속한 인물을 행정부 수반으로 임명하지 못해 위상이 약화될 수밖에 없다. 표는 의원 정부제를 채택하고 있는 갑국에서 각 시기의 정당별 의회 의석률과 국가 원수 소속 정당을 나타낸다.

시기	정당별 의회 의석률(%)				국가 원수 소속 정당
	A 당	B 당	C 당	D 당	
t	55	30	13	2	A 당
t+1	35	53	8	4	A 당

- (가)에서는 행정부가 법률안을 제출할 수 있다.
- (나)에서는 행정부가 의회 해산권을 통해 의회를 견제할 수 있다.
- (가)에서는 (나)와 달리 의회 의원이 각료를 겸직할 수 있다.
- t시기와 t+1시기 모두 갑국에서는 국가 원수 소속 정당과 행정부 수반 소속 정당이 동일할 것이다.
- t시기에는 t+1시기에 비해 갑국 행정부의 강력한 정책 추진이 어려울 것이다.

7. 다음 자료에 대한 설명으로 옳은 것은? (단, A와 B는 우리나라 지방 자치 단체의 기관이다.)

### <지방 자치법, 이렇게 달라집니다>

- ㉠ 주민 조례 발안 제도 개선

조례안에 대한 심사·의결권을 가진 A에 주민이 조례의 제정과 개정·폐지를 직접 청구할 수 있도록 함.

- ㉡ 규칙 제정과 개정·폐지 의견 제출권 신설

지방 자치 단체를 대표하고 그 사무를 총괄하는 B에 일정 조건을 갖춘 주민이 주민의 권리·의무와 직접 관련되는 사항에 한하여 규칙의 제정과 개정·폐지에 관한 의견을 제출할 수 있도록 함.

- ㉠은 ㉡과 달리 주민 자치를 강화하여 국민 주권주의를 실현하는 데 기여한다.
- A는 조례안을 주민 투표에 부쳐 주민의 의견을 수렴해야 한다.
- A와 B 간에 수직적 권력 분립이 나타난다.
- A는 B가 편성한 지방 자치 단체의 예산안을 심의·의결한다.
- B는 A의 장(長)과 달리 주민 소환의 대상이 될 수 없다.

8. 다음 자료에 대한 설명으로 옳은 것은? [3점]

- 법률이 헌법에 위반되는지 여부가 재판의 전제가 된 경우에 법원은 A에 (가)을/를 제청하여 그 심판에 의하여 재판한다.
- 공권력의 행사 또는 불행사로 인하여 헌법상 보장된 기본권을 침해 받은 자는 법원의 재판을 제외하고는 A에 (나)을/를 청구할 수 있다. 다만, 다른 법률에 구제 절차가 있는 경우에는 그 절차를 모두 거친 후에 청구할 수 있다.

- 재판 당사자의 (가) 제청 신청을 법원이 기각할 수 없다.
- 재판 당사자의 제청 신청이 없더라도 법원은 A에 (가)를 제청할 수 있다.
- (나)의 청구를 통해 법원은 국회의 자의적인 입법을 견제할 수 있다.
- (나)의 청구인은 A의 결정에 불복할 경우 대법원에 재항고할 수 있다.
- A의 장(長)은 국무총리의 동의를 얻어 대통령이 임명한다.

9. A~D에 대한 설명으로 옳은 것은? (단, A~D는 각각 정당, 이익 집단, 시민 단체, 언론 중 하나이다.) [3점]

역사적으로 A는 정치적 총원 기능을 수행하며 대의 민주주의의 한 축을 담당했지만, 사회가 다원화되면서 A만으로는 다양한 이해관계를 정치 과정에 모두 반영하기 어려워졌다. 이에 시민은 자신들의 특수한 이익을 실현하고자 B를 조직하기도 하고, 공익 추구를 목표로 자발적으로 조직한 단체인 C에 가입하여 활동하며 정치 과정에 영향력을 행사하기도 한다. 또한 시민은 다양한 매체를 통해 사회 현상에 대한 보도와 해설로 정보를 제공하는 D를 자신의 정치적 견해를 밝히는 통로로도 활용하며 정치 과정에 능동적으로 참여한다.

- A는 B와 달리 정치적 중립을 추구한다.
- B는 특수 이익을 실현하기 위해 A를 통해 정치 과정에 영향력을 행사하기도 한다.
- C는 A와 달리 정치적 책임을 진다.
- C는 B, D와 달리 사회 구성원의 정치에 대한 관심과 이해를 높이는 역할을 한다.
- D는 A, C와 달리 여론을 형성하여 의회와 행정부를 매개하는 역할을 한다.

10. 밑줄 친 ㉠~㉣에 대한 옳은 설명만을 <보기>에서 고른 것은?



동물 보호를 위해 정치 과정에 직접 참여하여 활동한 경험을 발표해 보세요.

교사

국회 의원 선거에서 동물 복지에 대한 정책을 주요 공약으로 내세운 ㉠ 후보자에게 투표했어요.

국민 참여 입법 센터 홈페이지를 방문하여 동물 학대에 대한 처벌을 강화하는 ㉡법 개정안에 대한 의견을 온라인으로 제출했어요.

동물 보호 단체에 가입하여 ㉢회원들과 함께 거리 홍보 활동을 했어요. 그 후에 국회 전자 청원 시스템에 ㉣법 개정 청원서를 작성했고, 10만 명 이상의 동의를 얻어 청원이 제출된 것을 확인했어요.

### <보 기>

- ㉠은 ㉡과 달리 대의제의 한계를 보완할 수 있는 방법이다.
- ㉡은 ㉢에 비해 정치 참여에서 시·공간적 제약을 완화할 수 있는 방법이다.
- ㉢은 ㉣과 달리 정치적 효능감 향상에 기여할 수 있는 방법이다.
- ㉣은 ㉠과 달리 집단적 정치 참여 방법이다.

- ㄱ, ㄴ
- ㄱ, ㄷ
- ㄴ, ㄷ
- ㄴ, ㄹ
- ㄷ, ㄹ

11. 밑줄 친 ㉠~㉣에 대한 법적 판단으로 옳은 것은?

갑과 을은 혼인 신고를 하였고, 그 사이에서 A가 태어났다. 다음 해 ㉠갑과 을은 협의 이혼하면서, 합의하에 ㉡을이 A를 양육하기로 결정하였다. 이후 을은 병과 혼인 신고를 하고, ㉢병은 A를 친양자 아닌 양자로 입양하였다.

- ㉠에 의하여 A는 혼인 외의 출생자가 된다.
- ㉠은 갑과 을 간에 민법상의 재판상 이혼 사유가 있는 경우에도 가능하다.
- ㉡에 따라 갑은 가정 법원에 청구해야 A에 대한 면접 교섭권을 가진다.
- ㉢에 의하여 갑과 A 사이의 친자 관계는 종료된다.
- ㉢에 의하여 A는 태어난 때부터 을과 병의 친생자와 같은 지위를 가진다.



12. 민법의 기본 원칙 (가), (나)에 대한 설명으로 가장 적절한 것은? [3점]

□(가)은/는 개인이 국가나 타인의 간섭을 받지 않고 자기의 의사에 따라 법률관계를 형성하는 원칙을 말한다. 이는 법률 행위의 주된 모습인 계약을 통해 발현되므로 계약 자유의 원칙이라고도 한다. 계약의 자유는 당사자 간 힘의 균형과 자유로운 경쟁을 전제로 하고 있지만 사회적·경제적으로 불평등한 관계로 인해 경제적 강자가 경제적 약자를 지배하는 수단으로 악용되기도 한다. 이러한 문제점을 해결하기 위해 □(가)은/는 □(나) (으)로 수정·보완되고 있다.

- ① (가)는 공작물의 설치 하자로 인해 타인에게 손해를 가한 경우 점유자가 지는 특수 불법 행위 책임에 적용된다.
- ② (가)에 따르면 손해를 발생시킨 위법한 행위라도 가해자에게 고의나 과실이 인정되는 경우에만 책임을 진다.
- ③ (나)에 따르면 계약 내용이 사회 질서에 위반하거나 현저히 공정성을 잃은 경우 법적 효력이 발생하지 않는다.
- ④ (나)에 따르면 개인은 자신이 소유하는 재산을 공공의 이익에 부합하도록 사용·수익 또는 처분하여야 한다.
- ⑤ (가), (나)는 모두 근대 자본주의 발달 과정에서 발생하는 경제적 불평등과 같은 사회 문제를 해결하기 위해 등장하였다.

[13~14] 다음 자료를 보고 물음에 답하시오.

갑(24세)과 을(14세)은 술에 만취한 병이 난동을 부리자 이를 제압하였고, 이 과정에서 병은 전치 12주의 상해를 입었다. 수사 과정에서 검사는 갑에 대해 구속 영장을 청구하였고, 판사는 ㉠ 구속 영장을 발부하였다. 검사는 갑, 을 모두 범죄의 혐의가 객관적으로 인정된다고 판단하여 갑은 ㉡ 기소 하였으나 재판 사정을 참작하여 을은 불기소 처분을 하였다. 법원은 “병을 제압하는 과정에서 행하여진 피고인의 행위는 동기나 당시 상황으로 보아 사회 통념상 허용될 수 있는 정도의 상당성이 있어 사회 상규에 위배되지 않는다.”라며 ㉢ 무죄를 선고하였다. 이후 검사가 항소하였다. 항소심 법원은 갑에게 징역 1년을 선고하였고, ㉣ 그 판결은 확정되었다.

13. 밑줄 친 ㉠~㉣에 대한 법적 판단으로 옳은 것은? [3점]

- ① ㉠에 앞서 판사는 검사가 제출한 서면만을 통해서 구속 여부를 판단하는 것이 원칙이다.
- ② ㉡ 이후 갑의 범죄 사실 입증 책임은 판사에게 있다.
- ③ ㉢에 의해 개시된 재판에서 갑과 검사는 소송의 당사자가 된다.
- ④ ㉣으로 인해 갑에게 형사 보상 청구권이 인정된다.
- ⑤ ㉣으로 인해 갑은 병에게 범죄 피해자 구조금을 지급해야 한다.

14. 위 사례에 대한 법적 판단으로 옳은 것은?

- ① 재판 중 법률이 개정되어 형벌이 무거워진 경우에 갑은 개정된 법률의 적용을 받는다.
- ② 검사는 을의 행위가 구성 요건에는 해당하나 을이 형사 미성년자임을 이유로 불기소 처분을 하였다.
- ③ 을은 불기소 처분을 받았기 때문에 민사상 손해 배상 책임을 지지 않는다.
- ④ 1심 법원은 갑의 행위가 구성 요건에는 해당하나 자구 행위임을 이유로 무죄라고 판단하였다.
- ⑤ 2심 법원은 갑에게 교도소 내에 가두어 정역에 복무하게 하는 형벌을 부과하였다.

15. 밑줄 친 ㉠~㉣에 대한 옳은 법적 판단만을 <보기>에서 고른 것은? [3점]

갑(17세)은 서점에서 자신의 법정 대리인 을의 동의 없이 용돈으로 ㉠ 참고서를 구입했다. 며칠 후 갑은 백화점에서 고가의 한정판 ㉡ 가방을 구입했다. 또한 대학 학비를 마련하기 위하여 방학 때 분식집에서 아르바이트를 하기로 하고, 분식집 사장 ㉢ 근로 계약을 체결하였다. 한편 을은 ㉣ 불법 도박 용도의 자금을 빌려주는 계약을 그 용도를 알면서도 친구와 체결하였다.

<보 기>

- ㉠. ㉠은 일단 유효하나 을에 의해 취소될 수 있다.
- ㉡. 갑이 동의를 위조함으로써 을의 동의가 있는 것으로 믿게 하여 ㉡을 하였다면 을은 해당 계약을 취소할 수 없다.
- ㉢. 갑이 ㉢에 따른 임금을 청구하려면 을의 동의가 필요하다.
- ㉣. ㉣의 법적 효력은 발생하지 않는다.

- ① ㉠, ㉡    ② ㉠, ㉢    ③ ㉡, ㉢    ④ ㉡, ㉣    ⑤ ㉢, ㉣

16. 다음 자료에 대한 분석 및 추론으로 옳은 것은?

갑국 의회는 단순 다수제로 선출되는 지역구 의원 6인과 비례 대표 의원 9인으로 구성되며, 유권자는 지역구 의원 선출을 위해 후보자에 1표, 비례 대표 의원 선출을 위해 정당에 1표를 행사한다. 비례 대표 의석은 정당 투표 득표율에 비례 대표 총의석수를 곱하여 산출된 수의 정수(整數)만큼 각 정당의 의석으로 배분하고, 이후 잔여 의석은 소수점 이하의 수가 큰 순서대로 각 정당에 1석씩 배분한다. 표는 최근 갑국 의회 의원 선거 결과를 나타낸다.

(단위: 표, %)

구분	A 당	B 당	C 당	D 당	E 당
선거구 1	50	60	50	10	30
선거구 2	140	10	10	10	30
선거구 3	60	30	20	70	20
선거구 4	40	20	100	20	20
선거구 5	20	60	50	40	30
선거구 6	20	10	150	10	10
정당 투표 득표율	20	40	5	20	15

\*정당은 A~E 당만 존재하고 무소속 후보자는 없으며, 투표율은 100%이고 무효표는 없음.

갑국은 현재의 의원 정수(定數)를 유지하면서 다음과 같이 선거 제도 개편안을 검토하고 있다. 개편안의 경우 최근 의회 의원 선거 결과만을 근거로 판단한다.

지역구 의원 선거	선거구 1-2, 3-4, 5-6을 통합하여 선거구를 3개로 축소하고, 각 선거구에서 득표순으로 2인의 대표를 선출한다. 정당이 후보자를 공천할 때, 지역구 의원 선거에서 선거구별로 2인이 당선 가능한 경우 2인을, 그렇지 않은 경우 1인을 공천한다.
비례 대표 의원 선거	정당 투표 득표율에 전체 의석수를 곱하여 산출된 수의 정수만큼 각 정당의 의석으로 배분하고, 이후 잔여 의석은 소수점 이하의 수가 큰 순서대로 각 정당에 1석씩 배분하여 전체 의석수를 할당한다. 정당별로 할당된 의석수에서 지역구 의석수를 뺀 나머지 의석수를 정당별 비례 대표 의석으로 배정하되, 어떤 정당의 지역구 의석수가 할당된 의석수보다 더 많다면 초과 의석은 인정하나 비례 대표 의석은 배분하지 않는다. 초과 의석으로 인해 의원 정수는 늘어날 수 있다.

- ① 현행에서 A 당은 총의석률이 정당 투표 득표율보다 더 높다.
- ② 현행에서 D 당은 지역구 의석수가 비례 대표 의석수보다 더 많다.
- ③ 개편안 적용 시 C 당의 총의석수는 최소 2석, 최대 3석이다.
- ④ 개편안 적용 시 지역구 의원 선거에서 B 당이 최대 의석수를 확보하면 B 당은 초과 의석을 얻게 된다.
- ⑤ A 당의 경우 현행보다 개편안을 적용하는 것이 유리하고, E 당의 경우 선거 제도 개편에 따른 유불리는 없다.

# 4 (정치와 법)

# 사회탐구 영역

17. 다음 자료에 대한 설명으로 옳은 것은? (단, A~C는 모두 국제 연합의 주요 기관이다.) [3점]

국제 형사 재판소는 1998년 120개국의 찬성으로 채택되고, 2002년 발효된 ① ‘국제 형사 재판소에 관한 로마 규정’에 근거하여 집단 살해죄, 인도에 반한 죄 등을 저지른 개인을 형사 처벌하기 위해 설립되었다. 국제 형사 재판소는 국제 연합의 산하 기관이 아니기 때문에 국제 연합의 주요 사법 기관인 A와는 구분된다. 국제 연합에서 평화와 안전의 유지에 관한 일차적 책임을 부여받은 기관인 B는 국제 형사 재판소에 관련 상황을 회부할 수 있다. 현재 국제 연합의 모든 회원국으로 구성된 의결 기관인 C는 갑국의 대규모 인권 침해 상황을 B가 국제 형사 재판소에 회부하도록 권고하는 결의안 채택을 추진하고 있다.

- ① ①과 같은 국제법의 법원(法源)은 국가 간의 합의로 국가와 국제기구 간에는 체결할 수 없다.
- ② A에 제소된 사건의 당사자에는 국가와 개인이 모두 포함된다.
- ③ A는 판결에 불복하는 당사국을 직접 제재할 수 있다.
- ④ C는 주권 평등의 원칙이 반영된 표결 방식을 채택하고 있다.
- ⑤ B는 C에서 선출되고 임기가 2년인 15개 이사국으로 구성된다.

18. (가)~(라)에 대한 옳은 법적 판단만을 <보기>에서 고른 것은?

(가) 갑(35세)은 자신의 주택을 을에게 매도하는 계약을 체결하였다. 그런데 지진으로 인해 해당 주택이 파손되어 갑은 계약을 이행할 수 없게 되었다.

(나) 갑(19세)은 을이 운영하는 음식점에서 자전거로 배달 아르바이트를 하고 있었다. 어느 날 갑은 공원에서 자신의 자전거를 타며 동호회 활동을 하던 중 회원 병을 실수로 다치게 하였다.

(다) 갑(7세)은 법정 감독 의무자인 을과 함께 전시장에 갔다가 천장에 설치된 커다란 조명이 떨어지자 이를 피하기 위해 옆에 전시되어 있던 병 소유의 작품을 파손했다.

(라) 갑(28세)은 을이 운영하는 컴퓨터 수리점에서 아르바이트를 하고 있었다. 어느 날 갑은 병의 노트북을 수리하던 중 해킹 프로그램을 몰래 설치하여 병에게 손해를 입혔다.

<보 기>

- ㄱ. (가)에서 갑은 주택 파손에 대한 고의 또는 과실이 없기 때문에 을에 대하여 손해 배상 책임을 지지 않는다.
- ㄴ. (나)에서 갑의 병에 대한 일반 불법 행위 책임이 성립하고, 을의 병에 대한 특수 불법 행위 책임도 성립한다.
- ㄷ. (다)에서 갑의 파손 행위가 긴급 피난에 해당하는 경우, 을의 병에 대한 특수 불법 행위 책임이 성립하지 않는다.
- ㄹ. (라)에서 갑의 병에 대한 채무 불이행 책임이 성립하고, 을의 병에 대한 일반 불법 행위 책임은 성립하지 않는다.

- ① ㄱ, ㄴ    ② ㄱ, ㄷ    ③ ㄴ, ㄷ    ④ ㄴ, ㄹ    ⑤ ㄷ, ㄹ

19. 국제 관계를 바라보는 갑, 을의 관점에 대한 설명으로 옳은 것은?

갑: 국가들은 협력에서 파생된 이익이 상대방에게 더 많이 돌아가 자신의 안보를 위협하지 않을까 우려하기 때문에 국제 사회에서는 국가 간 협력이 일어나기 어렵다.

을: 국가들은 국제 사회에 존재하는 제도와 규범을 통해 상대 국가가 어떻게 행동할 것인지 예측할 수 있으며, 이를 바탕으로 공동의 이익을 위한 국가 간 협력이 일어난다.

- ① 갑의 관점은 개별 국가의 이익과 국제 사회 전체의 이익이 조화를 이룬다고 본다.
- ② 갑의 관점은 특정 국가의 침략 행위에 모든 국가들이 공동으로 대응함으로써 국제 평화가 실현될 수 있다고 본다.
- ③ 을의 관점은 국가 간 힘의 균형을 통한 안보 추구하고 전쟁 억지가 가능하다고 본다.
- ④ 을의 관점은 국제 사회의 문제 해결에 있어 국제기구가 중요한 역할을 한다고 본다.
- ⑤ 갑, 을의 관점은 모두 국가가 도덕적 규범에 따라 외교 정책을 수립한다고 본다.

20. 다음 사례에 대한 옳은 법적 판단만을 <보기>에서 있는 대로 고른 것은? [3점]

다음은 갑, 을, 병이 각각 대형 마트인 ○○마트 사장 정과 체결한 근로 계약의 공통된 내용 중 일부이다. 단, 근로 계약 체결 시 연장 근로에 대해 어떠한 합의도 없었다.

1. 근로 계약 기간: 2021년 7월 1일부터 2021년 8월 31일까지
2. 근무 장소: ○○마트
3. 업무의 내용: ○○마트 내 상품 정리
4. 소정 근로 시간: 9시~18시(휴게 시간: 12시~13시)
5. 근무일 / 휴일: 매주 월요일~금요일 근무, 주휴일 매주 토, 일요일
6. 임금
  - 시간급: 시간당 9,500원
  - 임금 지급일: 매월 25일
  - 지급 방법: 근로자에게 직접 지급( ), 근로자 명의 예금 통장에 입금(✓)

\* 2021년 법정 최저 임금은 시간당 8,720원임.  
\*\* 갑, 을, 병은 모두 중학교를 졸업하였음.

표는 각 질문으로 갑, 을, 병을 구분한 후, '예', '아니오' 중 같은 답변에 해당하는 사람끼리 묶은 것이다.

[질문1] 민법상 미성년자에 해당합니까?	갑 을 병
[질문2] 취직 인허증이 필요합니까?	갑 을 병
[질문3] 근로 시간이 원칙적으로 1일 7시간, 1주 35시간을 초과하지 못합니까?	갑 을 병

<보 기>

- ㄱ. 을의 근로 계약에는 근로 기준법을 위반한 내용이 포함되어 있다.
- ㄴ. 갑뿐만 아니라 을의 근로 계약도 친권자나 후견인이 대리할 수 없다.
- ㄷ. 근로 기준법상 갑과 정이 연장 근로에 합의하더라도 1일에 1시간, 1주에 5시간을 초과할 수 없다.
- ㄹ. 병이 부모의 동의 없이 정과 근로 계약을 체결했다면 병은 이를 취소할 수 있다.

- ① ㄱ, ㄴ    ② ㄱ, ㄷ    ③ ㄷ, ㄹ
- ④ ㄱ, ㄴ, ㄹ    ⑤ ㄴ, ㄷ, ㄹ

\* 확인 사항

○ 답안지의 해당란에 필요한 내용을 정확히 기입(표기)했는지 확인 하시오.



제 4 교시

사회탐구 영역 (정치와 법)

성명  수험 번호  -     제 [ ] 선택

1. 다음 자료에 대한 설명으로 옳은 것은?

교사: 정치를 바라보는 관점에는 A, B가 있습니다. A는 정치권력의 획득·유지·행사 과정과 관련된 국가 고유의 활동만을 정치라고 봅니다. B는 국가를 포함한 모든 사회 집단에서 나타나는 갈등을 조정하고 해결해 나가는 활동을 정치라고 봅니다.

학생: A에서는 정치로 보지 않는데 B에서는 정치로 보는 사례로 어떤 것이 있을까요?

교사: (가) 을/를 사례로 들 수 있습니다.

- ① A는 시민 단체 내의 의사 결정 과정을 정치로 본다.
- ② B는 대통령의 통치 행위를 정치로 보지 않는다.
- ③ A에 비해 B는 다원화된 현대 사회의 정치 현상을 설명하기에 용이하다.
- ④ B에 비해 A는 국가 성립 이전의 정치 현상을 설명하기에 용이하다.
- ⑤ (가)에는 '학급 문제를 해결하기 위한 학급 회의 과정'이 들어갈 수 없다.

2. 다음 자료에 대한 분석 및 추론으로 옳은 것은? (단, 갑국과 을국의 정부 형태는 각각 전형적인 대통령제와 의원 내각제 중 하나임.)

갑국의 정부 형태는 입법부와 행정부의 권력이 융합된 형태이며, 을국의 정부 형태는 입법부와 행정부의 권력이 분리된 형태이다. 갑국에서 행정부 수반의 소속 정당은 t 시기에 B 당, t+1 시기에 A 당이며, 을국에서 행정부 수반의 소속 정당은 t 시기, t+1 시기에 모두 b 당이다. 갑국과 을국의 시기에 따른 정당별 의회 의석률은 다음 표와 같다.

시기	갑국의 정당별 의회 의석률(%)			을국의 정당별 의회 의석률(%)		
	A 당	B 당	C 당	a 당	b 당	c 당
t	45	30	25	15	65	20
t+1	55	25	20	55	30	15

- ① 갑국에서는 국가 원수와 행정부 수반이 일치한다.
- ② 갑국과 달리 을국에서는 의회 의원이 각료를 겸직할 수 있다.
- ③ t+1 시기에 비해 t 시기에 갑국에서는 행정부 수반이 법률안 거부권을 행사할 가능성이 높았을 것이다.
- ④ t 시기에 비해 t+1 시기에 을국에서는 의회가 내각을 불신임할 가능성이 높을 것이다.
- ⑤ t+1 시기에 비해 t 시기에 을국에서는 행정부의 강력한 정책 추진이 용이했을 것이다.

3. 기본권 유형 A, B에 대한 설명으로 옳은 것은? (단, A와 B는 각각 자유권과 사회권 중 하나임.) [3점]

행복 추구권이 인간다운 생활을 국가에 의해 보장받을 권리인 A를 내용으로 하는 것이라는 주장이 있습니다. 그러나 행복 추구권은 행복을 추구하기 위해 필요한 급부를 국가에 적극적으로 요구할 수 있는 것을 내용으로 하는 것이 아닙니다. 행복 추구권은 국민이 행복을 추구하기 위한 활동을 국가 권력의 간섭 없이 자유롭게 할 수 있다는 B로서의 성격을 가진다고 보아야 합니다.

- ① B는 국가에 특정 행위를 요구할 수 있는 절차적 권리이다.
- ② A와 달리 B는 실질적 평등 실현에 기여하는 권리이다.
- ③ A와 달리 B는 다른 기본권 보장을 위한 수단적 권리이다.
- ④ B와 달리 A는 근대 입헌주의 헌법에서부터 보장된 권리이다.
- ⑤ A, B 모두 기본권 제한의 요건과 한계가 준수될 경우 법률로써 제한될 수 있는 권리이다.

4. 법치주의를 바라보는 갑, 을의 관점에 대한 설명으로 옳은 것은? [3점]

갑: 적법한 절차를 거쳐 제정된 법률이라도 그 내용이 인간의 존엄성과 실질적 정의에 합치되지 않는다면 그 법률에 따른 국가 권력 행사는 정당화되지 않는다고 생각합니다.

을: 저는 그렇게 생각하지 않습니다. 입법에 필요한 모든 합법적인 절차를 거쳐 제정된 법률이라면 그 법률에 의한 국가 권력 행사는 정당화된다고 생각합니다.

- ① 갑의 관점은 국민의 기본권 보장이라는 법치주의의 목적을 간과한다.
- ② 을의 관점은 통치의 형식적 합법성뿐만 아니라 실질적 정당성까지 확보해야 함을 강조한다.
- ③ 을의 관점과 달리 갑의 관점은 법률의 내용이 헌법에 부합하는지 여부를 심판할 수 있는 제도를 인정하지 않는다.
- ④ 갑의 관점, 을의 관점 모두 국가 권력의 자의적 행사를 방지하기 위해 통치자가 법의 구속을 받아야 한다고 본다.
- ⑤ 법치주의는 역사적으로 갑의 관점에서 을의 관점으로 변천해 왔다.

5. 다음 자료에 대한 설명으로 옳은 것은? (단, A와 B는 우리나라 지방 자치 단체 기관임.)

○ A는 지방 자치 단체를 대표하고, 지방 자치 단체의 사무와 법령에 따라 A에게 위임된 사무를 관리하고 집행한다.

○ B는 ㉠ 조례의 제정·개정 및 폐지 등을 의결한다. 조례안이 B에서 의결되면 B의 의장은 의결된 날로부터 일정한 기간 내에 A에게 이를 이송해야 한다.

- ① 주민에게는 ㉠의 청구권이 인정되지 않는다.
- ② A와 달리 B의 의원은 주민의 선거에 의해 선출된다.
- ③ B의 의장과 달리 A는 주민 소환의 대상에 해당하지 않는다.
- ④ B는 A가 편성한 지방 자치 단체의 예산안에 대한 의결권을 가진다.
- ⑤ A와 B는 수직적 권력 분립 관계에 있다.



## 2 (정치와 법)

## 사회탐구 영역

6. 우리나라 헌법의 기본 원리 A, B에 대한 설명으로 가장 적절한 것은? [3점]

우리 헌법은 “대통령은 조국의 평화적 통일을 위한 성실한 의무를 진다.”라고 규정하고 있다. 이는 남북 분단이라는 현실을 반영한 우리나라 헌법 특유의 원리인 A를 나타낸 것이다. 한편 우리 헌법은 “대통령은 필요하다고 인정할 때에는 외교·국방·통일 기타 국가 안위에 관한 중요 정책을 국민 투표에 붙일 수 있다.”라고 규정하여 통일과 관련된 중요 정책을 국민적 합의를 통하여 결정할 수 있도록 하고 있다. 이는 국가 의사를 최종 결정하는 최고 권력이 국민에게 있다는 B가 나타난 것이다.

- ① A는 직접 민주주의적 요소를 배제하고 대의제에 따른 국가 의사 결정을 강조한다.
- ② B의 실현 방안으로 ‘보통 선거 실시를 통한 국민의 참정권 보장’을 들 수 있다.
- ③ A와 달리 B는 헌법의 이념적 기초로서 법률 제정과 정책 결정의 방향을 제시한다.
- ④ B와 달리 A는 적정한 소득의 분배를 유지하기 위한 경제 규제 정책의 근거가 된다.
- ⑤ B와 달리 A는 문화 활동의 자유를 보장하고 문화를 계승·발전시키는 것을 국가의 의무라고 본다.

7. 다음 사례에 대한 법적 판단으로 옳은 것은? [3점]

갑에게는 자녀 을(18세), 병(14세)이 있다. 을은 A가 운영하는 커피 전문점에서 아르바이트를 하던 중 부주의로 손님 B에게 뜨거운 커피를 쏟아 화상을 입혔다. 한편 갑은 장기간 여행을 간 친구 C의 부탁으로 맡고 있던 C의 반려견을 데리고 혼자 산책하던 중, 갑의 부주의로 반려견이 행인 D를 물어서 D가 다쳤다. 그동안 집에 혼자 있던 병의 부주의로 인해 창틀에 있던 화분이 떨어져 지나가던 행인 E가 다쳤다.

- ① 을에게 책임 능력이 있는 경우 갑은 B에게 법정 감독 의무자로서의 특수 불법 행위 책임을 지지 않는다.
- ② 을과 A는 B에게 특수 불법 행위 책임을 진다.
- ③ A가 을의 사용자로서 모든 주의 의무를 다하였음을 입증한 경우에도 A는 B에게 불법 행위 책임을 진다.
- ④ D는 C가 아닌 갑에게는 특수 불법 행위 책임을 물을 수 없다.
- ⑤ 병에게 책임 능력이 있다라도 고의가 없었으므로 병은 E에게 불법 행위 책임을 지지 않는다.

8. 우리나라 헌법 기관 A~D에 대한 설명으로 옳은 것은?

A는 B의 후보자로 지명된 갑에 대한 인사 청문회를 실시한 후 갑에 대한 임명 동의안을 처리하였습니다. C가 갑을 B로 임명하면 갑은 C의 명을 받아 행정 각부를 통괄하게 됩니다. 한편 갑은 국가 세입·세출의 결산, 국가 및 법률이 정한 단체의 회계 검사를 담당하는 D의 장(長)을 지낸 바 있습니다.



- ① B는 긴급 재정·경제 명령 및 처분권을 가진다.
- ② D는 국가 예산안을 심의·확정하는 권한을 가진다.
- ③ A는 C가 체결한 조약에 대한 비준권을 가진다.
- ④ D는 B의 소속하에 있지만 업무의 독립성이 보장된다.
- ⑤ A는 B의 해임을 C에게 건의할 수 있다.

9. 다음 자료에 대한 설명으로 옳은 것은? [3점]

갑은 허위의 세금 계산서를 제출하였다는 범죄 사실로 공소 제기 되었고, 1심 법원으로부터 ‘벌금 20억 원에 처하고, 벌금을 납입하지 아니한 경우 400만 원을 1일로 환산한 기간 동안 노역장에 유치한다’는 판결을 선고받았다. 갑의 항소는 기각 되었고, 이에 갑은 상고하였다. 갑은 상고심 계속 중 ‘노역장 유치 기간의 하한을 정하도록 한 형법 ○○조항을 시행일 이후 최초 공소가 제기되는 경우부터 적용하도록 한 형법 부칙 □□조항이 헌법에 위반된다’며 A에 위헌 법률 심판 제청 신청을 하였다. 그러나 A는 이를 기각하였고 갑은 B에 (가) 을/를 청구하였다. B는 형법 ○○조항을 시행일 이후 최초 공소가 제기되는 경우부터 적용하도록 한 형법 부칙 □□조항은 헌법에 위반된다고 결정하였다.

- ① (가)는 ‘권리 구제형 헌법 소원 심판’이다.
- ② A는 명령·규칙의 위헌·위법성에 대한 최종 심사권을 가진다.
- ③ B는 노역장 유치 기간의 하한을 정하도록 한 형법 ○○조항이 헌법에 위반된다고 판단하였다.
- ④ A와 달리 B는 선거의 효력을 다투는 소송을 관할한다.
- ⑤ B가 정당의 해산을 심판하기 위해서는 A의 제소가 필요하다.

10. 다음 사례에 대한 법적 판단으로 옳은 것은?

갑(25세)은 을의 지갑을 절취하던 중 적발되어 사법 경찰관에게 쫓기다가 열쇠가 꽂힌 채 길거리에 주차된 병(20세)의 오토바이를 발견하였다. 갑은 체포를 면하기 위해 병의 오토바이를 절취해 타고 달아나려고 하였다. 병은 자신의 오토바이를 절취당하지 않기 위해 갑을 밀어 바닥에 넘어뜨렸고, 그 과정에서 갑에게 부득이하게 2주 정도의 치료를 요하는 상해를 입혔다. 갑은 현장에서 체포된 이후 구속되었고, 사건이 검찰에 송치된 후 불구속 상태에서 기소되었다. 갑은 1심 법원에서 징역형에 대해 일정 기간 형의 집행을 유예하는 판결을 선고받았으며, 갑의 고소 이후 불구속 상태에서 수사를 받던 병은 죄가 안 됨을 이유로 불기소 처분을 받았다.

- ① 갑에 대한 구속은 판사가 사전에 발부한 구속 영장에 의해서만 가능하다.
- ② 구속 영장 발부 전 갑에 대한 판사의 구속 전 피의자 심문은 갑의 신청을 전제로 한다.
- ③ 갑에 대한 1심 법원의 판결이 확정된 후 일정한 범행 없이 유예 기간이 경과하면 공소 제기가 없었던 것으로 간주된다.
- ④ 을은 갑의 범죄 행위로 인한 재산상 피해의 배상을 위해 국가에 일정 한도의 구조금 지급을 청구할 수 있다.
- ⑤ 검사는 병의 갑에 대한 상해 행위가 객관적 법질서에 위반되지만 비난 가능성이 없다고 판단하였다.

11. 밑줄 친 ㉠~㉣에 대한 옳은 설명만을 <보기>에서 고른 것은?

◇◇ 신문 ○○○○년 ○○월 ○○일

㉠ 선거를 앞두고 □□ 복지 정책에 대한 논의가 한창이다. 민간 전문가들로 구성된  
 ㉡ △△ 학회에서는 포럼을 개최하여 □□ 복지 정책에 대하여 논의하였다. 그러나  
 효과적인 정책 안이 마련되기 위해서는 더욱 다양한 ㉢ 정보 제공을 통한 여론 형성  
 과정이 요구된다. 그리고 관계 부처에서 이러한 여론을 반영하여 □□ 복지 정책을  
 결정·시행하면, ㉣ 그 결정·시행에 대한 다양한 평가가 나타날 것으로 보인다. 이후  
 그 평가를 반영하여 □□ 복지 정책에 대한 수정·보완이 이루어질 것으로 예상된다.

<보 기>

ㄱ. ㉠에서 투표에 참여하는 것은 정치 과정에서 산출에 해당한다.  
 ㄴ. ㉡은 정치 과정에서 정책 결정 기구에 해당한다.  
 ㄷ. 언론은 정치 과정에서 ㉢의 역할을 할 수 있다.  
 ㄹ. ㉣은 정치 과정에서 환류에 해당한다.

- ① ㄱ, ㄴ    ② ㄱ, ㄷ    ③ ㄴ, ㄷ    ④ ㄴ, ㄹ    ⑤ ㄷ, ㄹ

12. 국제 관계를 바라보는 관점 A, B에 대한 설명으로 옳은 것은? [3점]

A는 국제 관계를 긴장과 갈등의 상태로 본다. 이에 따르면 국가들은 자국의 이익만을 배타적으로 추구하므로 국제 사회에서 국가 간 불신과 갈등은 피할 수 없다고 본다. 그러므로 국가 간 관계는 힘의 논리에 의해 결정된다고 본다. 반면 B는 다양한 제도를 통하여 국제 관계에서 협력과 평화를 실현할 수 있다고 본다. 즉, 국가들은 이기적 욕망을 억제하고 국제 사회에서 공동의 이익을 달성할 수 있다고 본다.

- ① A는 국제 사회에서 국가 간 갈등을 보편적 선이나 윤리를 통해 해결해야 한다고 본다.  
 ② B는 국제기구와 같은 국제 협력 체제를 통해 평화를 실현할 수 있다고 본다.  
 ③ A와 달리 B는 국제 관계가 '만인의 만인에 대한 투쟁 상태'에 놓여 있다고 본다.  
 ④ B와 달리 A는 국제 협약과 국제 관습법을 통해 국가 간 분쟁 해결이 가능하다고 본다.  
 ⑤ A, B 모두 국제 사회에서 강제력을 행사할 수 있는 중앙 정부가 존재한다고 본다.

13. 다음 사례에 대한 법적 판단으로 옳은 것은?

사실혼 관계에 있던 갑과 을은 불화가 심해 혼인 신고는 하지 않았다. 이후 을은 병과 결혼을 하고 혼인 신고를 하였다. 그리고 을과 병 사이에서 A가 태어났고 5년 후 을과 병은 친구 정 의 자녀 B를 적법한 절차를 거쳐 친양자로 입양하였다. 을과 병은 A, B에 대해 공동으로 친권을 행사하였고, A가 21세, B가 17세일 때 을이 유언 없이 사망하였다.

- ① 을이 병과 결혼하기 전 갑과의 혼인 관계를 해소시키려면 법원의 허가를 받아야 한다.  
 ② 친양자 입양 후 정과 B의 친족 관계는 종료되지 않는다.  
 ③ 입양된 B는 을과 병의 혼인 중 출생자로 간주되므로 을의 사망 시 을의 재산을 상속받을 수 있다.  
 ④ 을의 사망 시 갑은 을의 재산을 상속받을 수 있다.  
 ⑤ 을의 사망 시 A와 B에 대한 친권은 병에게 있다.

14. (가)에 대한 옳은 설명만을 <보기>에서 있는 대로 고른 것은?

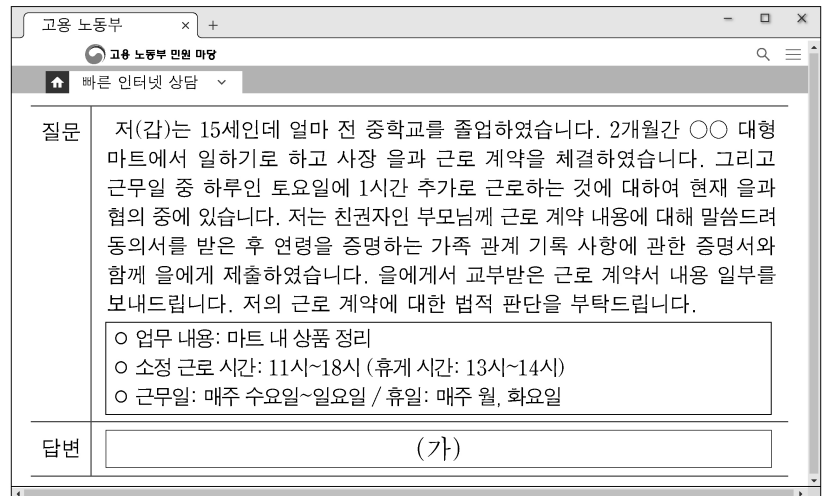
형법에 의한 형사 처벌은 일반 시민의 법익 보호를 위해 범죄인의 법익을 박탈하는 강력한 제재 수단에 해당한다. 이때 일반 시민의 법익 보호라는 기능을 위해 범죄인의 인권 보장이라는 기능이 무시될 수 있어 두 기능의 균형이 요구된다. 형법은 '범죄 피해자를 위한 법'의 성격도 가지고 있지만, '범죄인을 위한 법'이기도 하기 때문이다. 따라서 형법은 법정형을 넘어서는 형벌권 행사나 피고인에게 불리한 유추 해석을 금지하는 등 국가의 자의적인 형벌권 남용으로부터 범죄인의 인권을 보장하는 기능을 수행해야 하며 이를 위한 형법의 기본 원리가 (가)이다. 이 원리에 따르면 적정한 법률 없이는 범죄도 없고 형벌도 없다.

<보 기>

ㄱ. 범죄의 성립과 처벌은 행위 시의 법률에 의한다는 원칙이 포함된다.  
 ㄴ. 의회에서 적법한 입법 절차에 따라 제정된 형식적 의미의 형법에만 적용된다.  
 ㄷ. 형법의 보장적 기능보다 형법의 보호적 기능의 우위를 인정하는 근거가 된다.  
 ㄹ. 법관에 의한 법의 해석·적용뿐 아니라 입법자에 의한 입법권 행사에도 적용되는 원리이다.

- ① ㄱ, ㄴ    ② ㄱ, ㄷ    ③ ㄴ, ㄷ  
 ④ ㄱ, ㄷ, ㄹ    ⑤ ㄴ, ㄷ, ㄹ

15. (가)에 들어갈 수 있는 내용으로 옳은 것은? [3점]



- ① 갑의 친권자가 갑의 근로 계약 체결을 대리하지 않았으므로 근로 기준법에 위배됩니다.  
 ② 을이 갑을 근로자로 사용하기 위해서는 고용 노동부 장관이 발급한 취직 인허증이 필요합니다.  
 ③ 갑은 연소 근로자로 일요일 근로가 원칙적으로 금지되므로 근무일을 변경해야 합니다.  
 ④ 갑은 친권자의 동의를 얻어야 을에게 독자적으로 임금을 청구할 수 있습니다.  
 ⑤ 갑이 을과 합의하에 토요일에 1시간 추가 근로를 하더라도 근로 기준법상 1일 법정 근로 시간을 초과하지 않습니다.



# 4 (정치와 법)

# 사회탐구 영역

16. 다음 사례에 대한 법적 판단으로 옳은 것은? [3점]

갑(17세)은 법정 대리인 을의 동의 없이 고가의 전동 키보드를 구입하는 계약을 병(34세)과 체결하였다. 또한 갑은 정(40세)의 가게에서 고가의 태블릿 PC를 구입하기 위해 ㉠을의 이름으로 된 동의를 정에게 제시하였고, 이를 믿은 정은 갑과 계약을 체결하였다.

- ① 병은 갑에게 계약의 취소 여부에 대한 확답을 촉구할 수 없다.
- ② 갑은 을의 동의 없이 단독으로 병과의 계약을 취소할 수 없다.
- ③ 병이 계약 체결 시 갑이 미성년자임을 알았더라도 을의 주인이 있을 때까지 병은 계약을 철회할 수 있다.
- ④ 갑이 ㉠을 위조한 경우라면, 을은 갑이 정과 체결한 계약을 취소할 수 있다.
- ⑤ ㉠이 유효한 동의서라면, 갑은 을의 동의가 있어야 정과의 계약을 취소할 수 있다.

17. 민법의 기본 원칙 A에 대한 옳은 설명만을 <보기>에서 고른 것은? [3점]

A는 19세기 서양 근대 민법이 제정되면서 정립된 것으로서 개인이 신분에 구애받지 않고 평등한 권리·의무의 주체로서 자유롭게 계약을 맺을 수 있다는 원칙이다. 하지만 산업 혁명 이후 불평등이 심화되면서, 사회 질서에 반하거나 현저히 불공정한 계약 문제가 발생하게 되어 A에 대한 수정·보완이 필요하게 되었다.

<보 기>

- ㄱ. 개인주의와 자유주의 사상에 기초하고 있다.
- ㄴ. 개인의 재산권은 공공복리에 적합하게 행사되어야 한다는 원칙이다.
- ㄷ. 경제적 강자가 경제적 약자에게 부당한 계약을 강제하는 수단으로 악용될 수 있다.
- ㄹ. 신의 성실의 원칙을 위반하여 공정성을 잃은 약관 조항은 무효로 해야 한다는 원칙이다.

- ① ㄱ, ㄴ    ② ㄱ, ㄷ    ③ ㄴ, ㄷ    ④ ㄴ, ㄹ    ⑤ ㄷ, ㄹ

18. 국제 연합의 주요 기관 A~C에 대한 설명으로 옳은 것은?

- A의 구성
  - 각기 다른 국적을 가진 15인의 재판관으로 구성됨.
  - 15인의 재판관은 B 및 C에서 선출되며 양 기관 모두에서 절대 다수표를 얻어야 함.
- B의 구성
  - 5개의 상임 이사국 및 10개의 비상임 이사국으로 구성됨.
  - 임기가 2년인 비상임 이사국은 지리적 배분 등을 고려하여 C에서 매년 5개국씩 선출되며, 연임은 불가함.

- ① A는 당사자의 동의를 얻은 경우 국제 사회에서 발생하는 개인 간의 분쟁에 대해 관할권을 가진다.
- ② B의 상임 이사국은 실질 사항이 아닌 절차 사항에 대하여 거부권을 가진다.
- ③ C는 모든 회원국이 참여하는 최고 의사 결정 기관이다.
- ④ B와 달리 C는 국제 평화와 안전 유지를 위해 군사적 개입을 결정할 수 있는 권한을 가진다.
- ⑤ C와 달리 B의 의사 결정 과정에서는 주권 평등의 원칙이 적용된다.

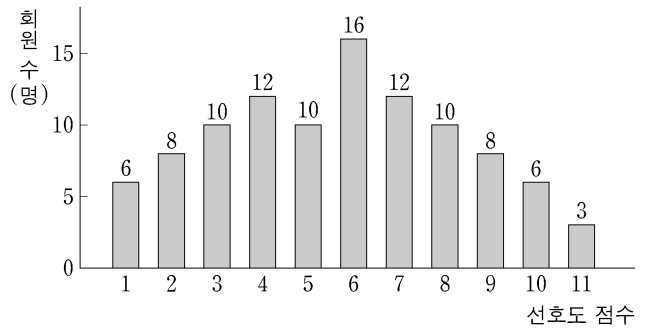
19. 정치 참여 집단 A~C에 대한 설명으로 옳은 것은? (단, A~C는 각각 정당, 이익 집단, 시민 단체 중 하나임.)

A는 B, C와 달리 정권 획득을 목적으로 한다. 또한 A는 특수한 이익을 추구하는 B의 다양한 이해관계를 조정·중재하는 역할을 한다. 한편 시민이 자발적으로 조직한 C는 공공의 이익 실현을 위해 집단 행동에 나서기도 한다.

- ① A는 행정부와 의회를 매개하는 역할을 수행한다.
- ② B는 정치적 중립을 본질적 특성으로 가진다.
- ③ A와 달리 C는 정치적 책임을 진다.
- ④ B와 달리 A는 정치 사회화 기능을 한다.
- ⑤ A와 달리 B, C는 정치권력을 감시하고 견제하는 기능을 한다.

20. 다음 자료에 대한 분석 및 추론으로 옳은 것은? [3점]

대표 선거를 앞둔 ○○ 단체는 환경 보호 정책에 대하여 논의 중이다. 이에 모든 회원 101명을 대상으로 환경 보호의 선호도(이하 '선호도'라 함)를 1~11의 점수로 구분해 조사하였다. 그 결과는 아래 그래프와 같으며 가로축은 선호도 점수, 세로축은 각 선호도 점수에 해당하는 회원 수를 나타낸다.



대표 선거에 회원 A~D가 출마를 고민 중이며 이들의 선호도 점수는 A는 4, B는 5, C는 7, D는 9이다. 한편, ○○ 단체는 대표 선거 제도로 <1안>과 <2안> 중 하나를 채택하려고 한다.

- <1안> 가장 많은 표를 얻은 1인이 당선됨.
- <2안> 1차 투표에서 과반을 득표한 후보자가 당선되나, 과반 득표자가 없을 경우 득표수가 많은 상위 2인에 대해 결선 투표를 실시하여 최다 득표자 1인이 당선됨.

모든 회원은 출마한 후보자의 선호도 점수를 알고 있다. 선호도 점수가 동일한 집단의 각 회원은 자신과 선호도 점수 차이가 가장 작은 후보자에게 1표를 행사하며, 선호도 점수 차이가 가장 작은 후보자가 2명이라면 두 후보자는 해당 집단 전체 표의 절반씩을 얻는다. 단, 후보자는 자신에게 투표하며 결선 투표에 진출하지 못한 경우 결선 투표 시 자신과 선호도 점수 차이가 가장 작은 후보자에게 투표한다. 투표율은 100%이고, 무효표는 없으며 회원들의 선호도 점수는 변경되지 않는다.

- ① <1안>에 비해 <2안>의 선거 제도는 선거 비용 감소에 유리하다.
- ② <2안>에 비해 <1안>의 선거 제도는 당선자의 대표성을 높이는 데 유리하다.
- ③ A, B, D만 출마한다면 <1안>과 <2안>에서 당선자는 동일인이다.
- ④ A, C, D만 출마한다면 <2안>에서 결선 투표에 진출한 후보자 간 결선 투표 득표수 차이는 10보다 크다.
- ⑤ A, B, C, D 모두 출마한다면 <2안>에서 A가 당선된다.

\* 확인 사항  
○ 답안지의 해당란에 필요한 내용을 정확히 기입(표기)했는지 확인 하시오.



제 4 교시

# 사회탐구 영역(정치와 법)

성명

수험 번호

제 [ ] 선택

1. 정치를 바라보는 관점 A, B에 대한 설명으로 옳은 것은?

A는 국가를 포함한 모든 사회 집단 내에서 구성원 간의 이해관계를 조정하고 갈등을 해결하는 과정을 정치라고 본다. 한편, B는 물리적 강제력에 의해 사회 질서를 유지하고 갈등을 해결하는 국가의 고유한 활동만을 정치라고 본다.

- ① A는 학생회 회의에서 급식 잔반 문제를 해결하는 과정을 정치라고 보지 않는다.
- ② B는 국가 형성 이전의 정치 현상을 설명하기에 적합하다.
- ③ A에 비해 B는 사회적 희소가치를 배분하는 과정에 참여하는 주체가 다양하다고 본다.
- ④ B와 달리 A는 복잡하고 다원화된 현대 사회의 정치 현상을 설명하기에 적합하지 않다.
- ⑤ A, B 모두 국회가 국회 의원 지역구를 확정하는 것을 정치라고 본다.

2. 법치주의의 유형 A, B에 대한 설명으로 옳은 것은? [3점]

통치자의 자의에 의해 권력이 행사되었던 '인치(人治)'를 대신하여 국가 권력이 법에 따라 행사되어야 한다는 '법치(法治)'가 나타났다. 그러나 의회에서 제정된 법률이 시민들의 자유를 억압하는 사건들을 겪은 뒤 A만으로는 민주주의나 시민의 자유를 지키는 데 한계가 있다는 각성이 있었다. 단순히 '사람이 아닌 법'만으로는 법치주의의 진정한 의미를 찾을 수 없음을 알게 되었고, 정의에 합치되지 않은 법률은 법으로서의 본질을 결여한 것임을 뒤늦게나마 깨달았다. 이러한 깨달음으로 인해 절차적 합법성뿐만 아니라 실질적 정당성도 갖는 B를 요구하게 되었다.

- ① A는 입법자에 의해서도 국민의 자유와 권리가 침해될 가능성이 있음을 간과한다.
- ② B는 국가 권력 행사의 근거가 되는 법률의 존재만을 요구할 뿐 그 내용은 문제 삼지 않는다.
- ③ A와 달리 B는 합법적 독재를 정당화하는 데 악용될 수 있다는 비판을 받는다.
- ④ B와 달리 A는 국가 권력으로부터 기본권을 보장하는 것을 목적으로 한다.
- ⑤ B와 달리 A는 법률의 목적과 내용이 헌법에 부합할 것을 요구하므로 위헌 법률 심사제의 필요성을 강조한다.

3. (가)~(다)는 기본권에 관한 우리나라 헌법 조항 중 일부이다. 이에 대한 설명으로 옳은 것은?

(가) 모든 국민은 통신의 비밀을 침해받지 아니한다.  
 (나) 모든 국민은 법률이 정하는 바에 의하여 공무 부담권을 가진다.  
 (다) 모든 국민은 인간다운 생활을 할 권리를 가진다.

- ① (가)에 규정된 기본권은 국가 권력에 의한 침해를 배제하는 소극적 권리이다.
- ② (나)에 규정된 기본권은 다른 기본권 보장을 위한 수단적 권리이다.
- ③ (다)에 규정된 기본권은 법률로도 제한할 수 없는 절대적 권리이다.
- ④ (나)와 달리 (다)에 규정된 기본권은 국민 주권주의를 실현하는 능동적 권리이다.
- ⑤ (다)와 달리 (가)에 규정된 기본권은 실질적 평등 실현을 위해 등장한 현대적 권리이다.

4. 우리나라 헌법의 기본 원리 A에 대한 설명으로 가장 적절한 것은? [3점]

우리나라는 제헌 헌법 이래 A를 헌법의 기본 원리로 채택하고 있다. 헌법은 전문(前文)에서 '문화의 모든 영역에 있어서 각인의 기회를 균등히 할 것을 선언하고 있을 뿐 아니라 제9조에서 국가에게 전통문화의 계승·발전과 민족 문화의 창달을 위하여 노력할 의무를 지우고 있다.'

- ① 상호주의 원칙에 따라 외국인의 지위를 보장하는 근거가 된다.
- ② 여성 및 연소자의 근로에 대해 특별한 보호를 하는 근거가 된다.
- ③ 대통령에게 조국의 평화 통일을 위해 노력할 의무를 부과하는 근거가 된다.
- ④ 국가가 국민의 자율적인 문화 활동을 보장하고 문화를 보호·지원하는 근거가 된다.
- ⑤ 국가가 균형 있는 국민 경제의 성장을 위하여 경제에 관한 규제와 조정을 할 수 있는 근거가 된다.

5. 다음 자료에 대한 설명으로 옳은 것은? (단, A, B는 각각 전형적인 대통령제와 의원 내각제 중 하나임.)



우리나라에서는 국가 원수와 행정부 수반이 동일인이고, 행정부 수반을 국민이 선거를 통해 선출하고 있습니다. 이러한 특징만 보면 우리나라의 정부 형태는 A로 보이지만, A와 완전히 동일한 것은 아닙니다. (가) 등 입법부와 행정부의 권력이 융합된 정부 형태의 요소도 있기 때문입니다. 하지만 우리나라 정부 형태에서는 의회가 내각을 불신임할 수 없기 때문에 B와도 구분됩니다.

- ① A에서는 행정부에 법률안 제출권이 부여되어 있지 않다.
- ② B에서는 행정부 수반이 법률안에 대한 거부권을 가진다.
- ③ A와 달리 B에서는 행정부 수반이 헌법에 규정된 임기를 보장 받는다.
- ④ B와 달리 A에서는 의회 의원이 그 직을 유지한 채 내각의 각료가 될 수 있다.
- ⑤ (가)에 '국회의 탄핵 소추권'이 들어갈 수 있다.

정치와 법

## 2 (정치와 법)

## 사회탐구 영역

6. 밑줄 친 ㉠~㉣에 대한 설명으로 옳은 것은? [3점]

갑국에서는 플라스틱 용기 사용이 급격히 늘어나면서 환경 오염에 대한 우려가 커졌다. 이에 ㉠○○ 시민 단체는 정부에 환경 관련 ㉡정책안을 제안하였다. 정부는 제안된 정책안을 반영하여 수립된 ㉢□□ 정책을 시행하였으며, 시행된 정책에 대한 시민들의 ㉣다양한 평가가 나타났다. 이후 ○○ 시민 단체는 시민들의 평가를 반영하여 ㉤보완된 정책안을 정부에 제안하였다. 정부가 이를 수용하여 □□ 정책이 수정·보완될 것으로 기대된다.

- ① ㉠은 정책 결정 기구에 해당한다.
- ② ㉡과 달리 ㉢은 정치 과정에서 산출에 해당한다.
- ③ ㉣과 달리 ㉤은 경제, 사회, 문화 등 정치 외적 요소의 영향을 받는다.
- ④ 언론은 정치 과정에서 ㉤에 참여할 수 없다.
- ⑤ ㉤과 달리 ㉤은 시민의 정치적 효능감 향상에 기여할 수 있다.

7. 다음 자료에 대한 설명으로 옳은 것은?

○○시장이 경유차 소유자인 갑에게 □□법에 따라 환경 개선 부담금 부과 처분을 하자, 갑은 그 처분의 취소를 구하는 소를 제기하였다. 갑은 소송 계속 중 이 처분의 근거가 되는 □□법 조항이 헌법에 위반된다고 주장하면서 A에 (가) 제청 신청을 하였으나 기각되자, B에 해당 법률 조항이 헌법에 위반된다는 결정을 구하는 (나) 을/를 청구하였다. 이에 B는 해당 법률 조항이 국가에게 부여된 환경 보전이라는 헌법적 과제 실현을 위한 것이므로 입법 목적의 정당성이 인정되고, 경유차 소유자에게 환경 개선 부담금을 부과하는 것은 입법 목적을 실현하기 위한 적합한 수단이라고 보았다. 또한 이보다 덜 제한적인 방법은 없으며, 쾌적한 환경 조성이라는 공익은 제한되는 사익에 비해 결코 작지 않다고 판단하였다.

- ① A는 갑의 제청 신청 없이는 B에 (가)를 제청할 수 없다.
- ② 갑이 청구한 (나)는 공권력의 불행사로 인한 기본권 침해 여부를 판단하는 심판이다.
- ③ (가)와 달리 (나)는 국회의 입법권에 대한 견제 수단이 된다.
- ④ B는 해당 법률 조항이 과잉 금지 원칙에 위배되지 않는다고 보았다.
- ⑤ B의 장(長)은 헌법 개정안을 발의할 수 있다.

8. 정치 참여 집단 A, B에 대한 설명으로 옳은 것은? [3점]

A와 B는 모두 대의 민주주의를 가능하게 하는 본질적인 제도인 공직 선거에 영향력을 행사한다. 집단의 특수 이익 실현을 목적으로 결성된 A는 공직 선거에 출마한 후보자로 하여금 구성원에게 유리한 정책안을 공약으로 제시하도록 유도한다는 점에서 공직 선거에 후보자를 추천하는 B와 구분된다. B는 공직 선거에서 보다 많은 표를 얻고자 일반적으로 국민의 다양한 요구와 이해가 집약된 정책안을 공약으로 제시하지만, A는 공공의 이익보다 구성원의 이익이 우선적으로 고려되는 공약을 지지한다.

- ① A는 당정 협의회를 구성하여 행정부와 의회를 매개한다.
- ② B는 정권 획득을 목적으로 조직된 집단으로 정치적 책임을 진다.
- ③ A와 달리 B는 국정 전반을 감사할 수 있는 국정 감사권을 가진다.
- ④ B와 달리 A는 공직 선거에서 유권자의 후보자 선택에 필요한 정보를 제공한다.
- ⑤ A, B 모두 정치적 충원 기능을 담당하는 국가 기관이다.

9. 우리나라 헌법 기관 A~E에 대한 설명으로 옳은 것은? [3점]

A는 정부가 편성하여 제출한 예산안을 심의·확정한 후, B의 장(長)과 C에 대한 임명 동의안을 처리하였다. 이후 D에 의해 임명된 B의 장(長)은 갑을 대법관 후보자로 제청하고, 을을 정당 해산 심판을 담당하는 E의 재판관으로 지명하였다. 한편, D를 보좌하며 행정 각부를 통할하는 C는 D에게 ○○부 장관에 대한 해임을 건의하였다.

- ① A는 E의 재판관 3인에 대한 임명권을 가진다.
- ② B의 장(長)은 일반 사면에 대한 동의권을 가진다.
- ③ C는 특정한 사안에 대한 국정 조사권을 가진다.
- ④ 국무 위원은 C의 제청으로 A의 동의를 얻어 임명된다.
- ⑤ D의 국법상 행위는 문서로써 하며, C는 이 문서에 부서한다.

10. 다음 사례에 대한 법적 판단으로 옳은 것은?

갑(남)과 을(여)이 결혼식을 하고 혼인 신고 없이 함께 살던 중 갑과 을 사이에서 A가 태어났다. 그 후 갑과 을은 다툼이 잦아져서 헤어지기로 하였고, A는 갑이 양육하기로 하였다. 을은 갑과 헤어진 후 병과 법률상 혼인을 하였다. 이후 을과 병 사이에서 B가 태어났다. 또한 을과 병은 혈연관계가 없는 미성년자 C를 적법한 절차를 거쳐 친양자로 입양하였다. 한편, 갑도 을과 헤어진 후 정과 법률상 혼인을 하였다. 그 후 갑과 정은 혈연관계가 없는 성년자 D를 적법한 절차를 거쳐 양자로 입양하였다.

- ① 갑과 을 사이에서는 친족 관계가 형성되었다가 해소되었다.
- ② A는 갑과 을의 혼인 중의 출생자로, B는 을과 병의 혼인 중의 출생자로 각각 인정된다.
- ③ C는 입양된 이후에도 친생부모와의 친족 관계가 유지된다.
- ④ 갑, 정 모두 D의 재산에 관한 법률 행위에 대하여 D를 대리할 수 있는 친권자로서의 권한은 없다.
- ⑤ D는 자신의 친생부모가 유언 없이 사망했을 경우 친생부모가 남긴 재산을 상속받을 수 없다.

11. 다음 자료의 (가)에 들어갈 수 있는 답변으로 옳은 것은?

교사: 다음은 미성년자의 법률 행위와 관련된 사례입니다. 이 사례에서 가정할 수 있는 상황과 그에 따른 법적 판단에 대해 말해 보세요.

갑(17세)은 을이 운영하는 전자 대리점에서 고가의 노트북 할인 행사를 보고 법정 대리인 병의 동의 없이 노트북을 구매하는 계약을 을과 체결하면서, 노트북의 수령과 대금 지급은 다음날에 하기로 하였다. 그런데 을은 다음날이 되어서야 갑이 미성년자임을 알게 되었다.

학생: \_\_\_\_\_ (가) \_\_\_\_\_

- ① 갑이 을에게 사기를 당하여 계약을 체결한 경우, 갑은 병의 동의를 얻어야 사기를 이유로 계약을 취소할 수 있습니다.
- ② 갑이 신분증을 위조하여 을로 하여금 자신을 성년자로 믿게 하고 계약을 체결한 경우, 병은 갑이 미성년자임을 이유로 계약을 취소할 수 있습니다.
- ③ 갑이 노트북을 정가의 절반 가격으로 구입한 경우, 병은 갑이 미성년자임을 이유로 계약을 취소할 수 없습니다.
- ④ 병이 을에게 계약을 추진하더라도 을은 계약 체결의 의사 표시를 철회할 수 있습니다.
- ⑤ 병이 을에게 계약을 추진한 후 갑이 을로부터 노트북을 수령하고도 대금을 지급하지 않는 경우, 갑은 을에게 채무 불이행 책임을 질 수 있습니다.



12. 민법의 기본 원칙 (가), (나)에 대한 설명으로 옳은 것은?

‘깨트린 자는 배상하여야 한다.’는 법언을 기초로, 허용되지 않는 위험한 행위에 대해 손해 배상 책임을 지게 함으로써 법적 가치 질서를 유지할 수 있으며, 책임의 예측을 가능하게 함으로써 개인의 자유로운 경제 활동을 보호할 수 있다. 이를 위해 (가) 을/를 채택하여, 가해자는 자신의 잘못으로 타인에게 손해를 가한 경우에만 그에 따른 손해 배상 책임을 진다. 하지만 과학기술이 발달함에 따라 위험한 시설을 갖춘 기업이 늘어났고, 이러한 기업이 이익을 얻는 과정에서 손해를 입은 피해자가 기업의 잘못을 증명하지 못하여 손해 배상을 받지 못하는 불합리한 경우가 증가하였다. 이에 ‘이익을 향유하는 자는 위험도 부담한다.’는 법언에 따라 가해자에게 잘못이 없더라도 이익을 얻는 과정에서 타인에게 손해를 입었다면 그 배상 책임을 지도록 하는 (나) 이/가 등장하였다.

- ① (가)에 의하면, 계약의 내용이 사회 질서에 반하거나 현저히 공정성을 잃는 경우에는 법적 효력이 인정되지 않는다.
- ② 공작물의 설치 또는 보존의 하자로 인해 타인에게 발생한 손해에 대해 공작물 점유자가 지는 특수 불법 행위 책임에는 (가)가 적용된다.
- ③ (나)에 의하면, 개인의 사유 재산권에 대한 절대적 지배가 인정되어 국가나 다른 개인이 이를 침해하거나 제한해서는 안 된다.
- ④ 동물이 타인에게 가한 손해에 대해 그 동물 점유자가 지는 특수 불법 행위 책임에는 (나)가 적용된다.
- ⑤ (가)와 달리 (나)는 경제적 강자인 기업이 자신의 책임을 회피하는 수단으로 악용될 수 있다.

13. A, B에 대한 옳은 설명만을 <보기>에서 있는 대로 고른 것은? (단, A, B는 각각 민법, 형법 중 하나임.)

갑은 길을 건다가 을과 시비가 붙어 다툼 끝에 을을 때렸고, 이로 인해 을은 전치 2주의 상해를 입었다. 을은 갑의 구타 행위가 A에 규정된 상해죄에 해당한다고 주장하면서 갑을 수사 기관에 고소하였다. 또한 을은 갑에게 B에 규정된 불법 행위 책임을 주장하면서 치료비 지급을 청구하였다.

<보 기>

- ㄱ. A는 국민의 자유와 권리를 보장하는 기능을 하지만, 사회 질서를 유지하는 기능은 하지 않는다.
- ㄴ. B는 개인 간의 권리와 의무의 발생과 변경, 소멸 등을 규정하고 있다는 점에서 사법(私法)에 해당한다.
- ㄷ. A와 달리 B는 타인의 물건을 훔침으로써 그 타인에게 손해를 입게 한 자에게 책임을 물을 수 있는 근거를 제공한다.
- ㄹ. A, B 모두 사회 구성원에게 행위의 기준을 제공하고, 재판 시 법원의 판단 기준이 된다.

- ① ㄱ, ㄷ                      ② ㄱ, ㄹ                      ③ ㄴ, ㄹ
- ④ ㄱ, ㄴ, ㄷ                ⑤ ㄴ, ㄷ, ㄹ

14. 다음 자료에 대한 설명으로 옳은 것은? [3점]

범죄가 성립하려면 A, B, C를 모두 갖추어야 한다. 표는 각 사례의 범죄 성립 여부에 대한 법적 판단을 나타낸다.

사례	범죄 성립 여부에 대한 법적 판단
갑(12세)이 장난으로 옆집의 반려견을 발로 걷어차 다치게 하였다.	갑의 행위는 A가 조각되어 범죄가 성립하지 않는다.
경찰관 을(30세)은 범죄 현장에서 적법한 절차에 따라 현행범인을 체포하였다.	을의 행위는 B가 인정되나 C가 조각되어 범죄가 성립하지 않는다.
병(45세)은 자신의 생명에 대한 저항할 수 없는 폭력에 의해 강요된 행위로 타인에게 상해를 입혔다.	(가)
(나)	정의 행위는 A, B, C가 모두 인정되어 범죄가 성립한다.

- ① A는 법질서 전체의 관점에서 허용되지 않는다는 부정적인 가치 판단을 의미한다.
- ② 현재의 부당한 침해로부터 자기의 법익을 방위하기 위한 상당한 이유가 있는 행위는 A가 조각되는 사유이다.
- ③ B가 인정되는 행위라도 사회 상규에 위배되지 않는다면, 정당 행위로서 C가 조각된다.
- ④ (가)에 ‘병의 행위는 B가 인정되지 않아 범죄가 성립하지 않는다.’가 들어갈 수 있다.
- ⑤ (나)에 ‘심신 장애로 사물을 변별할 능력이 없는 정(19세)이 이유 없이 돌을 던져 타인의 차량을 파손시켰다.’가 들어갈 수 있다.

15. 다음 사례에 대한 법적 판단으로 옳은 것은? [3점]

A 식품 회사 직원인 갑은 상품 절취, 위생 관련 복무 규정 위반을 이유로 사용자로부터 해고 통보를 받았다. 이에 갑은 부당 해고로 이유로 ○○ 지방 노동 위원회에 구제 신청을 하였으나 갑의 구제 신청은 기각되었다. 한편, A 식품 회사 직원인 을은 A 식품 회사 노동조합에 가입했다는 이유로 사용자로부터 해고 통보를 받았다. 이에 A 식품 회사 노동조합은 을에 대한 해고가 근로자의 단결권을 침해한다는 이유로 ○○ 지방 노동 위원회에 구제 신청을 하였으며, A 식품 회사 노동조합의 구제 신청은 인용되었다. ○○ 지방 노동 위원회의 판정에 불복한 갑과 사용자는 적법한 절차를 거쳐 중앙 노동 위원회에 재심을 신청하였고, 갑과 사용자의 재심 신청은 모두 기각되었다.

- ① ○○ 지방 노동 위원회는 갑에 대한 해고가 부당 해고에 해당한다고 판정하였다.
- ② A 식품 회사 노동조합과 달리 을은 부당 노동 행위를 이유로 ○○ 지방 노동 위원회에 구제 신청을 할 수 없다.
- ③ 중앙 노동 위원회는 을에 대한 해고가 부당 해고에 해당하나 부당 노동 행위에는 해당하지 않는다고 판정하였다.
- ④ 을에 대한 해고가 부당 노동 행위에 해당하는지 여부에 대한 ○○ 지방 노동 위원회와 중앙 노동 위원회의 판정은 동일하다.
- ⑤ 중앙 노동 위원회가 갑의 재심 신청을 기각하였으므로 갑은 사용자를 상대로 해고의 효력을 다투는 소를 제기할 수 없다.



# 4 (정치와 법)

# 사회탐구 영역

16. 다음 사례에 대한 법적 판단으로 옳은 것은?

상해 혐의로 수사를 받고 있던 갑과 을 모두에 대해 검사는 구속 영장을 청구 하였으나 판사는 을에 대해서만 구속 영장을 발부하였다. 이후 갑과 을 모두 기소 되었으며, 을만 구속된 상태로 재판을 받았다. 1심 법원은 갑에 대해서는 무죄를 선고하였고, 을에 대해서는 징역 1년에 집행 유예 2년을 선고하였다. 1심 판결에 대해 검사는 갑뿐만 아니라 을에 대해서도 항소하지 않았고, 을도 항소하지 않아 그 판결이 확정되었다.

- ① 갑이 법원에 구속 전 피의자 심문을 청구하여 갑에 대한 불구속 수사가 이루어졌다.
- ② 검사가 을을 구속하기 위해서는 법원이 사전에 발부한 체포 영장이 필요하다.
- ③ 1심 재판 중 을은 법원에 구속 적부 심사를 청구할 수 있다.
- ④ 1심 법원은 을에게 2년 동안 일정한 범죄를 저지르지 않으면 면소되는 것으로 간주되는 판결을 선고하였다.
- ⑤ 판결이 확정된 후 을은 형사 보상을 청구할 수 없다.

17. 국제 관계를 바라보는 갑, 을의 관점에 대한 설명으로 옳은 것은? [3점]

갑: 국제 사회는 무정부 상태이며, 각 국가들은 자신의 보존을 위해 투쟁하고 있습니다. 국가 간 힘의 불균형 상태에서 전쟁이 유발되므로 전쟁을 억제 하기 위해서는 힘의 균형이 이루어져야 합니다.  
 을: 국제 사회는 국제기구와 국제법 등을 통해 국가 간 전쟁을 방지하고 평화를 실현할 수 있습니다. 또한 국가 간 합의를 통해 공동의 이익을 실현할 수 있습니다.

- ① 갑의 관점은 국가 간 권력 관계보다 협력 관계가 중요하다고 본다.
- ② 을의 관점은 국제 사회에서 보편적인 선(善)을 추구하는 국제 규범의 역할을 강조한다.
- ③ 갑과 달리 을의 관점은 각국이 자국의 이익을 배타적으로 추구 한다고 본다.
- ④ 을과 달리 갑의 관점은 국제 사회에서 국가보다 초국가적 행위 주체의 역할이 중요하다고 본다.
- ⑤ 갑, 을의 관점 모두 국제 사회 분쟁 해결을 위해 외교적 설득보다 군사력 강화를 강조한다.

18. 다음 사례에 대한 옳은 법적 판단만을 <보기>에서 고른 것은? [3점]

갑은 A가 운영하는 이삿짐 업체에 고용된 직원이고, 을은 B가 운영하는 피자 가게에서 아르바이트를 하는 직원이다. A는 병으로부터 이삿짐 운반을 의뢰받았다. 갑은 A의 지시로 화물차에 병을 태우고 이삿짐을 운반하던 중, 오토바이로 피자를 배달하던 을과 도로에서 끼어들기 시비가 붙었다. 갑과 을은 서로 양보하지 않으려고 경쟁하다가, 횡단보도에서 신호를 지켜 건너던 정을 동시에 치었다. 이 사고로 병과 정은 각각 전치 2주의 부상을 입었고, 병의 이삿짐이 파손되었다.

<보 기>

- ㄱ. 을의 정에 대한 일반 불법 행위 책임이 성립하더라도 B는 정에 대하여 채무 불이행 책임을 지지 않는다.
- ㄴ. 병은 채무 불이행을 이유로 갑이 아닌 A에게 손해 배상을 청구할 수 있다.
- ㄷ. A의 병에 대한 특수 불법 행위 책임이 성립하는 경우, 병은 A에게 재산상 손해 외에 정신적 손해에 대해서는 배상을 청구할 수 없다.
- ㄹ. B의 정에 대한 특수 불법 행위 책임이 성립하는 경우, 을의 정에 대한 일반 불법 행위 책임은 성립하지 않는다.

- ① ㄱ, ㄴ    ② ㄱ, ㄷ    ③ ㄴ, ㄷ    ④ ㄴ, ㄹ    ⑤ ㄷ, ㄹ

19. 다음 자료는 서술형 평가 문항 및 답안에 대한 채점 결과이다. 이에 대한 설명으로 옳은 것은? (단, A, B는 각각 조약, 국제 관습법 중 하나임.)

[문항] A와 구별되는 B의 특징을 3가지만 서술하시오. (각 서술별로 채점하며, 옳은 서술 1개당 1점, 총 3점임.)	
[답안] ○ 우리나라에서는 대통령이 체결·비준권을 가진다. ○ 국제 사법 재판소의 재판 준거가 될 수 있다. ○ (가)	
채점 결과	2 점

- ① A는 명시적 입법 절차를 거쳐 성문화된 형식으로만 존재한다.
- ② 국내 문제 불간섭은 A가 아닌 B에 해당한다.
- ③ A와 달리 B는 국가를 초월한 입법 기관에 의해 제정된다.
- ④ B와 달리 A는 원칙적으로 국제 사회에서 포괄적 구속력을 가진다.
- ⑤ (가)에 '우리나라에서는 헌법과 동등한 지위를 가진다.'가 들어갈 수 있다.

20. 다음 자료에 대한 분석으로 옳은 것은? [3점]

갑국의 의회 의원 정수(定數)는 8명으로, 선거구별로 유권자 수가 동일한 8개의 선거구에서 단순 다수제로 의회 의원을 선출하고 있다. 갑국은 '가 지역'과 '나 지역'으로만 이루어져 있으며, 4개 선거구(가1~가4)는 '가 지역'에, 4개 선거구(나1~나4)는 '나 지역'에 있다. 표는 갑국의 최근 의회 의원 선거의 정당별 득표율을 나타낸다.

(단위: %)

선거구	정당	A당	B당	C당	D당
가1		40	20	5	35
가2		40	15	15	30
가3		65	20	10	5
가4		55	25	10	10
나1		15	15	30	40
나2		5	30	25	40
나3		10	15	25	50
나4		30	20	0	50

\* 정당은 A당~D당만 존재하고 무소속 후보자는 없으며, 투표율은 100%이고 무효표는 없음.

갑국은 차기 선거를 앞두고 현재의 의회 의원 정수를 유지하면서 다음과 같은 두 가지 선거 제도 개편안을 검토하고 있다. 선거 제도 개편안 검토 시 최근 의회 의원 선거 결과만을 근거로 판단한다.

<1안>	선거구 가1-가2, 가3-가4, 나1-나2, 나3-나4를 통합하여 선거구를 4개로 축소하고, 각 선거구에서 득표순으로 2명의 의회 의원을 선출한다. 유권자는 지지하는 정당의 후보자에게 1표를 행사한다. 정당이 후보자를 공천할 때 선거구별로 2인이 당선 가능한 경우 2인을, 그렇지 않은 경우 1인을 공천한다.
<2안>	'가 지역'과 '나 지역'을 각각 1개의 선거구로 만들고, 각 선거구에서 4명의 의회 의원을 선출한다. 유권자는 의회 의원 선출을 위해 지지하는 정당에 1표를 행사하며, 각 선거구별 의석을 해당 선거구 내 정당 득표율에 따라 각 정당에 배분한다. 각 선거구의 정당 득표율에 해당 선거구의 의석수를 곱하여 산출된 수의 정수(整數)만큼 각 정당의 의석으로 배분하고, 이후 잔여 의석은 소수점 이하의 수가 큰 순서대로 각 정당에 1석씩 배분한다.

\* 선거 제도 개편 전후 유권자의 지지 정당은 변함이 없으며, <2안>의 경우 유권자는 최근 의회 의원 선거에서 투표한 후보자의 소속 정당에 정당 투표함.

- ① 현행에서 A당과 D당은 모두 과대 대표되고, <2안> 적용 시 B당과 C당은 모두 과대 대표된다.
- ② <2안> 적용 시 A당의 '가 지역' 의석수는 D당의 '나 지역' 의석수보다 많다.
- ③ <2안> 적용 시 D당의 총의석률은 정당 전국 득표율과 일치한다.
- ④ A당은 <1안> 적용 시 얻을 수 있는 최대 의석수와 <2안> 적용 시 얻을 수 있는 총의석수가 동일하다.
- ⑤ B당은 <1안>보다 <2안> 적용이 유리하고, C당은 <1안>, <2안> 모두 현행보다 유리하다.

\* 확인 사항  
 ○ 답안지의 해당란에 필요한 내용을 정확히 기입(표기)했는지 확인 하시오.

제 4 교시

사회탐구 영역 (정치와 법)

성명  수험 번호  -  제 [ ] 선택

1. 정치를 바라보는 갑, 을의 관점에 대한 설명으로 옳은 것은?



○○고등학교 학생회가 학교 축제 운영을 둘러싼 갈등을 해결하는 합리적 방안 모색을 위해 토론회를 개최하는 활동을 정치라고 볼 수 있을까요?

교사

정치라고 볼 수 없습니다. 정치란 국가 수준에서 나타나는 특유의 현상으로 국가의 권력적 행위를 의미하기 때문입니다.



갑

정치라고 볼 수 있습니다. 정치는 모든 사회 집단에서 갈등을 조정하고 해결해 나가는 활동이기 때문입니다.



을

- ① 갑의 관점은 국가의 의사 결정 활동과 국가 이외 사회 집단의 의사 결정 활동을 모두 정치라고 본다.
- ② 을의 관점은 사회 집단 내에서 권력이 형성·분배되는 과정을 정치라고 보지 않는다.
- ③ 갑의 관점과 달리 을의 관점은 국가의 공권력 행사를 통한 사회 질서 유지와 갈등 해결 과정을 정치라고 본다.
- ④ 을의 관점에 비해 갑의 관점은 한정된 자원 배분과 관련된 갈등 해결 과정에 참여하는 정치 주체가 더 다양하다고 본다.
- ⑤ 갑의 관점과 을의 관점 모두 정부가 소상공인 지원을 위해 긴급하게 예산을 편성하여 집행하는 활동을 정치라고 본다.

2. 정치 참여 집단 A~C에 대한 설명으로 옳은 것은? (단, A~C는 각각 정당, 이익 집단, 시민 단체 중 하나임.) [3점]

공익 추구를 목적으로 결성된 A는 시민의 다양한 요구를 수렴하여 정책을 제안함으로써 B의 공약 수립에 영향을 줄 수 있다. B는 공직 선거에서 시민의 선택을 받아 공약을 정책으로 실현하고자 하며, C는 자신의 특수 이익을 추구하는 과정에서 공익과 충돌하는 공약을 B에게 요구하기도 한다.

- ① A는 정권 획득을 위해 정책적 대안을 제시한다.
- ② B는 정치 과정에서 정책 집행의 주체인 국가 기관이다.
- ③ A와 달리 B는 사회적 쟁점에 대한 여론을 형성한다.
- ④ B와 달리 C는 자신의 활동에 대해 정치적 책임을 진다.
- ⑤ A와 C 모두 정부 정책에 대한 감시와 비판의 기능을 수행한다.

3. 법치주의를 바라보는 관점 A, B에 대한 설명으로 옳은 것은?

A는 국가 권력 작용의 근거가 되는 법률이 합법적 절차에 따라 제정되었다면 그 내용과 관계없이 정당하다고 본다. 반면 B는 법률이 절차적 합법성을 갖추어야 할 뿐만 아니라 실질적 정의에도 부합해야 한다고 본다.

- ① A는 합법적 절차를 거쳐 제정된 법률일지라도 시민의 권리를 침해할 수 있다는 점을 간과한다.
- ② B는 법률이 헌법적 가치에 부합하는지 여부를 심사하는 제도를 인정하지 않는다.
- ③ A와 달리 B는 국가 기관의 구성과 운영이 의회가 미리 제정한 법률에 근거해야 한다고 본다.
- ④ B와 달리 A는 국가 권력으로부터 시민의 기본권을 보장하는 것을 목적으로 한다.
- ⑤ A와 B 모두 행정 작용과 달리 입법 작용과 사법 작용은 법률에 근거를 두어야 한다고 본다.

4. 우리나라 헌법의 기본 원리 A, B에 대한 설명으로 가장 적절한 것은? [3점]

우리 헌법은 침략적 전쟁을 부인하며 국제법을 존중한다고 규정하고 있는데 이는 A를 구현하기 위한 것이다. 우리나라가 가입한 '경제적·사회적 및 문화적 권리에 관한 국제 규약'은 당사국으로 하여금 모든 사람이 적당한 생활 수준을 누릴 권리를 인정하도록 하고 있다. 이 협약이 국내법과 같은 효력을 갖는 것은 헌법상 국제법 존중주의에 부합할 뿐만 아니라 국민의 인간다운 생활을 할 권리 보장을 위해 국가의 적극적 역할을 강조하는 B의 실현에 필요한 국내법 체계를 보완하는 데에도 기여한다.

- ① A를 실현하기 위해 법률로써 재외 국민의 선거권을 보장하고 있다.
- ② A에 따르면 대통령이 국회 비준을 거쳐 체결한 조약은 국내법과 같은 효력을 가진다.
- ③ B는 적정한 소득 분배를 목적으로 하는 국가의 경제 규제와 조정을 인정하지 않는다.
- ④ B를 실현하기 위해 사회 보장·사회 복지의 증진에 노력할 의무를 국가에 부여하고 있다.
- ⑤ B와 달리 A는 전통 문화의 계승·발전과 민족 문화의 창달을 위한 국가의 의무를 강조한다.

5. A, B에 대한 옳은 설명만을 <보기>에서 있는 대로 고른 것은?

'긴급성은 법을 모른다.'는 법언처럼, 현재의 위난에 처한 사람의 법익 보호를 위해 타인의 법익을 희생시킬 수밖에 없는 긴급 상황에서 부득이하게 타인에게 손해를 입히는 행위는 A에 해당한다. 한편 '법은 불법에 양보할 필요가 없다.'는 법언에 따라 현재의 부당한 침해 행위로부터 법익을 보호하기 위해 필요한 행위는 법질서를 수호하기 위한 것으로서 B에 해당한다. A와 B 모두 법질서 전체의 관점에서 정당화되어 처벌되지 않는 사유이지만, B는 위법한 침해를 전제로 하고 있다는 점에서 위난이 위법할 것을 요구하지 않는 A와 구별된다.

<보 기>

- ㄱ. 'A로 인정되는 타인의 행위'로부터 자신을 보호하기 위한 행위는 구성 요건에 해당하더라도 B가 인정되지 않는다.
- ㄴ. B와 달리 A는 타인의 법익을 보호하기 위한 경우에도 인정된다.
- ㄷ. A와 B 모두 형식적 의미의 형법에 규정되어 있다.
- ㄹ. A 또는 B의 인정 범위를 확대하는 유추 해석으로 피고인에 대한 처벌 범위를 축소하는 것은 죄형 법정주의에 위배되어 허용되지 않는다.

- ① ㄱ, ㄴ                      ② ㄱ, ㄷ                      ③ ㄴ, ㄹ
- ④ ㄱ, ㄷ, ㄹ                ⑤ ㄴ, ㄷ, ㄹ



## 2 (정치와 법)

## 사회탐구 영역

6. 다음 자료에 대한 설명으로 옳은 것은? (단, A, B는 각각 지방 의회, 지방 자치 단체의 장 중 하나임.)

교사: 우리나라 지방 자치 단체의 기관 A, B에 대해 설명해 보세요.  
 갑: A는 지방 자치 단체의 사무에 관한 감사·조사권이 있습니다.  
 을: B는 지역구 의원과 비례 대표 의원으로 구성됩니다.  
 병: A와 달리 B는 지방 자치 단체의 집행 기관으로서 법령의 범위 내에서 조례를 집행할 수 있습니다.  
 교사: 두 사람의 설명은 옳고, 나머지 한 사람의 설명은 옳지 않습니다.

- ① A는 지방 자치 단체를 대표하고 지방 행정 사무를 총괄한다.
- ② B는 지방 자치 단체의 예산을 심의하고 확정한다.
- ③ B는 지방 자치 단체의 사무에 관한 규칙을 제정할 수 있다.
- ④ B와 달리 A를 견제할 수 있는 수단으로 주민 소환 제도가 있다.
- ⑤ A와 B 모두 중앙 정부와 수평적 권력 분립 관계에 있다.

7. 다음 사례에 대한 법적 판단으로 옳은 것은? [3점]

갑 소유 건물을 임차하여 식당을 운영하는 을이 에어컨 실외기 교체를 위해, 갑은 설치 업체 사장 병과 공사 계약을 체결하였다. 병의 직원 정이 공사 중 실외기를 떨어뜨려 갑의 자동차를 파손하였다. 한편 을의 종업원 A는 B가 주문한 음식과 상한 유제품을 포장하여 배달하였고, 이를 먹고 배탈이 난 B가 을의 식당에서 항의하던 중 낡은 천장이 무너지며 을과 B가 다쳤다. 주문한 식사의 지연으로 화가 난 손님 C(17세)는 시비 끝에 A를 폭행하였고, 다친 A가 정신적 충격을 입었다. C의 법정 대리인은 D이다.

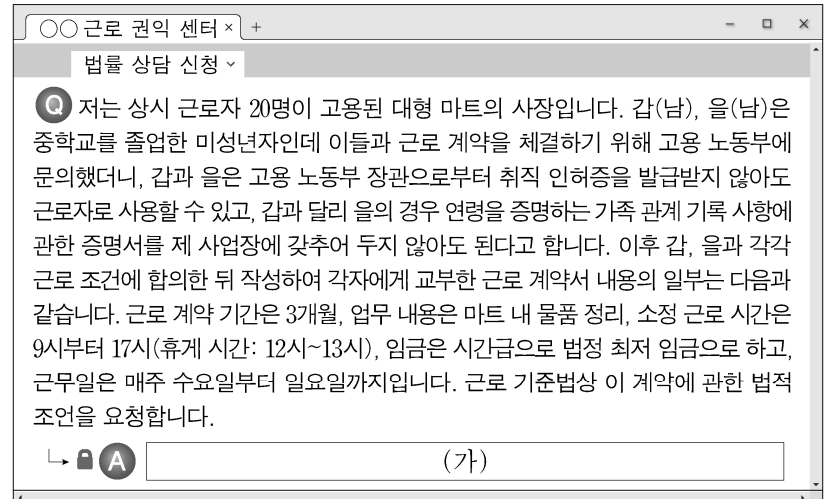
- ① 을은 B에게 채무 불이행 책임을 지고, 병은 갑과 을에게 채무 불이행 책임을 진다.
- ② 을이 공작물 점유자로서 특수 불법 행위 책임을 지지 않으면 갑은 B뿐만 아니라 을에게도 공작물 소유자로서 특수 불법 행위 책임을 진다.
- ③ 병이 정에 대한 선임 및 감독에 상당한 주의를 다하였더라도 병은 갑에게 사용자로서 특수 불법 행위 책임을 진다.
- ④ C가 A에 대하여 재산상의 손해를 배상하였다면 A는 C에게 정신적 손해에 대한 위자료는 청구할 수 없다.
- ⑤ C에게 책임 능력이 인정되더라도 D에게 법정 감독 의무 위반이 있으면 D는 A에게 특수 불법 행위 책임을 진다.

8. 다음 자료에 대한 법적 판단으로 옳은 것은?

○○죄로 기소된 갑은 기한을 넘겨 국민 참여 재판 의사 확인서를 제출하였으나, △△ 지방 법원 합의부는 갑의 사건을 국민 참여 재판으로 진행하기로 결정하였고 이에 불복한 검사가 상소하였다. A는 이유가 없다며 이를 기각하였고 검사가 상소하였으나 B는 이를 기각하였다. 한편 을은 □□죄로 징역 2년의 형을 선고받고 항소하였으나 기각되자 상고하였다. 을은 ◇◇법 조항이 자신의 사건을 합의부 심판 대상에서 제외하여 국민 참여 재판을 받지 못하였다고 상고심 계속 중 해당 조항의 위헌 여부를 결정하는 심판을 제청해 줄 것을 B에 신청하였다. B가 이를 기각하자 을은 C에 헌법 소원 심판을 청구하였고, C는 해당 조항이 헌법에 위반되지 않는다고 판단하였다.

- ① A는 검사의 항소를 기각하였고 이에 불복한 검사는 상고하였다.
- ② B는 갑과 을의 사건 모두 국민 참여 재판 대상이라고 판단하였다.
- ③ A와 달리 B는 대통령 선거의 효력을 다투는 선거 소송을 관할한다.
- ④ 명령이나 규칙이 법률에 위반되는지 여부가 재판의 전제가 된 경우 A는 직권으로 이에 대한 심사를 C에 신청할 수 있다.
- ⑤ 을은 C에 위헌 심사형 헌법 소원 심판을 청구하기 전에 B에 위헌 법률 심판을 제청하였다.

9. (가)에 들어갈 수 있는 내용으로 옳은 것은?



- ① 갑과 주휴일에 대해 합의했다더라도 주휴일을 서면으로 명시해 주어야 합니다.
- ② 갑이 일요일에 근로 계약 내용대로 근무할 경우 갑에게 통상 임금의 50%를 가산하여 지급해야 합니다.
- ③ 을의 근로 시간을 매 근무일 2시간씩 연장하는 것은 을과의 합의가 있어도 근로 기준법에 위배됩니다.
- ④ 갑과 을에게 적용되는 법정 근로 시간은 동일합니다.
- ⑤ 갑과 을 각각에 대한 친권자 또는 후견인의 동의서를 사업장에 갖추어 두어야 합니다.

10. 다음 자료에 대한 분석 및 추론으로 옳은 것은? [3점]

갑국의 시기별 정부 형태는 전형적인 대통령제 또는 전형적인 의원 내각제 중 어느 하나에 해당한다. t~t+3시기 중 정부 형태는 1회 변경되었고, t시기의 정부 형태는 직전 시기의 정부 형태와 동일하며, 각 시기의 정부 형태는 해당 시기 내에서 동일하다. 행정부 수반의 소속 정당은 t+1시기를 제외한 나머지 시기에서 모두 원내 제1당이다. 갑국 의회의 t시기 정당별 의석수는 A 당 160석, B 당 120석, C 당 20석이며, 표는 시기별 각 정당의 직전 시기 대비 의석수 증감률을 나타낸다.

구분	A 당	B 당	C 당
t+1시기	-40%	+50%	+20%
t+2시기	+25%	-20%	+50%
t+3시기	-15%	+25%	-50%

\*t~t+3시기에 총의석수는 300석으로 동일하고, 각 시기 내의 정당별 의회 의석수, 행정부 수반의 당적 변화는 없음.

- ① t+1시기에 과반 의석을 차지한 다수당의 내각 불신임 결의로 국정 불안이 초래될 수 있다.
- ② t시기에 내각의 존립이 의회의 신임에 의존한다면, t+2시기 의회는 여대야소 상황이므로 행정부 수반이 제출한 법률안이 의회에서 통과될 가능성이 높다.
- ③ t+3시기에 국가 원수와 행정부 수반이 동일인이라면, t시기에 의회 의원이 각료를 겸직할 수 없다.
- ④ t+2시기에 내각이 의회 해산권을 가진다면, t+3시기 행정부 수반과 달리 t시기 행정부 수반은 법률안 거부권을 가진다.
- ⑤ t+1시기와 t+3시기에 정부 형태가 서로 같다면, t+2시기와 달리 t시기에 행정부 수반의 임기가 엄격하게 보장된다.



11. 다음 사례에 대한 법적 판단으로 옳은 것은? [3점]

갑(17세)은 법정 대리인 을의 동의 없이 전자 대리점 사장 병(35세)과 ㉠ 고가의 노트북에 대한 구매 계약을 체결하였다. 병은 다음날 갑이 미성년자임을 알게 되었다. 노트북 구매로 인해 사용하던 태블릿 PC가 필요 없게 된 갑은 정(22세)에게 이를 판매하였고, 이 과정에서 정에게 을 명의의 동의서를 제시하였으며, 정은 다음날 동의서가 위조된 것을 알게 되었다.

- ① 갑과 정 의 계약 내용에 따른 권리와 의무는 을에게 있다.
- ② 병의 사기로 ㉠이 체결된 경우라면, 을은 사기를 이유로 ㉠을 취소할 수 없다.
- ③ 병과 달리 정은 갑에게 계약 체결의 의사 표시를 철회할 수 없다.
- ④ 병이 을에게 합의를 촉구하여야 을은 갑과 병의 계약을 승인할 수 있다.
- ⑤ 갑과 달리 을은 갑의 행위 능력 제한을 이유로 갑과 정 의 계약을 취소할 수 있다.

12. 기본권 유형 A, B에 대한 설명으로 옳은 것은?

사적 영역에 대한 국가의 침해를 배제함으로써 보장되는 A와 달리 B는 국가가 인간 존엄의 실현을 위해 필요한 사회적 조건을 형성함으로써 보장된다. 자본주의의 폐단을 시정하기 위해 생성·발전되어 온 B가 확대될수록 A가 축소되는 경향이 있다고 볼 여지도 있지만, 궁극적으로 A와 B는 인간의 존엄과 자유로운 인격 발현이라는 헌법 이념 아래에서 조화된다.

- ① A는 침해된 기본권을 구제하기 위한 수단적 권리이다.
- ② B는 실질적 평등의 실현을 위해 등장한 적극적 권리이다.
- ③ B에는 '외부로부터의 강제 없이 개인의 양심을 형성할 권리'가 포함된다.
- ④ A와 달리 B는 국가 기관의 형성과 국가의 정치적인 의사 결정 과정에 참여하는 권리이다.
- ⑤ A와 B 모두 과잉 금지 원칙을 준수하더라도 법률로써 제한할 수 없는 권리이다.

13. (가), (나)에 대한 설명으로 옳은 것은?

형사 책임은 (가)의 성립 요건 중 하나인 구성 요건 해당성 판단에서 행위자에게 구성 요건 실현 행위에 대한 인식과 의사가 있을 것을 원칙으로 한다는 점에서 민사 책임과 구별될 수 있다. 갑이 지나가던 을과 부딪쳐 을의 휴대 전화를 파손한 상황을 가정해 보자. 갑이 일반인이 기울여야 할 주의(注意)를 게을리하였더라도 을의 휴대 전화를 파손하는 것에 대한 인식과 의사가 없었다면 갑의 행위는 인식과 의사를 구성 요건 요소로 하는 재물 손괴죄에 해당하지 않는다. 그러나 갑의 파손 행위로 인해 을에게 손해가 발생하는 등 일정한 요건을 갖추면 민법상 (나)이 성립되어 갑은 을에게 손해 배상 책임을 질 수 있다.

- ① (가)의 성립에 따른 형사 책임은 피해자에게 생긴 손해를 보전하는 것을 고유의 목적으로 한다.
- ② (나)에 따른 책임의 성립 여부는 고의에 의한 경우이든 과실에 의한 경우이든 차이가 없다.
- ③ (나)는 채무자의 책임 있는 사유로 인해 계약에 따른 의무를 이행하지 않은 상태를 의미한다.
- ④ (나)와 달리 (가)는 가해 행위가 법이 보호해야 할 가치 있는 이익을 위법하게 침해하는 행위로 인정되어야 성립된다.
- ⑤ 갑의 행위가 (가)로 성립한다는 판결이 확정되어야 을은 배상 명령 제도를 통해 (나)에 따른 손해 배상을 신청할 수 있다.

14. 다음 사례에 대한 옳은 법적 판단만을 <보기>에서 있는 대로 고른 것은? [3점]

갑(42세)은 동창생 을(43세)에 대한 사기 혐의로 불구속 상태에서 공소 제기되었다. 공판 중 구속되어 재판을 받던 갑은 징역 10월에 집행 유예 2년을 선고받아 해당 판결이 확정되었다. 이후 을은 온라인 단체 채팅방에서 '갑이 사기죄로 처벌을 받았으니 조심하라.'는 글을 게시하였다. 이를 본 갑이 고소하여 을에 대한 수사가 개시되었다. 을은 '타인을 비방할 목적으로 정보 통신망을 통하여 공연히 사실을 드러내어 타인의 명예를 훼손하는 자'를 처벌하는 ○○법 조항 위반 혐의로 공소 제기되었다. 을은 법정에서 동창생들의 피해 예방을 위해 한 일이라고 진술하였고, 법원은 을의 주요한 동기와 목적이 공공의 이익을 위한 것으로서 을에게 갑을 비방할 목적이 없었다고 판단하였다.

<보 기>

- ㉠. 공판 단계에서 구속된 갑이 변호인을 선임할 수 없어 변호인이 없는 경우, 법원은 변호인을 선정해 주어야 한다.
- ㉡. 갑은 집행 유예 선고의 실효 또는 취소됨이 없이 2년을 경과하면 형 선고의 사실 자체가 없어지는 판결을 선고받았다.
- ㉢. 갑은 자신의 명예를 훼손한 을의 행위에 대하여 처벌을 구하는 의사 표시를 수사 기관에 하였다.
- ㉣. 법원은 을이 글을 게시한 행위가 ○○법 조항의 범죄 구성 요건에 해당하지만 공공의 이익을 위한 것으로서 사회 상규에 위배되지 않는다고 판단하였다.

- ① ㉠, ㉡                      ② ㉠, ㉢                      ③ ㉡, ㉣
- ④ ㉠, ㉢, ㉣                ⑤ ㉡, ㉢, ㉣

15. 다음 자료에 대한 분석으로 옳은 것은? [3점]

[평가 문항] <사례>에 대한 법적 판단이 옳으면 '예', 틀리면 '아니오'를 쓰시오. (답란별로 채점하며 옳으면 1점, 틀리면 0점, 총점은 3점임.)

<사례> 갑(27세)과 을(28세)은 법률상 혼인하였고 적법한 절차를 거쳐 A를 친양자가 아닌 양자로 입양하였다. 갑과 을은 협의상 이혼하였고, A는 갑이 양육하기로 하였다. 병(27세)은 정(25세)과의 혼인 중 B를 출산하였고 정과 재판상 이혼한 뒤 B를 홀로 양육하였다. 이후 갑은 병과 혼인하였고 적법한 절차를 거쳐 B를 친양자로 입양하였다. 이후 갑과 병 사이에 C가 태어났고 갑과 병은 미성년자인 A, B, C와 함께 살고 있다.

<사례>에 대한 법적 판단		답란
(가)		아니오
B는 입양으로 인해 정과의 친자 관계가 종료된다.		(나)
갑과 을이 유언 없이 동시에 사망한다면 A는 갑의 상속인이 되고 을의 상속인이 되지 않는다.		아니오
채점 결과(점수)	(다)	

- ① (가)에 '갑과 을의 이혼은 가정 법원의 이혼 의사 확인을 받고, 이후에 이혼 숙려 기간을 거쳐야 성립한다.'가 들어가고 (나)에 '예'가 들어간다면, (다)에 '2점'이 들어간다.
- ② (가)에 '병과 정 의 이혼은 이혼 신고를 해야 효력이 발생한다.'가 들어가고 (나)에 '아니오'가 들어간다면, (다)에 '1점'이 들어간다.
- ③ (가)에 '병이 유언 없이 사망한다면 A, B, C는 모두 병의 상속인이 된다.'가 들어가고 (나)에 '예'가 들어간다면, (다)에 '3점'이 들어간다.
- ④ (다)에 '1점'이 들어간다면, (나)에 '예'가 들어갈 수 있다.
- ⑤ (다)에 '3점'이 들어가고 (가)에 '갑과 병의 혼인 중 갑이 일상 가사에 관해 제3자와 법률 행위를 한 때, 병은 이로 인한 채무에 대해 연대 책임이 있다.'가 들어간다면, (나)에는 '예'가 들어간다.

# 4 (정치와 법)

# 사회탐구 영역

16. 국제 관계를 바라보는 갑, 을의 관점에 대한 설명으로 옳은 것은?

국제 관계에서 국가는 자국의 이익을 극대화하려 하므로 국가 간 갈등의 해소와 이해의 조화가 매우 어렵습니다. 따라서 국제기구를 통한 제재의 실효성이 낮고 국제적 협력도 기대하기 힘듭니다.



갑

국제 관계에서는 국가 간 상충되는 이해의 조화가 가능하므로 다양한 행위 주체들이 보편적 가치에 기반하여 공동의 규칙을 수립하고 준수함으로써 국제 문제를 해결할 수 있습니다.



을

- ① 갑의 관점은 국가 간의 관계를 결정하는 중요한 요인으로 힘의 배분 양상을 강조한다.
- ② 갑의 관점은 모든 국가들의 상호 불가침 약속과 그 약속 위반 국가에 대한 국제 사회의 집단적 대응을 강조한다.
- ③ 을의 관점은 국제 문제의 해결 과정에서 초국가적 행위 주체의 역할을 간과한다.
- ④ 갑의 관점과 달리 을의 관점은 국가가 타국과의 경쟁 속에서 자국의 이익을 배타적으로 추구한다고 본다.
- ⑤ 을의 관점과 달리 갑의 관점은 국가들이 국제 규범을 통해 국제 사회의 무정부 상태를 극복할 수 있다고 본다.

17. 국제 연합의 주요 기관 A~C에 대한 설명으로 옳은 것은? [3점]

국제 연합 헌장에 따르면 A가 국제 사회의 분쟁 또는 사태와 관련하여 헌장에 부여된 임무를 수행하는 동안 B는 A의 요청이 없이는 어떤 권고도 하지 않아야 한다. 그러나 A가 논의를 진행 중인 사안에 대해서 모든 회원국으로 구성된 B가 독자적으로 권고를 한 사례가 있다. 이에 대해 사법 기관 C는 A가 주로 국제 평화와 안전에 관한 문제에 집중하는 반면 B는 인도주의적·사회적 측면까지 포함하는 폭넓은 고려를 한다는 점을 지적하며, B의 권고는 헌장과 모순되지 않는다고 판단했다. 한편 C는 15인의 재판관으로 구성되며 이들은 A 및 B에서 선출된다.

- ① B에서 절차 사항을 제외한 모든 사항은 상임 이사국의 동의 투표를 포함한 9개 이사국 이상의 찬성 투표로 결정한다.
- ② 국제 사회의 일반적 관행이 법적 확신을 얻은 국제 규범이라도 성문화가 되어야만 C의 재판 규범이 될 수 있다.
- ③ 국제 사회에서 발생한 법적 분쟁에 이해관계가 있더라도 개인은 C의 재판에서 소송의 당사자가 될 수 없다.
- ④ A와 달리 B는 국제 평화와 안보에 관한 일차적 책임을 지며 군사적 제재 조치를 결정할 수 있는 권한을 가진다.
- ⑤ B와 달리 A에서는 주권 평등의 원칙에 따라 표결 시 각 국가가 1표씩 투표권을 행사한다.

18. 민법의 기본 원칙 A, B에 대한 설명으로 옳은 것은?

개인의 자기 결정권을 근거로 하는 A는 거래상 법률관계의 형성을 국가의 개입 없이 당사자 간 자율적인 의사에 맡겨야 한다고 본다. 하지만 거래 관계에서 상대적으로 불평등한 지위에 놓인 개인을 보호해야 할 필요성이 제기됨에 따라 등장한 B는 국가의 적절한 개입을 통해 거래상 불균형을 시정해야 한다고 본다.

- ① A에 따르면 개인 간 자유로운 의사 표시의 합치에 의한 계약은 당사자를 구속한다.
- ② A는 국가가 사용자에게 근로자의 적정한 임금을 보장하도록 강제하는 근거가 된다.
- ③ B에 따르면 사회 질서에 반하는 내용의 법률 행위도 유효하다.
- ④ B는 경제적 약자에 대한 경제적 강자의 부당한 대우를 정당화 한다는 비판을 받는다.
- ⑤ A와 달리 B는 국가나 사회보다 개인의 자유를 우선시하는 사상에 기초한다.

19. 우리나라 헌법 기관 A~E에 대한 설명으로 옳은 것은? [3점]

우리 헌법에는 국가 기관 간 견제와 균형의 원리가 나타나고 있다. A가 B의 장(長), C의 장(長), D, 감사원장, 대법관을 임명할 때 E의 동의를 얻도록 하고, 국무 위원 임명 시 D의 제청을 요건으로 하며, A뿐 아니라 B의 장(長)과 E도 C의 구성에 관한 권한을 나누어 갖도록 규정한 것을 그 예로 들 수 있다.

- ① A에 대한 E의 견제 수단으로 '법률안 거부권'을 들 수 있다.
- ② B의 구성원은 D의 제청을 받아 A가 임명한다.
- ③ C에 대한 B의 견제 수단으로 '권한 쟁의 심판권'을 들 수 있다.
- ④ D에 대한 C의 견제 수단으로 '탄핵 심판권'을 들 수 있다.
- ⑤ A와 E 모두 국가 안위에 관한 중요 정책을 국민 투표에 부칠 수 있다.

20. 다음 자료에 대한 분석 및 추론으로 옳은 것은? [3점]

갑국 의회는 단순 다수제로 선출되는 지역구 의원 10인, 비례 대표 의원 10인으로 구성되며, 유권자는 지역구 의원 선출을 위해 후보자에 1표, 비례 대표 의원 선출을 위해 정당에 1표를 행사한다. 비례 대표 의석은 정당 투표 득표율에 비례 대표 총의석수를 곱하여 산출된 수의 정수(整數)만큼 각 정당의 의석으로 배분하고, 이후 잔여 의석은 소수점 이하의 수가 큰 순서대로 각 정당에 1석씩 배분한다. 표는 최근 갑국 의회 의원 선거 결과를 나타낸다.

(단위: 표, %)

구분	A당	B당	C당	D당	E당
선거구 1	120	150	25	45	65
선거구 2	100	125	45	65	40
선거구 3	85	75	50	20	15
선거구 4	65	45	70	35	25
선거구 5	150	80	45	65	20
선거구 6	65	95	30	25	45
선거구 7	100	80	65	30	20
선거구 8	60	75	35	15	45
선거구 9	110	65	30	45	35
선거구 10	90	105	25	75	10
정당 투표 득표율	31.6	22	15	12.4	19

\* 정당은 A~E당만 존재하고 무소속 후보자는 없으며, 투표율은 100%이고 무효표는 없음.

갑국은 다음과 같이 선거 제도 개편안을 검토 중이며 개편안 적용 시 C당과 D당은 합당하여 F당으로 창당한 후 선거에 참가한다. 개편안은 최근 의회 의원 선거 결과만을 근거로 판단하며, 지역구 의원 선거에서 C당, D당의 후보자에게 투표했던 유권자는 모두 F당의 후보자에게 투표하고 비례 대표 의원 선거에서 C당, D당에 투표했던 유권자는 모두 F당에 투표한다고 가정한다.

<1안>	현재의 총의석수를 기준으로 현행 비례 대표 의석 배분 방식에 따라 정당별 의석수를 먼저 할당한다. 각 정당별로 할당된 의석수에서 단순 다수제로 선출된 지역구 의원 의석수를 뺀 나머지 의석수를 비례 대표 의석으로 배정한다. 만일 어떤 정당의 지역구 의원 의석수가 할당된 의석수보다 더 많다면 초과 의석을 인정되 비례 대표 의석은 배분하지 않는다. 초과 의석으로 인해 갑국의 의회 의원 정수(定數)는 늘어날 수 있다.
<2안>	현재의 총의석수를 유지하면서, 선거구 1~선거구 10에서 득표율순으로 2인의 지역구 의원을 선출한다. 각 정당은 선거구별 1명의 후보자를 공천한다.

- ① 현행에서 A 당과 B 당의 의석수 차이는 1석이다.
- ② <1안> 적용 시 B 당이 얻는 초과 의석수는 2석이다.
- ③ <1안> 적용 시 F 당은 현행에서 C 당과 D 당이 얻은 의석수의 합보다 1석을 더 얻게 된다.
- ④ <1안> 적용 시와 <2안> 적용 시 F 당의 총의석수는 동일하다.
- ⑤ <2안> 적용 시 A 당과 E 당의 의석수 차이는 <1안> 적용 시 A 당과 E 당의 의석수 차이의 4배이다.

\* 확인 사항

○ 답안지의 해당란에 필요한 내용을 정확히 기입(표기)했는지 확인 하시오.